

地理歴史 { 世界史A 世界史B 日本史A } (100点) { 日本史B 地理A 地理B } (60分)

この問題冊子には、「世界史A」「世界史B」「日本史A」「日本史B」「地理A」「地理B」の6科目を掲載しています。解答する科目を間違えないよう選択しなさい。

注意事項

- 1 試験開始の合図があるまで、この問題冊子の中を見てはいけません。
- 2 この注意事項は、問題冊子の裏表紙にも続きます。問題冊子を裏返して必ず読みなさい。
- 3 出題科目、ページ及び選択方法は、下表のとおりです。

出題科目	ページ	選 択 方 法
世界史A	4～23	左の6科目のうちから1科目を選択し、解答しなさい。
世界史B	24～49	
日本史A	50～77	
日本史B	78～103	
地理A	104～139	
地理B	140～174	

- 4 試験中に問題冊子の印刷不鮮明、ページの落丁・乱丁及び解答用紙の汚れ等に気付いた場合は、手を挙げて監督者に知らせなさい。
- 5 解答用紙には解答欄以外に次の記入欄があるので、監督者の指示に従って、それぞれ正しく記入し、マークしなさい。

① 受験番号欄

受験番号(数字及び英字)を記入し、さらにその下のマーク欄にマークしなさい。
 正しくマークされていない場合は、採点できないことがあります。

② 氏名欄、試験場コード欄

氏名・フリガナ及び試験場コード(数字)を記入しなさい。

裏表紙に続く。

③ 解答科目欄

解答する科目を一つ選び、科目の下の○にマークしなさい。マークされていない場合又は複数の科目にマークされている場合は、0点となります。

- 6 解答は、解答用紙の解答欄にマークしなさい。例えば、

10

と表示のある問いに対して③と解答する場合は、次の(例)のように解答番号10の解答欄の③にマークしなさい。

(例)

解答番号	解 答 欄
1 0	① ② ③ ④ ⑤ ⑥ ⑦ ⑧ ⑨ ⑩

- 7 問題冊子の余白等は適宜利用してよいが、どのページも切り離してはいけません。
8 試験終了後、問題冊子は持ち帰りなさい。

日本史 A

(解答番号 ~)

第1問 次の文章を読み、下の問い(問1～3)に答えよ。(配点 6)

花子さんは、日本史Aの主題学習の授業で、同じ地域について明治時代の地形図(図1)と現代の地形図(図2)を見比べて発表を行った。次にあげたのは、花子さんが発表用に準備したメモに、先生からのコメントを書き込んだものである。

- ・ 1の道は江戸時代の街道で、地図左下に見える町並みは宿場として栄えた。現在では新幹線や国道のバイパスがある。昔から①陸上交通の要地だったことがわかる。
- ・ 明治の地図で2の部分にある横長の丸は、郡役所の記号である。この場所には、江戸時代に幕府の代官所があった。
- ・ 郡役所の建物は今も残っていて、国指定の文化財になっている。

先生：この宿場の名は桑折と書いて「こおり」と読むし、近くには などの地名もあって、古代の地方行政の役所がこの辺りにあった、と考える人もいる。古代から近代まで行政の中心地だったこの地域の役割を、時代を通して学習すると面白いかもしれない。

- ・ 3の部分は現在は果樹園だが、明治の地図だと桑畑が広がっている。
- ・ 祖父の話では、祖父の若いころまでは のために桑畑が重要だったそうだ。

先生：この地域は、 ・製糸業などで生糸生産に大きくかかわってきた歴史がある。②日本の生糸の歴史と、この地域への影響のあり方を詳しく調べてみると良い。

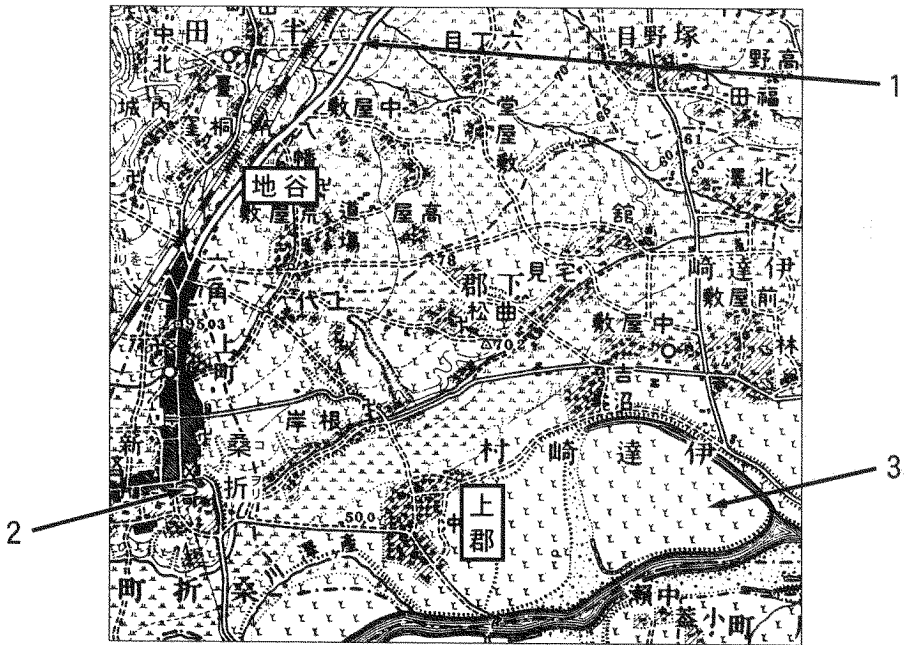


図1 明治時代の地形図 1908年測量(一部改変を加えた)
(注) 地名の横書きは右から左へ読む。

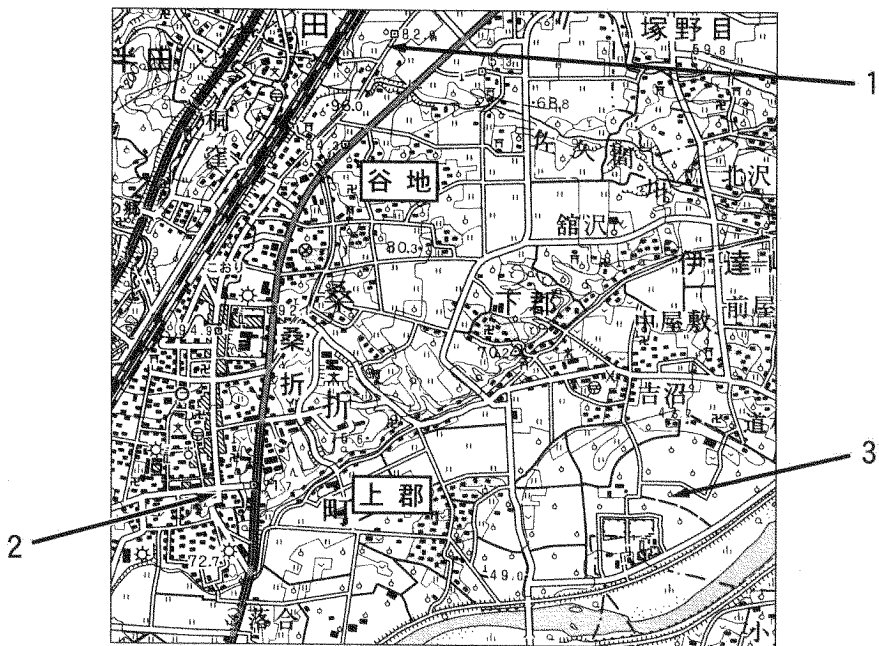


図2 現代の地形図 2002年修正(一部改変を加えた)

日本史 A

問 1 空欄 に入る語句の組合せとして正しいものを、次の①～④のうちから一つ選べ。

- ① ア 谷地 イ 紡績業 ② ア 谷地 イ 養蚕業
③ ア 上郡 イ 紡績業 ④ ア 上郡 イ 養蚕業

問 2 下線部⑤に関連して、陸上交通の歴史に関して述べた次の文Ⅰ～Ⅲについて、古いものから年代順に正しく配列したものを、下の①～④のうちから一つ選べ。

- Ⅰ 幕府が、五街道などの街道を整備した。
Ⅱ 律令国家によって、駅が整備された。
Ⅲ 民営鉄道が、各地に敷設された。

- ① Ⅰ — Ⅱ — Ⅲ ② Ⅰ — Ⅲ — Ⅱ
③ Ⅱ — Ⅰ — Ⅲ ④ Ⅱ — Ⅲ — Ⅰ

問 3 下線部⑥に関して述べた次の文 X・Y について、その正誤の組合せとして正しいものを、下の①～④のうちから一つ選べ。

- X 幕末の開港後、生糸などの五品目は横浜への直送が禁じられ、江戸の特権商人を通じた貿易統制がはかられた。
Y 明治時代に入ると、新たに器械製糸が導入され、従来の座繰製糸は明治前期に姿を消した。

- ① X 正 Y 正 ② X 正 Y 誤
③ X 誤 Y 正 ④ X 誤 Y 誤

(下書き用紙)

日本史Aの試験問題は次に続く。

日本史A

第2問 江戸時代後期から明治維新にかけての時期に関する次の文章A～Cを読み、下の問い(問1～8)に答えよ。(史料は、一部省略したり、書き改めたりしたところもある。)(配点 23)

A ドイツ人医師 は、1823年にオランダ商館の医師として来日した。彼は、長崎郊外に を開き、㉔多くの人材がここで西欧の医学や博物学を学んだ。

1828年に帰国しようとした の荷物の中に、持ち出しを禁じられた日本地図などが含まれていたため、彼は国外追放となり、提供した天文方高橋景保は死罪となった。

1859年、 はオランダ貿易会社の顧問として再び来日した。㉕日本の対外政策はすでに大きく変化しており、ヨーロッパにおける日本研究の第一人者となっていた彼は、その後、3年近くを日本で過ごした。

問1 空欄 に入る語句の組合せとして正しいものを、次の①～④のうちから一つ選べ。

- ① ア ベルツ イ 懐徳堂 ② ア ベルツ イ 鳴滝塾
③ ア シーボルト イ 懐徳堂 ④ ア シーボルト イ 鳴滝塾

問2 下線部㉔に関連して、当時の学問の状況について述べた文として正しいものを、次の①～④のうちから一つ選べ。

- ① 高野長英ら蘭学者が、蛮社の獄で弾圧された。
② 本居宣長は、外国を研究する学問として国学を大成した。
③ 大槻玄沢は、江戸に国学塾を設立して多くの弟子を育成した。
④ 幕府は蛮書和解御用を設け、仏教の経典を研究させた。

問 3 下線部⑥に関して述べた次の文Ⅰ～Ⅲについて、古いものから年代順に正しく配列したものを、下の①～④のうちから一つ選べ。 6

- Ⅰ アヘン戦争の結果を知り、漂着した外国船への物資補給を認めた。
- Ⅱ 下田と箱館を開港し、漂流船の保護などを取り決めた。
- Ⅲ 日本人漂流民をのせたアメリカ商船モリソン号を砲撃した。

① Ⅰ — Ⅲ — Ⅱ

② Ⅱ — Ⅰ — Ⅲ

③ Ⅲ — Ⅰ — Ⅱ

④ Ⅲ — Ⅱ — Ⅰ

日本史A

B 次の史料(1)～(3)は、上海で発行された英字新聞より、1868年から1871年にかけての日本関係記事(訳文)を抜粋し、年月日順に並べたものである。

- (1) 前大君(注)は薩摩、長州と覇権を争うため、大坂に兵力を集中していた。
② 実際は3日にわたった1回の戦闘で彼の軍隊は完全に敗走し、彼は江戸へ逃げ込んだ。・・・今回のできごとによって、大君の権力は倒れた。
- (2) ① 国は行政上3つの区分に分けられた。江戸、大坂、京都の三大都市は特別の地位と特別の行政府を持つ。・・・次に「県」が来る。これは中央政府から直接任命された役人が行政を司る地域だ。最後は「藩」で、これは旧諸侯またはその親族が治める地域だ。
- (3) ③ 大名の封建的権力は廃止され、天皇を中心とする文官と武官による統治制度がそれにとって代わったのだ。・・・政治制度の完全な変革はさらに大きなものだ。そして大名の封建権力の突然の崩壊はこの上なく完全な変革だった。

(『外国新聞に見る日本』)

(注) 大君：将軍のこと

問 4 下線部②・①の出来事や体制を指す語句の組合せとして正しいものを、次の

①～④のうちから一つ選べ。

- | | |
|--------------|----------|
| ① ② 五稜郭の戦い | ③ 府藩県三治制 |
| ② ③ 五稜郭の戦い | ④ 幕藩体制 |
| ③ ④ 鳥羽・伏見の戦い | ① 府藩県三治制 |
| ④ ① 鳥羽・伏見の戦い | ② 幕藩体制 |

問 5 下線部㉑に関連して述べた次の文 X・Y について、その正誤の組合せとして正しいものを、下の①～④のうちから一つ選べ。 8

X 大坂(大阪)の経済は、幕末に開港した堺の貿易が支えた。

Y 「県」は、江戸幕府の直轄地であった場所などに置かれた。

- | | |
|-----------|-----------|
| ① X 正 Y 正 | ② X 正 Y 誤 |
| ③ X 誤 Y 正 | ④ X 誤 Y 誤 |

問 6 下線部㉒に関連して、藩を廃止したこの出来事について説明した文として誤っているものを、次の①～④のうちから一つ選べ。 9

- ① 旧大名は、東京への移住を命じられた。
- ② 旧大名は、新たに知藩事に任命された。
- ③ 藩に代わって県が置かれ、地方官として県令などが任命された。
- ④ 薩長土の 3 藩が差し出した親兵の力を背景に断行された。

日本史A

- C 幕末期には、社会情勢を風刺するさまざまな狂歌が出回った。1860年の『道化三十六歌仙』では、百人一首の和歌をもじり、「①あきれたの 借りほどつらき物はなし わが着ものまで ついに売りつつ」と詠われた。また、この年に暗殺された②井伊直弼も、「井伊花の 咲く桜田と思いに 上巳(注)の雪に しばむはかなさ」と皮肉られたのである。

(注) 上巳：桃の節句。直弼が暗殺された旧暦3月3日には遅い雪が降った。

- 問7 下線部①に関連して、幕末期の経済状況について述べた文として正しいものを、次の①～④のうちから一つ選べ。 10

- ① 原料や道具を問屋商人が貸与し、加工した製品を受け取るマニユファクチュアが発展した。
- ② 開港後の物価高騰は激しく、一揆や打ちこわしの原因ともなった。
- ③ 金貨の海外流出を防ぐため、幕府は金貨を改鑄して金の含有率を上げた。
- ④ 開港後、外国人商人は国内を自由に旅行し貿易を行った。

- 問8 下線部②の人物について説明した文として誤っているものを、次の①～④のうちから一つ選べ。 11

- ① 越前(福井)藩主であった。
- ② 日米修好通商条約の調印を決した。
- ③ 水戸浪士らに襲撃されて殺害された。
- ④ 徳川慶福を14代将軍に擁立した。

(下書き用紙)

日本史Aの試験問題は次に続く。

日本史A

第3問 近現代の政治・経済・社会に関する次の文章A～Cを読み、下の問い(問1～8)に答えよ。(配点 22)

A 20世紀に入ると、およそ10年の間、桂太郎と とが交互に首相になった。桂は官僚や貴族院勢力を支持基盤とし、 は伊藤博文の次の立憲政友会総裁であった。1912年に桂が三たび内閣を組織すると、政党政治家や言論人たちが中心になった「憲政擁護」を唱える運動が起こり、翌年、桂内閣は総辞職に追い込まれた。

第一次世界大戦末に起こった米騒動をきっかけに、陸軍出身の首相が辞職し、立憲政友会総裁の原敬が首相に指名されて ^① 原内閣 が成立した。この時期は、政治・社会・経済などの分野で、 ^② のちに大正デモクラシーとよばれる民主主義的・自由主義的な思潮や運動が盛り上がり、普通選挙や政党政治の実現に大きな影響を及ぼした。

問1 空欄 に入る語句として正しいものを、次の①～④のうちから一つ選べ。

- ① 大隈重信 ② 西園寺公望 ③ 寺内正毅 ④ 上原勇作

問2 下線部①が行った政策について述べた文として正しいものを、次の①～④のうちから一つ選べ。

- ① アメリカ合衆国と石井・ランシング協定を交わした。
② 軍部大臣現役武官制を改正し、現役規定を削除した。
③ 全国に特別高等警察(特高)を設置した。
④ 選挙法を改正し、選挙人の納税資格を直接国税3円以上に引き下げた。

問 3 下線部①に関連して述べた次の文 X・Y と、それに該当する人物名 a～d との組合せとして正しいものを、下の①～④のうちから一つ選べ。 14

X この人物の学説は、天皇機関説といわれた。

Y この人物は、植民地の放棄を唱え、第二次世界大戦後に首相となった。

a 吉野作造 b 石橋湛山 c 美濃部達吉 d 河上肇

① X—a Y—b

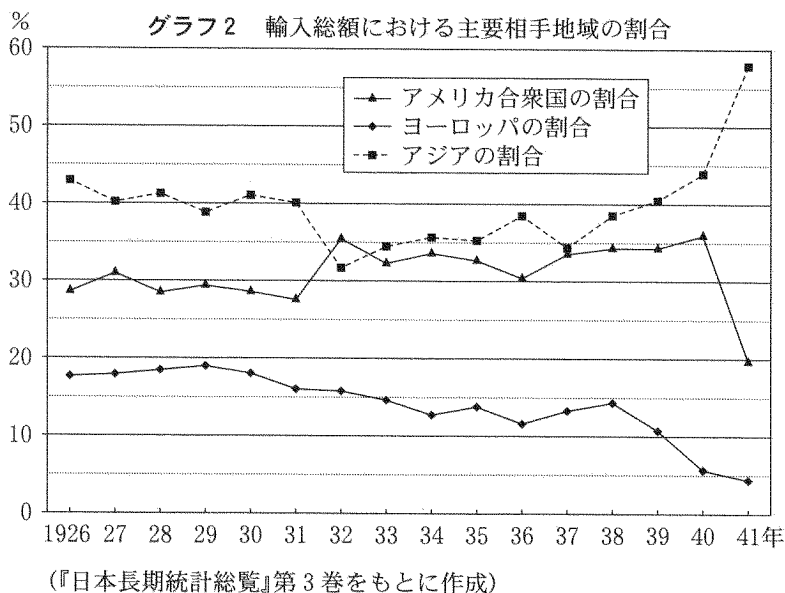
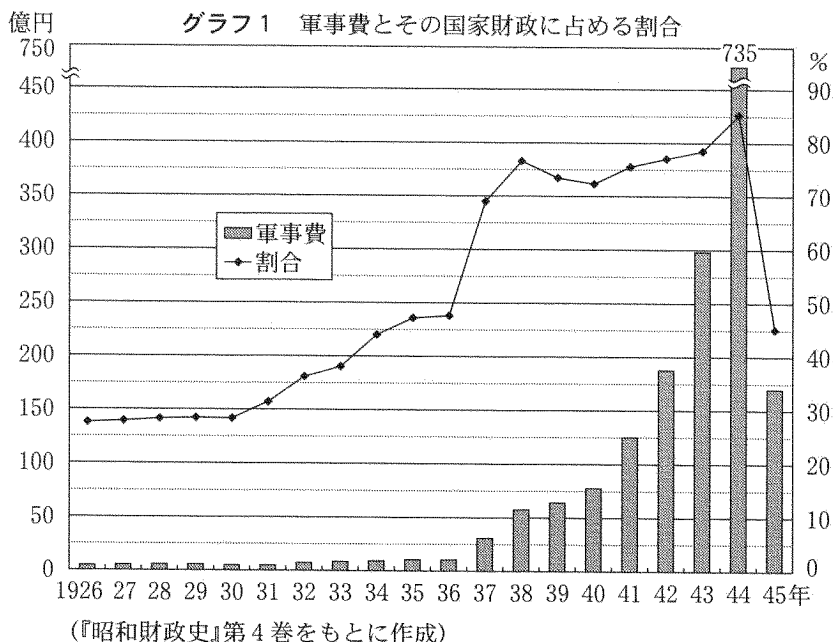
② X—a Y—d

③ X—c Y—b

④ X—c Y—d

日本史A

B 満州事変以後、日本の軍事費は次第に増加した。その様子を表したのが、グラフ1である。軍需品の輸入も増加したが、グラフ2は、この時期の輸入総額における主要相手地域の割合の変化を表したものである。日中戦争開始後は、軍需品の優先的確保をはかるため、政府は貿易を統制したり、物資動員計画を立案するなどの、**㉔ 戦時経済統制**を進めた。



問 4 グラフ 1 について述べた次の文 a ~ d について、正しいものの組合せを、下の①~④のうちから一つ選べ。 15

- a 満州事変が起きた年の軍事費の割合は、約 30 % である。
- b 軍事費の割合が 50 % を超えたのは、日米開戦後である。
- c 盧溝橋事件が起きた年の軍事費は、前年の倍額以上に増加した。
- d 東条英機が首相に就任した年に、軍事費は最大になった。

- ① a・c ② a・d ③ b・c ④ b・d

問 5 グラフ 2 について述べた次の文 X・Y について、その正誤の組合せとして正しいものを、下の①~④のうちから一つ選べ。 16

X 日中戦争がはじまった翌年には、アメリカ合衆国からの輸入割合は大幅に低下した。

Y ドイツがポーランドに侵攻した翌年には、ヨーロッパからの輸入割合は前年に比べ半減した。

- ① X 正 Y 正 ② X 正 Y 誤
③ X 誤 Y 正 ④ X 誤 Y 誤

問 6 下線部㉔に関連して、戦時下の経済・社会について述べた文として誤っているものを、次の①~④のうちから一つ選べ。 17

- ① 価格等統制令が施行された。
- ② 経済安定九原則が発表された。
- ③ 大日本産業報国会がつくられた。
- ④ 砂糖などの切符制が導入された。

日本史A

C 敗戦後、占領下の日本においては、さまざまな分野で改革が進められた。経済の分野では農地改革などが実施された。農地改革は、日本政府により進められたが不十分であったため、GHQ(連合国軍最高司令官総司令部)の勧告にもとづいて1946年10月に **イ** が成立して、改革はさらに進められた。労働の分野でも改革が行われ、労働運動が活発化した。その後、1950年に結成された **ウ** は、のちに「春闘」方式の賃上げ闘争の中心となった。

また、戦争中は解散していた政党も、新たに結成されて、活動を再開した。日本国憲法では議院内閣制が定められ、国会を中心に ① 政党政治がくり広げられた。

問7 空欄 **イ** **ウ** に入る語句の組合せとして正しいものを、次の①～④のうちから一つ選べ。 **18**

- | | |
|----------------|------------------|
| ① イ 自作農創設特別措置法 | ウ 日本労働組合総評議会(総評) |
| ② イ 自作農創設特別措置法 | ウ 労働組合期成会 |
| ③ イ 農業基本法 | ウ 日本労働組合総評議会(総評) |
| ④ イ 農業基本法 | ウ 労働組合期成会 |

問8 下線部①に関連して述べた次の文I～IIIについて、古いものから年代順に正しく配列したものを、下の①～④のうちから一つ選べ。 **19**

- I 保守合同が実現し、自由民主党が結成された。
II 日本新党の細川護熙を首相とする連立内閣が成立した。
III 日本社会党の片山哲を首相とする連立内閣が成立した。

- | | |
|----------------|----------------|
| ① I — III — II | ② II — I — III |
| ③ III — I — II | ④ III — II — I |

(下書き用紙)

日本史 A の試験問題は次に続く。

日本史A

第4問 近代の政治に関する次の文章を読み、下の問い(問1～4)に答えよ。

(配点 12)

自由民権運動は、激化諸事件とそれに対する弾圧のくり返し、自由党の解党、立憲改進黨党首の脱党という事態の中で1880年代半ばには一時衰退した。しかし、1890年の国会開設を控えて、㉔もとの自由党や立憲改進黨の人々は、再び団結して国会開設に備えようとする運動を起こした。1886年に旧自由党の星亨が提唱したあと、が受け継いだ大同団結運動である。

この翌年には条約改正交渉の失敗を機に㉕三大事件建白運動が起こった。条約交渉の失敗は、欧化政策の象徴でもあった鹿鳴館外交の担当者である外相の失策を意味した。この政府批判の運動に対しても、政府は弾圧を加えたが、憲法発布が近づくと、㉖民権派の人々は再び活気を取り戻し、初期議会を迎えたのである。

問1 空欄 に入る語句の組合せとして正しいものを、次の①～④のうちから一つ選べ。

- ① ア 後藤象二郎 イ 陸奥宗光
- ② ア 後藤象二郎 イ 井上馨
- ③ ア 片岡健吉 イ 陸奥宗光
- ④ ア 片岡健吉 イ 井上馨

問 2 下線部㉔に関連して述べた次の文X～Zについて、その正誤の組合せとして正しいものを、下の①～④のうちから一つ選べ。 21

X 自由党は、立志社や愛国社の流れをくむグループを中心に結成された。

Y 立憲改進黨は植木枝盛を党首として、イギリス流の議院内閣制を主張した。

Z 河野広中らは立憲帝政党を結成し、政府支持を表明した。

- | | | | | | |
|-------|-----|-----|-------|-----|-----|
| ① X 正 | Y 誤 | Z 正 | ② X 正 | Y 誤 | Z 誤 |
| ③ X 誤 | Y 正 | Z 正 | ④ X 誤 | Y 正 | Z 誤 |

問 3 下線部㉕の三大事件建白運動の内容について述べた文として誤っているものを、次の①～④のうちから一つ選べ。 22

- ① 地租軽減などを内容とする負担の軽減を主張した。
- ② 厳しい弾圧を受けた言論集会の自由な開催を主張した。
- ③ 官有地に編入された旧入会地の返還を要求した。
- ④ 政府による外交失策を回復し、対等条約の締結を求めた。

問 4 下線部㉖に関して述べた次の文I～IIIについて、古いものから年代順に正しく配列したものを、下の①～④のうちから一つ選べ。 23

I 政府は詔勅により、民党の反対を抑え、予算を成立させた。

II 第1回帝国議会では、自由党の一部が予算成立に協力した。

III 民権派の再結集に対して、政府は超然主義の立場を声明した。

- | | |
|----------------|----------------|
| ① II — I — III | ② II — III — I |
| ③ III — I — II | ④ III — II — I |

日本史A

第5問 近現代の社会に関する次の文章A～Cを読み、下の問い(問1～8)に答えよ。(配点 23)

A 第一次世界大戦から1920年代にかけての時期は、都市社会を舞台として現代の生活や文化の原型が姿を現した時代であった。この時期には、俸給生活者(サラリーマン)の増大などを背景として、都市の生活様式に大きな変化がはじまり、㉑ 洋装や洋食が社会的に広がりを持つようになった。

都心部にはコンクリートを用いた近代的なビルディングが出現し、特に大都市では が発展して、都市住民の消費生活に重要な役割を果たすようになった。

文化の面でも、新聞や雑誌が大衆化し、 の『大菩薩峠』に代表される大衆文学(大衆小説)が登場して人気を博するようになった。また、㉒ 映画やレコードが広く愛好されるようになり、新たな娯楽メディアもあいついで登場した。

問1 空欄 に入る語句の組合せとして正しいものを、次の①～④のうちから一つ選べ。

- | | |
|---------------------|--------|
| ① ア デパート | イ 中里介山 |
| ② ア デパート | イ 森鷗外 |
| ③ ア スーパー(スーパーマーケット) | イ 中里介山 |
| ④ ア スーパー(スーパーマーケット) | イ 森鷗外 |

問 2 下線部③について述べた文として正しいものを、次の①～④のうちから一つ
選べ。 25

- ① この時期の洋食の広がりにより、米の減反政策がとられるようになった。
- ② 当時の人々に洋食として広がったものの一つに、カレーライスがある。
- ③ 当時の女性は、ほとんどが洋服姿であった。
- ④ この時期の洋装の広がりの中で、軍隊でもはじめて洋服が採用された。

問 3 下線部①に関連して、第二次世界大戦以前のメディアの発達に関して述べた
次の文 X・Y について、その正誤の組合せとして正しいものを、下の①～④の
うちから一つ選べ。 26

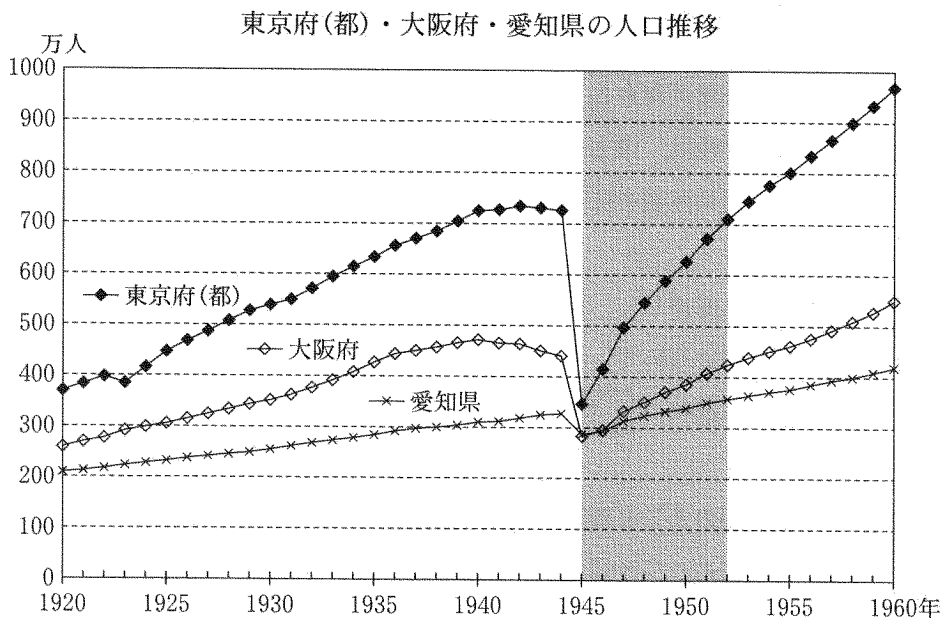
X 日本最初のテレビ放送が開始された。

Y 日本最初のラジオ放送が開始された。

- | | | | |
|-------|-----|-------|-----|
| ① X 正 | Y 正 | ② X 正 | Y 誤 |
| ③ X 誤 | Y 正 | ④ X 誤 | Y 誤 |

日本史A

B 次のグラフは、東京府(都)・大阪府・愛知県の人口の推移を、1920年から1960年までの40年間について整理したものである。




(総理府統計局『日本の推計人口』(1970年)より作成)

(注) 東京府は1943年から東京都となった。

問 4 このグラフに関して述べた文として誤っているものを、次の①～④のうちから一つ選べ。 27

- ① 1945年における人口減少の背景には、戦災による都市の破壊がある。
- ② 1945年における東京都の人口減少は、1920～44年の増加分に匹敵する。
- ③ 太平洋戦争期の大阪府の人口は、減少傾向にある。
- ④ 東京都・大阪府は、1950年代を通じて戦前の人口水準を回復していない。

問 5 グラフに示した  の占領期の出来事に関して述べた次の文X・Yについて、その正誤の組合せとして正しいものを、下の①～④のうちから一つ選べ。

28

X 引揚者の帰国があいついだ。

Y 農村の過疎化と都市の過密化が進んだ。

① X 正 Y 正

② X 正 Y 誤

③ X 誤 Y 正

④ X 誤 Y 誤

日本史 A

C 1950年代半ばから20年近く続いた高度経済成長のなかで、日本列島の
ウ 側に、ベルト状の巨大な重化学工業地帯が形成され、産業と人口の著し
い集中が生じた。一方、その他の地域では、㉔ 既存の産業構造の変容が進み、
地域社会の状況は大きく変化した。

また各種の家庭電化製品や エ などの耐久消費財が、国民の間に広く普及
するなど、高度経済成長の影響は多方面におよび、㉕ この時期を通じて社会の
あり方は大きな変貌^{へんぼう}を遂げることとなった。

問 6 空欄 ウ エ に入る語句の組合せとして正しいものを、次の①～④
のうちから一つ選べ。 29

- | | |
|---------|----------|
| ① ウ 太平洋 | エ 自家用車 |
| ② ウ 太平洋 | エ コンピュータ |
| ③ ウ 日本海 | エ 自家用車 |
| ④ ウ 日本海 | エ コンピュータ |

問 7 下線部㉔に関して述べた次の文X・Yについて、その正誤の組合せとして正
しいものを、下の①～④のうちから一つ選べ。 30

X 専業農家戸数が兼業農家戸数を上回るようになった。
Y 石油へのエネルギー転換によって石炭産業が衰退した。

- | | |
|-----------|-----------|
| ① X 正 Y 正 | ② X 正 Y 誤 |
| ③ X 誤 Y 正 | ④ X 誤 Y 誤 |

問 8 下線部①について述べた文として誤っているものを、次の①～④のうちから一つ選べ。 31

- ① 団地とよばれる集合住宅がつぎつぎと生まれた。
- ② 大規模な設備投資により、技術革新が進んだ。
- ③ 貿易と資本の自由化が進み、開放経済体制への移行がはじまった。
- ④ 女子工場労働者の深夜労働が広まり、それを禁止する法律が制定された。

日本史A

第6問 近現代の娯楽と政治に関する次の文章A・Bを読み、下の問い(問1～5)に答えよ。(配点 14)

A 漫才作者の秋田^{あきた みのる}実^{まこと}は1905年、大阪に生まれた。高等学校・帝国大学時代は社会主義運動にかかわり、プロレタリア文学関係の雑誌 **ア** の編集を手伝った。1934年、『婦人公論』に発表した「モダン^{まんざい}万歳 恋愛禁止法」では、若者の恋愛熱だけは医者がいくら考えても治せない^しので、恋愛を禁止する法律を「思案^{あんい}医師法」と名付けた。①これは9年前に制定された社会運動を取り締まる法律を風刺したものである。

秋田は、横山エンタツ・花菱^{はなびし}アチャコの人気漫才師コンビと出会い、戦中から戦後にかけて活躍した。

問1 空欄 **ア** に入る語句として正しいものを、次の①～④のうちから一つ選べ。 **32**

- ① 『白樺』 ② 『戦旗』 ③ 『アララギ』 ④ 『文学界』

問2 下線部①の法律について述べた文として正しいものを、次の①～④のうちから一つ選べ。 **33**

- ① 田中義一内閣の下ではじめて成立した。
② 基地反対闘争を取り締まるために制定された。
③ 民主化をめざしたアメリカによる対日占領後も廃止されず、引き続いて効力を持った。
④ 「国体」の変革と私有財産制度の否認を目的とする運動の取締りを意図して制定された。

B 文化人たちは独自の視点で①戦時期の社会を振り返り、戦争責任問題のあり方をさまざまに表現した。当時の国民の姿を風刺した次の漫画は、その一例である。



(麻生豊「こいつが悪かったんだ!」『新漫画』1946年1月15日)

「戦争犯罪人」の処罰は、1945年7月、日本の無条件降伏を勧告した にも記されていた。一方、この漫画に描かれたように、戦争責任の問題はあいまいであった。しかし、この漫画の背景となる1945年暮れから1946年初めは、③ 占領軍によって、戦争犯罪容疑者の逮捕や、戦時期の活動を問う施策がなされ、それはやがて文化人にもおよんでいった。

問 3 空欄 に入る語句として正しいものを、次の①～④のうちから一つ選べ。

- ① シャウブ勧告
- ② ポツダム宣言
- ③ カイロ宣言
- ④ 人権指令

日本史 A

問 4 下線部①に関連して、満州事変以降の社会について述べた文として誤っているものを、次の①～④のうちから一つ選べ。 35

- ① 新聞紙条例が制定され、言論が弾圧された。
- ② 知識人が人民戦線事件で弾圧された。
- ③ 国民精神総動員運動が行われた。
- ④ 大政翼賛会が結成された。

問 5 下線部③に関連して述べた次の文 X・Y について、その正誤の組合せとして正しいものを、下の①～④のうちから一つ選べ。 36

X 戦時期には日本文学報国会が組織された。

Y GHQ(連合国軍最高司令官総司令部)は、政財界や言論界などの指導者を対象として公職追放を指令した。

- | | | | |
|-------|-----|-------|-----|
| ① X 正 | Y 正 | ② X 正 | Y 誤 |
| ③ X 誤 | Y 正 | ④ X 誤 | Y 誤 |

(下書き用紙)