

# 地理歴史

## 日本史B

(100点)  
(60分)

この問題冊子には、「世界史A」「世界史B」「日本史A」「日本史B」「地理A」「地理B」の6科目を掲載しています。解答する科目を間違えないよう選択しなさい。

### 注意事項

- 1 試験開始の合図があるまで、この問題冊子の中を見てはいけません。
- 2 この注意事項は、問題冊子の裏表紙にも続きます。問題冊子を裏返して必ず読みなさい。
- 3 出題科目、ページ及び選択方法は、下表のとおりです。

出題科目	ページ	選 択 方 法
世界史A	4～21	左の6科目のうちから1科目を選択し、解答しなさい。
世界史B	22～47	
日本史A	48～73	
日本史B	74～101	
地理A	102～135	
地理B	136～175	

- 4 試験中に問題冊子の印刷不鮮明、ページの落丁・乱丁及び解答用紙の汚れ等に気付いた場合は、手を挙げて監督者に知らせなさい。
- 5 解答用紙には解答欄以外に次の記入欄があるので、監督者の指示に従って、それぞれ正しく記入し、マークしなさい。

#### ① 受験番号欄

受験番号(数字及び英字)を記入し、さらにその下のマーク欄にマークしなさい。  
正しくマークされていない場合は、採点できないことがあります。

#### ② 氏名欄、試験場コード欄

氏名・フリガナ及び試験場コード(数字)を記入しなさい。

裏表紙に続く。

③ 解答科目欄

解答する科目を一つ選び、科目の下の○にマークしなさい。マークされていない場合又は複数の科目にマークされている場合は、0点となります。

- 6 解答は、解答用紙の解答欄にマークしなさい。例えば、

10
----

と表示のある問いに対して③と解答する場合は、次の(例)のように解答番号10の解答欄の③にマークしなさい。

(例)

解答番号	解 答 欄
1 0	① ② ● ④ ⑤ ⑥ ⑦ ⑧ ⑨ ⑩

- 7 問題冊子の余白等は適宜利用してよいが、どのページも切り離してはいけません。  
8 試験終了後、問題冊子は持ち帰りなさい。

# 日本史 B

(解答番号  ~ )

**第1問** 高校生の公一さんが高校の先輩で大学生の武男さんとかわした会話A・Bを読み、下の問い(問1～6)に答えよ。(配点 12)

A

公一：先輩が以前お書きになった武士の歴史に関するレポート、先生がとてもほめておられました。

武男：大学に入っているいろいろ学んでみると、あれはまだまだ不十分だったと思うよ。時代による変化をきちんと見ていなかったなあ。

公一：どんな風にですか。

武男：たとえば、11世紀半ばころまでには、長年仕えた主人と戦場で生死をともにしようとする武士も現れていたらしいけれど、そうした密接な主従の関係はまだ一部のものだったようだね。①有力な武将が多くの武士をあちこちの戦いに動員することはしばしばあったけれど、その関係は時代によって異なっていたんじゃないかな。中世までの武士は、所領を持って自立していれば必ずしも主人に従わないこともあったし、裏切ることだってあったようだ。われわれの考えるような、忠義を尽くす主従関係というのは、はじめから当たり前にあったのではなく、しだいに形成されていったものらしい。

公一：中世の武士は、②御恩と奉公の関係を通して主従のつながりを確立していったということですか。

武男：そういう面もあるけれど、中世から近世へと転換していく時代に、③戦国大名が分国法などで政策的に武士の自立性を押さえ込もうとしたことに注意が必要だろうな。そうした対応を必要とする状況が続いていたわけだからね。

問 1 下線部④に関連して、武士が勢力を拡大する過程で起きた出来事を述べた次の文Ⅰ～Ⅲについて、古いものから年代順に正しく配列したものを、下の①～⑥のうちから一つ選べ。

- Ⅰ 源頼信が、関東地方で起こった平忠常の乱を鎮圧した。
- Ⅱ 源義朝が、京都での兵乱に東国の武士を動員した。
- Ⅲ 源頼義が、前九年合戦に関東地方の武士を動員した。

- ① Ⅰ — Ⅱ — Ⅲ      ② Ⅰ — Ⅲ — Ⅱ      ③ Ⅱ — Ⅰ — Ⅲ
- ④ Ⅱ — Ⅲ — Ⅰ      ⑤ Ⅲ — Ⅰ — Ⅱ      ⑥ Ⅲ — Ⅱ — Ⅰ

問 2 下線部⑤に関して述べた次の文 a～d について、正しいものの組合せを、下の①～④のうちから一つ選べ。

- a 鎌倉幕府における御恩とは、俸禄の米を支給することが主である。
- b 鎌倉幕府における御恩とは、土地支配にかかわる権限を認めることが主である。
- c 合戦や大番役への動員では、国ごとに国司が荘園領主に賦課していた。
- d 合戦や大番役への動員では、国ごとに守護が御家人を統率した。

- ① a・c      ② a・d      ③ b・c      ④ b・d

## 日本史B

問 3 下線部◎について、戦国大名による武士への統制の強化を説明した文として正しいものを、次の①～④のうちから一つ選べ。 3

- ① 大名の直轄領である天領を武士たちに預け、自由な活動を抑制した。
- ② 主従で惣掟<sup>さいし</sup>を定めて共同祭祀を行い、結束を強めた。
- ③ 喧嘩両成敗の方針によって、私的な武力の行使を禁じた。
- ④ 家臣の収入を、銭に換算した石高という基準で、統一的に把握した。

## B

武男：それから、武士が中世のころからずっと、後世の「武士道」でいわれるような存在であったともいえないようだよ。

公一：そうなのですか。

武男：① 鎌倉時代の武士が守るべきことがらは、「兵<sup>つわもの</sup>の道」「弓馬の道」などとよばれていたのだけれど、そこでは武芸を身につけることこそが、何より大切なこととされていたのだよ。

公一：それでは武士が道徳的な存在であるべきとされるようになったのはいつからなのですか。

武男：やはり戦争がなくなった江戸時代が重要だと思うよ。② 朱子学などの学問を通して、武士の道徳性を高めようとする方向性が強まったようだ。さらに明治時代になって、③ 近代化のための欧化政策が進められると、それに対する批判が起こる一方、西洋の倫理観に匹敵するものとして、武士道が改めて「発見」された面もあると思うよ。

公一：当たり前だと思っていても、知らないことがずいぶんあるんですね。僕も大学に入ったら、もっと勉強してみたいと思います。

## 日本史B

問 4 下線部㉑に関して述べた文として正しいものを、次の①～④のうちから一つ  
選べ。

- ① 鎌倉時代の武士は、城下町への集住が義務付けられていた。
- ② 鎌倉時代を通じて、武士の所領は、嫡子単独相続を原則としていた。
- ③ 鎌倉時代の武家社会における一族の結合体制を、寄親・寄子制とよんでいる。
- ④ 鎌倉時代の武士の間では、流鏑馬・犬追物などの武芸の鍛錬がさかんに行われた。

問 5 下線部㉒に関連して、江戸時代の思想・教育にかかわる出来事を述べた文として誤っているものを、次の①～④のうちから一つ選べ。

- ① 政治が安定してくると、幕府は熊沢蕃山らの陽明学者を重く用いた。
- ② 山鹿素行らの古学派が、孔子・孟子の原典に立ち戻るべきことを唱えた。
- ③ 徳川綱吉の時代に、湯島聖堂が建てられた。
- ④ 藩政改革のなか、各地で人材育成のため藩校が設置された。

問 6 下線部㉓に関連して、明治時代の思想界の動向に関して述べた次の文X・Y  
について、その正誤の組合せとして正しいものを、下の①～④のうちから一つ  
選べ。

X 陸羯南は新聞『日本』を刊行し、欧化主義を批判した。

Y 高山樗牛は雑誌『太陽』で、日本主義を唱えた。

- ① X — 正      Y — 正                      ② X — 正      Y — 誤
- ③ X — 誤      Y — 正                      ④ X — 誤      Y — 誤

(下書き用紙)

日本史Bの試験問題は次に続く。



## 日本史B

**第2問** 古代の政治や文化に関する次の文章A・Bを読み、下の問い(問1～6)に答えよ。(史料は、一部省略したり、書き改めたりしたところもある。)(配点 18)

A 次の史料は、『日本書紀』の文章の一部である。ここには、ある政争にかかわって、二人の人物がそれぞれ戦勝祈願した結果、二つの寺院が創建されたという伝承が記されている。

蘇我馬子宿禰大臣、諸皇子と群臣とに勸めて、ア大連を滅ぼさむことを謀る。(中略)乱を平めて後に、(ある皇子の発願により)摂津国に④四天王寺を造る。⑤大連の奴の半ばと宅とを分けて、大寺(注1)の奴・田莊とす。田一万頃(注2)を以て、迹見首赤禰に賜ふ。蘇我大臣、亦本願の依に、飛鳥の地にイを起つ。

(注1) 大寺：四天王寺を指す

(注2) 頃：土地の面積を表す単位

問 1 空欄   に入る語句の組合せとして正しいものを、次の①～④のうちから一つ選べ。

- ① ア 大伴金村 イ 法隆寺      ② ア 大伴金村 イ 法興寺  
 ③ ア 物部守屋 イ 法隆寺      ④ ア 物部守屋 イ 法興寺

問 2 下線部③は、蘇我馬子とともに戦った、ある皇子(王)が創建したと伝えられている。この人物が国政にかかわっていた時期の出来事について述べた文として正しいものを、次の①～④のうちから一つ選べ。

- ① 世襲による氏姓制度とは異なり、個人の功績や才能を評価する冠位の制度が定められた。  
 ② 中国南朝に使者を派遣し、倭と朝鮮半島南部での軍事指揮権を示す称号を求めた。  
 ③ 倭国では大きな争乱が起こり、しばらく収まらなかったが、諸国が共同して女性の王をたて、約 30 国からなる連合体をつくった。  
 ④ 稗田阿礼によみならわせていた神話や伝承、歴史などを、太安万侶が筆録し、書物として完成させた。

## 日本史B

問 3 下線部⑥に関して述べた文として誤っているものを、次の①～④のうちから一つ選べ。

- ① 国政を担う大連は、連の姓をもつ有力な氏のうちから任じられた。
- ② 『日本書紀』の「改新の詔」には、豪族の所有する田荘を廃止する命令が記されている。
- ③ 有力な豪族のもとには、「奴」とよばれる人々がいた。
- ④ 四天王寺は、人や土地を所有することが禁止されていた。

B 平安京の中央北端に配置された平安宮(大内裏)には、天皇の住まいとともに、  
 ㉔ 政務や儀礼を行う建物や、さまざまな役所、密教しゆほう修法の道場などが置かれていた。

もともと、ヤマト政権の大王の住まいを中核としていた古代の宮は、大王・天皇の権力の増大や、律令制的な官僚制の導入により、徐々に整備・拡大されていった。そのため、律令時代の宮にも、古い時代の名残を見出すことができる。たとえば、㉕ 平安宮内にあった応天門の名は、大伴門を改称したものである。大伴門という名称は、ヤマト政権の有力氏族であった大伴氏が、かつて宮の門を守衛していたことに由来するとされている。

9世紀以後には、平安宮のあり方にもさまざまな変化が起きた。㉖ 政治構造の変化とともに、本来は天皇が生活を送る場であった内裏が日常的な政治の場となったことなどは、その代表例である。


問 4 下線部㉔に関して述べた文として誤っているものを、次の①～④のうちから一つ選べ。 10

- ① 平安宮には、国家的な儀礼などを行う大極殿が建てられていた。
- ② 神々の祭祀をつかさどる神祇官と、行政全般を管掌する太政官の二官があった。
- ③ 平安宮の警護を主な任務とする滝口の武士をやめて、新たに檢非違使がおかれた。
- ④ 加持祈禱を重視する密教は、現世利益を求める皇室や貴族に受容された。

## 日本史B

問 5 次の甲・乙・丙の図は、下線部④の焼失に始まる政変を題材に、12世紀後半に作られた『伴大納言絵巻』の一部である。この政変と、図甲・乙・丙に関して述べた次ページの文 a～d について、正しいものの組合せを、その下の①～④のうちから一つ選べ。 11

甲




都の人々が、応天門の炎上を、画面右側に描かれた平安宮正門である朱雀門<sup>すざくもん</sup>の内側から見上げている場面

乙



丙



応天門焼失の「真相」が発覚するきっかけとなった、都に住む子どもの喧嘩<sup>けんか</sup>に親が介入してきた二つの場面(一部分を拡大している)

- a この政変の結果、左大臣の源高明が左遷された。
- b この政変によって、伴・紀両氏の没落が進んだ。
- c 甲に見られるように、文化の国風化が進んだ平安初期には、朱雀門は瓦かわら葺ぶきではなく檜皮葺となった。
- d 甲・乙・丙からは、平安時代の都の成年男子は、帽子などのかぶり物をかぶるのが一般的であったことがうかがえる。

- ① a・c      ② a・d      ③ b・c      ④ b・d

問 6 下線部㊸に関して述べた次の文Ⅰ～Ⅲについて、古いものから年代順に正しく配列したものを、下の①～⑥のうちから一つ選べ。 12

- Ⅰ 天皇が幼少のときには摂政、成人したのちには関白をおくことが通例となった。
- Ⅱ 院の命令を伝える文書や院庁が出す文書が、荘園の認可などの国政に大きな効力をもつようになった。
- Ⅲ 天皇の側近として、天皇の命令をすみやかに太政官に伝える蔵人頭が設けられた。

- ① Ⅰ — Ⅱ — Ⅲ      ② Ⅰ — Ⅲ — Ⅱ      ③ Ⅱ — Ⅰ — Ⅲ  
 ④ Ⅱ — Ⅲ — Ⅰ      ⑤ Ⅲ — Ⅰ — Ⅱ      ⑥ Ⅲ — Ⅱ — Ⅰ

## 日本史B

**第3問** 中世の文化・政治・社会に関する次の文章A・Bを読み、下の問い(問1～6)に答えよ。(配点 18)

A 平安末期のあいつぐ戦乱や社会の変化を体験した人々は、心の支えを求めている。そのようななかで仏教界でも、武士や庶民など広い層を救済の対象にする動きが起こった。①鎌倉新仏教の開祖のなかで最初に登場した法然は、旧来のような難しい修行をしなくとも往生できると説いた。以後、諸宗派が生まれていくが、とりわけ日蓮は法華経を重視し、**ア**を唱えることで救われると説き、商工業者や関東の武士などに受け入れられた。

鎌倉時代には、各種の芸術の分野にも新たな傾向があらわれた。建築の分野では、②重源が戦乱で荒廃した南都の寺院再建に採用した様式が著名である。また絵画の分野では、個人の肖像を写實的に描くことがさかんになり、禅宗の高僧の肖像を描く**イ**もみられるようになった。

問1 空欄**ア** **イ**に入る語句の組合せとして正しいものを、次の①～④のうちから一つ選べ。 **13**

- ① ア 念 仏    イ 頂 相                      ② ア 念 仏    イ 濃 絵  
③ ア 題 目    イ 頂 相                      ④ ア 題 目    イ 濃 絵

問2 下線部①に関連して、法然が活躍した時期の政治状況について述べた文として正しいものを、次の①～④のうちから一つ選べ。 **14**

- ① 白河天皇が、堀河天皇に譲位し、自らは上皇となって院政を開始した。  
② 源義仲が、北陸道から入京し、平氏一門を西国へ追った。  
③ 北条時頼が、御家人の訴訟を専門に扱う機関として引付を設置した。  
④ 北条時宗が、元の襲来に備えて九州北部などを御家人に防備させた。


問 3 下線部①の様式で造られた建築物を、次の写真①～④のうちから一つ選べ。

15


①



②



③



④





## 日本史B

B 鎌倉幕府の滅亡後、ただちに京へもどった後醍醐天皇は、新政の体制を整え、**ウ**によって土地の権利を確認する方針を打ち出した。しかし、急速な権限の集中は混乱をよんで人々の信頼を失い、南朝と北朝が対立する時代へと進んでいった。このなかで北畠親房は、南朝の立場から皇位継承の理想を**エ**で述べた。

1392年、室町幕府主導のもと、両朝は合一され、政治が安定していった。しかしその後も、将軍が支配を強化していくなかで、㉔ 将軍と有力守護との対立などが断続的に起こった。このうち、15世紀後半からは戦国時代とよばれるおおよそ100年にわたる全国的戦乱の時代となる一方で、経済活動は進展し、㉕ 各地で都市が発達していった。それに対応して、戦国大名はさまざまな経済政策をとることになる。

問4 空欄**ウ** **エ**に入る語句の組合せとして正しいものを、次の①～④のうちから一つ選べ。**16**

- ① ウ 院 宣 エ 『梅松論』
- ② ウ 院 宣 エ 『神皇正統記』
- ③ ウ 綸 旨 エ 『梅松論』
- ④ ウ 綸 旨 エ 『神皇正統記』

問5 下線部㉔に関連して、室町時代の戦乱に関して述べた次の文Ⅰ～Ⅲについて、古いものから年代順に正しく配列したものを、下の①～⑥のうちから一つ選べ。**17**

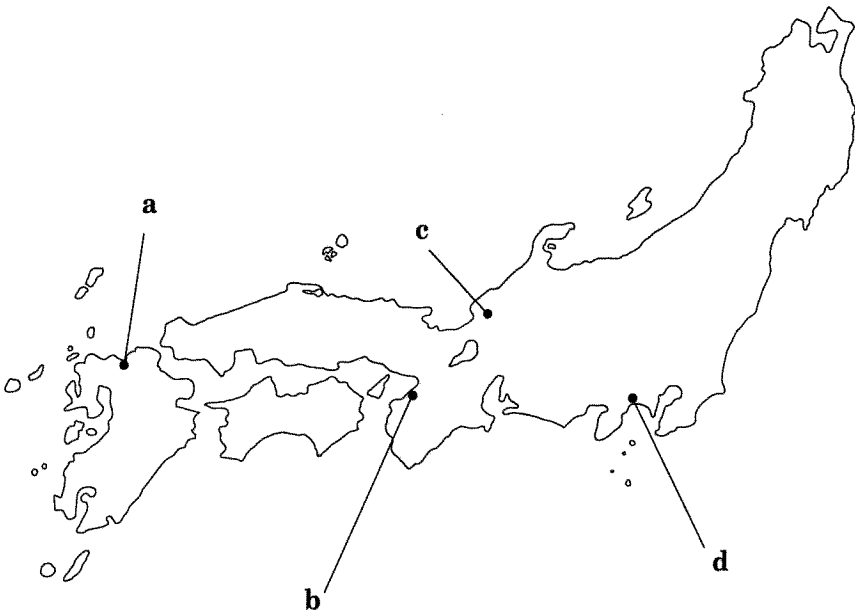
- Ⅰ 細川勝元と山名持豊の対立が、大きな戦乱に発展した。
- Ⅱ 周防国など6か国の守護を兼任していた大内義弘が、討たれた。
- Ⅲ 将軍による守護への弾圧に危機感を抱いた赤松満祐が、将軍を殺害した。

- ① Ⅰ — Ⅱ — Ⅲ      ② Ⅰ — Ⅲ — Ⅱ      ③ Ⅱ — Ⅰ — Ⅲ
- ④ Ⅱ — Ⅲ — Ⅰ      ⑤ Ⅲ — Ⅰ — Ⅱ      ⑥ Ⅲ — Ⅱ — Ⅰ

問 6 下線部㉑に関連して、この時期の都市について述べた次の文X・Yと、その所在地を示した地図上の位置a～dの組合せとして正しいものを、下の①～④のうちから一つ選べ。 18

X 平安時代から貿易が行われたこの都市では、年行司(年行事)が選出されて自治に当たっていた。

Y 朝倉氏の居館があったこの都市には、家臣たちが集住するとともに商工業者も住んでいた。



① X— a    Y— c

② X— a    Y— d

③ X— b    Y— c

④ X— b    Y— d

## 日本史B

**第4問** 近世の政治・社会に関する次の文章A・Bを読み、下の問い(問1～6)に答えよ。(史料は、一部省略したり、書き改めたりしたところもある。)(配点 17)

A 17世紀の後半になると、戦国の遺風もしだいに薄れていき、幕府も儀礼にもとづき社会秩序の維持をはかるようになった。4代将軍の時代には、異様な風体で徒党を組み、秩序におさまらない **ア** に対する取締りを強めた。5代将軍が出した **イ** は、庶民を苦しめたが、殺生を避ける風潮が社会に浸透していくことにもなった。

6代将軍、7代将軍の時代には、㉔幕府は外交儀礼を整えるとともに、朝廷と協調をはかり、将軍の権威を高めようとした。

このように社会秩序の安定がめざされ、さらに経済発展が進むなかで、㉕京都・大坂の町人を中心とした文化が開花していった。

問1 空欄 **ア** **イ** に入る語句の組合せとして正しいものを、次の①～④のうちから一つ選べ。 **19**

- ① ア かぶき者 イ 生類憐みの令
- ② ア かぶき者 イ 末期養子の禁
- ③ ア 無宿人 イ 生類憐みの令
- ④ ア 無宿人 イ 末期養子の禁


問2 下線部㉔に関連して、この時期の幕府の政策に関して述べた次の文X・Yについて、その正誤の組合せとして正しいものを、下の①～④のうちから一つ選べ。 **20**

X 朝鮮からの国書に記す将軍の称号を、日本国大君と改めさせた。  
Y 新たに閑院宮家を創設し、朝廷との協調をはかった。

- ① X 正 Y 正
- ② X 正 Y 誤
- ③ X 誤 Y 正
- ④ X 誤 Y 誤

問 3 下線部⑥に関連して、次の甲・乙に関して述べた文 a～d について、正しいものの組合せを、下の①～④のうちから一つ選べ。 21

甲



乙



- a 甲の作者は、土佐派を復興し、朝廷の絵師となった。
- b 甲の作者は、俵屋宗達の画風を取り入れ、装飾画法を大成した。
- c 乙の芸能分野では、坂田藤十郎などの名優が活躍した。
- d 乙の芸能分野では、竹本義太夫などの語りが人気を博した。

- ① a・c      ② a・d      ③ b・c      ④ b・d

## 日本史B

B 1842年に清国が  で敗れ、その情報が伝わると、幕府は列強諸国との軍事衝突を回避する一方で、海防の強化をはかった。

ペリーの来航後、幕府は、本格的な軍事力の強化を余儀なくされ、それまで禁止していた大船の建造を許可し、江戸湾に防御施設を築いた。さらに、長崎に海軍伝習所、江戸に  を設置し、実技を中心とした軍事教育を進めた。また蕃書調所を設置し、③ 西洋の情報の収集、洋学の教育、外交文書の翻訳にあたらせた。

① 坂下門外の変のあと、幕府は政治改革を進める一方で、列強諸国の軍隊制度にならって直属の軍隊の改革を進めていった。しかし、軍事制度の全体的な西洋化は、課題として明治以後に引き継がれた。

問 4 空欄   に入る語句の組合せとして正しいものを、次の①～④のうちから一つ選べ。

- ① ウ アロー戦争    エ 開成所
- ② ウ アロー戦争    エ 講武所
- ③ ウ アヘン戦争    エ 開成所
- ④ ウ アヘン戦争    エ 講武所

問 5 下線部㉔に関連して、西洋の情報の摂取に関して述べた次の文Ⅰ～Ⅲについて、古いものから年代順に正しく配列したものを、下の①～⑥のうちから一つ選べ。 23

- Ⅰ 新井白石が、イタリア人宣教師シドッチを尋問した。
- Ⅱ 幕府の天文方に、翻訳のための蛮書和解御用がおかれた。
- Ⅲ 漢訳洋書のうち、キリスト教にかかわらないものの輸入が認められた。

- ① Ⅰ — Ⅱ — Ⅲ
- ② Ⅰ — Ⅲ — Ⅱ
- ③ Ⅱ — Ⅰ — Ⅲ
- ④ Ⅱ — Ⅲ — Ⅰ
- ⑤ Ⅲ — Ⅰ — Ⅱ
- ⑥ Ⅲ — Ⅱ — Ⅰ

問 6 下線部㉕に関連して、この時期の幕府の政治改革に関して述べた文として正しいものを、次の①～④のうちから一つ選べ。 24

- ① 薩摩藩の島津久光が勅使を奉じて江戸に下り、幕政の改革を要求した。
- ② 水戸藩の徳川斉昭が、將軍後見職に任命された。
- ③ 上知令により、財政の安定化とともに対外防備の強化をはかった。
- ④ 参勤交代制が強化され、大名に対する統制が強まった。

## 日本史B

**第5問** 明治前期の産業・経済に関する次の文章を読み、下の問い(問1～4)に答えよ。(配点 12)

明治政府は富国強兵をめざし、幕府や雄藩の軍事工場や鉱山を引き継ぐとともに、お雇い外国人を招き、近代産業の育成を推進した。1870年に設置された工部省が、鉄道や鉱山、電信を管轄した。またのちには①内務省が設置され、軽工業を中心とした官営工場の運営や道路整備などのほか、②国産品奨励や製造技術の改良を行った。

政府は西南戦争の際に戦費を補うため、**ア**紙幣を乱発した。また、国立銀行の発行する**ア**銀行券も急速に流通した。この結果、紙幣の価値が下落し、日本の経済は激しい**イ**に直面した。政府は財政難などの理由から、1880年に工場払下げの規則を設けるとともに、1881年に農商務省を設立し、殖産興業の方針を官業中心から民業の促進に転換させていった。

官業払下げは1884年ころから本格化するが、③工場や鉱山の払下げを受けた政商は経営規模を拡大し、やがて財閥として発展していった。

問1 空欄**ア****イ**に入る語句の組合せとして正しいものを、次の①～④のうちから一つ選べ。**25**

- ① ア 兌換      イ デフレーション
- ② ア 兌換      イ インフレーション
- ③ ア 不換      イ デフレーション
- ④ ア 不換      イ インフレーション

問 2 下線部㉔に関して述べた文として誤っているものを、次の①～④のうちから一つ選べ。 26

- ① 内務省は、地方行政をつかさどった。
- ② 内務省は、警察行政を管轄した。
- ③ 初代内務卿には、黒田清隆が就任した。
- ④ 第二次世界大戦後、GHQの指令により内務省は解体された。

問 3 下線部㉕に関して述べた次の文 a～d について、正しいものの組合せを、下の①～④のうちから一つ選べ。 27

- a 簡単な紡績機械であるガラ紡が国内で開発され、普及していった。
- b 殖産興業政策により、これまで多くを輸入に頼っていた茶を国内で生産するようになった。
- c 政府が主導して、産業の新しい技術を普及させるため内国勸業博覧会が開催された。
- d 日露戦争の賠償金で創設された官営の製鉄所により、鉄鋼の国産化が進んだ。

- ① a・c            ② a・d            ③ b・c            ④ b・d

問 4 下線部㉖に関して述べた次の文 I～III について、古いものから年代順に正しく配列したものを、下の①～⑥のうちから一つ選べ。 28

- I 開拓使官有物払下げが批判を招き、中止された。
- II 前蔵相と三井財閥の幹部が、血盟団員に殺害された。
- III 三菱の岩崎弥太郎が、台湾出兵の際に軍事輸送を請け負った。

- ① I — II — III            ② I — III — II            ③ II — I — III
- ④ II — III — I            ⑤ III — I — II            ⑥ III — II — I



## 日本史B

### 第6問 近代の経済界で活躍した渋沢栄一・敬三に関する次の文章A・Bを読み、

下の問い(問1～8)に答えよ。(配点 23)

A 1840年に現在の埼玉県深谷市の豪農の家に生まれた渋沢栄一は、尊王攘夷運動に身を投じたのち、徳川御三卿の一つである一橋家に仕官し、その後幕臣となった。1867年のパリ万国博覧会の際には、徳川昭武に随行して西欧の経済諸制度への見識を深めた。その後①大隈重信から強く要請されて大蔵省に入省し、の設立に尽力するなど、近代的金融制度の導入や財政的基盤の確立に取り組んだ。

栄一は大蔵省を辞した後も、銀行業だけでなくの設立を指導するなど、②近代日本の産業の発達に貢献し、後年「日本近代産業の父」とよばれるようになった。政治への野心はほとんどみせず、③帝国議会が設立されると貴族院議員に選出されたが、これを辞退し、民間人の立場を貫いた。

問1 空欄 に入る語句の組合せとして正しいものを、次の①～④のうちから一つ選べ。

- ① ア 三井銀行           イ 高島炭鉱
- ② ア 三井銀行           イ 大阪紡績会社
- ③ ア 第一国立銀行      イ 高島炭鉱
- ④ ア 第一国立銀行      イ 大阪紡績会社

問2 下線部④に関連して、明治時代の後半に成立した第1次大隈内閣について述べた文として正しいものを、次の①～④のうちから一つ選べ。

- ① 民党と対立して衆議院を解散し、選挙干渉を行った。
- ② 条約改正に取り組んだが、外国人判事採用案が国民の非難をあびた。
- ③ 藩閥勢力に対抗するため、板垣退助と連携して内閣を組織した。
- ④ 日英同盟を理由として、第一次世界大戦に参戦した。

問 3 下線部㉔に関連して、日本の運輸・通信の近代化について述べた次の文 X・Y と、それに該当する語句 a～d との組合せとして正しいものを、下の①～④のうちから一つ選べ。 31

X おもに華族の出資により設立されたこの会社は、1891年に上野から青森までの路線を開通させた。

Y この人物の建議により、官営郵便制度が発足した。

a 日本国有鉄道    b 日本鉄道会社    c 森有礼    d 前島密

- ① X — a    Y — c                      ② X — a    Y — d  
 ③ X — b    Y — c                      ④ X — b    Y — d

問 4 下線部㉓に関連して、明治時代の議会制度成立の過程に関して述べた次の文 I～Ⅲについて、古いものから年代順に正しく配列したものを、下の①～⑥のうちから一つ選べ。 32

I 西南戦争のさなか、立志社の片岡健吉らが、国会開設を求める建白書を提出した。

II 選挙人資格を、直接国税 15 円以上を納入する満 25 歳以上の男性とする法律が制定された。

III 明治十四年政変が起こり、国会開設の勅諭が発せられた。

- ① I — II — III                      ② I — III — II                      ③ II — I — III  
 ④ II — III — I                      ⑤ III — I — II                      ⑥ III — II — I

## 日本史B

B 晩年渋沢栄一は、①第一次世界大戦のさなか、1916年に経済界から引退し、以後社会事業に尽力した。関東大震災の際には震災復興に貢献し、昭和恐慌のさなか、生活扶助などを内容とする救護法の実施に力を入れていたが、1931年に92歳で亡くなった。その後、②日本は恐慌からの脱出を果たしつつも、戦争への道を歩むことになる。

栄一の孫である渋沢敬三は、大学卒業後、横浜正金銀行などを経て、太平洋戦争中に日本銀行総裁となり、終戦後には大蔵大臣をつとめた。一時は、公職追放の対象となったが、その解除後は国際電信電話株式会社の初代社長となるなど、③高度経済成長下の日本で活躍した。祖父栄一は東京女学館の館長に就任するなど教育の発展に寄与したが、敬三も日本民族学協会を興してその会長に就任するなど、④戦後日本における学術の発展に貢献した。

問 5 下線部②に関連して、第一次世界大戦期における日本の政治・外交について述べた文として正しいものを、次の①～④のうちから一つ選べ。 33

- ① 海軍の青年将校たちによるクーデタ未遂事件を経て、挙国一致内閣が成立した。
- ② 内閣に対する軍部の影響力を強化するため、陸軍大臣・海軍大臣の任命を現役の大將・中將に限定する制度が定められた。
- ③ 日本の中国における特殊権益と、アメリカが要求する中国での門戸開放などを認めあう、石井・ランシング協定が結ばれた。
- ④ 青鞞社が結成されるなど女性解放運動が全国的に広がった結果、婦人参政権が認められた。

問 6 下線部㉔に関連して、1929年から1934年にかけての日本経済の諸指数を示した次の表を参考に、当時の日本経済の特徴に関して述べた下の文 a～d について、正しいものの組合せを、下の①～④のうちから一つ選べ。 34

## 日本経済の諸指数の推移

(いずれも1929年を100とする)

年 \ 項目	鉄鋼(粗鋼)生産量	民営工場実収賃金	農産物生産価額
1929年	100.0	100.0	100.0
1930年	99.8	95.0	68.0
1931年	82.1	87.3	56.7
1932年	104.6	84.8	68.4
1933年	139.4	85.9	85.2
1934年	167.6	87.8	75.1

(三和良一・原朗編『近現代日本経済史要覧』, 中村政則『昭和の恐慌』より作成)

(注) 農産物は、米・麦・繭・茶など。

- a 満州事変の起こった年を境として、鉄鋼生産量は増加しはじめたが、民営工場の労働者の実収賃金はほとんど増加しなかった。
- b 満州事変の起こった年を境として、鉄鋼生産量は増加しはじめ、民営工場の労働者の実収賃金も大幅な増加に転じた。
- c 農産物生産価額の変化をみると、農民は昭和恐慌の際に深刻な影響を受けたといえる。
- d 農産物生産価額の変化をみると、農民は昭和恐慌の際にほとんど影響を受けなかったといえる。

① a・c

② a・d

③ b・c

④ b・d

## 日本史B

問 7 下線部㉑に関連して、戦後復興期から高度経済成長期の社会に関して述べた次の文Ⅰ～Ⅲについて、古いものから年代順に正しく配列したものを、下の①～⑥のうちから一つ選べ。 35

- Ⅰ 東海道新幹線の開通により、東京・大阪間の移動時間が大幅に短縮された。
- Ⅱ 「列島改造」政策が打ち出され、東京・大阪と全国の地方都市とを結ぶ高速道路網の整備が提唱された。
- Ⅲ テレビ放送が開始され、白黒テレビの販売が始まった。

- ① Ⅰ — Ⅱ — Ⅲ      ② Ⅰ — Ⅲ — Ⅱ      ③ Ⅱ — Ⅰ — Ⅲ  
④ Ⅱ — Ⅲ — Ⅰ      ⑤ Ⅲ — Ⅰ — Ⅱ      ⑥ Ⅲ — Ⅱ — Ⅰ

問 8 下線部㉒に関連して、戦後における日本の文化・教育・学術に関して述べた文として誤っているものを、次の①～④のうちから一つ選べ。 36

- ① 教育の機会均等や男女共学をうたった教育基本法が制定された。
- ② 文化財の保存を目的に、文化財保護法が制定された。
- ③ 河上肇が各地の民間伝承を収集する民俗学の研究を発展させた。
- ④ 湯川秀樹が日本人としてはじめて、ノーベル物理学賞を受賞した。

(下書き用紙)