

# 地理歴史

世界史A

(100点)  
(60分)

この問題冊子には、「世界史A」「世界史B」「日本史A」「日本史B」「地理A」「地理B」の6科目を掲載しています。解答する科目を間違えないよう選択しなさい。

## 注意事項

- 1 試験開始の合図があるまで、この問題冊子の中を見てはいけません。
- 2 この注意事項は、問題冊子の裏表紙にも続きます。問題冊子を裏返して必ず読みなさい。
- 3 出題科目、ページ及び選択方法は、下表のとおりです。

出題科目	ページ	選 択 方 法
世界史A	4～21	左の6科目のうちから1科目を選択し、解答しなさい。
世界史B	22～47	
日本史A	48～73	
日本史B	74～101	
地理A	102～135	
地理B	136～175	

- 4 試験中に問題冊子の印刷不鮮明、ページの落丁・乱丁及び解答用紙の汚れ等に気付いた場合は、手を挙げて監督者に知らせなさい。
- 5 解答用紙には解答欄以外に次の記入欄があるので、監督者の指示に従って、それぞれ正しく記入し、マークしなさい。
  - ① 受験番号欄  
 受験番号(数字及び英字)を記入し、さらにその下のマーク欄にマークしなさい。  
 正しくマークされていない場合は、採点できないことがあります。
  - ② 氏名欄、試験場コード欄  
 氏名・フリガナ及び試験場コード(数字)を記入しなさい。

裏表紙に続く。

③ 解答科目欄

解答する科目を一つ選び、科目の下の○にマークしなさい。マークされていない場合又は複数の科目にマークされている場合は、0点となります。

- 6 解答は、解答用紙の解答欄にマークしなさい。例えば、

10
----

と表示のある問いに対して③と解答する場合は、次の(例)のように解答番号10の解答欄の③にマークしなさい。

(例)

解答番号	解 答 欄
10	① ② ● ④ ⑤ ⑥ ⑦ ⑧ ⑨ ⑩

- 7 問題冊子の余白等は適宜利用してよいが、どのページも切り離してはいけません。  
8 試験終了後、問題冊子は持ち帰りなさい。

# 世界史 A

(解答番号  ~ )

**第1問** 歴史上の支配者・指導者による近代化の試みについて述べた次の文章A～Cを読み、下の問い(問1～11)に答えよ。(配点 33)

A オスマン帝国の支配機構は、①先行するイスラーム諸王朝の様々な特徴を継承しつつ形成され、独特の発展を遂げた後、18世紀後半以降、西洋化の道を歩む。セリム3世(在位1789～1807年)は、②ヨーロッパ列強の圧力が強まるなかで、帝国の体系的な近代化を初めて実行した君主だった。彼は、西洋式軍隊を創設するとともに、西洋の軍事技術の導入を推進し、改革に必要な財源を得るため行政・財政の集権化と効率化を図った。また、主要な③ヨーロッパ諸国の首都に常駐大使館を開設して、友好の維持に努めた。彼の試みは、守旧派の反乱によって挫折したが、やがて④19世紀の大半を通じて進められる全般的な西洋化改革に継承される。

問1 下線部①に関連して、イスラーム諸王朝の支配者について述べた文として正しいものを、次の①～④のうちから一つ選べ。

- ① ファーティマ朝の君主は、後ウマイヤ朝を滅ぼしてカリフ位を奪った。
- ② セルジューク朝の君主は、ウマイヤ朝カリフからスルタンの称号を与えられた。
- ③ サラーフ＝アッディーン(サラディン)は、アイユーブ朝を滅ぼした。
- ④ ティムールは、サマルカンドを首都とする王朝を樹立した。

問 2 下線部②に関連して、17～19 世紀のオスマン帝国のヨーロッパとの関係について述べた次の文 a～c が、年代の古いものから順に正しく配列されているものを、下の①～⑥のうちから一つ選べ。 2

- a カルロヴィッツ条約によって、ハンガリーにおける領土の大半を失った。
- b ギリシアが、オスマン帝国から独立した。
- c 第 2 次ウィーン包囲を実行したが、占領に失敗した。

- ① a → b → c
- ② a → c → b
- ③ b → a → c
- ④ b → c → a
- ⑤ c → a → b
- ⑥ c → b → a

問 3 下線部③の国々で、セリム 3 世の治世と同じ時期に起こった出来事について述べた文として正しいものを、次の①～④のうちから一つ選べ。 3

- ① 神聖ローマ帝国が成立した。
- ② フランスは、トラファルガーの海戦で勝利した。
- ③ スペインは、トルデシヤス条約を結んだ。
- ④ ナポレオン = ボナパルトがエジプトに遠征した。

問 4 下線部④の時期のイスラーム世界で起こった出来事について述べた文として誤っているものを、次の①～④のうちから一つ選べ。 4

- ① パフラヴィー(パフレヴィー)朝が成立した。
- ② トルコマンチャーイ条約が結ばれた。
- ③ イランでパーブ教徒の反乱が起こった。
- ④ ヒヴァ = ハン国はロシアの保護国となった。

## 世界史A

B メキシコでは⑤19世紀後半に、ディアスが大統領になると、「秩序と進歩」というスローガンを掲げて、近代化を推進した。その実態は、反体制勢力による発言や抗議を封殺して社会の秩序を保つことと、⑥土地や石油、鉱物資源の開発権を欧米資本にも開放して経済発展を図ることであった。進歩的な知識人の言論活動や、先住民系農民の反乱、⑦工場や鉱山の労働者のストライキは、弾圧された。1910年、ディアスの8選に異を唱えた北部財閥出身のマデロは、亡命先のアメリカ合衆国からメキシコ全土に武装蜂起<sup>ほうき</sup>を呼びかけ、人々を⑧革命に向かわせることに成功した。

問5 下線部⑤の時期に起こった出来事について述べた文として正しいものを、次の①～④のうちから一つ選べ。

- ① イギリスは、ブラッシーの戦いに勝利した。
- ② アメリカ＝イギリス戦争(米英戦争)が終結した。
- ③ 朝鮮で、アヘン戦争が起こった。
- ④ アメリカ合衆国で、南北戦争が終結した。

問6 下線部⑥に関連して、次の文章中の空欄  と  に入れる語の組合せとして正しいものを、下の①～④のうちから一つ選べ。

1938年、メキシコは石油を国有化した。アメリカ合衆国大統領  は、ラテンアメリカ諸国との貿易を盛んにするために、キューバに対して示したような威圧的姿勢を改めて、  政策に基づき、メキシコの政策を容認した。しかし、  の真意は、ヨーロッパ情勢の悪化を考慮して、メキシコを自国の影響下にとどめることであった。

- ① アーフランクリン＝ローズヴェルト      イー善隣外交
- ② アーフランクリン＝ローズヴェルト      イー民族自決
- ③ アーウィルソン                              イー善隣外交
- ④ アーウィルソン                              イー民族自決

問 7 下線部⑦に関連して、労働者にかかわる法や制度、労働者の運動について述べた文として最も適当なものを、次の①～④のうちから一つ選べ。 7

- ① 工場労働者は、憲法の制定を求めて、デカプリストの乱を起こした。
- ② イギリスの工場法は、児童労働を奨励した。
- ③ スペインで、チャーティスト運動が起こった。
- ④ ビスマルクは、労働者の社会保険(社会保障)制度を整備した。

問 8 下線部⑧に関連して、世界史上の革命について述べた文として誤っているものを、次の①～④のうちから一つ選べ。 8

- ① ピューリタン革命(清教徒革命)では、チャールズ1世が処刑された。
- ② 『コモン=センス』が出版されると、アメリカ独立革命の動きが速まった。
- ③ メキシコ革命で、サパタは農民の指導者として闘った。
- ④ ロシア二月(三月)革命によって、ブルボン朝が倒れた。

## 世界史 A

C ロシアでは歴史上、時代の転換期に最高権力者がイニシアティヴをとり、政権の基盤となっている構造そのものを改革することが繰り返されてきた。その例の一つとして、皇帝アレクサンドル2世による「大改革」がある。彼は⑨クリミア戦争に敗北した後、をほのめかず演説を行い、「遅かれ早かれ、我々はこの方向へ進まねばならない」とモスクワの貴族たちの前で語った。後にこの発言は実行され、アレクサンドル2世の代表的な事績として歴史上評価されている。また、20世紀の終わりに⑩ゴルバチョフがソ連の改革を行った際、「大改革」は歴史の先例として参考にされた。

問 9 下線部⑨の戦争に参加した国の名として誤っているものを、次の①～④のうちから一つ選べ。

- ① オスマン帝国
- ② イギリス
- ③ フランス
- ④ アメリカ合衆国

問10 文章中の空欄  に入れる語句として正しいものを、次の①～④のうちから一つ選べ。

- ① 農奴解放
- ② 国会開設
- ③ ポーランド分割
- ④ シベリア鉄道の建設

問11 下線部⑩に関連して、世界各国の指導者の活動やその結果について述べた次の文 a ~ c が、年代の古いものから順に正しく配列されているものを、下の①~⑥のうちから一つ選べ。 11

- a 中国の周恩来首相とインドのネルー首相が会談し、平和五原則を発表した。
- b 韓国の金大中大統領が、北朝鮮を訪問した。
- c 先進国首脳会議(サミット)が初めて開催された。

- ① a → b → c
- ② a → c → b
- ③ b → a → c
- ④ b → c → a
- ⑤ c → a → b
- ⑥ c → b → a



## 世界史A

**第2問** 社会の変革を目指す思想や運動，並びに社会主義国家について述べた次の文章A～Cを読み，下の問い(問1～11)に答えよ。(配点 34)

A 19世紀のヨーロッパでは，資本主義社会の弊害を批判する①社会主義思想が広まっていった。1864年には，国際的な労働者団体である②第1インターナショナルが結成された。1871年春に樹立された③パリ＝コミューンは，労働者・民衆による自治政府であり，約2か月で鎮圧されたが，その後の社会主義のあり方に大きな影響を及ぼした。

問1 下線部①の思想に関連して，マルクスの事績として正しいものを，次の①～④のうちから一つ選べ。 12

- ① 『種の起源』を著した。
- ② カルボナリと呼ばれる結社をつくった。
- ③ 『社会契約論』を著した。
- ④ エンゲルスとともに『共産党宣言』を著した。

問2 下線部②に関連して，19世紀後半に設立された国際組織として正しいものを，次の①～④のうちから一つ選べ。 13

- ① ユネスコ(UNESCO)
- ② 世界保健機関(WHO)
- ③ 国際赤十字(国際赤十字社)
- ④ 国際連盟

問 3 下線部③について述べた次の文 a と b の正誤の組合せとして正しいものを、  
下の①～④のうちから一つ選べ。 14

- a イギリスとの講和条約への反発が、成立の一因であった。
- b 鎮圧された後、フランスで第二帝政が成立した。

- ① a — 正      b — 正
- ② a — 正      b — 誤
- ③ a — 誤      b — 正
- ④ a — 誤      b — 誤

## 世界史A

B 近代中国における最大の民衆反乱は④太平天国の運動である。その指導者である洪秀全は、彼独自に解釈したキリスト教を基に拝上帝教を創始し、平等を旨とする理想国家を作ろうとした。拝上帝教は、虐げられた下層の人々に受け入れられ、巨大な運動となっていった。しかし、洪秀全が掲げた⑤政策のうちで成果を挙げたものは少なく、しだいに勢力を弱め、⑥1864年に至って反乱はほぼ鎮圧された。拝上帝教は農民の平等意識をかき立て支持を得たが、その一方、西洋人によるキリスト教の布教活動は社会の強い反感を買い、世紀の転換期には大規模な排外運動である⑦義和団事件が発生した。

問 4 下線部④について述べた文として誤っているものを、次の①～④のうちから一つ選べ。 15

- ① 太平天国は、扶清滅洋を唱えた。
- ② 太平天国鎮圧のために、外国人を指揮者とする軍隊が組織された。
- ③ 太平天国は、南京(天京)を首都と定めた。
- ④ 太平天国の鎮圧を指導した清朝官僚は、洋務運動を推進した。

問 5 下線部⑤に関連して、中国で行われた政策について述べた次の文 a と b の正誤の組合せとして正しいものを、下の①～④のうちから一つ選べ。 16

- a 清朝によって天朝田畝制度が実施された。
- b 改革開放政策の一環として人民公社が組織された。

- ① a — 正      b — 正
- ② a — 正      b — 誤
- ③ a — 誤      b — 正
- ④ a — 誤      b — 誤

問 6 下線部⑥の年より後に起こった出来事について述べた文として最も適当なものを、次の①～④のうちから一つ選べ。 17

- ① 黄埔条約が結ばれた。
- ② イギリスのアマーストが中国に派遣された。
- ③ ユエ条約が結ばれた。
- ④ ペリーが浦賀に来航した。

問 7 下線部⑦について述べた次の文章中の空欄 ア と イ に入れる語の組合せとして正しいものを、下の①～④のうちから一つ選べ。 18

義和団事件をきっかけに、列強諸国は中国に出兵した。事件終結後も ア は撤兵せず、中国東北部に駐留を続けた。これを脅威とみなした二つの国によって締結されたのが イ である。

- |             |        |
|-------------|--------|
| ① アーアメリカ合衆国 | イー英露協商 |
| ② アーロシア     | イー日英同盟 |
| ③ アードイツ     | イー日英同盟 |
| ④ アー日本      | イー英露協商 |

## 世界史 A

C 1917年にロシア革命が起こり、内戦や干渉戦争を経て、1922年には⑧ソヴェエト社会主義共和国連邦(ソ連)が成立した。1941年にはソ連征服を目指すナチス＝ドイツとの間で⑨独ソ戦が勃発した。ソ連は、この独ソ戦に勝利し、第二次世界大戦後、東欧諸国のほとんどを⑩社会主義陣営に組み込んだ。こうして戦後の国際社会は、ソ連を中心とする社会主義陣営とアメリカ合衆国を中心とする自由主義陣営とに二分され、両陣営が対立した。この米ソ対立を中心とした⑪「冷たい戦争(冷戦)」は、東欧の民主化運動のさなか終焉を迎え、ついに1991年にはソ連が解体されるに至った。

問 8 下線部⑧の国について述べた文として正しいものを、次の①～④のうちから一つ選べ。 19

- ① アメリカ合衆国とポーツマス条約を結んだ。
- ② ヨーロッパ経済共同体(EEC)を設立した。
- ③ ベルリン封鎖を行った。
- ④ マーシャル＝プランを発表した。

問 9 下線部⑨に関連して、次の年表に示した a～d の時期のうち、独ソ不可侵条約が結ばれた時期として正しいものを、下の①～④のうちから一つ選べ。

20

a	1934 年 9 月	ソ連、国際連盟加入
b	1936 年 12 月	スターリン憲法採択
c	1939 年 9 月	第二次世界大戦勃発
d	1941 年 6 月	独ソ戦勃発

- ① a                      ② b                      ③ c                      ④ d

問 10 下線部⑩に関連して、ワルシャワ条約機構に加盟していた国の名として正しいものを、次の①～④のうちから一つ選べ。

21

- ① ドイツ民主共和国(東ドイツ)  
 ② スイス  
 ③ フィンランド  
 ④ オーストリア

問 11 下線部⑪の時代に起こった出来事について述べた文として誤っているものを、次の①～④のうちから一つ選べ。


22

- ① アメリカ合衆国のニクソン大統領が、中華人民共和国を訪問した。  
 ② 米ソ間で、中距離核戦力(INF)全廃条約が調印された。  
 ③ アメリカ合衆国のケネディ大統領が暗殺された。  
 ④ アメリカ合衆国で、チェルノブイリ原発事故が起こった。


## 世界史A

**第3問** 人間は、より良い生活を求めて様々な技術や資源を開発し、それらを利用してきた。技術や資源開発の歴史について述べた次の文章A～Cを読み、下の問い(問1～11)に答えよ。(配点 33)

A ①インドの歴史において、古来ヴァルナ制度の最上位に自らを置くバラモンは、専ら思索や思弁を重んじ、②道具を用いる技術を軽んじる傾向があった。手工業者が低いカーストに位置づけられたのは、その一つの表れである。しかしそのような中でも、インドの職人が作り出す工芸品は高い技術を維持し、特に東南アジアやヨーロッパで愛好され、広く流通した。③イギリス植民地時代、独立運動の指導者ガンディーは、糸車を運動のシンボルに採用するなど、伝統的手工業への評価を促した(下図参照)。彼は伝統的技術を評価する一方で、産業革命以降の④近代的科学技術は、人間から自立を奪い、人類を不幸にすると主張した。このような考え方は、近代的科学技術への痛烈な批判であった。



図a 糸車で糸を紡ぐインド国民会議派の運動員



図b 中心に糸車が描かれたインド国民会議派の旗(1931年)

問1 下線部①について述べた文として正しいものを、次の①～④のうちから一つ選べ。 23

- ① ヒンドゥー教は、ユダヤ教から発展した。
- ② ムガル帝国のアウラングゼーブ帝は、人頭税(ジズヤ)を復活した。
- ③ カルカッタ(コルカタ)は、ポルトガルの植民地になった。
- ④ ローラット法は、第二次世界大戦後に施行された。

問 2 下線部②に関連して、道具や技術について述べた文として誤っているものを、次の①～④のうちから一つ選べ。 24

- ① 古代ギリシアでは、楔形文字が発明された。
- ② 殷では、青銅器が使用された。
- ③ インダス文明では、排水施設が作られた。
- ④ ティグリス・ユーフラテス両川の流域では、<sup>かんがい</sup>灌漑農業が行われた。

問 3 下線部③に関連して、インドとイギリスの関係について述べた次の文中の空欄 ア と イ に入れる語の組合せとして最も適当なものを、下の①～④のうちから一つ選べ。 25

インドはイギリスに ア を輸出していたが、イギリス産業革命の進展とともに原料である イ の輸出が拡大して ア を輸入するようになったため、伝統的手工業は大きな打撃を受けた。

- ① アー生 糸    イー絹織物
- ② アー絹織物    イー生 糸
- ③ アー綿 花    イー綿 布
- ④ アー綿 布    イー綿 花


問 4 下線部④に関連して、18世紀の発明として正しいものを、次の①～④のうちから一つ選べ。 26

- ① 飛び梭(飛び杼)
- ② 羅針盤
- ③ 火 薬
- ④ 飛行機



## 世界史 A

B 技術は人類を豊かにする一方で、⑤戦争や国威発揚にも用いられてきた。とりわけ、19世紀後半になると欧米諸国は、万国博覧会などにおいて自国の科学・技術を誇示するようになった。1889年のパリ万博で登場したエッフェル塔は、⑥フランスの鉄鋼生産力や建築技術の高さの象徴であった。4年後にアメリカ合衆国で開催されたシカゴ万博では、⑦アメリカの技術発展の成果が展示されたほか、パリ万博に対抗し巨大観覧車が設営された(下図参照)。科学・技術により国の威信を誇示する傾向は第二次世界大戦後も強まり、⑧核開発や宇宙開発もその手段の一つとなった。



シカゴ万博の巨大観覧車

問 5 下線部⑤に関連して、軍事技術や兵器の歴史について述べた文として最も適当なものを、次の①～④のうちから一つ選べ。 27

- ① イギリスは第一次世界大戦で、無制限潜水艦作戦を行った。
- ② 機関銃は、第二次世界大戦で初めて用いられた。
- ③ アメリカ軍は、ベトナム戦争で枯葉剤を用いた。
- ④ ヨーロッパで火砲の使用が広まった結果、騎士が台頭した。

問 6 下線部⑥の国の 19・20 世紀における対外関係について述べた文として最も適切なものを、次の①～④のうちから一つ選べ。 28

- ① アメリカ独立戦争に参戦した。
- ② 英仏協商を結んだ。
- ③ 清仏戦争に敗北した。
- ④ 3C 政策を推進した。

問 7 下線部⑦に関連して、アメリカ合衆国における技術の発展や普及について述べた次の文 a～c が、年代の古いものから順に正しく配列されているものを、下の①～⑥のうちから一つ選べ。 29

- a 電気冷蔵庫が普及した。
- b フルトンが蒸気船を実用化した。
- c ベルが電話を発明した。

- ① a → b → c
- ② a → c → b
- ③ b → a → c
- ④ b → c → a
- ⑤ c → a → b
- ⑥ c → b → a

問 8 下線部⑧について述べた文として誤っているものを、次の①～④のうちから一つ選べ。 30

- ① ソヴィエト連邦は、アメリカ合衆国に先行して、人工衛星の打ち上げに成功した。
- ② アメリカ合衆国のアポロ 11 号が、月面着陸に成功した。
- ③ アメリカ合衆国は、ピキニ環礁で水爆実験を行った。
- ④ 冷戦終結後、フランスは核開発を開始した。

## 世界史 A

C 石油資源の発見は、産油国に多くの富と同時に紛争の火種をもたらした。ペルシア湾を挟んで⑨イランの対岸に位置する現在のアラブ首長国連邦にあたる地域の主要な産業は、真珠産業であったが、日本の養殖真珠の開発によって、世界市場を失った。しかし、20世紀後半に大規模な油田が発見され、⑩二度の石油危機(オイル=ショック)により原油価格が高騰したことで、この国は豊富なオイル=マネーを手に入れた。また⑪エジプトやパキスタンなどの国々から多くの外国人労働者を受け入れ、同国の経済は急成長を遂げることとなった。一方、同じく産油国であるアルジェリアで、長い間不安定な社会情勢が続いた原因の一つには、豊かな石油や天然ガスのもたらす富の再配分に公平さが欠けていたことが挙げられる。

問 9 下線部⑨の地域の歴史について述べた次の文 a と b の正誤の組合せとして正しいものを、下の①～④のうちから一つ選べ。 31

- a ササン朝ペルシアの工芸品は、日本にも伝わった。
- b サファヴィー朝は、イスラーム教スンナ派を国教とした。

- ① a — 正      b — 正
- ② a — 正      b — 誤
- ③ a — 誤      b — 正
- ④ a — 誤      b — 誤

世界史 A

問10 下線部⑩の危機について、次の年表に示した a～d の時期のうち、第1次石油危機(第1次オイル=ショック)が発生した時期として正しいものを、下の①～④のうちから一つ選べ。 32

1951年	イラン、石油国有化宣言
<span style="border: 1px solid black; padding: 2px;">a</span>	
1967年	第3次中東戦争勃発 <sup>ほつぱつ</sup>
<span style="border: 1px solid black; padding: 2px;">b</span>	
1973年	第4次中東戦争勃発
<span style="border: 1px solid black; padding: 2px;">c</span>	
1979年	イラン=イスラーム革命
<span style="border: 1px solid black; padding: 2px;">d</span>	
1991年	湾岸戦争勃発

- ① a                      ② b                      ③ c                      ④ d

問11 下線部⑪の国で20世紀に起こった事件について述べた文として正しいものを、次の①～④のうちから一つ選べ。 33

- ① ワフド党は、フランスからの独立を主張した。
- ② 王政がエジプト革命で倒れ、共和国が成立した。
- ③ サダト大統領は、スエズ運河の国有化を宣言した。
- ④ 第1次中東戦争で、エジプトはイスラエルにシナイ半島を奪われた。