

平成30年学力検査

全 日 制 課 程 B

第 3 時 限 問 題

社 会

検査時間 11時20分から12時05分まで

「解答始め」という指示があるまで、次の注意をよく読みなさい。

注 意

- (1) 解答用紙は、この問題用紙とは別になっています。
- (2) 「解答始め」という指示で、すぐ受検番号をこの表紙と解答用紙の決められた欄に書きなさい。
- (3) 問題は(1)ページから(10)ページまであります。表紙の裏と(10)ページの次からは白紙になっています。受検番号を記入したあと、問題の各ページを確かめ、不備のある場合は手をあげて申し出なさい。
- (4) 答えは全て解答用紙の決められた欄に書きなさい。
- (5) 印刷の文字が不鮮明なときは、手をあげて質問してもよろしい。
- (6) 「解答やめ」という指示で、書くことをやめ、解答用紙と問題用紙を別々にして机の上に置きなさい。

受検番号	第	番
------	---	---

社 会

1 次の I の表の①, ②, ③は, それぞれ法令の一部を現代語で要約したものであり, II の表は, 世界のできごとを年代の古い順に並べたものである。あとの(1)から(3)までの問いに答えなさい。

I 法令の一部を現代語で要約したもの

①	諸国の守護の職務は, 京都の御所の警備を御家人に催促したり, 謀反や殺人などの犯罪を取りしまったりすることである。
②	城を修理するときは, 必ず幕府に届けること。新たに城を築くことは厳しく禁止する。
③	口分田の支給は, 男に2段, 女はその3分の1を減らし支給する。5歳以下の者には支給しない。

II 世界のできごと

第1回十字軍が派遣された。
↕ A
マルコ=ポーロが元を訪れた。
↕ B
バスコ=ダ=ガマがインドに到達した。
↕ C
「アメリカ独立宣言」が発表された。
↕ D
ドイツ帝国が成立した。

(1) 次の文は, I の表中の①の法令が定められた年代とほぼ同じ時期の農村のようすについて述べたものである。文中の にあてはまる文として最も適当なものを, 下のアからエまでの中から選んで, そのかな符号を書きなさい。

農村では, ようになり, 農民の生活が変化した。





- ア 備中ぐわ, 千歯こき, 唐箕などの農具が用いられる
- イ 米の裏作として麦などをつくる二毛作が行われる
- ウ 土地の所有者が地価の3%を地租として現金で納める
- エ 全国統一の基準で定めた石高に応じて年貢を納める

(2) I の表中の②の法令が最初に定められた年代を含む時期として最も適当なものを, II の表中の A, B, C, Dの中から選んで, その符号を書きなさい。

(3) 次の文は, I の表中の③の法令で定められた制度が実施されていたころとほぼ同じ時期の文化について述べたものである。文中の () にあてはまる最も適当なことばを, 漢字3字で書きなさい。

国ごとに, 自然や産物, 伝説などを記した「風土記」がつくられたほか, かきものひとまる 柿本人麻呂や おおもの 大伴家持をはじめ, 天皇や貴族, 防人や農民などの和歌を集めた「()」がまとめられた。

2 次のI, II, III, IVの絵や写真をみて、あとの(1)から(4)までの問いに答えなさい。



(1) 次の文章は、生徒と先生がI, IIの絵について話し合ったときの会話の一部である。文章中の(①), (②), (③)にあてはまることばの組み合わせとして最も適当なものを、下のアからクまでの中から選んで、そのかな符号を書きなさい。

なお、文章中の3か所の(②)には、同じことばがあてはまる。

生徒： 2枚の絵は何かをつくっているようすが描かれているのですか。

先生： いずれも、布をつくっているようすを描いた19世紀の絵です。当時の日本では、Iの絵のような(①)という生産方法が始まったところでした。一方、(②)では、すでにIIの絵のような機械による大量生産が行われていました。

生徒： (②)は、世界で最初に産業革命が始まって、工業化が進むのですよね。

先生： そうです。その結果、19世紀の(②)は、「世界の工場」とよばれるようになりました。しかし、貧富の差や労働問題が生じたために、マルクスは、(③)経済を批判するようになりました。

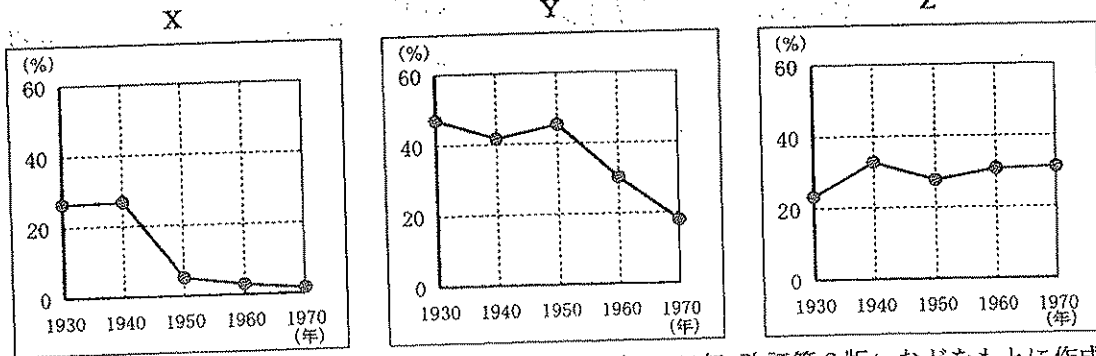
- | | | | |
|---|------------|---------|--------|
| ア | ① 工場制手工業, | ② イギリス, | ③ 資本主義 |
| イ | ① 工場制手工業, | ② イギリス, | ③ 社会主義 |
| ウ | ① 工場制手工業, | ② フランス, | ③ 資本主義 |
| エ | ① 工場制手工業, | ② フランス, | ③ 社会主義 |
| オ | ① 問屋制家内工業, | ② イギリス, | ③ 資本主義 |
| カ | ① 問屋制家内工業, | ② イギリス, | ③ 社会主義 |
| キ | ① 問屋制家内工業, | ② フランス, | ③ 資本主義 |
| ク | ① 問屋制家内工業, | ② フランス, | ③ 社会主義 |

- (2) IIIの絵に描かれている官営模範工場が開業した年代とほぼ同じ時期の日本のようすについて述べた文として最も適当なものを、次のアからエまでのの中から選んで、そのかな符号を書きなさい。
- ア 世の中を風刺する狂歌や川柳が、町人のあいだで流行するとともに、俳諧では、小林一茶が農民などを題材とした句をよんだ。
- イ 活版印刷の普及により発行されるようになった新聞や雑誌などをとおして、中江兆民らが欧米の近代思想を紹介した。
- ウ 東京や大阪でラジオ放送が始まるとともに、文庫本が初めて出版されるなど、メディアが発達する中で、文化の大衆化が進んだ。
- エ 所得倍増をスローガンとする経済政策により生活が豊かになり、テレビ、洗濯機、冷蔵庫などの家庭電化製品が普及した。

(3) 次のアからエまでの文は、IIIの絵に描かれている官営模範工場が開業した年代以降の日本の政治に関して述べたものである。アからエまでの文を年代の古い順に並べたとき、2番目と3番目になるもののかな符号をそれぞれ書きなさい。

- ア 大阪で国会期成同盟が結成された。 イ 納税額による選挙権の制限が撤廃された。
- ウ 日本で初めて女性の国会議員が誕生した。 エ 政党が解散して大政翼賛会にまとめられた。

(4) 次のX、Y、Zのグラフは、IVの写真が撮影された時期以降の日本の産業に関する指標の推移を10年ごとに示したものであり、下のA、B、Cの文は、そのいずれかについて述べたものである。X、Y、ZのグラフとA、B、Cの文の組み合わせとして最も適当なものを、あとのアからかまでのの中から選んで、そのかな符号を書きなさい。



(「数字でみる日本の100年 改訂第6版」などをもとに作成)

- A 全ての就業者のうち、農業就業者が占める割合の推移を示している。
- B 全ての生産額のうち、鉱工業の生産額が占める割合の推移を示している。
- C 全ての農家のうち、小作農家が占める割合の推移を示している。

- ア X : A, Y : B, Z : C イ X : A, Y : C, Z : B
- ウ X : B, Y : A, Z : C エ X : B, Y : C, Z : A
- オ X : C, Y : A, Z : B カ X : C, Y : B, Z : A

3 次の表は、東北地方の6県の県内総生産、面積、海岸線延長、林業産出額を示したものである。
あとの(1)から(4)までの問いに答えなさい。

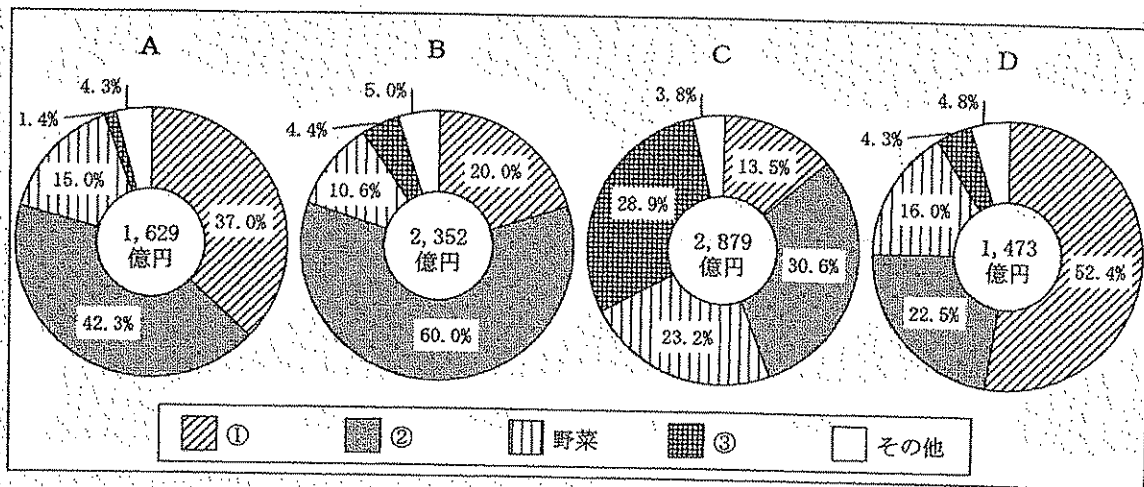
なお、表中のA、B、C、Dは、青森県、秋田県、岩手県、宮城県の内いずれかである。

県名	県内総生産 (億円)	面積 (km ²)	海岸線延長 (m)	林業産出額 (千万円)
A	88 166	7 282	826 347	796
福島県	71 746	13 784	166 550	933
B	45 162	15 275	710 780	2 325
C	44 115	9 646	796 567	1 018
山形県	38 304	9 323	134 557	835
D	34 773	11 638	264 220	1 766

(「データでみる県勢 2017年版」などによる)

(1) 次のグラフは、表中のA、B、C、Dの農業産出額とその品目別割合を順に示したものである。
グラフの①、②、③にあてはまる品目の組み合わせとして最も適当なものを、下のアからカまで
の中から選んで、そのかな符号を書きなさい。

なお、グラフの①、②、③は、果実、米、畜産の内いずれかである。



(「データでみる県勢 2017年版」をもとに作成)


- ア ① 果実, ② 米, ③ 畜産 イ ① 果実, ② 畜産, ③ 米
 ウ ① 米, ② 果実, ③ 畜産 エ ① 米, ② 畜産, ③ 果実
 オ ① 畜産, ② 果実, ③ 米 カ ① 畜産, ② 米, ③ 果実

(2) 表中のAにあたる地域で起こったできごとについて述べた文として最も適当なものを、次のアからエまでのの中から選んで、そのかな符号を書きなさい。


- ア 津軽半島の十三湊^{としまきなと}を中心に活動した豪族が、アイヌ民族との交易を始めた。
- イ 金の産出により富を築いた奥州藤原氏^{あきむら}が、本拠地の平泉に中尊寺金色堂を建てた。
- ウ 奈良時代に、朝廷が東北地方の政治・軍事の拠点とするため、多賀城を築いた。
- エ 旧幕府軍が起こした戊辰戦争において、会津藩が新政府軍に対して激しく抵抗した。

(3) 次のI、IIの写真は、表中のA、B、C、Dのうちの2県で行われる祭りのようすを写したものであり、下の文章は、それぞれの祭りについて述べたものである。I、IIの写真に写っている祭りが行われる県の組み合わせとして最も適当なものを、あとのアからシまでのの中から選んで、そのかな符号を書きなさい。

I



II



「竿燈まつり^{かんとう}」は、提灯を米俵に見立てて、米の豊作を祈る祭りです。農作物の病害虫を防いだり、病を払ったりする農家の行事が起源といわれています。

「ねぶた祭」は、江戸時代に、人々が灯籠を持って歩き回ったことが始まりとされます。農作業による疲れと睡魔を除く「眠り流し」の行事が起源といわれています。

- | | | | | | |
|---|---------------|---|---------------|---|---------------|
| ア | I : A, II : B | イ | I : A, II : C | ウ | I : A, II : D |
| エ | I : B, II : A | オ | I : B, II : C | カ | I : B, II : D |
| キ | I : C, II : A | ク | I : C, II : B | ケ | I : C, II : D |
| コ | I : D, II : A | サ | I : D, II : B | シ | I : D, II : C |

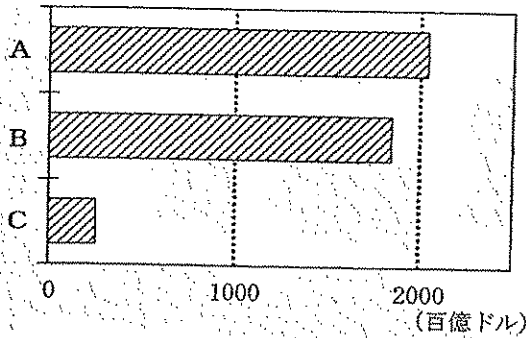
(4) 次の文章は、東北地方の気候について述べたものである。文章中の にあてはまる文を、「北東」、「やませ」の二つのことばを用いて、10字以上15字以下で書きなさい。

東北地方の太平洋側は、寒流である親潮の影響を受け、 ことがある。これにより、夏でも気温が上がらない日が続く、農作物などに影響を与える冷害をもたらすことがある。

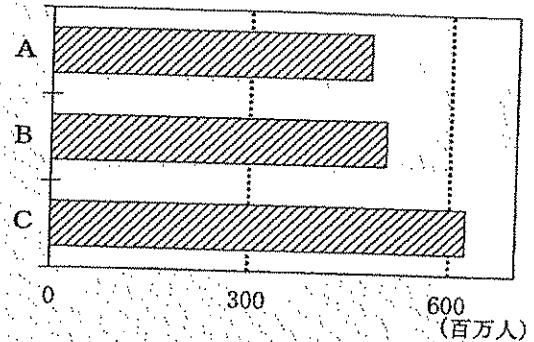
4 次のⅠ、Ⅱ、Ⅲのグラフは、A、B、Cの三つの地域統合の加盟国の国内総生産、人口、面積の合計をそれぞれ示したものである。あとの(1)、(2)の問いに答えなさい。

なお、グラフのA、B、Cは、東南アジア諸国連合(ASEAN)、北米自由貿易協定(NAFTA)、ヨーロッパ連合(EU)のいずれかである。

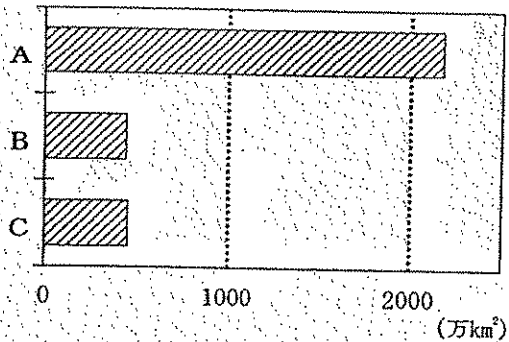
Ⅰ 国内総生産の合計



Ⅱ 人口の合計



Ⅲ 面積の合計



(「世界国勢図会 2016/17年版」をもとに作成)

(1) A、B、Cの加盟国について述べた文として適当なものを、次のアからカまでの中からそれぞれ一つずつ選んで、そのかな符号を書きなさい。

ア イギリスからの移民の子孫が人口の多くを占めているが、近年は、先住民族のマオリの文化を守る動きが活発になっている。

イ 鉄鉱石などの鉱産資源が豊富であることから資源開発と工業化に力を入れる一方、アマゾン川流域では、伝統的な焼畑農業も行われている。

ウ 自然環境と社会的な条件に対応した適地適作による農業がさかんである一方、西部のシリコンバレーを中心に先端技術産業もさかんである。

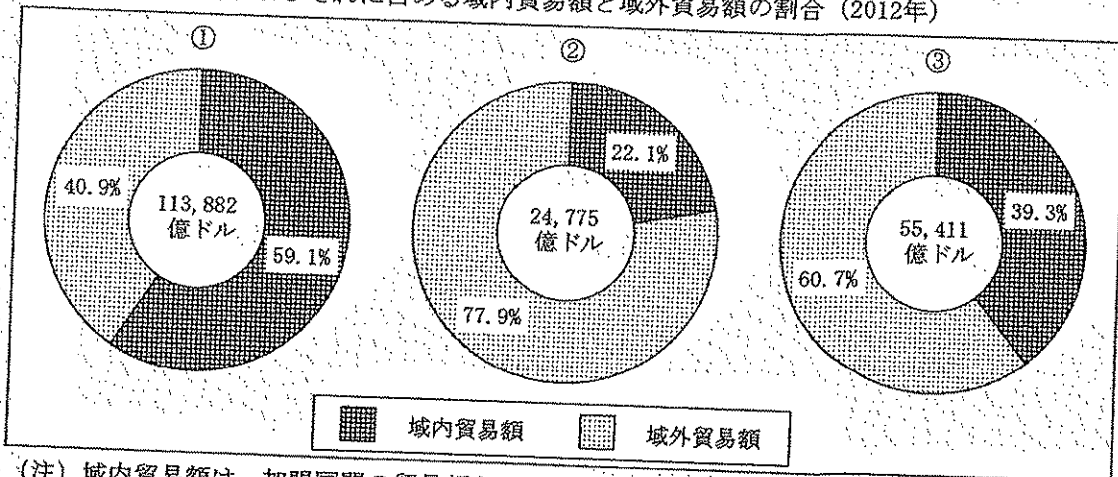
エ 古代文明の遺跡など観光資源が豊富であり、ナイル川流域の開発によって、綿花など農作物の生産もさかんである。

オ 大西洋を西に進みアメリカ大陸付近に到達したコロンブスを援助し、その後、アメリカ大陸に多くの植民地を獲得した。

カ 冷たい戦争(冷戦)の時代に南北に分かれ、大国の介入を受けた戦争が起こったが、その後、南北を統一した社会主義国が成立した。

(2) 次のXのグラフは、A、B、Cそれぞれの加盟国の貿易額の合計およびそれに占める域内貿易額と域外貿易額の割合を示しており、下のYのグラフは、A、B、Cそれぞれの加盟国と日本との貿易額の合計の推移を示したものである。X、Yの①、②、③は、A、B、Cのいずれかであり、同じ番号はそれぞれ同じ地域統合を示している。①、②、③とA、B、Cの組み合わせとして最も適当なものを、あとのアからカまでの中から選んで、そのかな符号を書きなさい。

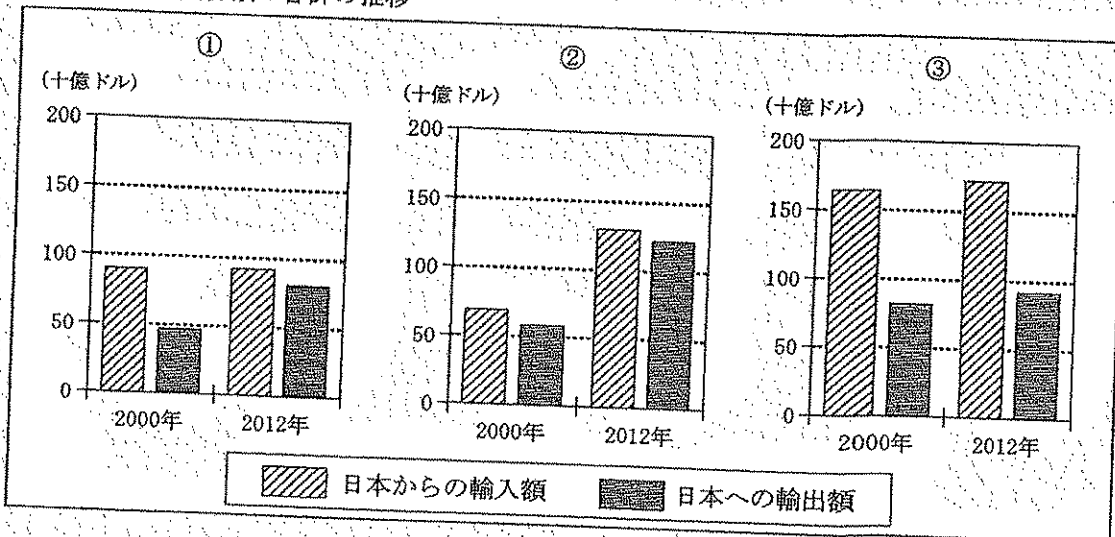
X 貿易額の合計およびそれに占める域内貿易額と域外貿易額の割合 (2012年)



(注) 域内貿易額は、加盟国間の貿易額を示す。
域外貿易額は、加盟国以外との貿易額を示す。

(「世界国勢図会 2016/17年版」などをもとに作成)

Y 日本との貿易額の合計の推移



(「通商白書 2014」をもとに作成)

- ア ①:A, ②:B, ③:C
 ウ ①:B, ②:A, ③:C
 オ ①:C, ②:A, ③:B

- イ ①:A, ②:C, ③:B
 エ ①:B, ②:C, ③:A
 カ ①:C, ②:B, ③:A

5 次の文章を読んで、あとの(1)から(4)までの問いに答えなさい。

近年、日本から毎年約1,000万人以上の人々が海外に出かけており、海外から日本を訪れる人も増えている。世界的にも、国境を越えて人、もの、お金、情報などが自由に行き交うグローバル化^①が進んでいる。

そうしたなか、地球規模での環境問題の解決に向けた取組や、先進国と発展途上国との経済格差の是正が、国際社会の大きな課題となっている。^②
^③
^④

(1) グローバル化に関して、次のIの表は、中国、韓国、アメリカ、香港、タイ、台湾を訪れた日本人旅行者数の推移を示したものである。IIの表は、それらの国・地域から日本を訪れた外国人旅行者数の推移を示したものである。IやIIの表について述べた文として最も適当なものを、下のアからエまでのの中から選んで、そのかな符号を書きなさい。

I 海外を訪れた日本人旅行者数の推移 (単位: 千人)

国・地域名	2009年	2010年	2011年	2012年	2013年	2014年
中国	3 317	3 731	3 658	3 518	2 878	2 718
韓国	3 053	3 023	3 289	3 519	2 748	2 280
アメリカ	2 918	3 386	3 250	3 698	3 730	3 579
香港	1 204	1 317	1 284	1 255	1 057	1 079
タイ	1 004	980	1 103	1 341	1 516	1 265
台湾	1 001	1 053	1 243	1 393	1 381	1 635

II 日本を訪れた外国人旅行者数の推移 (単位: 千人)

国・地域名	2009年	2010年	2011年	2012年	2013年	2014年
中国	1 006	1 413	1 043	1 425	1 314	2 409
韓国	1 587	2 440	1 658	2 043	2 456	2 755
アメリカ	700	727	566	717	799	892
香港	450	509	365	482	746	926
タイ	178	215	145	261	454	658
台湾	1 024	1 268	994	1 466	2 211	2 830

(I, IIともに「観光白書 平成28年版」をもとに作成)

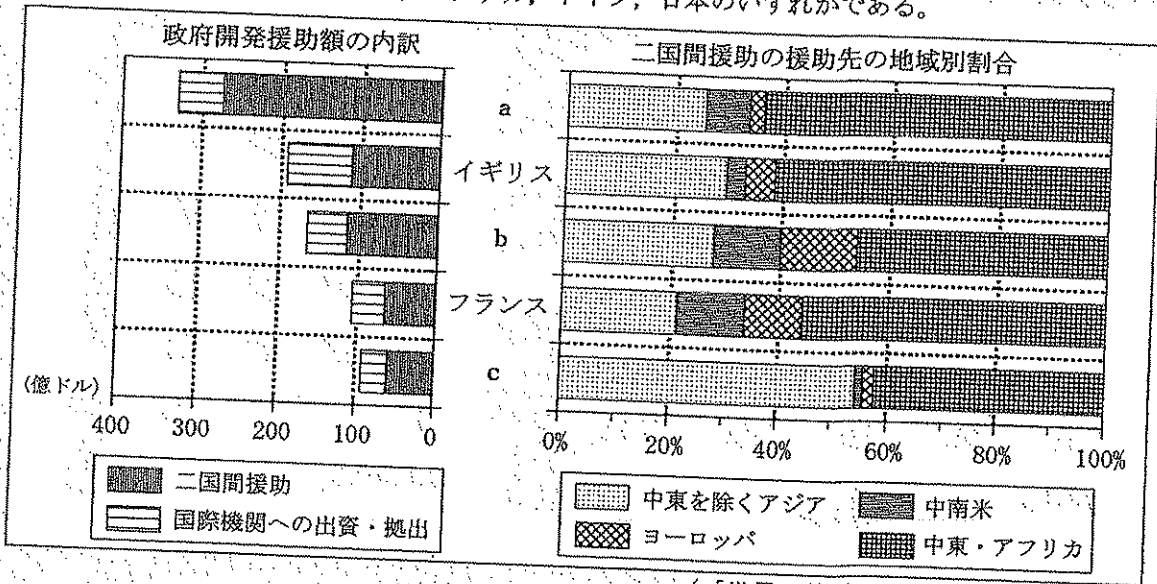
- ア アメリカを訪れた日本人旅行者数とアメリカから日本を訪れた外国人旅行者数は、いずれも2009年から2014年までの間、毎年増え続けている。
- イ 韓国から日本を訪れた外国人旅行者数は、2009年から2014年までのいずれの年においても、それぞれの国・地域から日本を訪れた外国人旅行者数の中で最も多い。
- ウ 2014年にそれぞれの国・地域を訪れた日本人旅行者数は、いずれも2009年にその国・地域を訪れた日本人旅行者数より少ない。
- エ 2014年にそれぞれの国・地域から日本を訪れた外国人旅行者数は、いずれも2009年から2014年までの6年間で最も多い。

(2) 環境問題の解決に向けた取組について述べた文として最も適当なものを、次のアからエまでの中から選んで、そのかな符号を書きなさい。

- ア 大規模な開発のあと、環境への影響を評価する制度のことを環境アセスメントという。
- イ 高度経済成長期に、日本では地球環境問題に対応するための環境基本法が制定された。
- ウ 地球温暖化防止京都会議において、温室効果ガスの削減目標が話し合われた。
- エ 地球サミットにおいて、野生動物の保護に関するワシントン条約が採択された。

(3) 発展途上国への援助に関連して、次のグラフは、おもな先進国の政府開発援助額の内訳と二国間援助の援助先の地域別割合を示したものである。グラフの a, b, c にあてはまる国名の組み合わせとして最も適当なものを、下のアからカまでの中から選んで、そのかな符号を書きなさい。

なお、グラフの a, b, c は、アメリカ、ドイツ、日本のいずれかである。



(「世界の統計 2017」をもとに作成)

- ア a アメリカ, b ドイツ, c 日本
- イ a アメリカ, b 日本, c ドイツ
- ウ a ドイツ, b アメリカ, c 日本
- エ a ドイツ, b 日本, c アメリカ
- オ a 日本, b アメリカ, c ドイツ
- カ a 日本, b ドイツ, c アメリカ

(4) 次の文章は、国際社会の大きな課題について述べたものである。文章中の () にあてはまる最も適当なことばを、漢字4字で書きなさい。

なお、文章中の3か所の () には、同じことばがあてはまる。

従来の () は、国家が自国の国土と国民を守るという「国家の () 」という考え方が中心であった。しかし、近年は、国だけでなく一人一人の人間に着目し、その生命と尊厳を大切にしようとする「人間の () 」という考え方も広まりつつある。

6 次の表は、第24回参議院議員通常選挙（2016年7月）における中部地方9県と全国の全有権者投票率と18歳有権者投票率を示したものであり、下の文章は、生徒が表について話し合ったときの会話の一部である。あとの(1)から(3)までの問いに答えなさい。

なお、表中のA, B, Cは、愛知県、岐阜県、静岡県のいずれかである。

県名	全有権者投票率(%)	18歳有権者投票率(%)	県名	全有権者投票率(%)	18歳有権者投票率(%)
長野県	62.86	51.92	福井県	56.50	48.10
新潟県	59.77	47.93	B	55.76	48.70
山梨県	58.83	54.16	富山県	55.61	47.32
A	57.74	52.90	C	55.41	58.20
石川県	56.88	50.32	全国	54.70	51.28

(総務省ホームページをもとに作成)

aさん：選挙権年齢の引き下げで話題になった選挙だけど、どの県も投票率は高くないね。
 bさん：でも、愛知県は、18歳有権者投票率が全有権者投票率より高いよ。
 aさん：どの県も全有権者投票率は全国の全有権者投票率より高いけど、18歳有権者投票率が全国の18歳有権者投票率を上回っているのは、愛知県のほかには、海に面していない3県だけだよな。
 bさん：そうだね。若い人が投票に行かなければ、幅広い世代の人たちの考えが政権の運営に反映されにくくなってしまふのよね。
 aさん：憲法改正への関心も高まっているから、もっと政治のことを知る必要があるね。

(1) 表中のA, B, Cにあてはまる県名の組み合わせとして最も適当なものを、次のアからカまでの中から選んで、そのかな符号を書きなさい。

- ア A 愛知県, B 岐阜県, C 静岡県 イ A 愛知県, B 静岡県, C 岐阜県
 ウ A 岐阜県, B 愛知県, C 静岡県 エ A 岐阜県, B 静岡県, C 愛知県
 オ A 静岡県, B 愛知県, C 岐阜県 カ A 静岡県, B 岐阜県, C 愛知県

(2) 次の文は、政権に関して述べたものである。文中の()にあてはまる最も適当なことばを、漢字2字で書きなさい。

内閣を組織して政権をになう政党を()といい、内閣が複数の政党によって組織されることもある。

(3) 憲法改正について述べた文として最も適当なものを、次のアからエまでの中から選んで、そのかな符号を書きなさい。

- ア 憲法改正は、衆議院と参議院それぞれの総議員の3分の2以上の賛成で国会が発議する。
 イ 憲法改正には、国会の発議後の国民投票で、有効投票の3分の2以上の賛成が必要である。
 ウ 憲法改正は、国民の承認を得たあと、天皇が内閣総理大臣の名において公布する。
 エ 憲法改正の原案などについて話し合うため、内閣の中に憲法審査会が設置されている。

(問題はこれで終わりです。)