

平成30年度

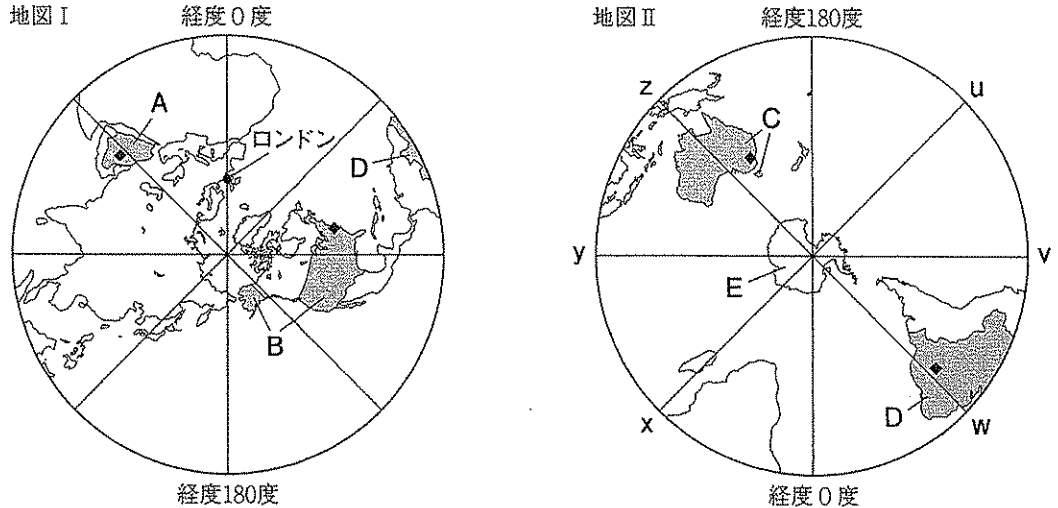
V 社 会

(14時20分～15時10分)

注 意

- 問題用紙は3枚(3ページ)あります。
- 解答用紙はこの用紙の裏面です。
- 答えはすべて、解答用紙の所定の欄に、文、文字などで答えるもののほかは、ア、イ、……などの符号で記入しなさい。
- 解答用紙の※印の欄には記入してはいけません。

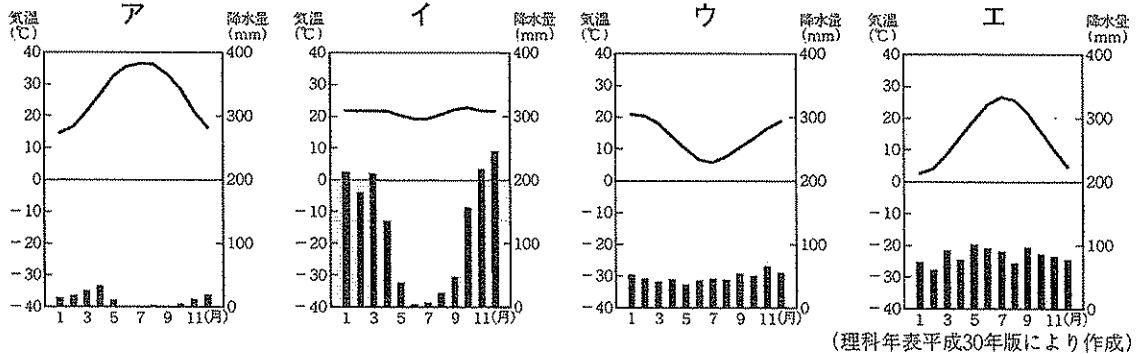
1 次の地図Ⅰは北半球を、地図Ⅱは南半球をあらわした地図である。地図の中心から引かれている直線u～zは、等しい経度の間隔で示した経線である。また、A～Dは国を、◆はA～D国のそれぞれの首都を、Eは大陸を示している。(1)～(6)の問いに答えなさい。



- (1) 地図ⅡのEの大陸名を書きなさい。  
 (2) 次の説明文i～iiiのすべてにあてはまる国を、A～Dの中から一つ選びなさい。

i この国は、ヨーロッパの国の植民地となったことがあるため、おもに使われている言語はその影響を受けている。  
 ii この国では、大豆などの農産物生産量が多く、自動車や航空機などの製造もさかんである。  
 iii この国の北部には、西から東に国土を貫いて大西洋に注ぐ大きな河川が流れており、その川沿いには、伝統的な高床式の住居が見られる。

- (3) 次の雨温図は、A～D国のいずれかの首都の気温と降水量をあらわしている。B国の首都のものを、ア～エの中から一つ選びなさい。



- (4) 次の表は、日本におけるA～D国からの輸出品とその金額および輸入総額をあらわしている。C国にあてはまるものを、表のア～エの中から一つ選びなさい。

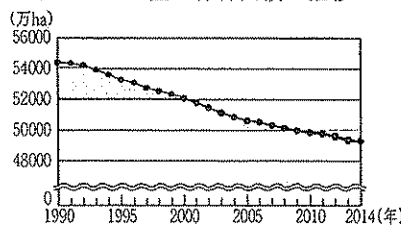
表 日本におけるA～D国からの輸出品とその金額および輸入総額(2016年)

	ア		イ		ウ		エ	
	輸出品	金額(億円)	輸出品	金額(億円)	輸出品	金額(億円)	輸出品	金額(億円)
第1位	石炭	10775	原油	19534	鉄鉱石	2407	機械類	22368
第2位	液化天然ガス	9203	石油製品	501	肉類	875	航空機類	5270
第3位	鉄鉱石	4356	液化石油ガス	442	とうもろこし	818	医薬品	4061
第4位	肉類	1906	有機化合物	282	コーヒー	538	科学光学機器	3976
第5位	銅鉱	1182	アルミニウム	210	有機化合物	446	肉類	3511
	輸入総額	33211	輸入総額	21249	輸入総額	7341	輸入総額	73221

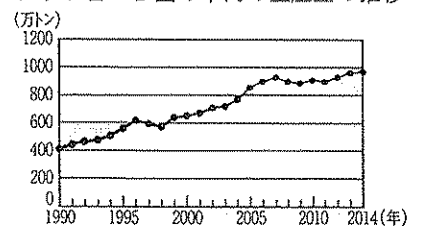
(日本国勢図会 2017/18年版により作成)

- (5) 次のグラフⅠは、D国の森林面積の推移を、グラフⅡは、D国の牛肉の生産量の推移をあらわしている。グラフⅠのようにD国の森林面積が変化してきた理由を、グラフⅡと関連させて書きなさい。

グラフⅠ D国の森林面積の推移




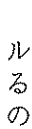
グラフⅡ D国の牛肉の生産量の推移



- (6) 地図Ⅰのロンドンの時刻が3月15日午前0時のとき、3月14日午後9時の時刻となる経度を示す経線として最も適当なものを、地図Ⅱのu～zの中から一つ選びなさい。

2 次の地図のA～Eは県を示している。(1)～(6)の問いに答えなさい。

(1) 地図にで示した「日本の屋根」とも呼ばれる、標高3000m前後の三つの山脈をまとめて何というか。書きなさい。

(2) 地図中のは、A県と東京都を結ぶ高速道路のルートを示している。このルート的高速道路が通っている都県に存在する史跡として適当なものを、次のア～エの中から一つ選びなさい。

- ア 足尾銅山跡                      イ 石見銀山遺跡  
ウ 旧富岡製糸場                  エ 安土城跡

(3) 次の文は、B県の産業について述べたものである。  
X, Yにあてはまる語句の組み合わせとして最も適当なものを、下のア～エの中から一つ選びなさい。

B県では、農家の副業などから発達したX産業が見られる。特に、Yは、伝統的工芸品として全国に知られている。

- ア X-地場                      Y-加賀友禅  
イ X-地場                      Y-西陣織  
ウ X-先端技術                Y-加賀友禅  
エ X-先端技術                Y-西陣織

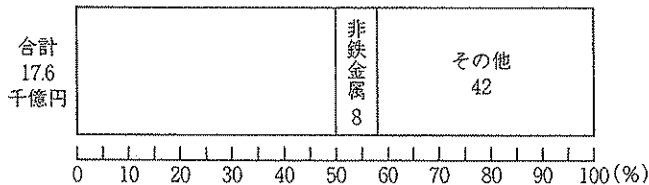
(4) 右の表Iは、A～E県の米、野菜、果実、\*花きの農業産出額をあらわしている。C県にあてはまるものを、表Iのア～オの中から一つ選びなさい。

\*花き…観賞用に栽培された草花のこと。

(5) 右の表IIは、D県の県庁所在地の製造品出荷額をあらわしている。表IIを参考にして、次の条件i, iiに従い、下の帯グラフを完成させなさい。

- i 製造品は、割合が高い順に左から並べて書く。  
ii 割合は、百分率で小数第一位を四捨五入して書く。

D県の県庁所在地の製造品出荷額の割合

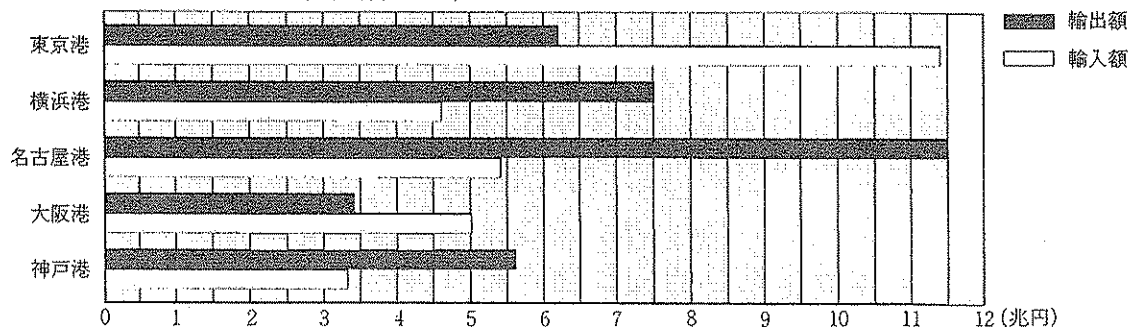


(6) E県にある名古屋港について、次の①、②の問いに答えなさい。

① 右の表IIIは、名古屋港での取扱重量が多い輸出入貨物をあらわしている。かつての日本が依存してきた、このような輸出入貨物の特徴がみられる貿易を何というか。書きなさい。

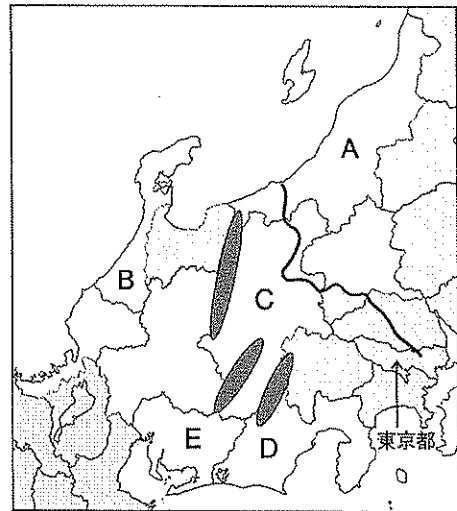
② 下のグラフは、国内のおもな5港の貿易額をあらわしている。グラフをもとに、名古屋港のおおよその貿易黒字額と、5港の中での貿易黒字額の大きさの順位を書きなさい。

グラフ 国内のおもな5港の貿易額(2015年)



(データで見る名古屋港により作成)

地図



表I A～E県の米、野菜、果実、花きの農業産出額(2014年)

	米 (億円)	野菜 (億円)	果実 (億円)	花き (億円)
ア	1296	383	88	96
イ	173	598	283	175
ウ	236	90	24	7
エ	402	837	544	144
オ	250	1011	175	557

(データでみる県勢2017年版により作成)

表II D県の県庁所在地の製造品出荷額(2014年)

製造品	出荷額(千億円)
電気機械	6.4
食料品	2.4
非鉄金属	1.4
その他	7.4
合計	17.6

(平成26年工業統計調査結果概況により作成)

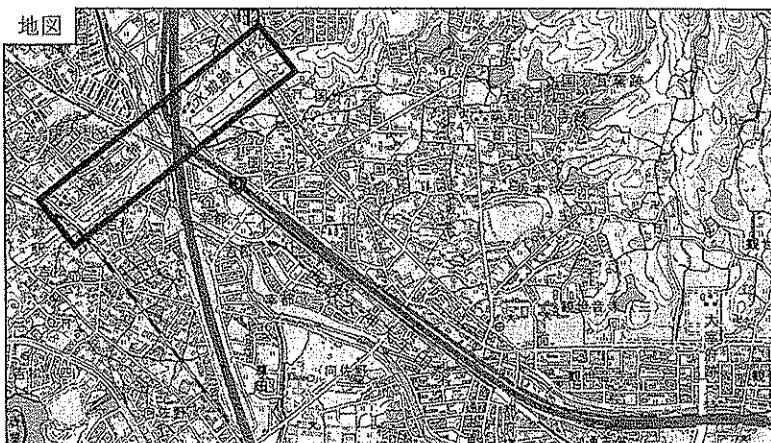
表III 名古屋港の輸出入貨物(2015年)

	輸出品	輸入品
第1位	完成自動車	液化天然ガス
第2位	自動車部品	鉄鉱石
第3位	産業機械	原油
第4位	鋼材	石炭

(データで見る名古屋港により作成)


3 次の年表は、日本と中国の関わりについてまとめたものである。(1)～(7)の問いに答えなさい。

年	おもなできごと
57	倭の奴国王が中国に使いを送る…A
239	邪馬台国の女王が中国に使いを送る…B
663	白村江の戦いが起こる…C
754	鑑真が日本の都に着く…D
1281	弘安の役が起こる…E
1404	勘合貿易が始まる…F
1894	日清戦争が起こる…G
1972	中国との国交が正常化する…H



(国土地理院電子地形図25000により作成)

- (1) 上の地図は、福岡県の博多湾近くの地域の一部を示した地形図である。地図の      で囲んだ「水城」を築いたことと関連の深いできごとを、上の年表のA～Hの中から一つ選びなさい。
- (2) 年表のA、C、Eについて、それぞれのできごとが起こったころの中国の王朝名の組み合わせとして適当なものを、次のア～カの中から一つ選びなさい。
- ア A-秦 C-隋 E-元      イ A-秦 C-隋 E-明  
 ウ A-秦 C-唐 E-元      エ A-漢 C-隋 E-明  
 オ A-漢 C-唐 E-元      カ A-漢 C-唐 E-明
- (3) 年表のBについて、このときの邪馬台国の女王の名前を書きなさい。
- (4) 年表のDに関して、この時期に日本で栄えた文化と最も関連の深いものを、次のア～エの中から一つ選びなさい。



- (5) 年表のFからGの間のできごとに関して、次の①、②の問いに答えなさい。
- ① この時期の日本と中国に関連するできごとについて述べた次のア～エを、年代の古い順に左から並べて書きなさい。
- ア 中国を征服するために日本の大軍が朝鮮に派遣され各地を占領したが、朝鮮の民衆や李舜臣ひきいる水軍の抵抗に加えて中国からの援軍などにより、苦戦をしいられた。  
 イ 中国人の倭寇の船が種子島に流れ着き、その船に乗っていたポルトガル人によって鉄砲が日本に伝えられた。  
 ウ 甲午農民戦争をしずめるため、朝鮮が中国に出兵を求めたのをきっかけに、日本も朝鮮に出兵した。  
 エ 中国がアヘン戦争でイギリスに敗れたことを知った幕府は、異国船(外国船)打払令を廃止して、来航する外国船には燃料や食料を与えて返すことにした。
- ② 江戸幕府がスペイン船やポルトガル船の来航を禁止したあとも、中国とオランダの2か国のみとの貿易を認めたのはなぜか。その理由を、宗教に着目して書きなさい。
- (6) 年表のGからHの間に、日中戦争が起こった。次の文は、この時期の中国の様子をあらわしたものである。次の文の X には政党名を、Y には人物名を書きなさい。

日中戦争が起こるころの中国では、蒋介石がひきいる X と、Y がひきいる中国共産党が対立し、内戦が行われていた。しかし、戦争が始まると、中国はこの二つの政党を中心に協力して、日本と戦った。

- (7) 年表のHに関連して、国交を正常化させた後、両国の関係をさらに発展させるため、1978年に日本が中国と結んだ条約は何か。書きなさい。

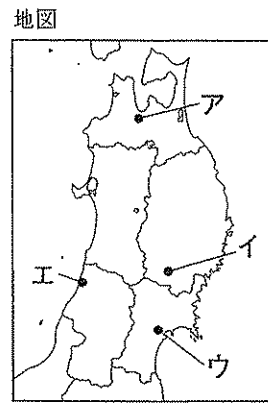
4 次のⅠ～Ⅲのカードは、福島県にゆかりのある人物や文化財、できごとについて、ある班が地域ごとにまとめたものの一である。(1)～(3)の問いに答えなさい。

Ⅰ 会津	Ⅱ 中通り	Ⅲ 浜通り
<p>会津地方は、古くから仏教がさかんで、僧の徳一は a 最澄と宗派の考えの違いから論争を展開したといわれる。この地方は、室町時代後半には b 戦国大名の 蘆名氏や伊達氏により治められた。</p>	<p>郡山市では、明治時代に c 大久保利通が関わった安積開拓事業が行われ、猪苗代湖から郡山の安積原野へ水が引かれた。また、大正時代には、中通りをはじめ、県内各地で d 米価をめぐって民衆の不満が爆発する騒ぎが起きた。</p>	<p>いわき市にある国宝の白水阿弥陀堂は、e 奥州藤原氏ゆかりの建物とされている。また、その近くには江戸時代に片寄平蔵が石炭を発見した場所があり、のちにこの地域は常磐炭鉱として発展し、日本の f エネルギーや産業を支えた。</p>

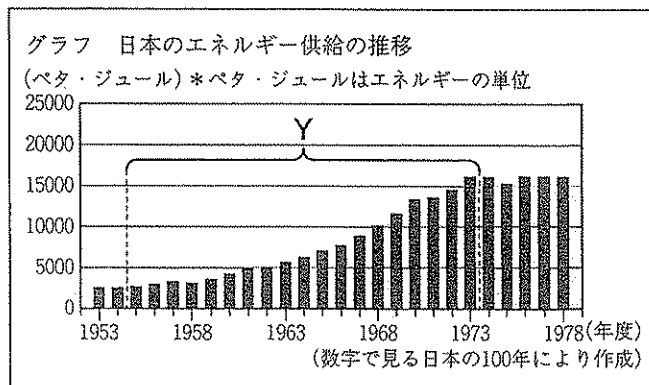
- (1) カードⅠに関して、次の①、②の問いに答えなさい。
- ① 下線部 a について、この人物に最も関係の深い宗派と寺院の組み合わせとして適当なものを、次のア～エの中から一つ選びなさい。
- ア 天台宗－高野山金剛峯寺      イ 天台宗－比叡山延暦寺  
ウ 真言宗－高野山金剛峯寺      エ 真言宗－比叡山延暦寺
- ② 下線部 b に関して、日本で戦国大名が活躍したころに世界で起きたできごととして適当なものを、次のア～エの中から一つ選びなさい。
- ア ドイツのルターは、聖書にもとづく信仰をとらえて宗教改革をはじめた。  
イ アメリカでは、自由貿易や奴隷制をめぐる対立から南北戦争が起きた。  
ウ 国王や大貴族中心の政治に対する民衆の不満が爆発し、フランス革命が起きた。  
エ アラビア半島では、ムハンマドがイスラム教をおこした。

- (2) カードⅡに関して、次の①～③の問いに答えなさい。
- ① 下線部 c に関して、この人物が中心となって行った、日本の近代国家への改革について述べた次のア～エを、年代の古い順に左から並べて書きなさい。
- ア 政府は、全国の藩主たちから天皇に土地と人民を返させる版籍奉還を行った。  
イ 政府は、すべての藩を廃止して、かわりに府・県をおく廃藩置県を行った。  
ウ 天皇を中心とする政治にもどすことを宣言する王政復古の御詔勅が出された。  
エ 政府は、地租改正条例を公布し、地価の3%を地租として、土地所有者に現金で納めさせることにした。
- ② 下線部 c に関して、この人物が中心的な役割を果たした政府は、外国人技術者を招き、西洋の知識や技術を取り入れて近代産業の育成を目指す政策を推進した。この政策を何とよぶか。漢字4字で書きなさい。
- ③ 下線部 d に関して、次の文は、この騒ぎが起きた原因について述べたものである。文の  X  にあてはまることばを、日本が行ったこととその目的を明らかにしながら、「社会主義」という語句を用いて書きなさい。

福島県をはじめ、日本の各地では商人の米の買い占めなどによる米価の高騰に対して、民衆が米の安売りを求める騒ぎが起こった。その原因の一つは、日本がアメリカなどとともに、ロシア革命の影響による  X  を行ったことである。



- (3) カードⅢに関して、次の①、②の問いに答えなさい。
- ① 下線部 e について、この一族の本拠地となった場所として適当なものを、右の地図のア～エの中から一つ選びなさい。
- ② 下線部 f に関連して、右下のグラフは、日本のエネルギー供給の推移をあらわしている。グラフ Y の期間に関する説明として最も適当なものを、次のア～エの中から一つ選びなさい。
- ア 日本のエネルギー供給の中心は、石油から石炭へと変化した。  
イ 日本のエネルギー供給が増加したのは、バブル景気が続き、経済が発展したためである。  
ウ 日本のエネルギー供給の増加にともない、公害問題が起こり、その対策として環境庁が設置された。  
エ 日本のエネルギー供給は増加したが、国民にはテレビなどの家庭電化製品は、ほとんど普及しなかった。



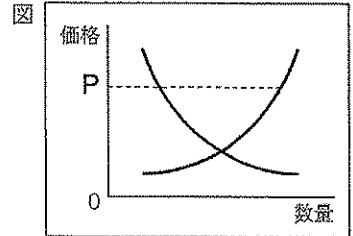
次の文は、「私たちの暮らしと企業の活動」というテーマで、ある班がまとめたレポートの一部である。(1)～(6)の問いに答えなさい。

企業の役割の一つに、商品の生産がある。a 商品の価格は、市場での需要量と供給量の関係で変動する。企業には、b 自由な競争により、安くて良い商品をc 消費者に提供することが求められている。私たちや企業の活動は、商品の売買を通して国や地方に税金を納めていることから、d 財政にも大きな影響を与えている。

また、近年は、企業の社会に対する責任や貢献が重視されるようになった。環境問題への対応やe 貧困問題を解決するための支援など、企業は商品の生産以外にも幅広い活動をしている。

さらに、企業の活動は、グローバル化にともないf 為替相場の変動などの影響を受けることもあるが、工場の海外移転や部品調達先の海外企業への切りかえなどにより、業績を伸ばす企業も多い。

- (1) 下線部aに関して、右の図は、市場で売買されている、ある商品の需要曲線と供給曲線をあらわしている。価格がPのとき、市場でのこの商品の状態として適当なものを、次のア～エの中から一つ選びなさい。
- ア 商品に対する需要量が、供給量を上回る「品不足」の状態
  - イ 商品に対する需要量が、供給量を上回る「売れ残り」の状態
  - ウ 商品に対する供給量が、需要量を上回る「品不足」の状態
  - エ 商品に対する供給量が、需要量を上回る「売れ残り」の状態



- (2) 下線部bに関して、企業の自由で健全な競争を維持するために独占禁止法を運用し、不当な価格操作などを監視する機関が設置されている。この機関を何というか。書きなさい。

資料 通知書の例

**通知書**

次の契約を解除します。

契約年月 平成〇〇年〇月〇日  
 商品名 ×××

商品金額 〇〇〇〇〇円  
 販売会社 株式会社××× □□営業所  
 担当者 △△ △△

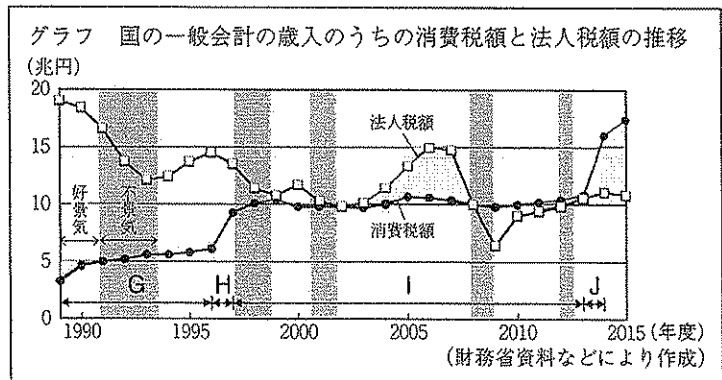
支払った代金〇〇〇〇〇〇円を返し、  
 商品を引き取ってください。

平成〇〇年〇月〇日  
 〇〇県〇市〇町〇丁目〇番〇号  
 氏名 ×× ××

(国民生活センター資料により作成)

- (3) 下線部cに関して、右の資料は、消費者がある制度を利用するために書いた通知書の例である。この制度について説明した文として最も適当なものを、次のア～エの中から一つ選びなさい。
- ア 契約後、いつでも自由に契約を解除することができる。
  - イ 契約後、一定の期間内であれば手数料を支払って、契約を解除することができる。
  - ウ 訪問販売など特定の販売方法による契約に限り、一定の期間内であれば契約を解除することができる。
  - エ 製造物責任法の規定により、一定の期間内であればこの制度を利用して契約を解除することができる。

- (4) 下線部dに関連して、右のグラフは、国の一般会計の歳入のうちの消費税額と法人税額の推移をあらわしたものである。また、グラフには日本の好景気と不景気の時期を色分けして示している。次の①、②の問いに答えなさい。



- ① 右のグラフにおけるH、Jの時期に、ある共通した理由によって消費税額が急激に増加している。その理由を書きなさい。
- ② 右のグラフにおけるG、Iの時期に共通するグラフの変化を参考にしながら、消費税の財源としての特徴を、「景気」という語句を用い、「消費税は、法人税と比較して、」の書き出しに続けて書きなさい。

- (5) 下線部eに関して、次の文が述べている、貧困問題を解決するために企業が行っている取り組みを何というか。最も適当なものを、下のア～エの中から一つ選びなさい。

先進国の人々が、発展途上国で生産された農産物や製品を、生産者の労働に見合う適正な価格で継続的に購入することにより、生産者の自立した生活を支える取り組みが行われている。

- ア フェアトレード
- イ ユニバーサルデザイン
- ウ ボランティア
- エ メディアリテラシー

- (6) 下線部fに関して、次のYとZの文は、為替相場が1ドル=100円から1ドル=90円に変動したときの私たちの暮らしや企業に与える影響について述べたものである。正誤の組み合わせとして適当なものを、下のア～エの中から一つ選びなさい。ただし、為替相場の条件以外は考えないこととする。

Y アメリカを旅行する日本人が100ドルで洋服を購入するとき、円で計算したその洋服の価格は、為替相場の変動前よりも高くなる。

Z 200万円の日本製の自動車をアメリカへ輸出するとき、ドルで計算したその自動車の価格は、為替相場の変動前よりも高くなる。

- ア Y-正 Z-正
- イ Y-正 Z-誤
- ウ Y-誤 Z-正
- エ Y-誤 Z-誤

6 次の資料は、国民の権利に関する日本国憲法の条文の一部である。(1)～(4)の問いに答えなさい。

第13条 すべて国民は、個人として尊重される。生命、a自由及び幸福追求に対する国民の権利については、Xに反しない限り、立法その他の国政の上で、最大の尊重を必要とする。

第15条③ 公務員のb選挙については、成年者による普通選挙を保障する。

第32条 何人も、裁判所においてc裁判を受ける権利を奪はれない。

(1) Xにあてはまる語句を書きなさい。

(2) 下線部aに関して、自由権は、その内容によって、精神の自由、生命・身体の自由、経済活動の自由に分類される。次のア～エにあげた自由権の内容のうち、一つだけ異なる分類にあたるものを選びなさい。

- ア 思想・良心の自由      イ 居住・移転・職業選択の自由  
ウ 学問の自由            エ 集会・結社・表現の自由

(3) 下線部bに関して、次の①、②の問いに答えなさい。

① 選挙権を得る年齢や議員の定数など、日本の選挙制度について定めた法律は何か。書きなさい。

② 右の表は、2001年以降の衆議院議員と参議院議員の選挙の実施年月をまとめたものである。表のように、衆議院議員の選挙が不定期に行われているのに対して、参議院議員の選挙が3年ごとに定期的に行われている理由を、「半数」という語句を用いて、「参議院は、衆議院と異なり、」の書き出しに続けて書きなさい。

表 2001年以降の衆議院議員と参議院議員の選挙の実施年月

衆議院	参議院
2003年11月	2001年7月
2005年9月	2004年7月
2009年8月	2007年7月
2012年12月	2010年7月
2014年12月	2013年7月
2017年10月	2016年7月

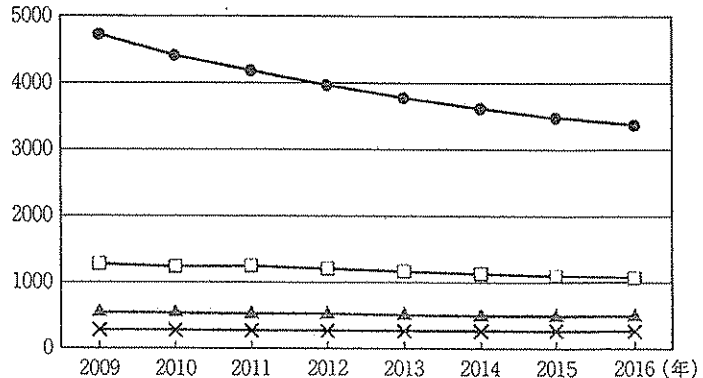
(4) 下線部cに関連して、次の①、②の問いに答えなさい。

① 日本の裁判に関して述べた文として適当なものを、次のア～エの中から一つ選びなさい。

- ア 刑事裁判では、原告と被告との間でそれぞれが自分の意見を主張し、裁判所が法律にもとづいて判決を下して個人間の争いを解決する。
- イ 裁判では三審制がとられており、第一審の判決に納得できない場合は第二審の裁判所に上告し、さらに不服があれば控訴することができる。
- ウ 重大な犯罪の疑いで起訴された刑事裁判では、国民の中から選ばれた裁判員も参加して判決が下される裁判員裁判が第一審でのみ行われる。
- エ 有罪の判決が確定した後は、いきすぎた捜査が原因でえん罪になった場合や、判決に疑いが生じた場合でも、裁判をやり直すことはできない。

② 右のグラフは、日本、フランス、ドイツ、アメリカの弁護士1人あたりの国民数の推移をあらわしている。グラフから読み取ることができる日本の特徴を、日本の国民1人あたりの弁護士数の傾向と、その数の変化について触れながら、「他の3か国と比較すると、」の書き出しに続けて書きなさい。

グラフ 日本、フランス、ドイツ、アメリカの弁護士1人あたりの国民数の推移(人)



(弁護士白書2016年版により作成)