

学 力 検 査 問 題

社 会

注 意

- 1 指示があるまでは、検査問題を開いてはいけません。
- 2 検査問題は表紙を除いて6ページで、問題は から まであります。
- 3 答えは、全て解答用紙に記入しなさい。

1 けんたさんは、歴史学習のまとめとして、日本の主な出来事とそれらが人々の生活に与えた影響について略年表を作成した。1～11の問いに答えなさい。

[略年表]

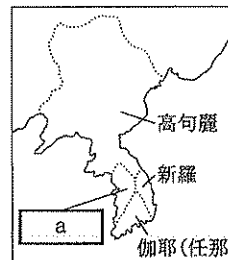
時代区分	日本の主な出来事	出来事が人々の生活に与えた影響
古代	大和政権が①朝鮮半島の諸国と交流する 大宝律令が作られる	渡来人が鉄製の農具を広める ②人々は戸籍に登録され、様々な負担が課される
中世	③源頼朝が朝廷に守護・地頭の設置を認めさせる ④足利義満が明との貿易を開始する	武士が農民を使って農業を営むようになる 銅銭や生糸などが輸入され、産業が盛んになる
近世	⑤豊臣秀吉が刀狩を命じる 江戸幕府が長崎での貿易額を制限する	農民が耕作に専念するようになる ⑥木綿や生糸などの輸入量が減り、国産化が図られる
近代	⑦明治政府が近代化を目指す政策を行う ⑧普通選挙法が成立する	衣食住が次第に欧米風に変化する 政治に広く国民の意向が反映される道が開かれる
現代	Yが行われる 政府が所得倍増を目指す政策を行う	多くの自作農が生まれる ⑨国民の所得が増え、電化製品などが家庭に広まる

※時代区分の長さは、実際の時代の長さとは関係がない。

1 下線①について、次の a に当てはまる国の名を書きなさい。ただし、a には、略地図の a と同じ国の名が入る。

朝鮮半島では、高句麗と、4世紀頃におこった a, 新羅の三国が、互いに勢力を争った。大和政権が、a や、伽耶(任那)地域の国々と結んで、高句麗や新羅と戦ったことが、好太王(広開土王)碑に記されている。

[略地図] 5世紀の朝鮮半島



2 下線②について、次の b, c に当てはまる言葉の正しい組み合わせを、ア～エから一つ選び、符号で書きなさい。


戸籍に登録された6歳以上の全ての人々には、性別や良賤の身分に応じて b が与えられた。人々は、b の面積に応じて c を負担した。c は、主に飢きんなどに備えて国や郡などの倉庫におさめられた。

- ア b=口分田 c=調 イ b=口分田 c=租
ウ b=荘園 c=調 エ b=荘園 c=租

3 次のア～ウは、略年表のXの期間に起きた出来事である。これらの出来事を、年代の古い順に並べ、符号で書きなさい。

- ア 聖武天皇が仏教の力に頼って国家を守ろうとする
イ 平清盛が外国との貿易の利益に目を付け航路を整える
ウ 菅原道真が遣唐使の派遣の停止を訴えて認められる

[資料1]



4 下線③は何世紀の出来事か。数字で書きなさい。

5 下線④について、次の d に当てはまる言葉を書きなさい。

資料1は、倭寇の取り締まりを求めた明から与えられた d という証明書である。足利義満は、倭寇を禁じるとともに、正式な貿易船には、この証明書を持たせ、朝貢の形式の d 貿易を始めた。

6 下線⑤に仕え、質素なわび茶の作法を完成させた人物の名を、漢字で書きなさい。


7 下線⑥について、けんたさんはメモ1を書いた。(1)、(2)に答えなさい。

[けんたさんのメモ1]

綿の栽培が全国に普及し、綿織物業が発達した。19世紀頃には、大商人や地主の中に、A 工場制手工業(マニユファクチュア)を営む者が現れ、近代工業発展の基礎となった。しかし、1859年以降、B 外国との貿易が始まると、安価で良質な綿織物や綿糸が輸入され、国内の生産地に打撃を与えた。

- (1) 下線Aについて、工場制手工業とはどのような手工業の仕組みか。資料2を参考にして、「工場」という言葉を用いて、簡潔に書きなさい。
- (2) 下線Bについて、表は、1860年代における日本の貿易相手国と貿易額の割合を示したものであり、表のA~ウは、アメリカ、イギリス、オランダのいずれかである。イギリスに当たるものを、A~ウから一つ選び、符号で書きなさい。

[資料2]



[表] 貿易相手国と貿易額の割合(%)

国名	1860年	1863年	1865年
ア	55.3	80.7	85.9
イ	31.7	6.7	1.5
ウ	12.2	7.1	4.2
フランス	0.8	1.7	8.2
その他	0.0	3.8	0.2

(「近代日本経済史要覧」より作成)

8 下線⑦について、けんたさんはメモ2を書いた。(1)、(2)に答えなさい。

[けんたさんのメモ2]

近代化を目指す政策によって、欧米の文化が盛んに取り入れられると、都市を中心に伝統的な生活が変化し始めた。これを e という。例えば、資料3のような髪形は「ザンギリ(散切り)頭」と呼ばれ、「ザンギリ頭をたたいてみれば、eの音がする」といわれた。また、欧米の近代思想も次々に紹介された。例えば、「東洋のルソー」と呼ばれた f が紹介したルソーの思想は、青年たちに大きな影響を与え、やがて g へとつながっていった。

[資料3]



- (1) e に当てはまる言葉を書きなさい。
- (2) f , g に当てはまる言葉の正しい組み合わせを、A~Eから一つ選び、符号で書きなさい。
- ア f = 福沢諭吉 g = 尊王攘夷運動 イ f = 福沢諭吉 g = 自由民権運動
 ウ f = 中江兆民 g = 尊王攘夷運動 エ f = 中江兆民 g = 自由民権運動

9 下線⑧について、吉野作造は、普通選挙によって国民の意向を政治に反映させることなどを主張した。この考え方を何というか。A~Eから一つ選び、符号で書きなさい。

ア 三民主義 イ 資本主義 ウ 民本主義 エ 社会主義

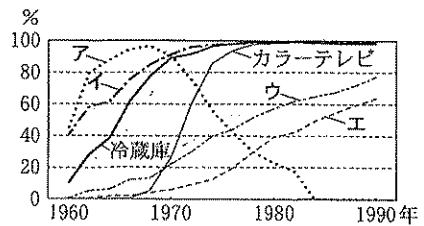
10 略年表の Y は、地主が持つ小作地を政府が強制的に買い上げて、小作人に安く売り渡した政策である。 Y に当てはまる政策の名を書きなさい。

11 下線⑨について、グラフは、家庭電化製品などの普及の様子を示したものであり、グラフのA~Eは、白黒テレビ、洗濯機、クーラー、自動車のいずれかである。次の文を参考にして、白黒テレビに当たるものを、A~Eから一つ選び、符号で書きなさい。

国民の所得が増え、まず白黒テレビ、洗濯機、冷蔵庫、続いてカラーテレビ、自動車、クーラーが家庭に普及した。

[グラフ]



家庭電化製品などの普及の様子



(内閣府「消費動向調査」より作成)

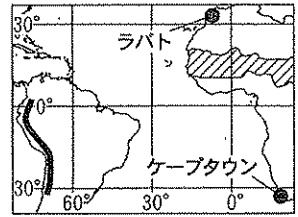
2 さくらさんは、交通や通信の変化について調べ、メモを書いた。1～12の問いに答えなさい。

[さくらさんのメモ1] 重要な交通手段としての家畜

・世界には、家畜が人々の重要な交通手段になっている地域がある。略地図1に  で示す地域は、「サハラの子」を意味する言葉で **a** と呼ばれている。この地域では、貴重な水を運ぶために、ロバなどが用いられている。また、略地図1に  で示した **b** には、山の登り下りをするときに、荷物をリヤマにのせて運び、生活を営んでいる人々もいる。

・アフリカ州や南アメリカ州では、① 自然環境に応じた暮らしは残しつつ、人々の交流が活発になり、暮らしに変化が見られるようになってきている。

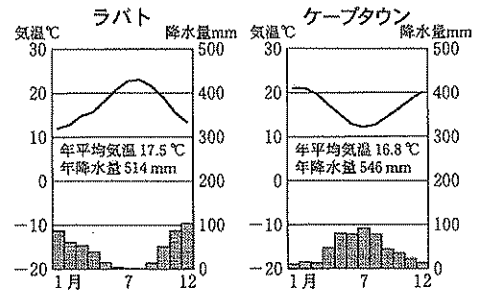
[略地図1]



- a** に当てはまる言葉を書きなさい。
- b** に当てはまる山脈の名を書きなさい。
- 下線①について、グラフ1は、略地図1のラバトとケープタウンの気温と降水量を表している。右下の **c** , **d** に当てはまる言葉の正しい組み合わせを、ア～エから一つ選び、符号で書きなさい。

[グラフ1]

ラバトとケープタウンの気温と降水量



([理科年表 平成29年]より作成)

- ア c = 夏 d = 地中海性気候
 イ c = 夏 d = 西岸海洋性気候
 ウ c = 冬 d = 地中海性気候
 エ c = 冬 d = 西岸海洋性気候

アフリカの北西端と南端は温帯で、過ごしやすい気候である。ラバトとケープタウンの共通点は、**c** に雨が少ないことである。これは **d** の特徴であり、ぶどうなどの果樹の栽培が行われている。

[さくらさんのメモ2] 世界を結ぶ交通と通信手段

・船は重量の重い荷物を運ぶのに適した手段である。例えば、オーストラリアは豊富に採れる② 鉱産資源を大型船に積み込み、日本や中国に向けて輸出している。

・航空機は高速交通の代表的な手段である。世界の中で、アメリカは航空機の代表的な生産国である。③ サンベルトに位置するロサンゼルスは航空機を生産地として有名である。

・④ 情報通信網の発達により、場所や時間にかかわらず情報のやりとりができるようになり、私たちの生活が大きく変わってきている。

- 4 下線②について、次の **e** に当てはまる鉱産資源の名を書きなさい。

1960年頃から、日本ではエネルギー革命が進み、エネルギー源が **e** から石油にかわった。しかし、オーストラリアなどから輸入される **e** は、現在も日本にとって重要な鉱産資源の一つである。

- 5 下線③について、次の **f** に当てはまる言葉を書きなさい。

サンベルトでは、航空宇宙産業のほかに、情報技術産業などが発達している。特にカリフォルニア州の **f** と呼ばれる地域には、コンピューターや半導体関連の先端技術産業に関連のある会社などが集まっている。この **f** という通称は工業製品の原料の名から付いた。

- 6 下線④について、表は、日本、中国、アメリカ、ブラジルそれぞれの携帯電話契約数の伸び率と国民総所得を示したものであり、表のア～エは、日本、中国、アメリカ、ブラジルのいずれかである。ブラジルに当たるものを、ア～エから一つ選び、符号で書きなさい。

[表] 携帯電話契約数の伸び率と国民総所得

	携帯電話契約数の伸び率	国民総所得(兆ドル)	一人あたりの国民総所得(ドル)
ア	2.6	15.1	48,797
イ	10.1	6.0	4,459
ウ	1.8	5.6	44,350
エ	8.5	2.2	10,939

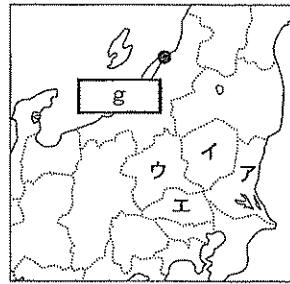
注：携帯電話契約数の伸び率は2000年を1としたときの2010年の数値で、国民総所得、一人あたりの国民総所得は2010年の数値。

([世界国勢図会 2016/17年版]より作成)

[さくらさんのメモ3] 日本を結ぶ交通の発達と人々の暮らし

- ・本州の中央部には山脈が連なり、交通路が整備されていなかった頃は移動が困難であった。
- ・交通路が整備された背景には、各地方の諸産業の発達があった。例えば、⑤ 栃木県の足尾銅山は江戸時代に開発が進み、産出された銅は貨幣の材料として各地に運ばれた。また、海運業の発達により、北海道の物資が、船を使って、⑥ 北陸地方を経由して日本海を西進し、瀬戸内海を通過して、⑦ 瀬戸内地方から大阪へ運ばれた。
- ・街道沿いにある宿場町や⑧ 城下町の中には、現在でも古い町並みを残しているところがある。

[略地図2]



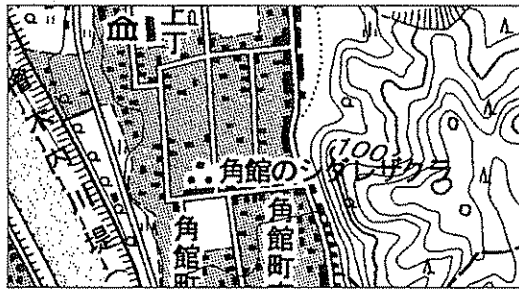
- 7 下線⑤の位置を、略地図2のア～エから一つ選び、符号で書きなさい。
- 8 下線⑥について、略地図2の は、北陸地方の最初の政令指定都市である。
 に当てはまる都市の名を書きなさい。
- 9 下線⑦について、次の に当てはまる風の名を書きなさい。

中国山地と四国山地にはさまれた瀬戸内地方は、年間を通じて降水量が少ない。その理由として、瀬戸内地方では、北西から吹く冬の や南東から吹く夏の の、乾いた風が吹き込みやすいことがあげられる。

- 10 下線⑧について、地形図から読み取れること
がらを、 に簡潔に書きなさい。ただし、「見通し」という言葉を用いること。

地形図は、江戸時代の城下町を起源とする町である角館の一部を表したものである。この地形図にえがかれた町の道路に注目してみると、 ということが分かる。これは、敵から攻め込まれないようにするための工夫である。

[地形図] 角館



(国土地理院発行の2万5千分の1地形図「角館」より作成)

[さくらさんのメモ4] 交通の発達と産業

- ・1960年代には、高速道路の整備などが進み、⑨ 人や物の移動手段が変化した。
- ・現在、大消費地として発達した東京や大阪などには、全国から様々な商品が集められている。例えば、野菜や果実などは、多く出回る時期が決まっているため、温暖な気候などを生かして出荷時期を早める という栽培方法が行われているところがある。

- 11 下線⑨について、グラフ2は、国内における自動車、鉄道、船による貨物輸送量の割合と旅客輸送量の割合の変化を示したものである。グラフ2のXとYは、貨物または旅客の輸送量のいずれかで、I～IIIは、自動車、鉄道、船のいずれかである。XとIの正しい組み合わせを、ア～カから一つ選び、符号で書きなさい。

ア X = 貨物 I = 自動車 [グラフ2] 自動車、鉄道、船による輸送量の割合の変化

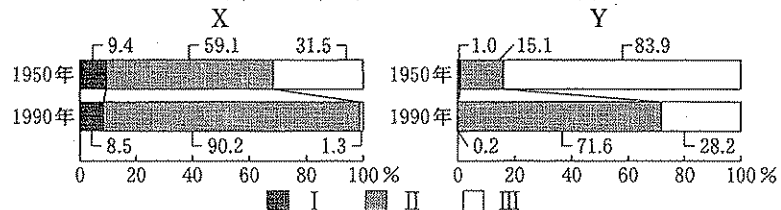
イ X = 貨物 I = 鉄道

ウ X = 貨物 I = 船

エ X = 旅客 I = 自動車

オ X = 旅客 I = 鉄道

カ X = 旅客 I = 船



(「数字でみる日本の100年 日本国勢図会長期統計版」より作成)

- 12 に当てはまる言葉を書きなさい。

- 3 ある中学校の生徒たちが、「様々な立場から社会を考える」というテーマを設け、その内容をレポートにまとめた。レポート1～4は、その一部である。1～11の問いに答えなさい。

[レポート1] 「現在の世代の立場から将来の世代の幸福について考える」

私たちの社会は、グローバル化、情報化などの影響を受けて、大きく変化し続けている。そのような中、①人権、平和、②伝統文化、宗教、防災、安全などに関わる様々な課題が生じている。これらの課題を解決するために、私たちは、③「持続可能な社会」という考えに立ち、自らの生活を見直していくことが大切である。

- 1 下線①について、第一次世界大戦の終結直後のことがらを、次のア～エから一つ選び、符号で書きなさい。

ア ワイマール憲法の制定 イ 世界人権宣言の採択
ウ フランス人権宣言の発表 エ 国際人権規約の採択

- 2 下線②について、次の , に当てはまる言葉の正しい組み合わせを、ア～エから一つ選び、符号で書きなさい。

室町時代に、観阿弥・世阿弥親子が大成した や、応仁の乱の後の で、自治をになった裕福な商工業者が復興させた祇園祭は、伝統文化の中でも、古くから伝承されてきたものである。

ア a = 歌舞伎 b = 鎌倉 イ a = 歌舞伎 b = 京都
ウ a = 能 b = 鎌倉 エ a = 能 b = 京都

- 3 下線③について、次の に当てはまる言葉を、ア～ウから一つ選び、符号で書きなさい。

循環型社会を実現するためには、ごみを することが必要である。資料は、古紙の利用を拡大し、紙の の促進を図ることを目的とした環境ラベルの一つである。原料に古紙を規定の割合以上利用している古紙利用製品であることを表している。

[資料]



ア リデュース イ リユース ウ リサイクル

[レポート2] 「主権者の立場から政治参加について考える」

民主主義を確かなものにするためには、一人一人の積極的な政治参加は欠かせない。中でも重要なのが④選挙である。日本では、国会議員のほか、⑤都道府県や市(区)町村の長と議員を選挙で選ぶことになっている。私たちは、⑥政治の仕組みを知り、政治に関する問題について議論することなどを通して、政治に関心をもち、多様な意見を検討し、積極的に政治に参加していくことが必要である。

- 4 下線④について、表1は、2016年に行われたある選挙で、有権者が投票の際にどのようなことを考慮したのかをまとめたものである。年代が高くなるほど、順位が上がっているものを、ア～カから二つ選び、符号で書きなさい。

【表1】投票の際に考慮したこと

	18・19歳	20～30歳代	40～50歳代	60歳以上
1位	景気対策	景気対策	景気対策	医療・介護
2位	子育て・教育	子育て・教育	医療・介護	年金
3位	消費増税	医療・介護	年金	景気対策
4位	雇用対策	年金	子育て・教育	消費増税
5位	医療・介護	雇用対策	雇用対策	子育て・教育

(公益財団法人 明るい選挙推進協会「第24回参議院議員通常選挙全国意識調査」より作成)

ア 景気対策 イ 医療・介護 ウ 子育て・教育 エ 年金
オ 消費増税 カ 雇用対策

- 5 下線⑤のように、住民が首長と地方議会の議員(地方議員)という2種類の代表を選ぶ制度を何というか、書きなさい。

- 6 下線⑥について、国の予算案の議決で、参議院が衆議院と異なった議決をし、両院協議会でも意見が一致しなかった場合、日本国憲法では、どのように扱うと規定されているか。「国会」という言葉を用いて、簡潔に書きなさい。

【レポート3】 「企業を経営する立場から企業の社会的責任(CSR)について考える」

⑦株式会社などの企業の中には、より多くの利潤を獲得するために、⑧市場で価格や品質などの面で競争する一方で、積極的に社会貢献を行う企業が増えてきている。企業の活動は社会に大きな影響を及ぼすことから、現代では、企業は利潤を追求するだけでなく、⑨法令を守り情報を公開することはもちろん、消費者の安全など、多様な役割と責任をこなすことが必要となっている。

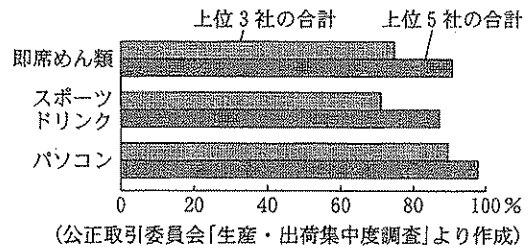
7 下線⑦について、次の , に当てはまる言葉の正しい組み合わせを、ア～エから一つ選び、符号で書きなさい。

企業などの利益にかかる税金を法人税という。法人税は、どこに納めるかによる分類では に、納め方による分類では に分けられる。

- ア d=国税 e=直接税 イ d=国税 e=間接税
ウ d=地方税 e=直接税 エ d=地方税 e=間接税

8 下線⑧について、グラフは、2014年における

即席めん類、スポーツドリンク、パソコンそれぞれの生産量に占める上位3社の割合の合計と上位5社の割合の合計を示したものである。寡占の状態が最も進んでいるものを、ア～ウから一つ選び、符号で書きなさい。



- ア 即席めん類 イ スポーツドリンク ウ パソコン

9 下線⑨について、日本では、労働者の募集などにおける性別を理由とする差別の解消に関して、1985年の制定時の努力義務から、後に差別禁止に内容が強化された法律がある。この法律の名を書きなさい。

【レポート4】 「援助する側の立場から国際貢献について考える」

⑩紛争などの争いごとのない状態だけでなく、貧困や経済格差などを含めた平和ではない状態が改善・解消されなければ、地球上の全ての人々が平和な生活を送ることはできない。そこで、⑪日本は、技術援助を含む政府開発援助(ODA)などを中心に、発展途上国の開発を支援している。この取り組みは、貧困問題の解決だけでなく、人々の自立を促すものでなければならない。

10 下線⑩について、次の に当てはまる言葉を、漢字で書きなさい。

紛争地域では、住んでいた土地を離れて周辺国などへと逃げる が発生している。そこで、国連 高等弁務官事務所 (UNHCR) では、各国にそうした人々の受け入れを求める活動をしている。

11 下線⑪について、次の文章を読んで、(1)、(2)に答えなさい。

(1) 下線Aについて、「世界保健機関」の略称を、大文字のアルファベット3字で書きなさい。

(2) に当てはまる言葉を、ア～エから一つ選び、符号で書きなさい。

日本は、A 国際機関や発展途上国に対して、資金援助とともに技術協力を行っている。技術協力とは、発展途上国の開発のために人材の育成を行う協力である。表2から日本の技術協力の相手先として、 の国々が上位を占めていることが分かる。

【表2】 日本の技術協力の相手先(上位5か国)と実績(2015年) (単位: 万ドル)

国名	実績
ベトナム	7,852
ミャンマー	5,331
インドネシア	5,306
フィリピン	4,966
ケニア	4,077

(「2016年版 開発協力白書」より作成)

- ア 東アジア イ 東南アジア ウ 南アジア エ 西アジア