

平成30年度学力検査

C 社 会 (11時30分～12時15分、45分間)

問 題 用 紙

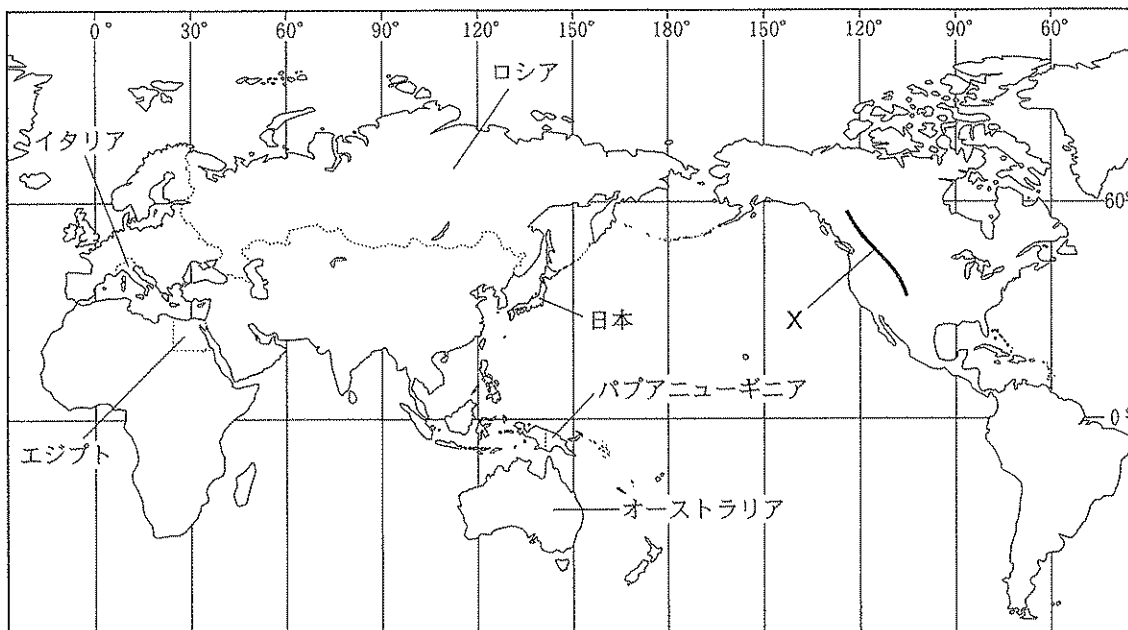
注 意

1. 「開始」の合図があるまで開いてはいけません。
2. 答えは、すべて解答用紙に書きなさい。
3. 問題は、 から  までで、10ページにわたって印刷してあります。
4. 「開始」の合図で、解答用紙の決められた欄に受検番号を書きなさい。
5. 問題を読むとき、声を出してはいけません。
6. 「終了」の合図で、すぐに筆記用具を置きなさい。

1

緯線と経線が直角に交わった次の略地図を見て、あとの各問いに答えなさい。(9点)

(略地図)



(注：国境は一部省略。国境については、確定していないところもある。)(「世界国勢図会 2016/17」ほかから作成)

- (1) 世界には、活発に活動して、高くけわしい山をつくり続けている大きな造山帯が2つある。略地図にXで示したあたりにつらなるロッキー山脈は、日本列島が属している造山帯と同じ造山帯に属している。ロッキー山脈が属している造山帯を何というか、その名称を書きなさい。
- (2) 略地図に示したオーストラリアについて述べた文はどれか、次のア～エから最も適当なものを1つ選び、その記号を書きなさい。

- ア. 20世紀にはいると日本から多くの人々が移住し、サンパウロには現在も日本文化の残る町なみが見られる地域がある。
- イ. 日照時間が長く、気候の温暖なサンベルトとよばれる地域では、先端技術産業が発達している。
- ウ. 先住民のアボリジニーや、ヨーロッパやアジアなどからの移民とその子孫など、多様な民族が、それぞれの文化を尊重する社会を築こうとしている。
- エ. IT産業が盛んになってきており、バンガロールではソフトウェアの開発などを行っている。

(3) 略地図に示したイタリアについて、次の(a), (b)の各問いに答えなさい。

(a) イタリアは、EU(ヨーロッパ連合)に加盟しており、EUに加盟している多くの国で使われている共通の通貨を使っている。この共通の通貨を何というか、その名称を書きなさい。


(b) イタリアは、東経15度の経線に合わせた時刻を標準時として使っている。12月25日にイタリアから日本に向かう飛行機の中で、時計をイタリアの標準時から日本の標準時に合わせるとき、どのように調整するか、次のア～エから最も適当なものを1つ選び、その記号を書きなさい。

- 〔ア. 8時間進める。      イ. 8時間遅らせる。〕  
〔ウ. 9時間進める。      エ. 9時間遅らせる。〕

(4) 資料1は、略地図に示したエジプトの総人口に占める宗教別人口の割合を示したものである。資料1の「あ」にあてはまる宗教を開いた人物はだれか、次のア～エから最も適当なものを1つ選び、その記号を書きなさい。

- 〔ア. イエス      イ. 孔子<sup>こうし</sup>〕  
〔ウ. シャカ      エ. ムハンマド〕

〈資料1〉




(注：数値は2000年のもの。)

([データブック・オブ・ザ・ワールド2017]ほかから作成)

(5) 資料2は、略地図に示したロシアで見られる住居の写真、資料3は、略地図に示したパプアニューギニアで見られる住居の写真である。また、資料4は、資料2、資料3をもとに、ロシアとパプアニューギニアで見られる建物の特徴について、まなみさんがまとめたものである。資料4の「I」にあてはまる、ロシアとパプアニューギニアで見られる建物に共通する特徴は何か、資料2、資料3から読み取れることにふれて、書きなさい。

〈資料2〉



〈資料3〉



〈資料4〉

ロシアで見られる建物は、建物から出る熱で永久凍土<sup>とうど</sup>がとけて建物がかたむくことを防ぐため、また、夏に永久凍土がとけて水はけが悪くなることへの対策として、

I

パプアニューギニアで見られる建物は、風通しをよくして暑さや湿気<sup>しっけ</sup>をやわらげるため、

I

次のページへ→

2 次の略地図を見て、あとの各問いに答えなさい。(9点)

(1) 略地図に示した新潟県が接している県 (略地図)

はいくつあるか、その数を書きなさい。



([日本国勢図会 2017/18]ほかから作成)

(2) 略地図に示した三重県について、次の(a), (b)の各問いに答えなさい。

(a) 資料1は、略地図に示した三重県、愛知県、岐阜県、静岡県における工業生産額、

果実の産出額、漁業生産量を示したものである。三重県は資料1のどれにあてはまるか、ア～エから最も適当なものを1つ選び、その記号を書きなさい。

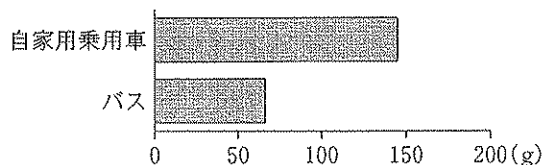
	工業生産額 (億円)	果実の産出額 (億円)	漁業生産量 (万トン)
ア	105,761	72	20.9
イ	161,289	283	20.3
ウ	439,899	175	10.2
エ	51,501	48	0.2

(注：数値は2014年のもの。)

([データでみる県勢 2017]ほかから作成)

(b) 三重県は、自家用乗用車による通勤からバス等の公共交通機関による通勤への転換を促す「みえエコ通勤デー」に取り組んでいる。資料2は、自家用乗用車とバスの、1人を1km輸送する際の二酸化炭素の排出量をそれぞれ示したものである。「みえエコ通勤デー」に取り組むことで、渋滞緩和が見込まれるほか、地球温暖化を防ぐことにつながると期待されている。「みえエコ通勤デー」に取り組むことが、地球温暖化を防ぐことにつながると考えられるのはなぜか、資料2から読み取れることにふれて、「二酸化炭素」という言葉を用いて、書きなさい。

(資料2)



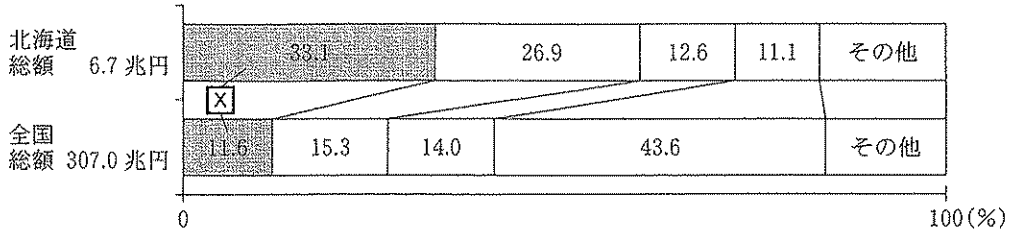
(注：数値は2015年のもの。)

(国土交通省 Web ページから作成)

(3) 略地図に示した北海道について、次の(a), (b)の各問いに答えなさい。

(a) 資料3は、北海道と全国の、工業生産額の内訳を示したものである。資料3の[X]にあてはまる工業は何か、下のア～エから最も適当なものを1つ選び、その記号を書きなさい。

〈資料3〉



〔注：数値は2014年のもの。〕〔日本国勢図会2017/18ほかから作成〕

〔ア. 化学工業      イ. 機械工業      ウ. 金属工業      エ. 食料品工業〕

(b) 資料4は、北海道の岩見沢市付近の一部を示した2万5千分の1の地形図である。資料4に

□で示した正方形の一辺の長さは1cmであり、面積は1cm<sup>2</sup>である。□で示した正方形の実際の面積は何m<sup>2</sup>か、次のア～エから最も適当なものを1つ選び、その記号を書きなさい。

- 〔ア. 10,000 m<sup>2</sup>      イ. 25,000 m<sup>2</sup>〕  
 〔ウ. 62,500 m<sup>2</sup>      エ. 160,000 m<sup>2</sup>〕

〈資料4〉



〔国土地理院電子地形図25000平成29年調整から作成〕

(4) 略地図に示した東京都と沖縄県は、2014年における人口増加率が、全国において上位にあった。資料5は、2014年における東京都と沖縄県の、出生率と死亡率をそれぞれ示したものである。資料6は、2014年における東京都と沖縄県の、転入者数と転出者数をそれぞれ示したものである。2014年における東京都と沖縄県の人口増加のおもな理由はそれぞれ何か、資料5、資料6から読み取れることに基づいて、書きなさい。

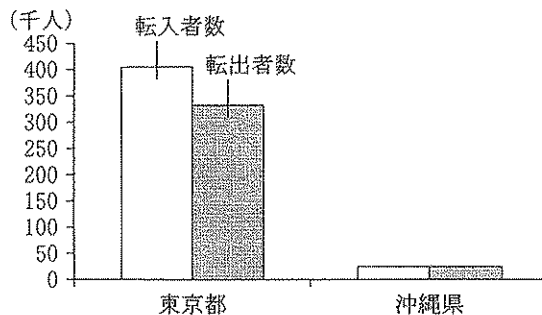
〈資料5〉

	出生率 (人)	死亡率 (人)
東京都	8.5	8.5
沖縄県	11.6	8.1

〔注：出生率と死亡率は人口1,000人あたりの数。〕

〔日本の統計2016〕から作成

〈資料6〉



〔注：転入者数、転出者数には、それぞれ、東京都内の移動や沖縄県内の移動は含まない。〕

〔日本の統計2016〕から作成

次のページへ→

3 次の表は、歴史上の人物やできごとについて、まさおさんがまとめたものの一部である。これを見て、あとの各問いに答えなさい。(9点)

① <small>しょうとくたいし</small> 聖徳太子は、天皇を中心とする政治制度を整えようとした。
② <small>かんじん</small> <small>けんとうし</small> 鑑真は、遣唐使にともなわれて来日し、寺院や僧の制度を整えた。
③ <small>しらかわ</small> 白河天皇は、位をゆずって上皇となつてからも、政治を行った。
④ <small>ぶんえい</small> 1274(文永11)年に、 <small>げん</small> <small>こうらい</small> 元軍は高麗の軍勢も合わせ、日本に襲来した。
⑤ <small>しょうちやう</small> 1428(正長元)年に、 <small>ばしやく</small> 馬借や農民が、 <small>つちいっ</small> <small>き</small> 土一揆を起こした。
⑥ <small>とくがわよしむね</small> 徳川吉宗は、新田の開発を進めたり、米の価格の安定に努めたりした。

(1) 下線部①について、資料1は、政治制度を整えるなかで定められた、役人の心構えを示したものの一部である。この役人の心構えを示したものの名称は何か、次のア～エから最も適当なものを1つ選び、その記号を書きなさい。

〈資料1〉

一に曰く、和をもってたつと貴しとなし、さからうことなきをむね宗とせよ。  
 二に曰く、あつくさんぼう三宝を敬え。三宝とはぶつぽうそう仏法僧なり。  
 三に曰く、みことのり詔をうけたまわりては必ずつつしめ。

- ア. ぶけしよほつと 武家諸法度
- イ. 十七条の憲法
- ウ. くじかたおさだめがき 公事方御定書
- エ. ごせいばいしきもく 御成敗式目

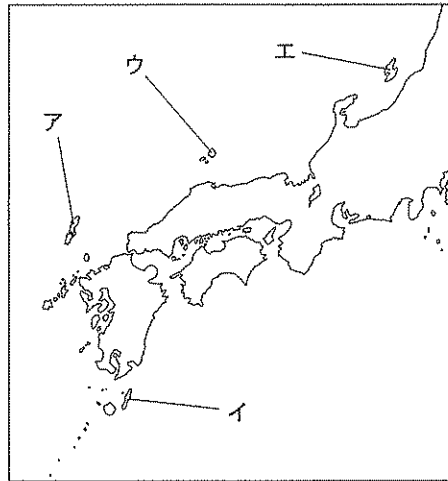
(2) 下線部②について、鑑真が日本に来たころの日本のできごとを述べた文はどれか、次のア～エから最も適当なものを1つ選び、その記号を書きなさい。

- ア. うんけい 運慶によって、とうだいじなんだいもん 東大寺南大門のこんごうりきし 金剛力士像がつくられた。
- イ. じっぺんしやいっく 十返舎一九によって、『とうかいどうちゆうひざくりげ 東海道中膝栗毛』が書かれた。
- ウ. しょうむてんのう 聖武天皇によって、こんどう 東大寺に金銅の大仏がつくられた。
- エ. むらさきしきぶ 紫式部によって、『げんじものがたり 源氏物語』が書かれた。

(3) 下線部③について、上皇やその住まいの呼び名から、上皇の行う政治のことを何というか、その名称を書きなさい。

- (4) 下線部④について、元軍は、対馬、<sup>つしま</sup> 峇岐をへて、<sup>はかた</sup> 博多湾に上陸した。対馬を示した場所はどれか、略地図に示したア～エから最も適当なものを1つ選び、その記号を書きなさい。

〈略地図〉



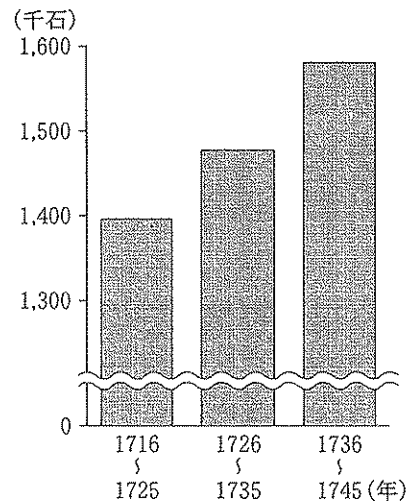
- (5) 下線部⑤について、資料2は、まさおさんが要点をまとめたもの的一部分である。□ X □ にあてはまる、借金を帳消しにする法令を何というか、書きなさい。

〈資料2〉

馬借や農民は、□ X □ を出すよう幕府に要求し、また、酒屋や土倉<sup>どそう</sup>におしにかけて、借金証文を破りすてた。

- (6) 下線部⑥について、資料3は、徳川吉宗が將軍だったころの、幕府領(幕領)における年貢<sup>ねんぎょう</sup>収納高の推移を示したものである。徳川吉宗が新田の開発を進めたのは、どのようなことを目指したからか、その1つとして考えられることを、資料3から読み取れることをもとにして、「年貢」と「財政」という2つの言葉を用いて、書きなさい。

〈資料3〉



(注：年貢収納高は10年間の平均値。)  
 (『日本史辞典』ほかから作成)

次のページへ→

4 次のカードは、さとみさんの学級で、日本の外交や国際社会とのかかわりについて学習した内容を示したものである。これを見て、あとの各問いに答えなさい。(9点)

A	江戸幕府は、ヨーロッパ船や中国船の立ち寄る港を長崎に限定した。	B	18世紀後半から、ロシアなどの外国船が日本に近づくようになった。
C	江戸幕府は、アメリカの求めに応じて条約を結んだ。	D	明治政府は、外国との交際を深めて国を発展させることなどを方針として定めた。
E	平和を維持する機関として国際連盟が発足し、国際協調の気運が高まった。	F	2016年に、主要国首脳会議(サミット)が三重県で開催された。

(1) カードAについて、資料1は、幕府の対外政策について、さとみさんがまとめたものの一部である。資料1の  X  にあてはまる国名は何か、次のア～エから最も適切なものを1つ選び、その記号を書きなさい。

[ア. ポルトガル      イ. スペイン      ウ. オランダ      エ. イギリス]

〈資料1〉

幕府は、 X  人を長崎の出島に移して貿易を許した。また、 X  と中国に、海外の事情を記した風説書の提出を命じた。

(2) カードBについて、資料2は、1825年に幕府が出した法令を現代語訳したものの一部である。資料2に示した、外国船に対する幕府の対応を批判したために、処罰された人物はだれか、次のア～エから最も適切なものを1つ選び、その記号を書きなさい。

[ア. 大塩平八郎      イ. 中江兆民  
ウ. 幸徳秋水      エ. 高野長英]

〈資料2〉

……南蛮・西洋の国々は、日本で禁止しているキリスト教の国であるから、今後どこの海辺の村においても外国船が乗り寄せてきたことを発見したならば、その場に居あわせた人々で、有無を言わずただちに打ち払い……

(〔詳説日本史史料集〕ほかから作成)

(3) カードCについて、資料3は、1858年に日本がアメリカと結んだ条約の内容をまとめたもの的一部分である。資料3に示した、日本がアメリカと結んだ条約を何というか、その名称を書きなさい。

〈資料3〉

・日本で法を犯したアメリカ人を、アメリカの領事がアメリカの法で裁く。  
・アメリカからの輸入品に対して自由に関税をかける権利を日本に認めない。



(4) カードDについて、資料4は、明治時代に活躍したあ  
る人物についてまとめたものの一部、資料5は、明治時  
代のできごとを年代順に㉔~㉞の記号をつけて並べたも  
のである。資料4で示した人物が、君主権の強いドイツ  
の憲法を学び、日本の憲法の草案を作成したのはどの時  
期か、次のア~エから最も適当なものを1つ選び、その  
記号を書きなさい。

- ア. ㉔と㉕の間      イ. ㉕と㉖の間  
ウ. ㉖と㉗の間      エ. ㉗と㉘の間

〈資料4〉

- ・1841年生まれ
- ・長州藩の出身
- ・内閣総理大臣を経験
- ・韓国統監を経験

〈資料5〉

- ㉔ 藩を廃止して県を置く。
- ㉕ 西南戦争がおこる。
- ㉖ 第1回帝国議会が開かれる。
- ㉗ 八幡製鉄所が操業を開始する。
- ㉘ 関税自主権を回復する。

(5) カードEについて、国際連盟が発足した翌年に開かれたワシントン会議で決められた内容に  
ついて述べた文はどれか、次のア~エから最も適当なものを1つ選び、その記号を書きなさい。

- ア. 日英同盟を解消すること。  
イ. 朝鮮の独立を認めること。  
ウ. 中国に対して二十一か条の要求を示すこと。  
エ. ドイツに巨額の賠償金を課すこと。

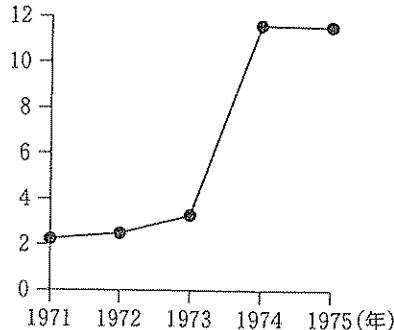
(6) カードFについて、さとみさんは、サミットの歴史  
について調べ、いくつかの資料を作成した。資料6  
は、サミットの歴史についてまとめたもの的一部、資  
料7は、原油価格の推移を示したもの、資料8は、先  
進国の経済成長率の推移を示したものである。1975  
年の第1回サミットで、世界の経済問題が議論される  
ことになった背景は何か、その1つとして考えられる  
ことを、資料7、資料8から読み取れることにふれ  
て、書きなさい。

〈資料6〉

フランス大統領の提案により、1975  
年11月に、日本、アメリカ、イギリ  
ス、フランス、ドイツ、イタリアの6  
か国による第1回サミットが開催さ  
れ、世界の経済問題について議論され  
た。

〈資料7〉

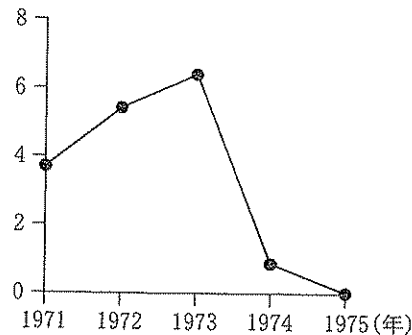
(ドル/バレル)



(注：1バレル=約159リットル。)  
(BP Web ページほかから作成)

〈資料8〉

(%)



(注：経済成長率は国内総生産の増加率で  
表している。)

(IMF Web ページほかから作成)

次のページへ→

- 5 右の表は、あいかさんの学級で、公民的分野の調べ学習を行ったときに設定された7つのテーマを示したものである。これを見て、あとの各問いに答えなさい。(14点)


テーマ1	社会の変化と人権保障
テーマ2	地域統合
テーマ3	財政政策
テーマ4	国会の種類
テーマ5	権力分立
テーマ6	私たちの消費生活
テーマ7	現代の雇用

- (1) テーマ1について、次の(a)、(b)の各問いに答えなさい。

- (a) 資料1は、臓器提供意思表示カードを示したものである。資料1のカードに記入した本人の意思を尊重する新しい人権を何というか、次のア～エから最も適当なものを1つ選び、その記号を書きなさい。

ア. 国政調査権      イ. 自己決定権  
ウ. 生存権          エ. 団結権

〈資料1〉



- (b) 言語や文化、国籍、性別、年齢、障がいの有無などにかかわらず利用することができる施設や製品などのデザインのことを何というか、その名称を書きなさい。

- (2) テーマ2について、アメリカ、カナダ、メキシコの3か国間で結ばれている北米自由貿易協定の略称は何か、次のア～エから最も適当なものを1つ選び、その記号を書きなさい。

ア. APEC      イ. AU      ウ. MERCOSUR      エ. NAFTA

- (3) テーマ3について、資料2は、1990年代以降の日本の財政について、あいかさんがまとめたものの一部である。資料2の X、Y にあてはまる言葉の組み合わせはどれか、次のア～エから最も適当なものを1つ選び、その記号を書きなさい。

〈資料2〉

日本では1990年代初めに X が終わり、その後長い不況が続いた。政府は Y を大量に発行し、税収の不足を補った。1999年から2017年まで、歳入に占める Y の割合は3割を超えている。

ア. X - 高度経済成長      Y - 国債      イ. X - 高度経済成長      Y - 株式  
ウ. X - バブル経済      Y - 国債      エ. X - バブル経済      Y - 株式

- (4) テーマ4について、資料3は、2012年から2015年までの間に召集された国会の種類についてまとめたものである。資料3から、2012年から2015年までの間に衆議院の解散が何回あったことがわかるか、その回数を書きなさい。

〈資料3〉

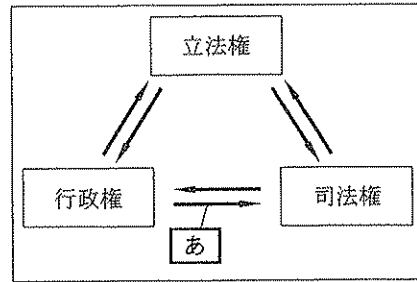
		召集された国会の種類
2012年	1月	常会
	10月	臨時会
	12月	特別会
2013年	1月	常会
	8月	臨時会
	10月	臨時会
2014年	1月	常会
	9月	臨時会
	12月	特別会
2015年	1月	常会

(衆議院 Web ページほかから作成)

(5) テーマ5について、次の(a), (b)の各問いに答えなさい。

(a) 資料4は、日本における国の権力分立について、模式的にまとめたものである。矢印 $\longleftrightarrow$ は、立法権、行政権、司法権が相互に抑制し合い、均衡を保つためのはたらきを示している。資料4の「あ」にあてはまるはたらきは何か、次のア～エから最も適当なものを1つ選び、その記号を書きなさい。

(資料4)



- ア. 最高裁判所長官の指名    イ. 衆議院の解散  
ウ. 裁判官の弾劾裁判        エ. 内閣不信任の決議

(b) 『法の精神』を著し、権力分立を説いたフランスの思想家はだれか、書きなさい。

(6) テーマ6について、資料5は、あいかさんが要点をまとめたものの一部である。資料5の「I」にあてはまる最も適当な言葉は何か、書きなさい。

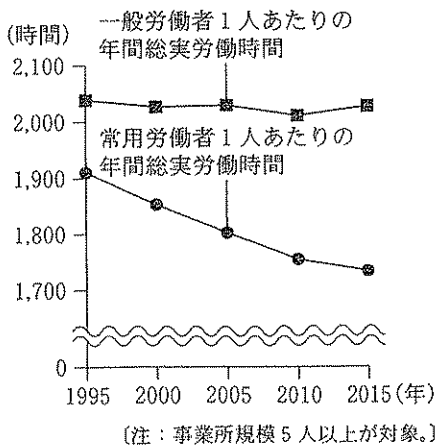
(資料5)

家族や個人など、消費生活を営む単位を「I」といい、「I」の収入を所得という。

(7) テーマ7について、あいかさんは、日本の労働者の労働時間に興味を持ち、資料を作成した。資料6は、一般労働者1人あたりの年間総実労働時間の推移と、常用労働者1人あたりの年間総実労働時間の推移を示したものである。また、資料7は、一般労働者1人あたりの年間総実労働時間を100としたときの、パートタイム労働者1人あたりの年間総実労働時間を示したものの、資料8は、常用労働者数に占めるパートタイム労働者数の割合の推移を示したものである。資料6に示したように、一般労働者1人あたりの年間総実労働時間はほとんど変化していないにもかかわらず、常用労働者1人あたりの年間総実労働時間が減少しているのはなぜか、その理由の1つとして考えられることを、資料7、資料8から読み取れることにふれて、書きなさい。

- ※1 フルタイムで勤務する労働者(正規の勤務時間を完全に勤務する労働者)のこと。  
※2 残業や休日出勤等を含めた、1年間に、実際に労働した時間のこと。  
※3 一般労働者とパートタイム労働者をあわせた労働者のこと。

(資料6)

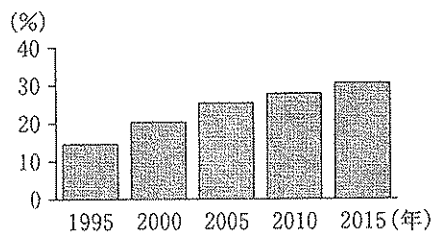


(資料7)

	一般労働者	パートタイム労働者
年間総実労働時間	100	56

[注：1995年から2015年までの平均値から算出。]

(資料8)



(資料6、資料7、資料8は首相官邸Webページほかから作成)

—おわり—