

平成30年度

県立高等学校一般入学者選抜学力検査問題

第2日 第1時限

(3月7日 9時30分～10時20分)

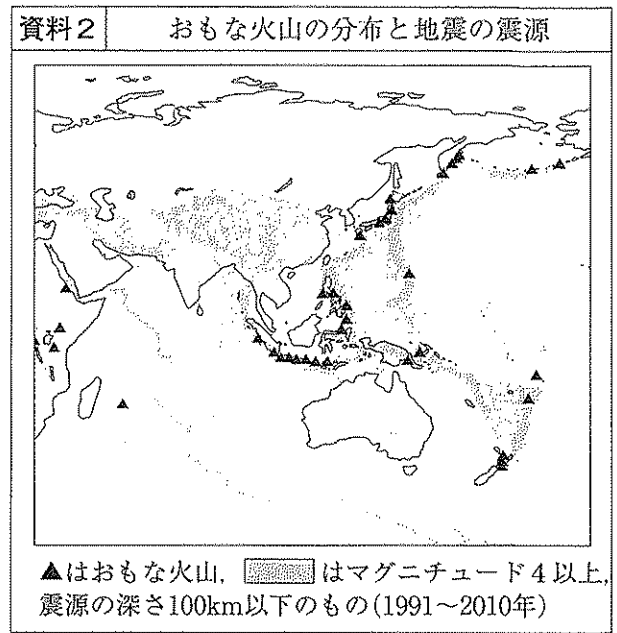
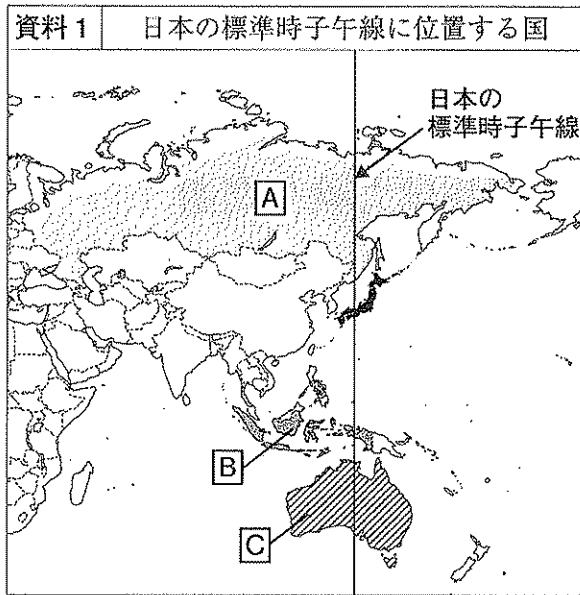
社 会

(注 意)

- 1 「始め」の合図があるまで、このページ以外のところを見てはいけません。
- 2 問題用紙は、表紙を除いて14ページで、問題は4題です。
- 3 「始め」の合図があったら、まず解答用紙に受検番号および氏名を記入し、次に問題用紙のページ数を調べて、異常があれば申し出なさい。
- 4 答えは、必ず解答用紙の答えの欄に記入しなさい。
- 5 印刷がはっきりしなくて読めないときは、だまって手をあげなさい。問題内容や答案作成上の質問は認めません。
- 6 「やめ」の合図があったら、すぐ筆記用具をおき、解答用紙だけを裏返しにして、机の上におきなさい。

1 ^{みはる}美春さんのクラスでは、地理的分野の学習で、テーマを決めて、調査活動を行いました。

1 美春さんの班は、「日本の標準時子午線に位置する国の環境」というテーマで、資料1、2を作成しました。後の(1)~(5)の問いに答えなさい。



(1) 資料1の [A]国~[C]国のうち、国土のすべてが南半球に位置する国を1つ選び、その国名を書きなさい。

(2) 資料1の [A]国~[C]国の地形に関する説明として最も適切なものを、資料2を参考に、次のア~エから1つ選び、記号で答えなさい。

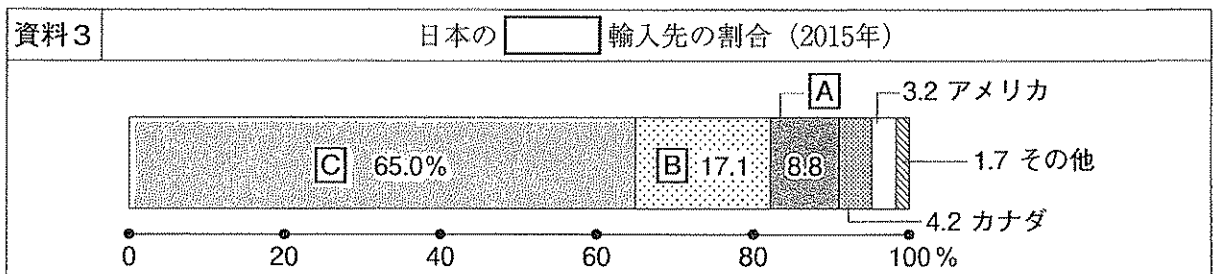
ア 日本と [A]国は、どちらもアルプス・ヒマラヤ造山帯に位置する。

イ 日本と [B]国は、どちらも火山が多い。

ウ 日本と [C]国は、どちらも環太平洋造山帯に位置する。

エ [B]国と [C]国は、どちらも地盤の変動が多く、地形が平坦になっている。

(3) 美春さんは、資料1の [A]国~[C]国と日本との貿易を調べていく中で、資料3を見つけました。資料3の [] に当てはまる貿易品として最も適切なものを、下のア~エから1つ選び、記号で答えなさい。



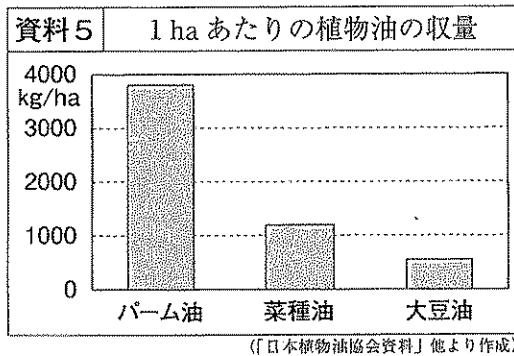
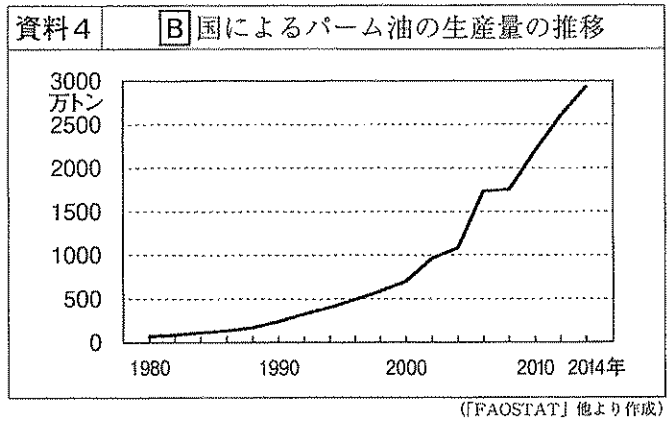
ア 石炭

イ 羊毛

ウ 鉄鉱石

エ 牛肉

(4) 美春さんは、資料1の [B]国が生産している輸出用の作物について調べていく中で、資料4を見つけ、パーム油の生産量が増えていることを知りました。そこで、その理由について、資料5、6を使って、下のようにまとめました。資料5、6をもとに、に入る適切な内容を書きなさい。



資料6 パーム油に関する資料

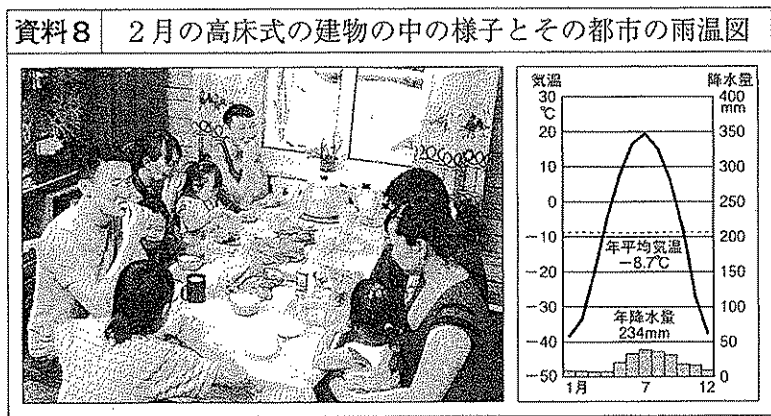
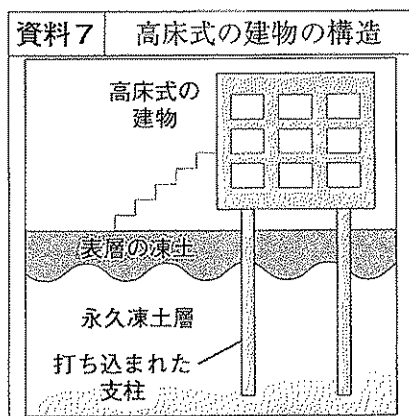
世界で使用されているパーム油の約8割は、食用です。食品を製造するときに、固体で使用すると、口どけなめらかなチョコレートなどできます。また、液体でポテトチップスなどの揚げ油に使用すると、酸化しにくく、サクッと仕上げることができます。

(「世界自然保護基金ジャパン資料」他より作成)

美春さんのまとめ① (一部)

[B]国のパーム油の生産量が増えているのは、資料5、6より、ため、食品メーカーの需要が増え、各国の輸入量が増加したからだと考えられる。




(5) 美春さんは、資料1の [A]国について調べていく中で、資料7を見つけ、建物の多くが高床式になっている都市があることを知りました。そこで、その理由について、資料7、8を使って、下のようにまとめました。資料7、8を関連づけて、に入る適切な内容を書きなさい。

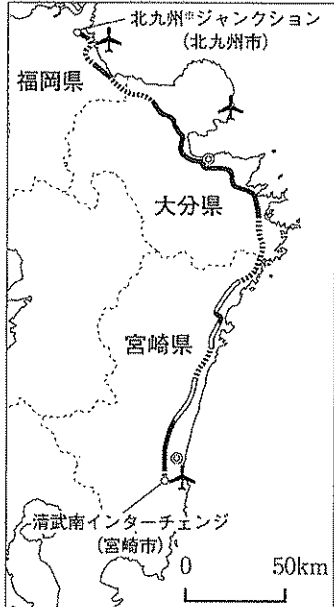


美春さんのまとめ② (一部)

資料7、8より、この都市の建物の多くが支柱を深く打ち込んだ高床式になっている理由として、冬においては、のを防ぐためと考えられる。

- 2 慎也さんの班は、東九州自動車道の整備によって、北九州市から宮崎市までが結ばれたことを受け、「九州地方の交通網の整備と人々の暮らし」というテーマで、資料1、2を作成しました。後の(1)~(5)の問いに答えなさい。

資料1	東九州自動車道によって結ばれた九州地方の3県のおもな特色
ア	 <p>この県では、日本最大級の地熱発電所が見られます。</p>
イ	 <p>この県では、きゅうりやピーマンなどの促成栽培を行うビニールハウス群が見られます。</p>
ウ	 <p>この県では、明治時代に建設された製鉄所が臨海部に見られます。</p>

資料2	東九州自動車道に関する資料
<p>〈平成28年4月の開通区間〉</p>  <p>東九州自動車道の整備により、北九州市から宮崎市までの所要時間は、未整備だった時の約8時間45分から約4時間20分に短縮されました。</p> <p>.....平成25年以降に開通 ——平成21~24年に開通 ——平成20年までに開通</p> <p>◎ 県庁所在地 ✈ 空港</p> <p>※高速道路相互を直接接続するインターチェンジのこと</p> <p>50km</p>	

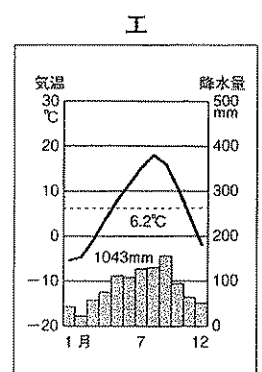
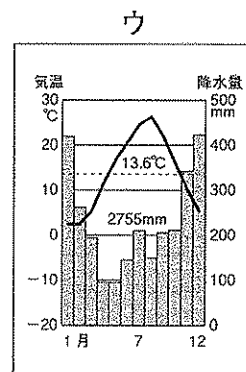
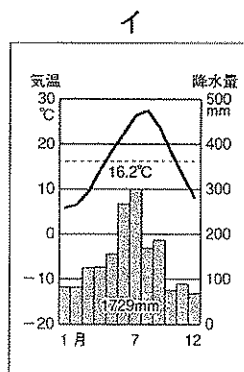
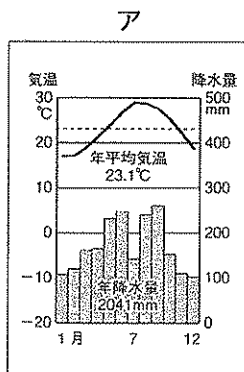
(「NEXCO 西日本九州支社資料」他より作成)

- (1) 東九州自動車道を使って宮崎市から北九州市まで移動した場合、資料1のア~ウの県を、通過する順に、記号で並べなさい。

- (2) 資料2から読み取れる内容として、最も適切なものを、次のア~エから1つ選び、記号で答えなさい。

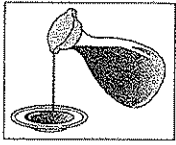
- ア 東九州自動車道の整備で、北九州市から宮崎市までの所要時間は約3時間短縮された。
 イ 東九州自動車道から3県の空港までの最短距離は、すべて10 km 以内である。
 ウ 東九州自動車道の福岡県と大分県、大分県と宮崎県の県境は、平成25年以降に結ばれた。
 エ 東九州自動車道の平成28年4月の北九州市から宮崎市までの開通区間は約150 km である。

- (3) 慎也さんは、資料2の福岡県に関して、北九州市の気候に興味を持ち、雨温図を作成しました。北九州市の雨温図を、次のア~エから1つ選び、記号で答えなさい。

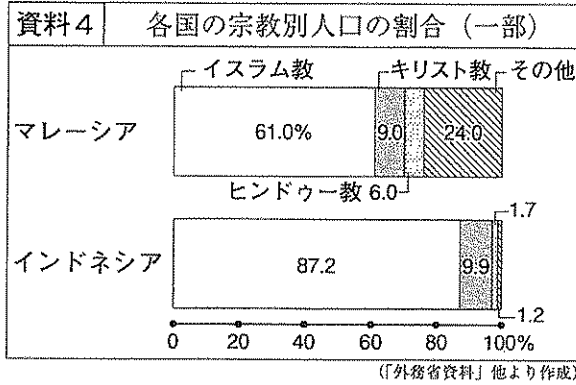


(「理科年表平成27年」より作成)

(4) 慎也さんは、資料2の大分県の産業に関して、資料3を見つけ、下のようにまとめました。資料4、5を関連づけて、に入る適切な内容を書きなさい。

資料3	大分県の産業に関する資料
<p>大分県で調味料を製造する企業Aは、大学と共同で、アルコールを使用しない「しょうゆ」の開発を始めました。</p> <p>和食への関心を高め、経済発展が見込まれるASEAN（東南アジア諸国連合）への輸出をめざしています。</p>	
	

(「日本経済新聞」他より作成)




資料5	世界の宗教に関する資料（一部）
宗教名	おもな特色やきまりごと
キリスト教	日曜日には多くの人々が教会を訪れます。
ヒンドゥー教	神の使いである牛を食べません。
イスラム教	豚肉は食べず、アルコールは飲みません。

慎也さんのまとめ①（一部）

企業Aが、このような「しょうゆ」を開発し、ASEAN（東南アジア諸国連合）への輸出をめざしているのは、和食への関心を高めることに加えて、資料4、5より、この地域には、からだと考えられる。

(5) 慎也さんは、資料2の宮崎県に関して、乗客と宅配荷物をいっしょに運ぶ「客貨混載」の取り組みが、過疎化が進む地域と最寄りの都市を結ぶバス路線で行われていることを知りました。そこで、その取り組みについて調べていく中で、資料6、7を見つけ、下のようにまとめました。資料6、7をもとに、ア、イに入る適切な内容を書きなさい。

資料6	客貨混載のバスの内部
	<p>客貨混載のバスには、バス会社が路線バスを改造した荷物用のスペースが設置されています。</p> <p>バス会社は、宅配会社にそのスペースを賃貸し、収入を得ることができます。</p>

資料7	過疎地域に関する資料
<p>過疎地域では、バスの利用者が減り続け、赤字の路線も多くなっています。</p> <p>しかし、一人暮らしの高齢者などにとって、バスは、病院や買い物に行く時に欠かせません。</p>	
<small>〔資料6、7「ヤマトホールディングス資料」他より作成〕</small>	

慎也さんのまとめ②（一部）

「客貨混載」の取り組みは、資料6より、バス会社にとって、アを確保でき、資料7より、過疎地域にとって、イにつながると考えられる。

2

健矢さんのクラスでは、歴史的分野の学習で、テーマを決めて、発表することになりました。

- 1 健矢さんは、「宮崎県の文化財」について調べ、その内容をカードA～Eにまとめました。後の(1)～(5)の問いに答えなさい。

カードA
 〈高千穂町の陣内遺跡〉
 a 縄文時代に、魔よけなどに使われたと考えられている土偶が出土した。

カードB
 〈西都市の日向国分寺跡〉
 b 聖武天皇は、国ごとに国分寺・国分尼寺を建て、政治や社会の安定をはかろうとした。

カードC
 〈日南市の飫肥城跡〉
 伊東氏が、c 守護大名から戦国大名になった島津氏との攻防をくり返し、その後、伊東氏の居城となった。

カードD
 〈宮崎市の下那珂遺跡〉
 約150点におよぶ石包丁や、d 銅鏡の破片が出土した。

カードE
 〈三股町などのかくれ念仏洞〉
 e 薩摩藩から厳しい弾圧を受けながらも、一向宗(浄土真宗)の信者たちは、念仏洞で信仰を続けた。

(「宮崎県の歴史散歩」他より作成)

- (1) 下線部aに最も関連が深いものを、次のア～エから1つ選び、記号で答えなさい。

- ア 土器をつくり始めた。 イ 大型の古墳がつくられた。
 ウ 漢字や儒学が伝わった。 エ 青銅器や鉄器が伝わった。

- (2) 下線部bに関して、聖武天皇のころの年号にちなんだ文化に関する説明として最も適切なものを、次のア～エから1つ選び、記号で答えなさい。

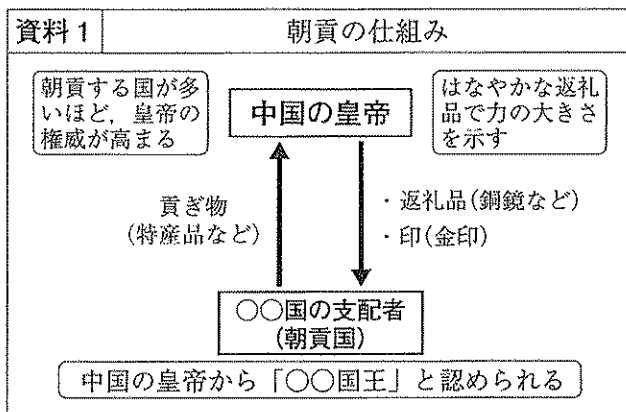
- ア 公家の文化と武家の文化が融合して、新たな文化が生まれた。
 イ 唐風の文化をふまえながらも、日本の風土や生活に合った文化が生まれた。
 ウ 飛鳥地方を中心に、日本で最初の仏教文化が栄えた。
 エ 都を中心に、仏教と唐の文化の影響を強く受けた国際的な文化が栄えた。

- (3) 健矢さんは、下線部cに関して、守護大名と戦国大名について調べ、学習メモを作成しました。学習メモの①、②に入る内容として最も適切なものを、次のア～エから1つ選び、記号で答えなさい。

- ア ①一将軍の補佐役である管領に任命された。
 ②一地方の政治をほとんど国司にまかせた。
 イ ①一将軍の補佐役である管領に任命された。
 ②一領国支配のために、分国法を定めた。
 ウ ①一執権として御家人たちをまとめた。
 ②一地方の政治をほとんど国司にまかせた。
 エ ①一執権として御家人たちをまとめた。
 ②一領国支配のために、分国法を定めた。

学習メモ (一部)
 守護大名：室町幕府では、有力な守護大名は、①
 戦国大名：下剋上の風潮が広がって各地に登場し、②

- (4) 健矢さんは、下線部dに関して、魏の歴史書（「魏志倭人伝」）の記録を読んで、「なぜ卑弥呼は魏に貢ぎ物をおくったのだろう」という疑問を持ち、下のように仮説を設定しました。資料1、2を関連づけて、**ア**、**イ**に入る適切な内容を書きなさい。



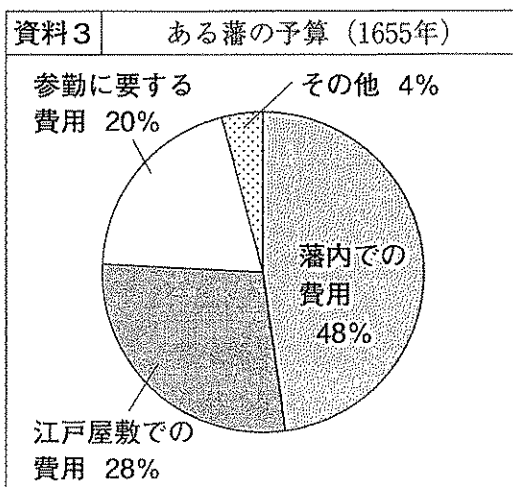
資料2 邪馬台国に関する資料

倭人の国は多くの国に分かれている。そのなかで、邪馬台国は、女王の卑弥呼がおさめている。

健矢さんの仮説

女王の卑弥呼が、魏に貢ぎ物をおくったのは、資料1より、中国の皇帝から銅鏡などの返礼品や金印を受け、**ア** ことによって、資料2より、**イ** と考えたからだろう。

- (5) 健矢さんは、下線部eに関して、江戸幕府の大名の統制について調べていく中で、資料3、4を見つけ、下のように発表原稿にまとめました。資料3、4をもとに、**ウ**、**エ**に入る適切な内容を書きなさい。



資料4 参勤交代に関する資料

豊臣氏が滅亡すると、大名たちは、自発的に江戸に参勤するようになった。

その後、参勤をしない大名は、将軍の身内であっても、幕府への反抗とみなされ、藩の取りつぶしなどの厳しい処分が待っていた。

(資料3、4「参勤交代」他より作成)

健矢さんの発表原稿 (一部)

資料3より、参勤交代の制度は、大名にとって、**ウ** ため、藩の財政は苦しくなりました。また、資料4より、参勤 (江戸に来ること) には、将軍にとって、**エ** を確認する意味があったと考えられます。

2 真美さんは、「民衆運動の歩み」について調べ、資料A～Dを作成しました。後の(1)～(5)の問いに答えなさい。

資料A
天明のききんで、百姓一揆や打ちこわしが数多く起こるようになった。幕府は a 寛政の改革を始めたが、十分な効果を上げることはできなかった。

資料B
b 板垣退助らが、政府に民撰議院設立の建白書を提出して国会の開設を求め、自由民権運動が始まった。運動には、商工業者や地主なども参加するようになった。

資料C
米の買いしめから、米騒動が全国に広がり、c 労働運動や女性運動、民衆運動なども広がりを見せた。

資料D
敗戦後、d 1946年5月に行われたメーデーには、労働者だけでなく主婦も多く参加した。

(1) 資料Aの下線部aを進めた人物を、次のア～エから1つ選び、記号で答えなさい。

- ア 田沼意次 イ 水野忠邦 ウ 松平定信 エ 徳川吉宗

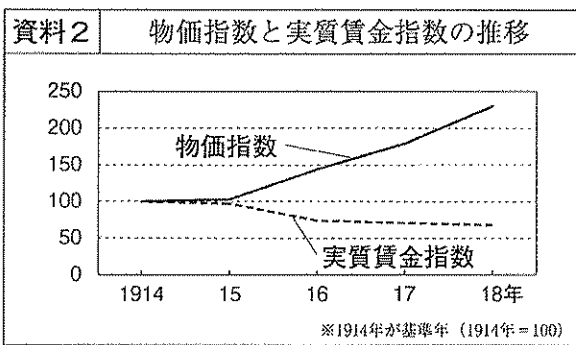
(2) 資料Bの下線部bよりも前に起こったできごととして最も適切なものを、次のア～エから1つ選び、記号で答えなさい。

- ア 征韓論が高まった。 イ 大日本帝国憲法が公布された。
ウ 西南戦争が起こった。 エ 第1回帝国議会が開かれた。

(3) 真美さんは、資料Cの下線部cについて調べていく中で、資料1を見つけ、労働争議の参加人員と発生件数が増えていることを知りました。そこで、資料2、3を使って、下のように発表原稿にまとめました。①に入る内容、②に入る語の組み合わせとして最も適切なものを、次のア～エから1つ選び、記号で答えなさい。

年	参加人員(人)	発生件数(件)
1914	7904	50
1916	8413	108
1918	66457	417

(「近現代日本経済史要覧」より作成)



資料3 1917年のある国に関する資料

戦争が長引き、生活が苦しくなったこの国では、労働者と農民の独裁を唱えた指導者が、社会主義の世界革命をめざしました。


この指導者のもと、社会主義を唱える世界で最初の政府ができました。

真美さんの発表原稿① (一部)

労働争議の参加人員や発生件数が増えたのは、資料2より、第一次世界大戦中の好景気が①を招いたからだと思います。また、資料3より、②が影響をあたえたことも考えられます。

- ア ①—賃金の上昇 ②—辛亥革命 イ ①—賃金の上昇 ②—ロシア革命
ウ ①—物価の上昇 ②—辛亥革命 エ ①—物価の上昇 ②—ロシア革命

(4) 真美さんは、資料Dの下線部dについて調べていく中で、資料4、5を見つけ、このころの都市の住民の生活について、下のように発表原稿にまとめました。資料4、5を関連づけて、に入る適切な内容を書きなさい。



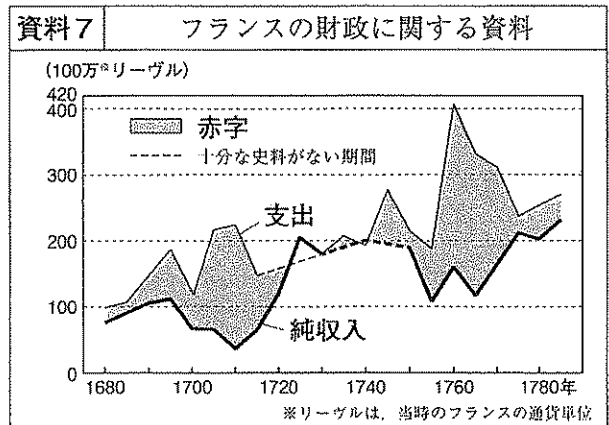
真美さんの発表原稿② (一部)

資料4、5より、このころの都市の住民は、と考えられます。

(5) 真美さんは、今回の調べ学習を通して、フランス革命に興味を持ち、調べていく中で、資料6、7、8を見つけ、下のように発表原稿にまとめました。資料6、7を関連づけて、アに、資料8をもとに、イに入る適切な内容を書きなさい。ただし、イには「平民」という語を使って書きなさい。

資料6	革命前のフランスのできごと
年	おもなできごと
1701～13	イギリス・オーストリア・オランダなどと戦う
1740～48	オーストリア・イギリスと戦う
1754～63	アメリカの植民地をめぐるイギリスと戦う
1775～83	アメリカ独立戦争で植民地を支援する

(「最新世界史図説クバストーリー」他より作成)



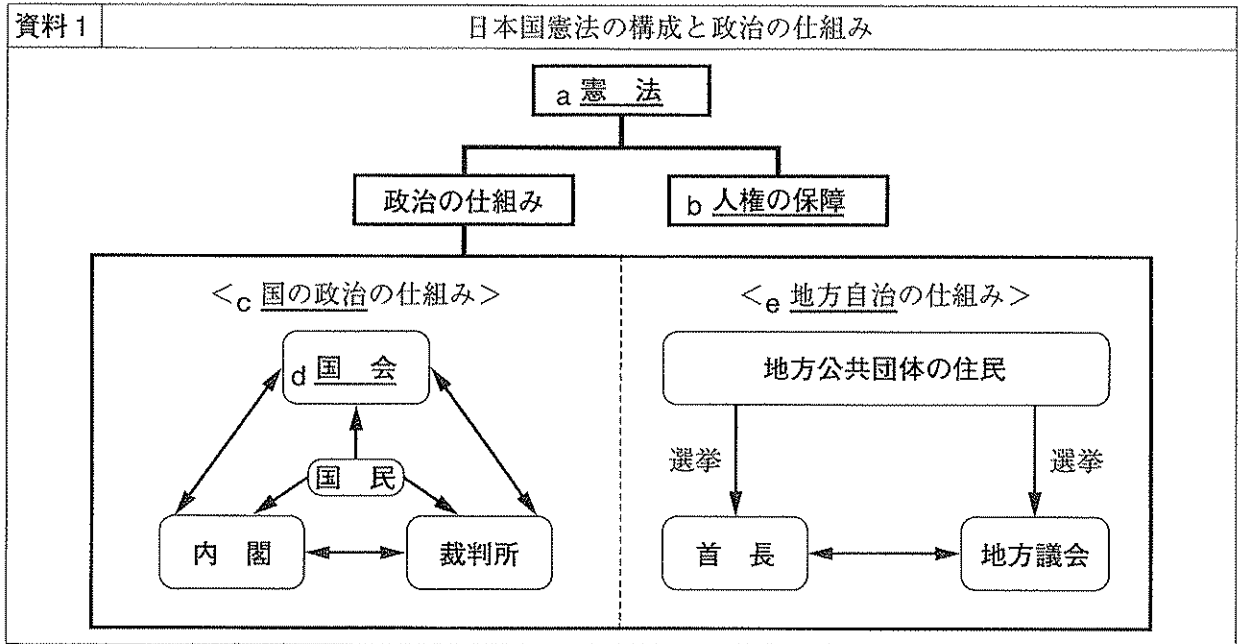
資料8	革命前のフランス (当時の版画)
	<p>革命前のフランスでは、人口の90%を平民がしめ、聖職者と貴族は免税の特権を持っていました。</p>

真美さんの発表原稿③ (一部)

フランス革命が起こった背景として、資料6、7より、アにもかかわらず、資料8より、イことが考えられます。

3 千佳さんのクラスでは、公民的分野の学習で、レポートを作成して、発表することになりました。

1 千佳さんは、昨年が日本国憲法が施行されて70年であったことを知り、「日本国憲法と政治の仕組み」のテーマでレポートを作成するため、資料を集めました。後の(1)~(5)の問いに答えなさい。



(1) 資料1の下線部aに関して、次の に当てはまる語を漢字2文字で書きなさい。

政治権力から人権を守り、保障していくために、憲法に基づいて政治権力を制限するという考えが生まれました。これを 主義といいます。

(2) 千佳さんは、資料1の下線部bについて調べていく中で、資料2を見つけ、次のように発表原稿にまとめました。 に入る人権の名称を書きなさい。



千佳さんの発表原稿① (一部)
 防犯カメラには、個人を識別する技術があり、犯罪の捜査などにも役立つと考えられています。一方で、新しい人権である が侵害され、個人の監視が可能になるという問題も指摘されています。

(3) 資料1の下線部cに関して、主権者である国民が国の政治に参加する権利として最も適切なものを、次のア~エから1つ選び、記号で答えなさい。

- ア 国民は、内閣不信任の決議を行って、内閣の責任を問うことができる。
- イ 国民は、満18歳になると、国政選挙で代表者を選んだり、立候補したりすることができる。
- ウ 国民は、国政調査権を持ち、政治全般について調査することができる。
- エ 国民は、国会が発議した憲法改正案について、国民投票を行うことができる。

- (4) 千佳さんは、資料1の下線部dに関して、国会の二院制に興味を持ち、その意義について調べていく中で、資料3、4を見つけ、下のように発表原稿にまとめました。資料3、4を参考に、に入る適切な内容を書きなさい。

資料3	新聞の記事① (一部)
1994年1月、衆議院が可決した内閣の最重要法案である政治改革関連法案は、参議院で否決され、両院協議会が行われた。	

資料4	新聞の記事② (一部)
2005年8月、衆議院が可決した内閣の最重要法案である郵政民営化法案は、参議院で否決され、首相は衆議院を解散した。	


(資料3、4「朝日新聞縮刷版」他より作成)

千佳さんの発表原稿② (一部)

日本の国会では、二院制が採られ、衆議院の優越が認められていますが、参議院が置かれているのは、資料3、4より、ことができ、また、国民のさまざまな意見をより広く国会に反映させることができるからだと考えられます。

- (5) 千佳さんは、資料1の下線部eについて調べていく中で、資料5、6を見つけ、地方自治の特色について、下のように発表原稿にまとめました。資料5、6をもとに、アイに入る適切な内容を書きなさい。

資料5	地域のさまざまな取り組み
山形県 <small>よねざわ</small> 米沢市	市民の発明に奨励金を交付し、市の産業振興をはかる。
福岡県 福岡市	市民に自転車を安全に利用してもらうために、「押し歩き推進区間」を設ける。

資料6	住民投票を行う中学生
	長野県 ^{ひらや} 平谷村では、2003年に、合併の賛否をめぐって全国ではじめて中学生以上の村民を対象とする住民投票が行われました。

千佳さんの発表原稿③ (一部)

地方自治の特色として、資料5より、地方議会が、国の法律の範囲内で独自の法であるアことによって、ほかの地方公共団体には見られない取り組みができることがあげられます。また、地方自治を充実させるためには、資料6の住民投票などのように、住民が地域の問題に関心を持ってイことが必要だと思います。

- 2 啓介^{けいすけ}さんは、「地域の企業と私たちの生活」のテーマでレポートを作成するため、資料を集めました。後の(1)～(5)の問いに答えなさい。

資料1 ○○貿易株式会社のホームページ（一部）

○○貿易株式会社 フルーツの味わいを生かしたゼリーをお届けします。

Language

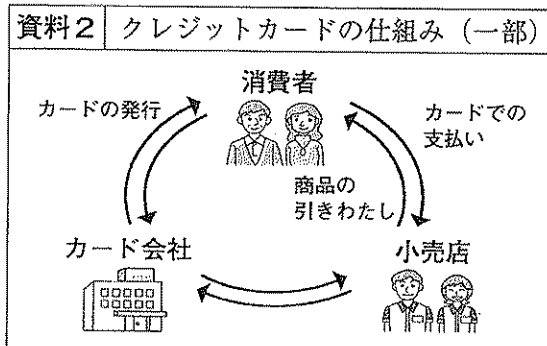
社長より 企業情報 a商品情報 企業の社会的責任（CSR） bお支払いについて

☆新着情報☆

- □□県の c災害に対する支援について
- d消費税増税の対応について
- e商品価格改正について

株主・投資家向け情報
採用情報
サポート・お問い合わせ

- (1) 資料1の下線部aに関して、欠陥商品で消費者が被害を受けたとき、損害賠償の責任を企業に負わせる法律を何というか、書きなさい。
- (2) 啓介さんは、資料1の下線部bについて調べていく中で、資料2を見つけ、次のように発表原稿にまとめました。①、②に当てはまる語の組み合わせとして最も適切なものを、下のア～エから1つ選び、記号で答えなさい。



啓介さんの発表原稿①（一部）

クレジットカードは、支払い方法の1つですが、お金ではありません。代金は①で、②が一時的に代金を立てかえるだけです。

収入や支出を考えて、無理のない支払い計画を立てることが大切です。

- ア ①—後払い ②—小売店 イ ①—後払い ②—カード会社
ウ ①—前払い ②—小売店 エ ①—前払い ②—カード会社

- (3) 啓介さんは、資料1の下線部cについて、災害時の避難場所を表した標識を調べていく中で、資料3を見つけました。資料4を参考に、に入る適切な内容を書きなさい。

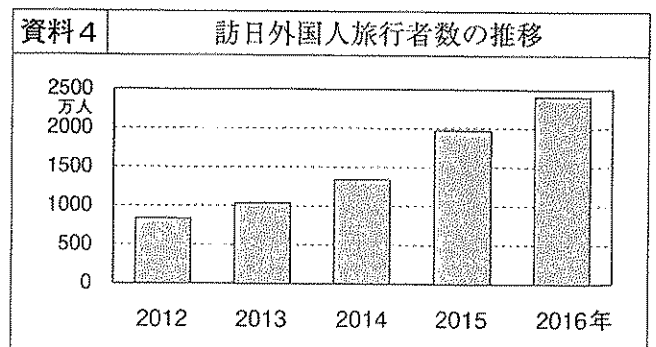
資料3 標識に関する資料（一部）

津波避難ビル

〈デザイン以外の留意点〉

- ・記載する施設名などには、ふりがなを併記することが望ましい。
- ・があることが望ましい。

〔日本標識工業会資料〕他より作成



〔日本政府観光局資料〕より作成

(4) 啓介さんは、資料1の下線部dについて調べていく中で、資料5、6を見つけ、下のように発表原稿にまとめました。資料5、6をもとに、**ア**、**イ**に入る適切な内容を書きなさい。

資料5 消費税の負担額と割合(推計)		
年間収入(万円)	税率8%の場合の1か月あたりの消費税負担額(円)	月収に占める消費税負担額の割合(%)
200~250	14,465	7.7
650~700	23,184	4.1
1500~	38,796	2.2

※単身世帯は含まない
〔総務省資料〕他より作成

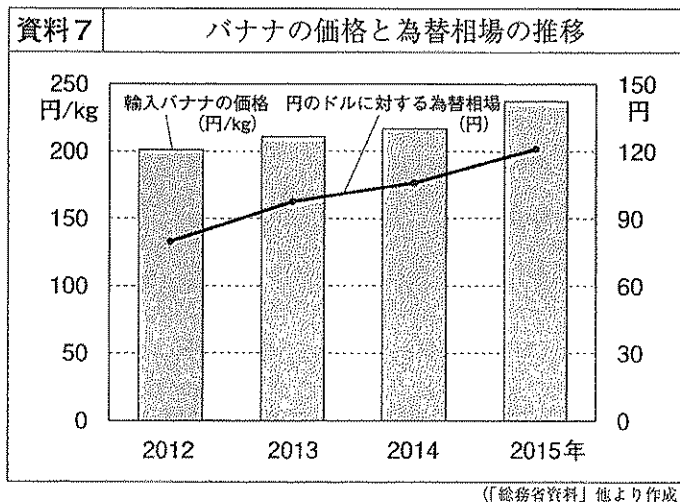
資料6 ヨーロッパの [※] 付加価値税(2016年1月現在) ※日本の消費税に相当		
国名	標準税率(%)	軽減税率(%)
フランス	20.0	・宿泊施設の利用など 10.0 ・食料品、書籍など 5.5 ・新聞、医薬品など 2.1
ドイツ	19.0	食料品、水道水、新聞、雑誌、宿泊施設の利用など 7.0

〔財務省資料〕より作成

啓介さんの発表原稿②(一部)

消費税は、国民の所得に関係なく一定の税率が課せられますが、資料5より、**ア**という傾向があります。低所得者に対するこの傾向を弱めるため、資料6より、生活必需品の税率を低くおさえる軽減税率を導入している国もあり、税金の**イ**をめざすうえで、参考になると思います。

(5) 啓介さんは、資料1の下線部eに関して調べていく中で、資料7を見つけ、「なぜ日本が輸入しているバナナの価格は変化するのだろうか」という疑問を持ち、下のように仮説を設定しました。資料7、8をもとに、**ウ**には、「円高」か「円安」のどちらかを書き、**エ**には、適切な内容を、「供給量」という語を使って書きなさい。



資料8 バナナに関する資料				
日本がバナナを輸入している国の9割近くをしめているフィリピンでは、2012年12月の台風によって、生産地が大きな被害を受けた。				
〈フィリピンからのバナナ輸入量の推移〉				
年	2012	2013	2014	2015
輸入量(万トン)	103	91	87	82

〔財務省資料〕他より作成

啓介さんの仮説

2012年から2015年にかけて、輸入バナナの価格が上がった1つめの理由は、資料7より、為替相場が変化して、**ウ**になったからだろう。2つめの理由は、資料8より、**エ**からだろう。

- 4 優香^{ゆうか}さんは、昨年5月に宮崎県庁本館が国の有形文化財に登録されたことを知り、県庁本館について調べ、資料1を作成しました。後の(1)~(4)の問いに答えなさい。

資料1	優香さんが作成した資料（一部）
宮崎県庁本館について	
〈県庁本館の特徴〉	
◇ 県庁本館としては2代目で、 <u>a</u> 1932（昭和7）年に建設されました。	
◇ 県庁本館の建築様式は、 <u>b</u> 近世ゴシック様式と呼ばれ、昭和初期の建築の流行も十分に取り入れています。	
〈県庁本館のこれから〉	
◇ 現役の都道府県庁舎としては、 <u>c</u> 大阪府、神奈川県、愛媛県について4番目に古く、歴史ある建造物です。今後も宮崎の <u>d</u> 観光資源や歴史・文化の発信の場として活用していくことが大切だと思います。	




〔宮崎県庁本館 その見どころと歴史〕他より作成

- (1) 資料1の下線部aに関して、昭和時代に起こったできごとを、次のア~エから1つ選び、記号で答えなさい。

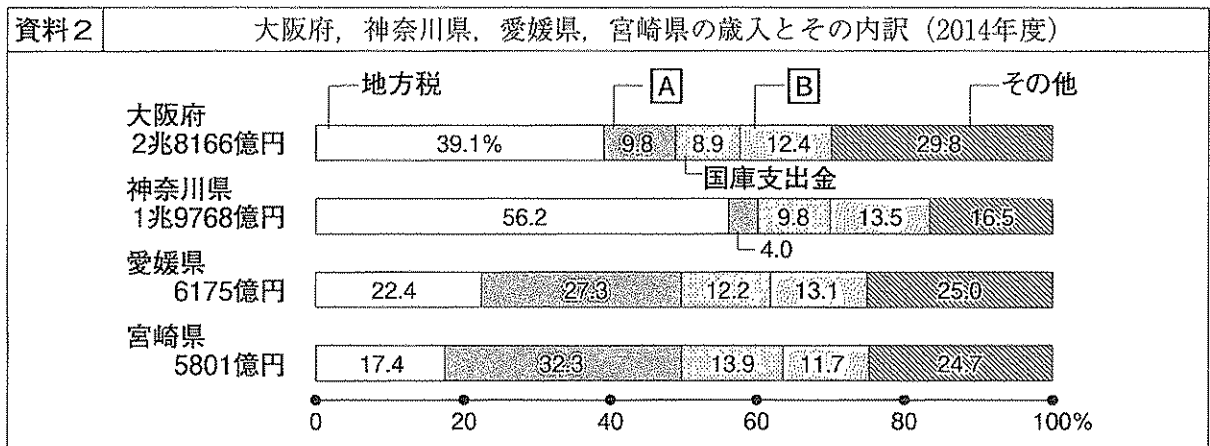
- ア アヘン戦争が起こった。 イ 満州事変が起こった。
ウ 日英同盟が結ばれた。 エ 国際連盟が誕生した。

- (2) 優香さんは、資料1の下線部bについて調べていく中で、イギリスのロンドンに、この様式のウェストミンスター宮殿があることを知りました。ロンドンが3月7日の午後6時のとき、日本は何月何日の何時か、午前か午後を入れて書きなさい。





〔図説 西洋建築の歴史〕より作成

- (3) 優香さんは、資料1の下線部cに関して、1府2県と宮崎県の財政について調べ、資料2を作成しました。資料2の **A**、**B** の説明として最も適切なものを、下のア～エから、それぞれ1つずつ選び、記号で答えなさい。



- ア 地方公共団体間の格差を減らすために国から交付される依存財源である。
- イ 地方公共団体が自主的に徴収できる自主財源である。
- ウ 地方公共団体が発行して借金をする依存財源である。
- エ 義務教育などの特定の仕事のために国から交付される依存財源である。

- (4) 優香さんは、資料1の下線部dに関して調べていく中で、資料3を見つけ、スイスの観光地であるツェルマットの取り組みを知り、下のようにまとめました。資料3をもとに、**ア**には、視点として適切な語を書きなさい。また、**イ**には、**ア**の視点をもとに、資料3を使って、具体的な内容を書きなさい。

資料3		ツェルマットに関する資料	
	<ul style="list-style-type: none"> ・4000m級の名山に囲まれ、ハイキングやスキーを楽しめる山岳リゾートである。 ・山岳地帯で、谷が深く、道路もせまい。 ・人口は約5700人。地域経済のほとんどは、観光業に依存している。 		<p>ツェルマットでは、大半の住民が、道路の拡張に反対し、市街地に入れるのは、一部の特殊車両を除いて、馬車や電気自動車だけとすることに賛成している。</p> <p>また、観光客に対しても、ガソリン車の乗り入れを厳しく規制している。</p>

〔「世界まちづくり事典」他より作成〕

優香さんのまとめ (一部)

ツェルマットでは、経済が観光業に依存しているにもかかわらず、大半の住民が道路の拡張に反対し、観光客に対しても、ガソリン車の乗り入れを厳しく規制している。その理由は、**ア**という視点に立ち、例えば、**イ**ためではないかと考えられる。