

平成30年度
県立高等学校入学者選抜
学力検査問題

社 会

注 意

- 1 「始め」の合図があるまでは、問題用紙を開いてはいけません。
- 2 問題用紙は、表紙を入れて14ページあります。
また、問題は大問【1】から大問【7】まであります。
- 3 答えは、すべて別紙の解答用紙に記入しなさい。
- 4 「やめ」の合図で、すぐに鉛筆を置きなさい。

【1】 世界の様々な地域について、次の各問いに答えよ。

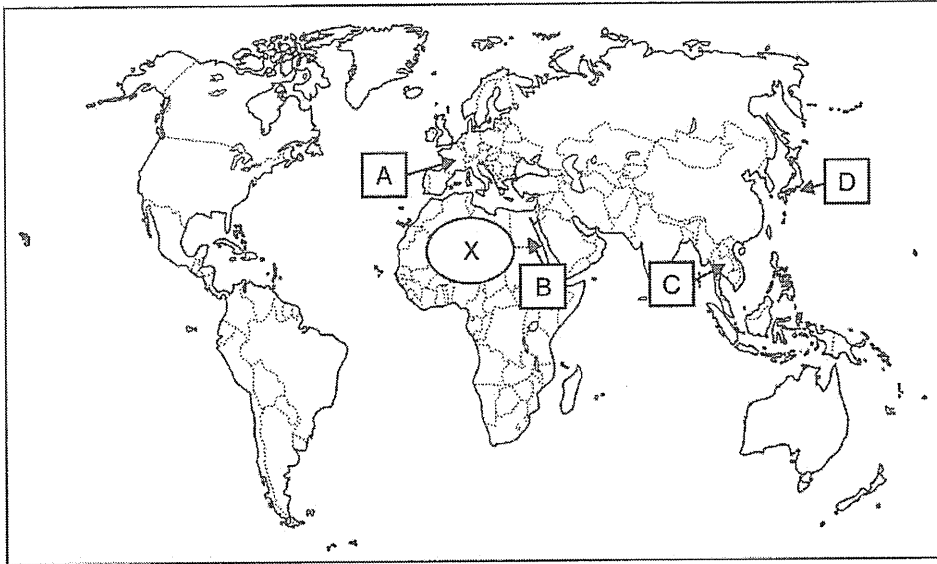


図1 世界全図

問1 図1中の○Xの地域に広がる砂漠の名称を答えよ。

問2 表1のア～エは、図1中のA～Dのいずれかの国の資料である。A国に当てはまるものを1つ選び、記号で答えよ。

表1 (データブックオブ・ザ・ワールド2017ほかより作成)

国	項目	人口密度 (人/km ²) 2016年	貿易額(輸出) (億ドル) 2015年	穀物自給率 (%) 2011年	一人あたりの 国民総所得(ドル) 2014年
ア		132.8	2,110	148	5,780
イ		104.4	4,938	176	42,950
ウ		93.2	247	56	3,210
エ		333.1	6,248	28	42,000

問3 表2は、さとうきび・カカオ

豆・茶の生産上位5か国である。

I～Ⅲの組み合わせとして正しいものを次のア～エのうちから1つ選び、記号で答えよ。

表2 (帝国書院中学校社会科地図より作成)

2009年	I	Ⅱ	Ⅲ
1位	コートジボワール	中国	ブラジル
2位	インドネシア	インド	インド
3位	ガーナ	ケニア	中国
4位	ナイジェリア	スリランカ	タイ
5位	カメルーン	トルコ	パキスタン

- | | | | |
|---|---------|---------|---------|
| ア | I さとうきび | Ⅱ 茶 | Ⅲ カカオ豆 |
| イ | I カカオ豆 | Ⅱ さとうきび | Ⅲ 茶 |
| ウ | I 茶 | Ⅱ カカオ豆 | Ⅲ さとうきび |
| エ | I カカオ豆 | Ⅱ 茶 | Ⅲ さとうきび |

問4 近年フェアトレードが世界で広がっている。フェアトレードの説明として、最も適当なものを次のア～エのうちから1つ選び、記号で答えよ。

- ア パスポートなしで地域内を自由に移動でき、国境を越えて買い物や通勤をする人や旅行をする人が増えること。
- イ 発展途上国の農産物や製品を適正な価格で取引することにより、人々の自立を支えること。
- ウ 先端技術を研究する大学や研究機関、IT産業の企業が集まりソフトウェアの開発などで世界をリードしていること。
- エ インターネットを利用して、穀物の国際価格や気象などの情報を入手し、効率的な作付けや出荷を行うこと。

問5 図2中のア～エのうちから、赤道を示す緯線を選び、記号で答えよ。

問6 アジアの工業について、説明した文として誤っているものを次のア～エのうちから1つ選び、記号で答えよ。

- ア 韓国やシンガポールはかつて、組み立てや加工が簡単な雑貨や衣類などを輸出していたが、しだいに技術力を高め、電気機械などを輸出する工業化が進んだ国になった。
- イ タイやマレーシアは、近年外国の企業を受け入れ、工業化を進めてきた。
- ウ インドでは、アメリカ合衆国やヨーロッパの企業とソフトウェアの開発などを行うIT産業が盛んになっている。
- エ 中国では、国内の地域間の経済格差が拡大しているため、政府は開発の遅れた沿岸部を中心に開発を進めている。

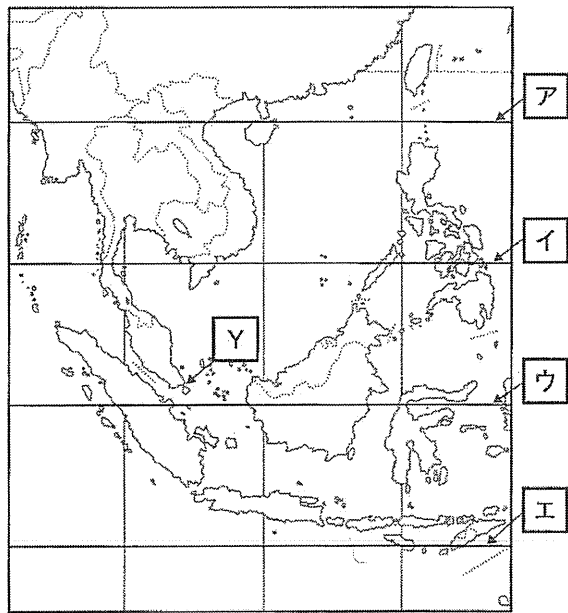


図2

問7 図2中 Y の都市にあてはまるものを図3中の雨温図ア～エのうちから1つ選び、記号で答えよ。

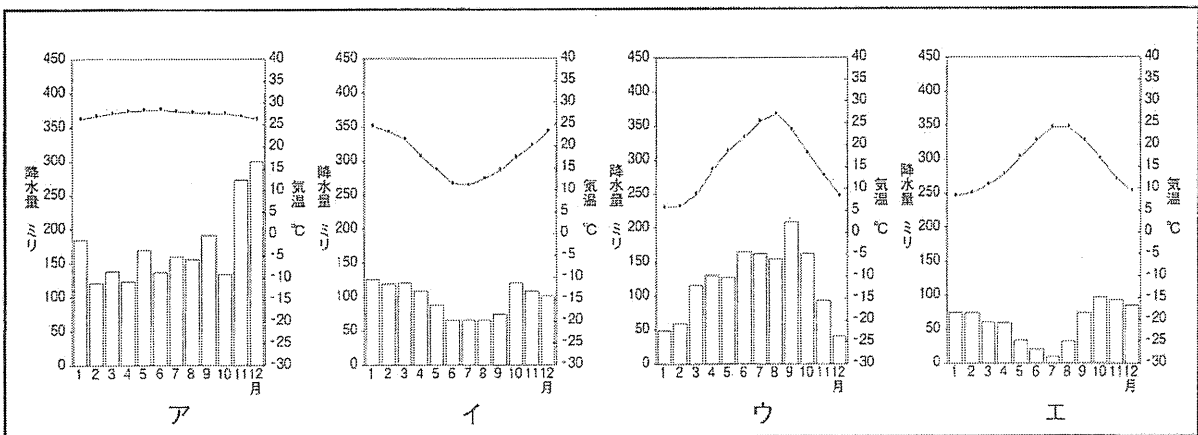


図3 (帝国書院中学校社会科地図より作成)

【2】 日本の様々な地域について、次の各問いに答えよ。

問1 図4はインドネシア・日本・ブラジル・アメリカ合衆国・オーストラリアの国土面積と排他的経済水域（領海を含む）の面積を表している。日本に当てはまるものを次のア～オのうちから1つ選び、記号で答えよ。

(注) □ は排他的経済水域（領海を含む）、□ は国土面積

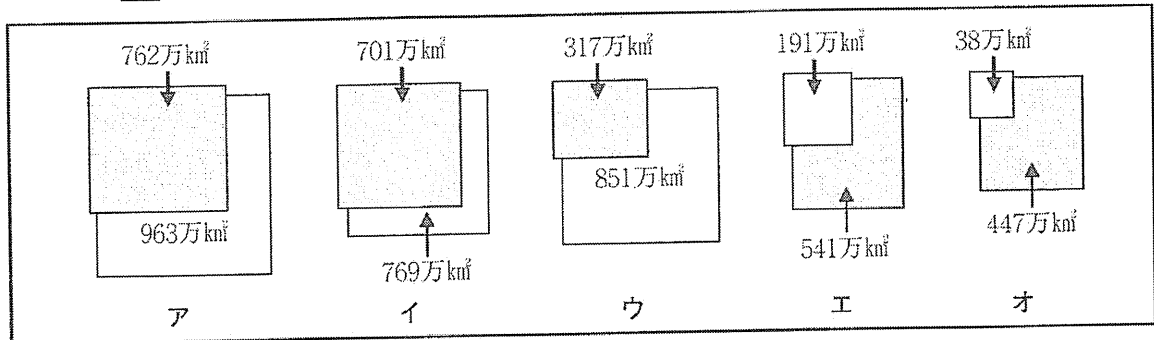


図4 (海洋白書 2008年ほかより作成)

問2 みさきさんのグループは久米島町の防災マップを参考にして津波対策について考えてみた。次の図5はみさきさんの住んでいる地域の地形図である。図5中「あ」のみさきさんの自宅から津波避難所に指定されている「い」の施設まで地図上の長さは3cmとする。実際の距離を答えよ。

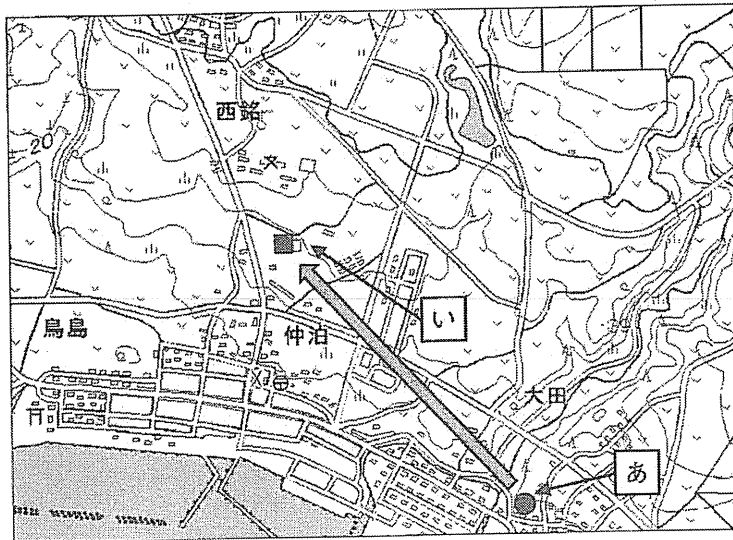


図5 (国土地理院：25000地形図より作成)

問3 図5中「い」の津波避難所は海岸から何mの高さにあるか。最も適当なものを次のア～エのうちから1つ選び、記号で答えよ。

ア 約10m イ 約20m ウ 約30m エ 約40m

問4 表3は那覇市と豊見城市の昼夜間人口比率を表している。那覇市の昼間人口が多いことについて最もふさわしいと考えられる理由を下の文の□に入れ解答を完成させよ。(□は漢字1文字) なお、観光客と余暇活動は考慮しないこと。


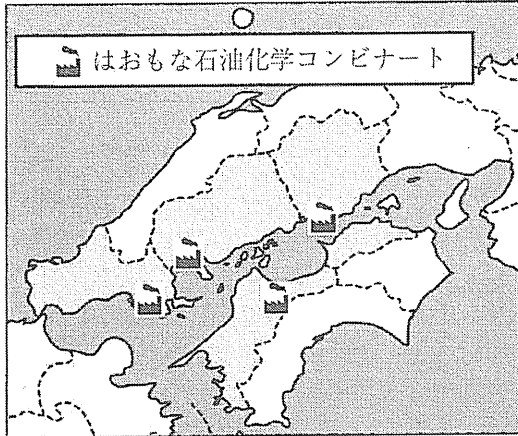
表3 (平成27年度国勢調査)

	昼間人口	夜間（常住）人口	昼夜間の人口比率
那覇市	349,980人	319,435人	109.6%
豊見城市	56,350人	61,119人	92.2%

注：昼夜間人口比率：夜間（常住）人口100人に対する昼間の人口の割合

那覇市は□□や□□で他市町村から流入する人たちが多いため。

問5 図6は瀬戸内工業地域のおもな石油化学コンビナートの立地を表している。この地域には資料1のような石油化学コンビナートが多数立地するが、その理由として最も適当なものを次のア～エのうちから1つ選び、記号で答えよ。



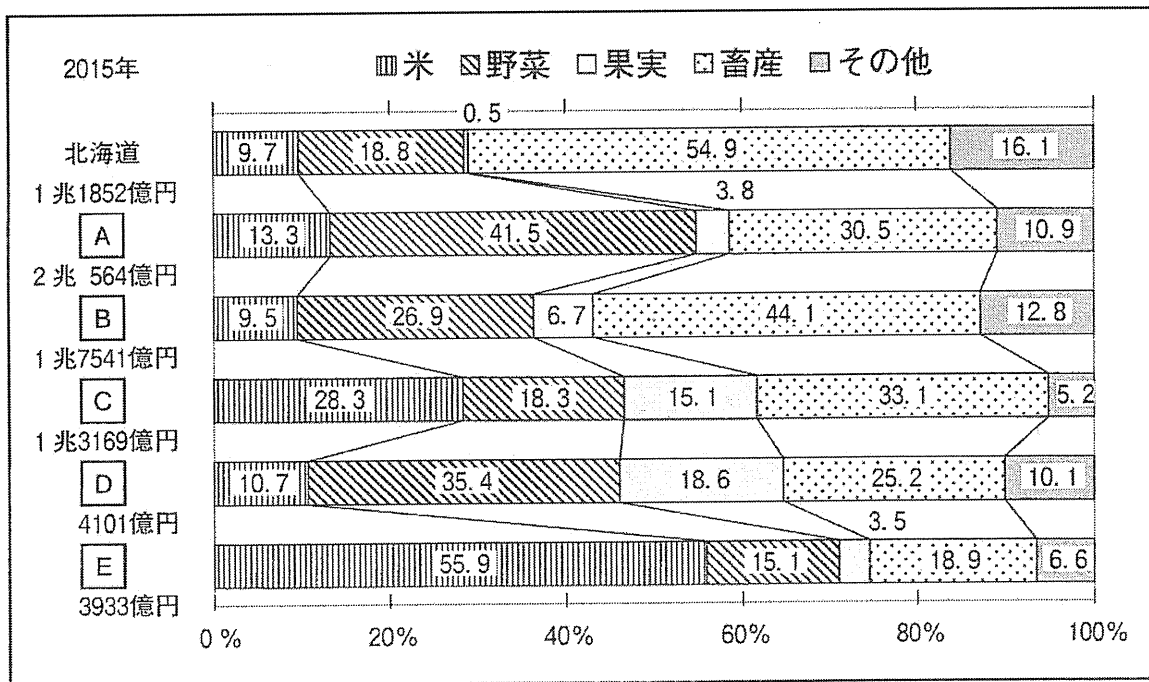
資料1 (帝国書院中学校社会科地図より)

図6 (帝国書院「中学生の地理」平成24年発行より作成)

- ア 消費者が多い大都市に隣接しており、製造した新鮮な商品を素早く市場に流通させる。
- イ 海上交通の便が良く、臨海部には原料や製品の輸送に適した港湾施設が整っている。
- ウ ソフトウェア開発などの情報通信産業が集中している。
- エ この地域は日本で最大の工業地帯であり、多数の企業や工場が集積し、生産効率が良い。

問6 グラフ1は各地方の農業生産額の内訳を示している。AとEに当てはまる地方の組み合わせをア～エのうちから1つ選び、記号で答えよ。

- ア A - 九州 E - 四国
- イ A - 関東 E - 四国
- ウ A - 九州 E - 北陸
- エ A - 関東 E - 北陸



グラフ1 (平成27年度生産農業所得統計 農林水産省より作成)

【3】 藍さんのクラスでは、歴史学習で同じ時代のカードを分類する活動を行った。次のカードA～Eは、それぞれの時代にふさわしい組み合わせに分類してある。次の各問いに答えよ。

A 奈良時代	B 平安時代	C 鎌倉時代	D 室町時代	E 江戸時代
正倉院	古今和歌集	金剛力士像	金閣	寺子屋
鑑真	藤原道長	北条時宗	足利尊氏	徳川家康

問1 カードAの時代について、朝廷は743年に墾田永年私財法を出した。この法の結果を述べたものとして、最も適当なものを次のア～エのうちから1つ選び、記号で答えよ。

- ア 土地の売買を禁止し、犯罪の防止や年貢の納入に連帯責任を負わせた。
- イ 下剋上を防ぐために家臣たちをきびしく統制し、領国の支配を強めた。
- ウ 農民は田畑の広さや収穫高を調べられ、石高に応じた年貢を確実に納めることになった。
- エ 中央の貴族・寺社は広大な土地を独占するようになり、それはのちに荘園と呼ばれた。

問2 カードBの時代について、この時代に最もふさわしい人物と、図1中の都の位置の組み合わせとして正しいものを次のア～エのうちから1つ選び、記号で答えよ。

- ア 桓武天皇－Ⅰ
- イ 桓武天皇－Ⅱ
- ウ 聖武天皇－Ⅰ
- エ 聖武天皇－Ⅱ

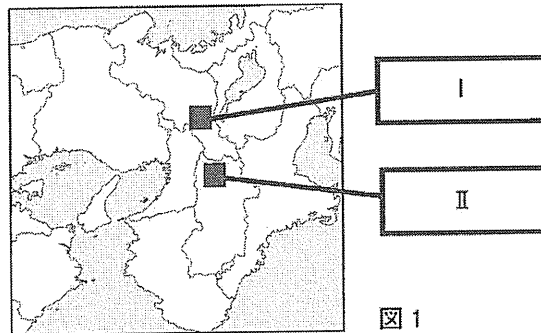


図1

問3 カードCの時代について、資料1はこの時代に定められた法である。この法の名称を漢字5文字以内で答えよ。

- 一、頼朝公の時代に定められた、諸国の守護の職務は、国内の御家人を京都の警備にあたらせること、謀反や殺人などの犯罪人を取りしめることである。
- 一、武士が20年をこえる間、実際にその土地を支配していれば、慣例どおりその支配を認める。

資料1

問4 カードDの時代について、資料2は土一揆に関するものである。当時の農民たちはどのようなことを要求したのか、解答用紙に合わせて適当な語句を記入して、文を完成させよ。




正長元年ヨリサキ者 カンへ四カンカウニ ラキメアルヘカラス
(正長元年よりさきは、神戸四箇郷に負い目あるべからず)

資料2

問5 キリスト教の聖地エルサレムが、イスラム勢力の支配下に入ると、ローマ教皇は、エルサレムからイスラム勢力を追い払うために、十字軍の派遣を呼びかけた。十字軍の遠征が行われた時期を、カードA～Eの期間で示した次のア～エのうちから1つ選び、記号で答えよ。

- ア カードA～Bの期間
- イ カードB～Cの期間
- ウ カードC～Dの期間
- エ カードD～Eの期間

問6 歴史学習の最後に、分類が済んでいない3枚の写真カードが残った。下のカードX・Y・Zを、年代の古い順に並べかえ、その組み合わせとして適当なものを、次のア～エのうちから1つ選び、記号で答えよ。



ア X→Y→Z イ X→Z→Y ウ Z→X→Y エ Z→Y→X

【4】 表1は「ヨーロッパ人の来航」以降の日本と外国との関わりについてまとめたものである。次の各問いに答えよ。

表1

時代	年	日本のできごと	世界のできごと
室町	1543	<u>ポルトガル人が鉄砲を伝える</u> a	
	1549	キリスト教を伝える	
江戸	1642		<u>ピューリタン革命</u> e
	1772	<u>長崎貿易を奨励する</u> b	
明治	1872	<u>富岡製糸場開設</u> c	
	1882	<u>伊藤博文をヨーロッパへ派遣</u> d	

問1 下線部aについて、ヨーロッパ人の来航をきっかけに、南蛮貿易が盛んになる。この時期の日本の主な輸出品を次のア～エのうちから1つ選び、記号で答えよ。

ア 生糸 イ 陶磁器 ウ 銀 エ 香辛料

問2 下線部bについて、長崎貿易を活発にするために海産物の輸出をうながし、株仲間の営業を積極的に認めるなど、商業を重視した人物を次のア～エのうちから1つ選び、記号で答えよ。

ア 徳川綱吉 イ 徳川吉宗 ウ 田沼意次 エ 水野忠邦

問3 下線部cについて、政府は西洋の知識や技術を取り入れ、富岡製糸場などの官営模範工場を開設し、産業技術の普及につとめた。このような近代産業の育成を目指す政策を何というか、漢字4文字で答えよ。

問4 下線部dについて、政府は、憲法調査のために伊藤博文をヨーロッパへ派遣した。その後、成立した大日本帝国憲法および帝国議会に関連して、誤っているものを次のア～エのうちから1つ選び、記号で答えよ。

ア 主権は天皇にあると定められ、天皇が国の元首としてすべての権限をにぎった。
 イ 衆議院議員の総選挙がはじめて行われ、満25歳以上の男子による普通選挙が始まった。
 ウ 天皇への「忠」、親への「孝」を基本とする国民道徳として、教育勅語が出された。
 エ 国民（臣民）には、法律の範囲内において言論・出版・集会・結社・信教の自由が認められた。

問5 下線部eについて、イギリスで国王と議会の対立が表面化し、国王が処刑されるという革命がおこった。以降、自由で平等な社会を実現しようとする市民社会をめざす流れがはじまった。表2中の①～③にあてはまるできごとを次のア～ウのうちからそれぞれ1つ選び、記号で答えよ。

ア フランス革命 イ 名誉革命 ウ アメリカ独立戦争（革命）

表2

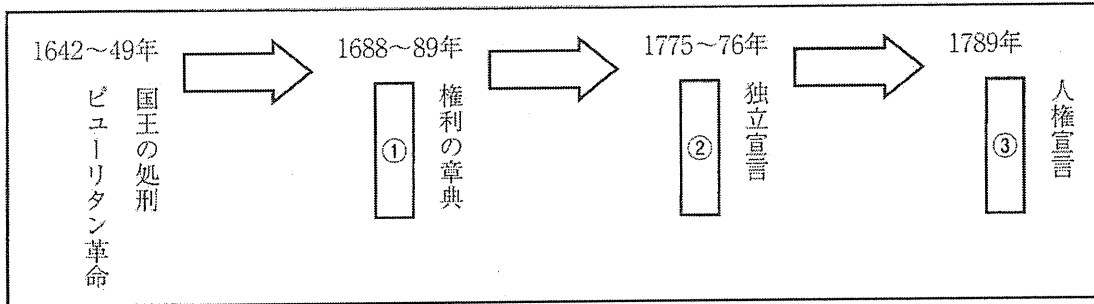
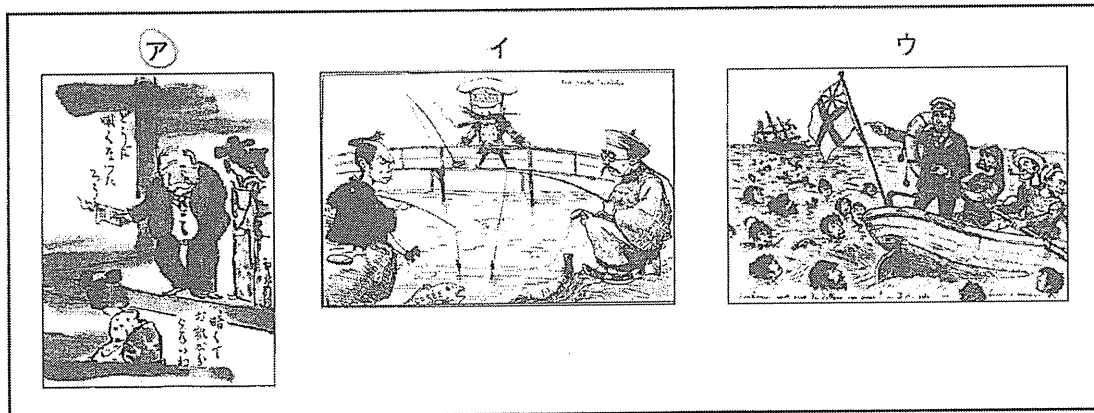


表3

問6 表3中の下線部fについて、第一次世界大戦は多くの国々が参戦し、世界にさまざまな影響を与えた。当時の日本の様子を風刺したものとして、最も適当なものを下の資料3ア～ウのうちから1つ選び、記号で答えよ。

時代	年	できごと
大正	1914	第一次世界大戦 f
昭和	1927	金融恐慌
	1929	世界恐慌
	1937	日中戦争
	1939	第二次世界大戦
	1941	太平洋戦争
	1945	ポツダム宣言受諾



資料3

問7 表3中のX期間におこった次のA～Dのできごとを、年代の古い順に並べたものとして正しいものを次のア～エのうちから1つ選び、記号で答えよ。

- A 二・二六事件 B 国家総動員法 C 国際連盟脱退 D 満州事変
- ア A→B→D→C イ A→D→C→B ウ D→B→A→C エ D→C→A→B

【5】 次の文はあるクラスでの会話である。文を読み、次の各問いに答えよ。

生徒A：昨年の夏も暑かったね。猛暑日やゲリラ豪雨、また台風の進路も昔と大きく変わっているみたいだよ。これも温暖化の影響なのかな。これからの温暖化対策の国際的な取り組み^aがどうなっていくのか、心配だな。

生徒B：昨年は現憲法施行70周年^bだったね。私はこの節目の年に、憲法改正について話題になったことが印象に残っている。

生徒C：僕は世界の人口問題についてだな。アジアやアフリカ地域の増加が激しいみたいだし、そして現在、世界人口の4～5人に1人が極度の貧困状態だと言われている。貧困の解決も国際的に大きな課題^cだと思うよ。

生徒B：世界遺産^dはうれしいニュースだったね。福岡県の「神宿る島」宗像・沖ノ島と関連遺産群が登録されたことで、世界中から観光客がたくさん来てくれたら、地元経済の活性化^eも期待できるしね。

生徒D：私はインターネット上での反応が気になるな。具体的には「炎上」という言葉。思いやりのない言葉が多くなったような気がする。何だか心配だな。

生徒A：みんな勉強しているな～。僕ももうすぐ高校生になるから、もっとニュースや新聞に関心をもたなくてはいけないな。

問1 下線部 a に関連して、気候変動枠組条約第21回締約（締結）国会議で話し合われた「パリ協定」からの離脱を表明した国を次のア～エのうちから1つ選び、記号で答えよ。

ア 中国 イ ロシア ウ インド エ アメリカ

問2 下線部 b に関連して、憲法を制定することで国家の権力を制限し、人々の権利を守るという考えを（あ）主義という。（あ）に入る適当な語句を漢字2文字で答えよ。

問3 下線部 c に関連して、人間一人一人に注目して、その生命や尊厳を守るという考え方として最も適当なものを次のア～エのうちから1つ選び、記号で答えよ。

ア 自己決定権 イ 国家の安全保障 ウ 人間の安全保障 エ 環境権

問4 下線部 d に関連して、世界遺産の登録を話し合う国際連合の専門機関を次のア～エのうちから1つ選び、記号で答えよ。

ア UNESCO（国連教育科学文化機関） イ UNICEF（国連児童基金）
ウ WHO（世界保健機関） エ WTO（世界貿易機関）

問5 下線部 e に関連して、地方財政について、文中 ・ に入る語句の最も適当な組み合わせを次のア～エのうちから1つ選び、記号で答えよ。

地方公共団体の収入源には地方税などの 財源がある。しかしこれだけでは支出をまかなえない。その不足分は使い方が限定されている など、国から交付される財源で補われている。

ア - 自主 - 地方交付税交付金
イ - 自主 - 国庫支出金
ウ - 依存 - 地方交付税交付金
エ - 依存 - 国庫支出金

問6 下線部fに関連して、次の文はフランスのある思想家の言葉とされている。これは日本国憲法では、どのような権利として保障しているか。次のア～エのうちから1つ選び、記号で答えよ。

あなたの言うことには、一言も賛成できるところはないが、あなたにそれを言う権利があることは命をかけても私は守るつもりです。

- ア 奴隷的拘束・苦役からの自由（第18条） イ 集会・結社・表現の自由（第21条）
 ウ 居住・移転と職業選択の自由（第22条） エ 拷問・残虐な刑罰の禁止（第36条）

【6】 次の文章を読んで、各問いに答えよ。

(A) しょうた君はテレビを買いに行った。しょうた君のセリフを見て、以下の質問に答えよ。

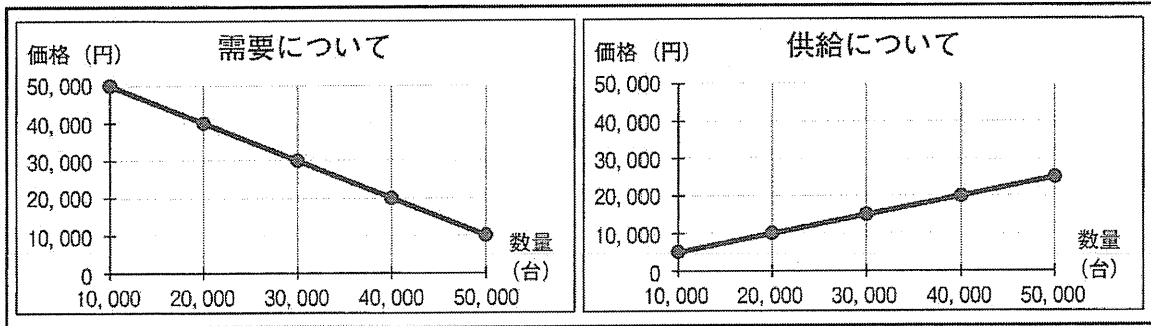


①どのテレビを買おうかな。

②消費税もきちんと払わないと。

③気をつけて買物しよう。

問1 セリフ①に関連して、次にあげるグラフ1は、テレビの価格と「需要」及び「供給」の関係を表したグラフである。この場合、テレビの均衡価格はいくらになるか。数字で答えよ。



グラフ1

問2 セリフ②に関連して、図1は、国の一般会計予算のうち歳出の内訳を示したものである。割合の高いA・Bにあてはまる項目の組み合わせとして最も適当なものを次のア～エのうちから1つ選び、記号で答えよ。




図1 (平成29年度予算のポイント 財務省より作成)

- ア A - 国債費 B - 防衛関係費 イ A - 国債費 B - 社会保障費
 ウ A - 社会保障費 B - 国債費 エ A - 社会保障費 B - 防衛関係費

問3 セリフ③に関連して、アメリカのケネディ大統領が提唱した「消費者の4つの権利」にあてはまらないものを、次のア～エのうちから1つ選び、記号で答えよ。

- ア 安全を求める権利 イ 知らされる権利 ウ 選ぶ権利 エ 救済を求める権利

(B) よしのさんはパン屋さんをオープンした。よしのさんのセリフを見て、以下の質問に答えよ。



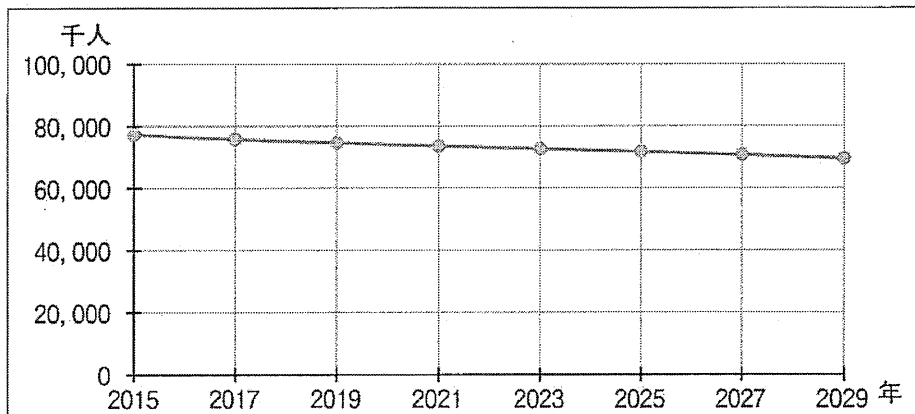
①この辺はパン屋さんが多いから頑張ろう。

②お店ではどんな人に働いてもらおうかな。

③小麦はアメリカ産を使用しよう。

問4 セリフ①に関連して、もし市場が独占の状態になった場合、消費者に影響することとして、どのようなことが起こると考えられるか。「商品」という語句を使用して、解答用紙にある文に続けて説明せよ。

問5 セリフ②に関連して、次にあげるグラフ2は、日本の労働力人口の将来推計を示したものである。労働力人口が減少している理由として最も適当なものを次のア～エのうちから1つ選び、記号で答えよ。



グラフ2 (国立社会保障・人口問題研究所)

(注) 労働力人口：15歳以上の人口のうち、「就業者」と「完全失業者」を合わせたものをいう。

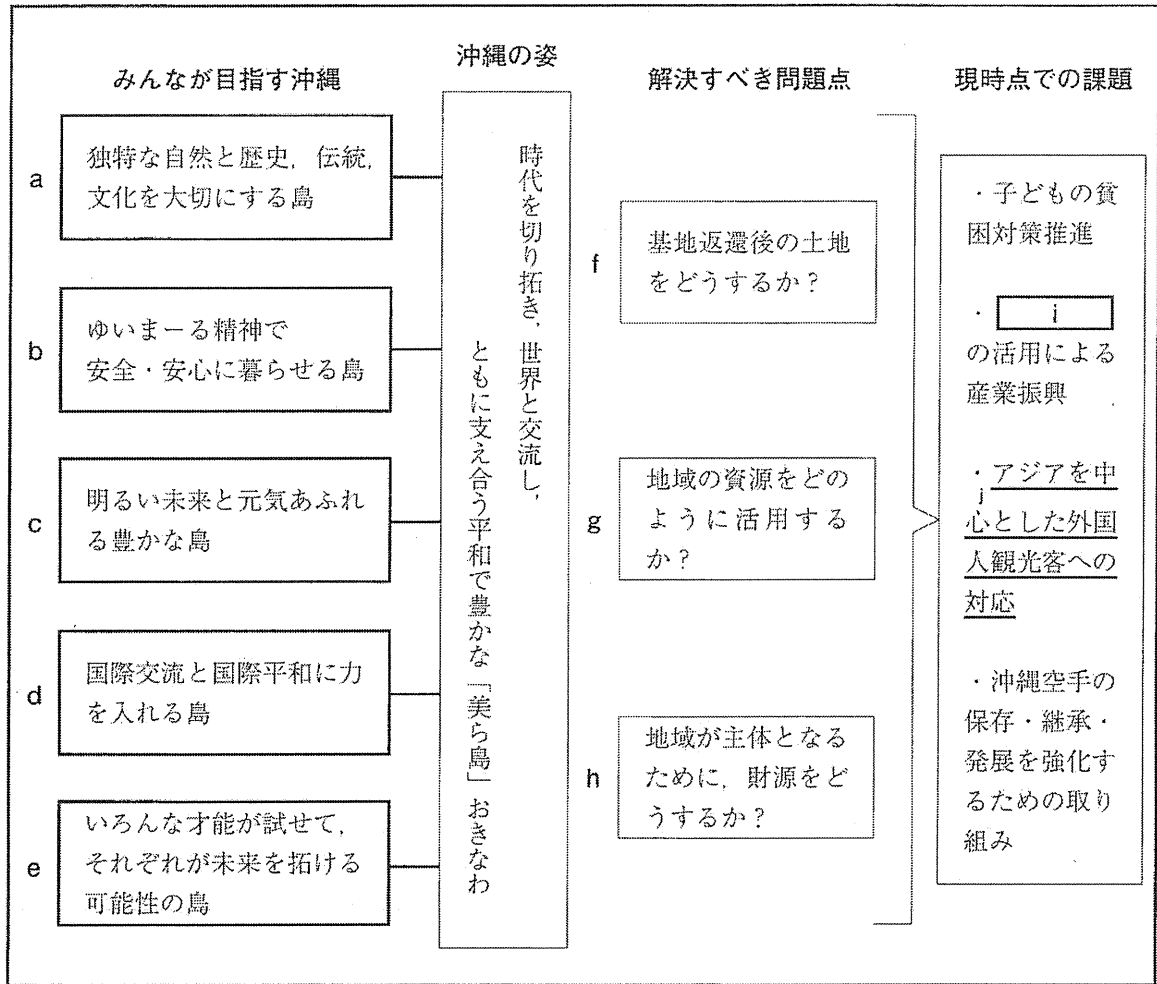
- ア 賃金の低下 イ 失業率の上昇 ウ 海外移住の増加 エ 少子高齢化

問6 セリフ③に関連して、為替レート(為替相場)が次のように変化した場合、商品の価格はどのように変わるか。下の **A** 及び **B** に入る数字をそれぞれ答えよ。

アメリカから日本に小麦を輸出した場合		アメリカ		日本
	1ドル=100円の時	1 kg 100ドル	→	1 kg A 円
	1ドル=50円の時	1 kg 100ドル	→	1 kg 5,000円
日本からアメリカに自動車を輸出した場合		日本		アメリカ
	1ドル=100円の時	1台 1,000,000円	→	1台 10,000ドル
	1ドル=50円の時	1台 1,000,000円	→	1台 B ドル

【7】 たけし君は「これからの沖縄」についてのレポートを通して学んだことを表1のようにまとめ、沖縄の歴史や経済の問題、環境問題などについて考えた。次の各問いに答えよ。

表1



問1 表1中のaに関連して、以下の問いに答えよ。

- ① 沖縄県はかつて琉球王国として中継貿易で栄えていた。当時の琉球王国のようすが「万国津梁の鐘」に銘文として記されている。この「万国津梁」の読みがなを答えよ。
- ② 冊封使をもてなすために、玉城朝薫によって創作された、歌・踊り・物語が組み合わさった総合芸能を何というか、漢字2文字で答えよ。
- ③ 日本各地の伝統工芸品とその産地の組み合わせとして正しいものを次のア～エのうちから1つ選び、記号で答えよ。

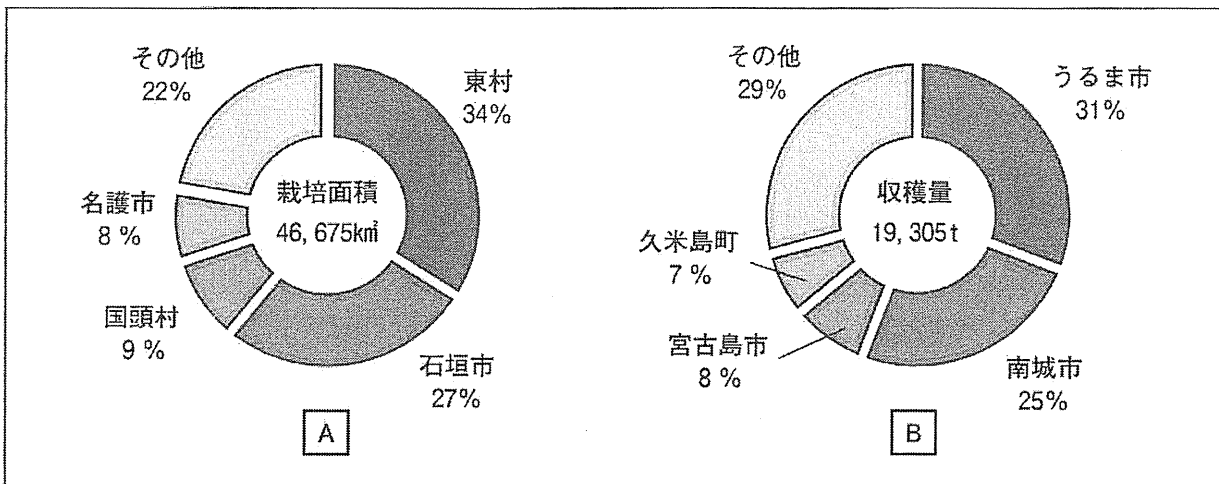
- ア 今治タオル-愛媛県
ウ 輪島塗^り-新潟県

- イ 有田焼-山口県
エ 加賀友禅-京都府

問2 表1中のbに関連して、日本の社会保障制度は4つの制度を柱としている。このうち高齢者や障がいのある人、子どもなど、社会生活を営む上でサポートが必要な人々のための制度を何というか。次のア～エのうちから1つ選び、記号で答えよ。

- ア 公的扶助 イ 社会保険 ウ 社会福祉 エ 公衆衛生

問3 表1中のcに関連して、グラフ1は沖縄県の2つの特産品の市町村別割合を表したものである。グラフ1の **A**・**B** に当てはまる品目として最も適当な組み合わせを次のア～エのうちから1つ選び、記号で答えよ。



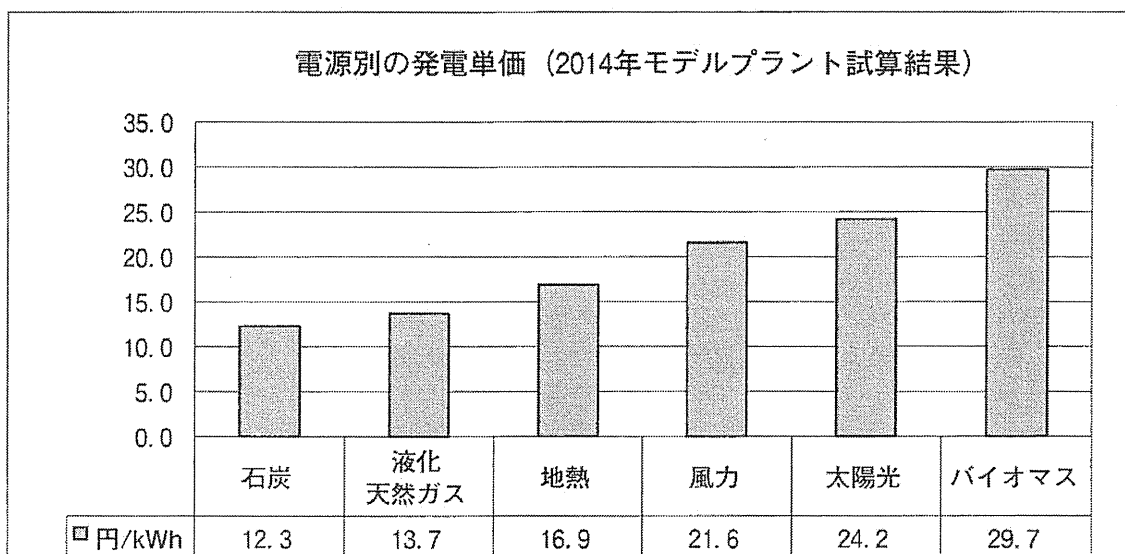
グラフ1 (A: 2015年農林業センサス・B: 第59回沖縄県統計年鑑より作成)

- ア **A** - スイカ **B** - うみぶどう イ **A** - バイナップル **B** - もずく
 ウ **A** - 紅芋 **B** - クルマエビ エ **A** - マンゴー **B** - 昆布

問4 表1中のdに関連して、在任中は「平和の礎」の建設などを行った元沖縄県知事で、生前の功績から2017年に県民葬が営まれた人物を次のア～エのうちから1つ選び、記号で答えよ。

- ア 屋良朝苗 イ 瀬長亀次郎 ウ 西銘順治 エ 大田昌秀

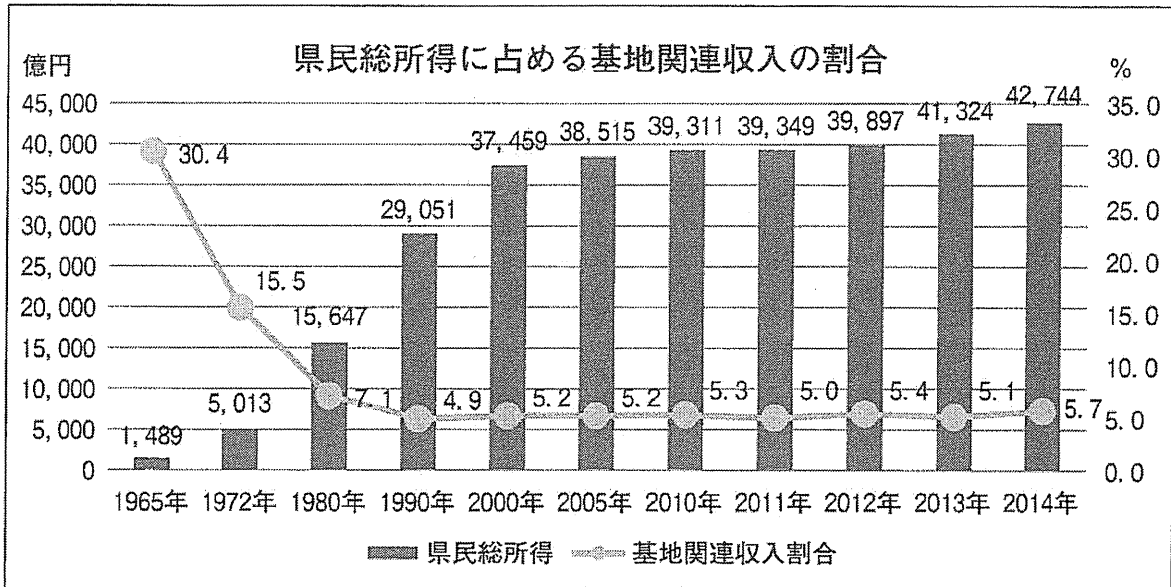
問5 表1中のeに関連して、再生可能エネルギーは、資源の枯渇や環境問題への対応などから、発電の拡大に期待が高まっているが、いくつかの課題もある。グラフ2から、課題を読み取り次の文章中 (A)・(B) に適当な文言を入れて文章を完成させよ。



グラフ2 (資源エネルギー庁 発電コスト検証ワーキンググループ 平成27年5月より作成)

再生可能エネルギーは (A) に比べて (B)。

問6 表1中のfに関連して、グラフ3について述べた文として誤っているものを次のア～エのうちから1つ選び、記号で答えよ。



グラフ3 (沖縄県基地対策課「沖縄から伝えたい。米軍基地の話」より作成)

(注) 基地関連収入：軍用地料、軍雇用者所得、米軍等への財・サービスの提供から得られる収入のこと。

- ア 基地関連収入の割合は、復帰後大幅に低下し、1990年以降は5%前後で推移している。
- イ 2014年の県民総所得に占める基地関連収入は、2400億円程度となっている。
- ウ 2014年の県民総所得は、復帰の年と比較すると10倍を超えている。
- エ 復帰以降の県民総所得は、増加傾向にある。

問7 表1中のgに関連して、地域で生産される農林水産物の良さを見直し、それを地域で消費しようとする活動を「地□地□」という。□に入る文字を、それぞれ漢字1文字で答えよ。

問8 表1中のhに関連して、地方の自主性や自立性を重んじる考えから、国と地方の間での役割分担の見直しを目的とした法律が1999年に(あ)一括法として成立した。(あ)に入る語句を漢字4文字で答えよ。

問9 表1中のiには、企業研修や国際会議などの多くの集客とその交流が見込まれるビジネスイベントやそれを開催するための大型施設を表す語句が入る。次のア～エのうちから最も適当なアルファベット略称を1つ選び、記号で答えよ。

- ア APEC イ MICE ウ NPO エ ODA

問10 表1中の下線部jについて、次の文は第二次世界大戦後の日本と中国の国交正常化について述べたものである。文中の1・2にあてはまる語句の組み合わせとして、正しいものを次のア～エのうちから1つ選び、記号で答えよ。

1972年、1 首相の中国訪問により、2 が発表され、日本と中国の国交が正常化した。

- ア 1 田中角栄 2 日中平和友好条約
- イ 1 田中角栄 2 日中共同声明
- ウ 1 佐藤栄作 2 日中平和友好条約
- エ 1 佐藤栄作 2 日中共同声明