

平成30年度学力検査問題

(第3限 11:40~12:30)

社 会

注 意

- 1 「始め」の合図があるまでは、開いてはいけません。
- 2 問題は全部で4題あり、14ページまでです。
- 3 「始め」の合図があったら、まず、解答用紙に検査場名、受検番号を書きなさい。
- 4 答えは、すべて解答用紙に書きなさい。また、解答に句読点、記号、数字が必要な場合は、それも一字として数えなさい。
- 5 「やめ」の合図で、すぐ鉛筆をおき、解答用紙を裏返しにして机の上におきなさい。

【第1問題】 鳥根県に住むゆきさんの中学校では、東京都への修学旅行の際、班ごとにテーマを決めて調査をする自主研修を実施しました。次の会話文を読んで、下の問1～問4に答えなさい。

先生「ゆきさんの班のテーマは“江戸時代のなごりのある場所はどう活用されているか”でしたね。」

ゆき「はい。江戸城跡にある公園の一部には、1964年の東京オリンピックの柔道会場として使用された日本武道館がありました。2020年もオリンピック、パラリンピックで使用されるそうです。」


先生「楽しみです。1964年の東京オリンピックに向けては、会場建設や高速道路などの交通網の整備が短期間で進められ、(a)日本経済に大きな影響を与えました。首都高速道路が全面開通したのは、オリンピック開会式の9日前だったそうですよ。」

ゆき「図①の浮世絵を見て (b)日本橋に行ってみました。現在の橋はコンクリートできており、その上には首都高速道路が通っていて、昔の景色とはずいぶん違っていました。」

先生「江戸時代の埋め立てによってできた築地はどうでしたか。築地には、今は中央卸売市場がありますね。」

ゆき「とても活気にあふれていました。他にも江戸時代は新田開発や (c) 鉾山開発などの (d) 土木工事が全国で盛んに行われていたようです。鳥根県の様子も、もっと調べてみたいです。」

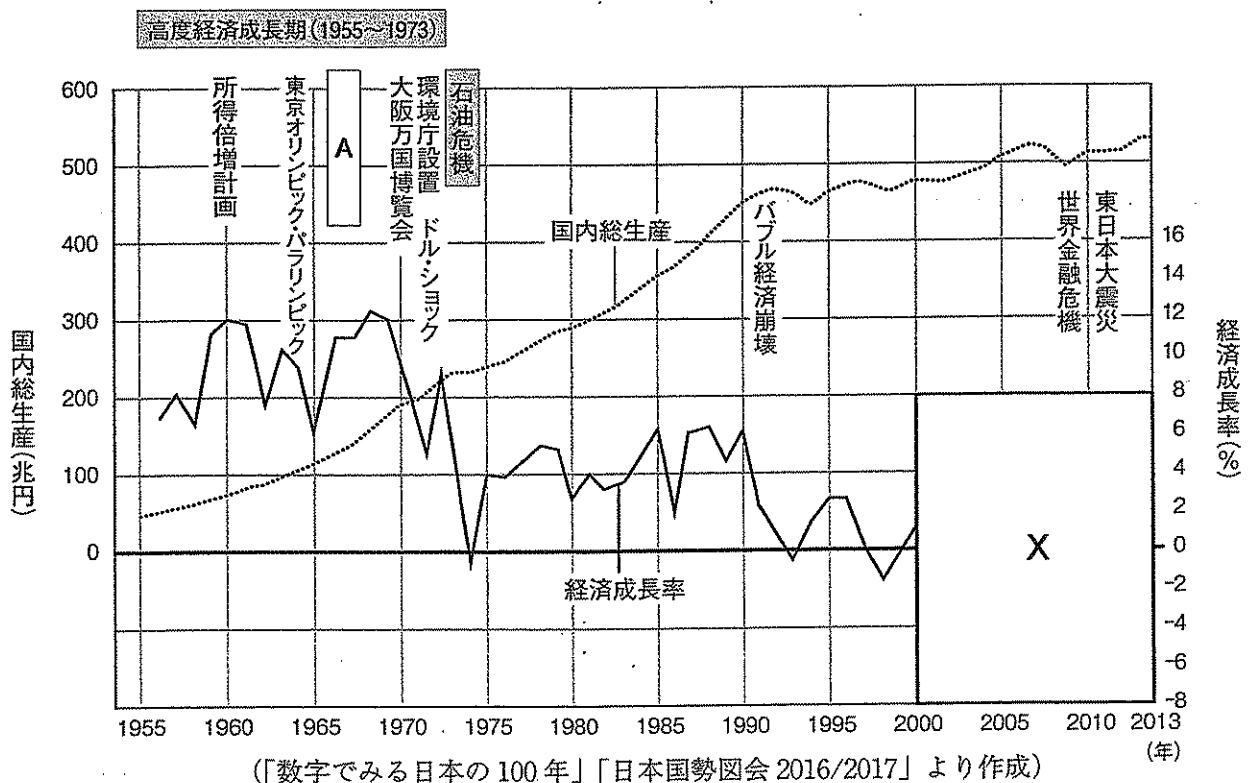
図①



(歌川(安藤)広重「日本橋 朝之景」より作成)

問1 下線部 (a) に関連して、グラフ①をみて、下の1～4に答えなさい。

グラフ①



1 **A** にあてはまるできごととして正しいものを、次のア～エから一つ選び、記号で答えなさい。

- ア 公害対策基本法施行 イ 日中平和友好条約締結 ウ 阪神淡路大震災 エ 冷戦終結

2 **高度経済成長期(1955～1973)** の状況として最も適当なものを、次のア～エから一つ選び、記号で答えなさい。

- ア 郵便制度が始まり、郵便が全国均一の料金で利用できるようになった。
- イ 冷蔵庫、洗濯機などの家庭電化製品が普及し、人々の暮らしが便利になった。
- ウ インターネットが普及し、世界各地とすばやい情報のやりとりができるようになった。
- エ ラジオ放送が始まり、発行数を伸ばした新聞と並び人々の情報源になった。

3 1973年に始まった **石油危機** の説明を、表①を参考にして、次の形式に合うように、10字以上、20字以内で答えなさい。

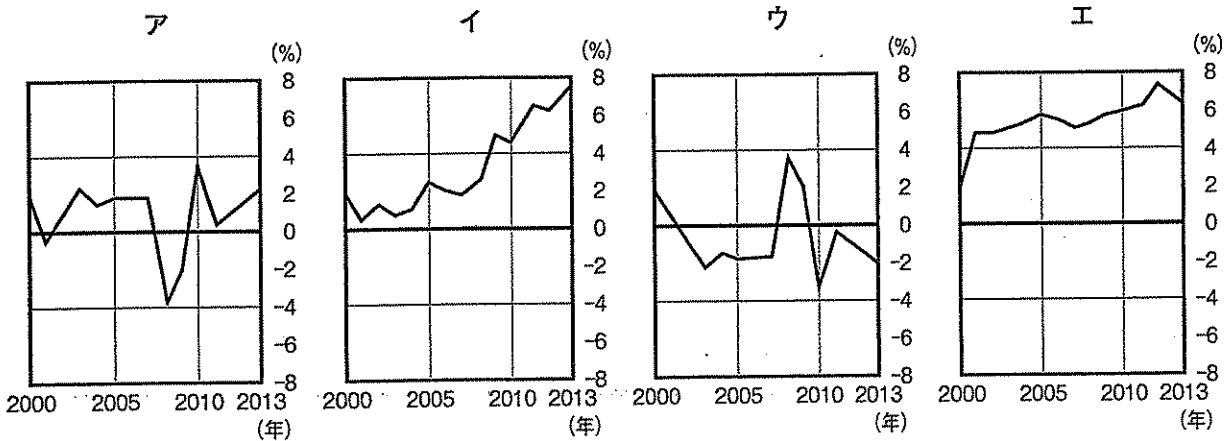
石油危機とは、1973年10月に中東で起きた戦争をきっかけとして、(10字以上、20字以内) ために発生した世界経済の混乱のこと。

表① 原油の公示価格の推移

年月	1バレルの価格
1973年10月	3.01ドル
1974年1月	11.65ドル

※1バレル≒159リットル
(石油連盟「戦後石油産業史」より作成)

4 **X** にあてはまる、経済成長率のグラフとして最も適当なものを、次のア～エから一つ選び、記号で答えなさい。




問2 下線部 (b) について、次の1, 2に答えなさい。

1 江戸幕府は、「日本橋」を起点とした五街道を定めていた。次の資料①、図②中の **B** にあてはまる五街道の一つを、漢字で答えなさい。ただし、**B** には同じ語が入る。

資料① 十返舎一九の本のあらすじ

弥次郎兵衛と喜多八の二人が、伊勢参りに行こうと、江戸を出発して **B** を旅した話。箱根の関所を越え、京都、大阪までの道中で、洒落や冗談を言い合い、いざずらを働いては行く先々で騒ぎを起こしていく。

図②



(歌川(安藤)広重「四日市三重川」)


- 2 1964年の東京オリンピック開催に向けて、表②のように首都高速道路建設計画が変更された結果、写真①のような首都高速道路が建設された。表②のような変更が推進された理由を述べた下の文の、**C**、**D** にあてはまる語を、資料②、資料③より考えられることから答えなさい。ただし、**C**、**D** の順序は前後してもよい。

表② 首都高速道路の敷地に占める土地利用区分の割合 (%)

土地利用区分	公共用地		私有地	その他	合計
	河川の上	道路の上			
首都高速道路建設計画					
東京オリンピック開催決定前の案 (1953年)	9.1	7.7	70.2	13.0	100.0
東京オリンピック開催決定後の案 (1959年)	35.0	37.7	14.4	12.9	100.0

(国立研究開発法人科学技術振興機構ホームページより作成)

写真① 日本橋の上を通る首都高速道路



資料② 東京オリンピックの開催決定年と開催年

(前回) 1959年開催決定 ⇒ 1964年開催
(今回) 2013年開催決定 ⇒ 2020年開催予定

資料③ 日本国憲法第29条

- ① 財産権は、これを侵してはならない。
- ② 財産権の内容は、公共の福祉に適合するやうに、法律でこれを定める。
- ③ 私有財産は、正当な補償の下に、これを公共のために用ひることができる。

首都高速道路建設を推進するため、用地取得の際の **C** と **D** を削減しようとしたから。

問3 下線部 (c) について、次の1, 2に答えなさい。

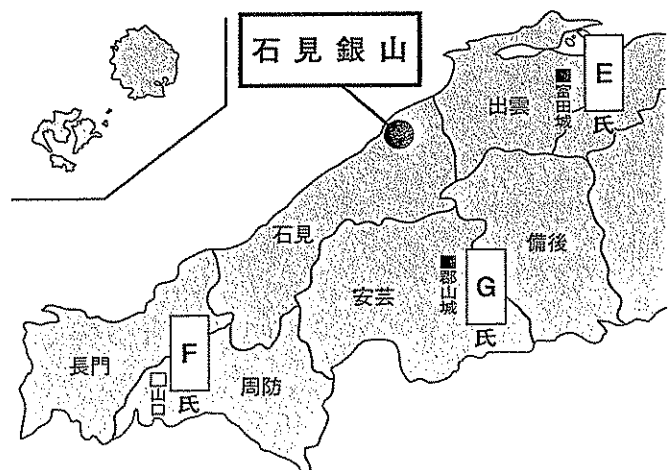
- 1 資料④、略地図①は、石見銀山の支配をめぐる争いが続いた16世紀中ごろの状況を示している。略地図①を参考にして、資料④中の **E**、**F**、**G** にあてはまる戦国大名の組み合わせとして正しいものを、下のア～エから一つ選び、記号で答えなさい。

資料④

戦国時代には、出雲国の **E** 氏が石見国への進出を図り、銀山を支配していた周防国の **F** 氏と銀山の争奪戦が繰り返られることになる。その後 **F** 氏に代わって勢力を強めた **G** 氏が **E** 氏を破り、**G** 氏が銀山を直接支配下に置くまで銀山の争奪戦は続いた。

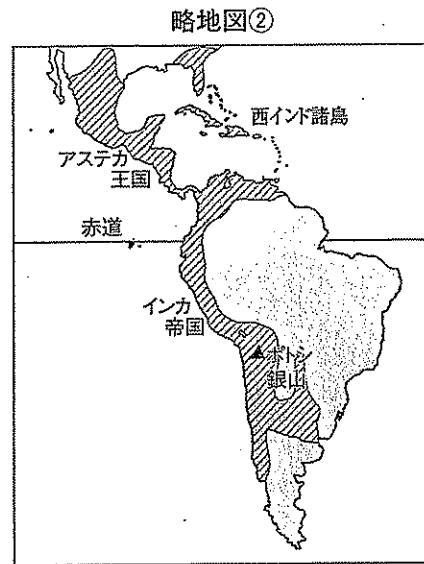
- ア E 尼子 F 毛利 G 大内
イ E 毛利 F 尼子 G 大内
ウ E 尼子 F 大内 G 毛利
エ E 大内 F 毛利 G 尼子

略地図①



(資料④、略地図①は、「もっと知りたいしまねの歴史」などより作成)

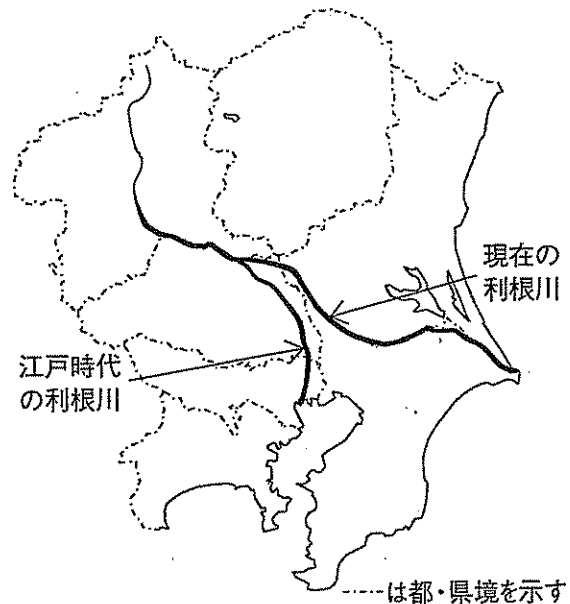
- 2 略地図②中の斜線で示す地域を征服した国は、ポトシ銀山を開発し、銀を貿易の取引に用いた。略地図②中の斜線で示す地域を16世紀前半に征服した国を答えなさい。



- 問4 下線部 (d) に関連して、次の1～6に答えなさい。

- 江戸時代の埋立地の中には、大根、ねぎ、丸なすなどが多く生産され、江戸の町に新鮮な野菜を提供したところもあった。大消費地の近くで野菜などの生産を行う農業を、現在では何というか、答えなさい。
- 江戸時代、洪水から江戸を守ることを目的として、現在の東京湾に流れていた利根川を、太平洋に直接流れるよう工事が行われた。略地図③をみて、現在の河口が県境になっている県を二つ答えなさい。

略地図③

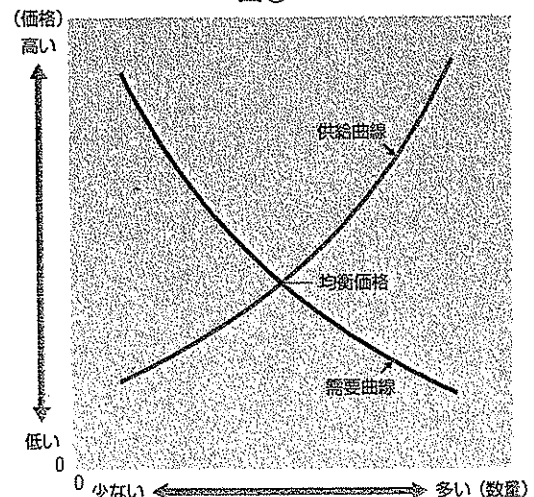


(国土交通省資料より作成)

- 江戸時代には、新田開発がさかに行われるなど米の増産が図られた。一般的に、米の生産量が増えると米価はどうか。市場の仕組みから説明した文として最も適当なものを、図③を参考にして、次のア～エから一つ選び、記号で答えなさい。

- ア 需要量を一定とした場合、供給量が増えるため価格が上がる。
- イ 需要量を一定とした場合、供給量が増えるため価格が下がる。
- ウ 供給量を一定とした場合、需要量が増えるため価格が上がる。
- エ 供給量を一定とした場合、需要量が増えるため価格が下がる。

図③



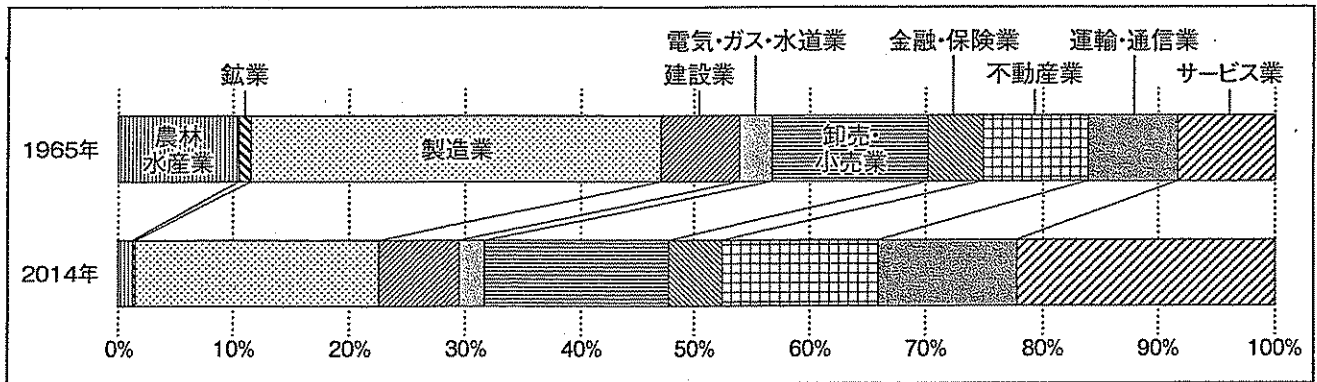
4 下の地図①中の **中央卸売市場** の●と、中央卸売市場の移転予定先である豊洲の **市場前駅** の●までの実際の直線距離はおよそ2.2kmである。地図①の縮尺として正しいものを、次のア～エから一つ選び、記号で答えなさい。ただし、必要があれば図④を参考にしてもよい。

- ア 5千分の1 イ 1万分の1 ウ 2万5千分の1 エ 5万分の1

5 下の地図①中の晴海（五）にある Y の地図記号が示す施設の名称を、漢字3字で答えなさい。

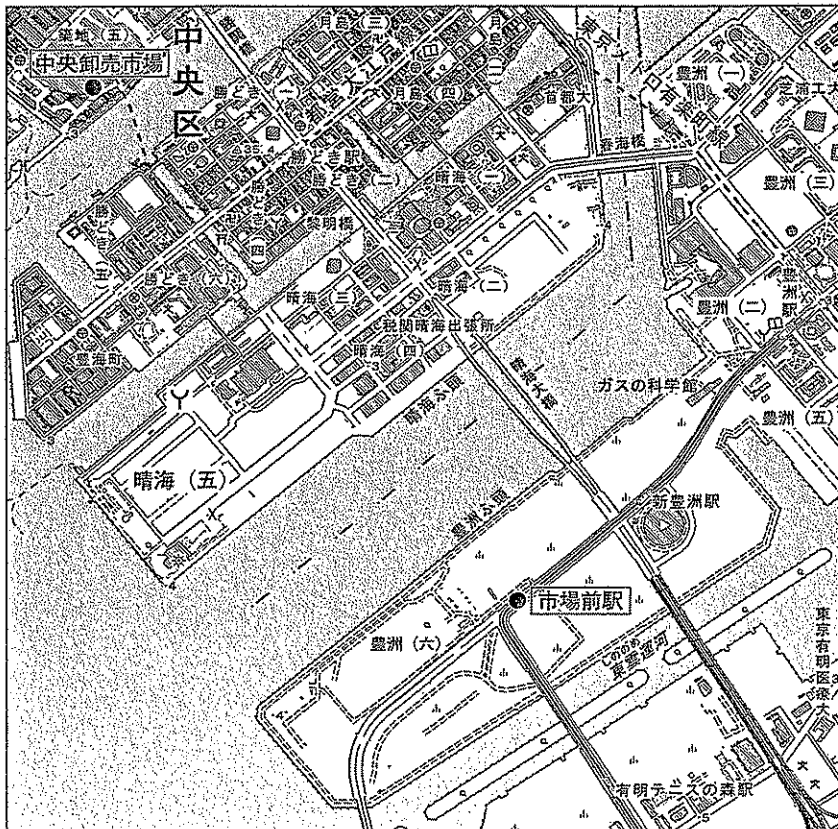
6 日本の産業構造は、高度経済成長期と現在ではグラフ②のように変化をした。グラフ②の第二次産業の変化にふれた上で、地図①、地図②の比較からみえる、豊洲における第二次産業に関する変化を、具体例をあげて30字以上、40字以内で説明しなさい。

グラフ② 国内総生産の産業別比率変化

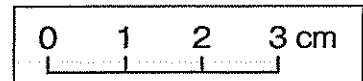


(「数字でみる日本の100年」「日本国勢図会2016/2017」より作成)

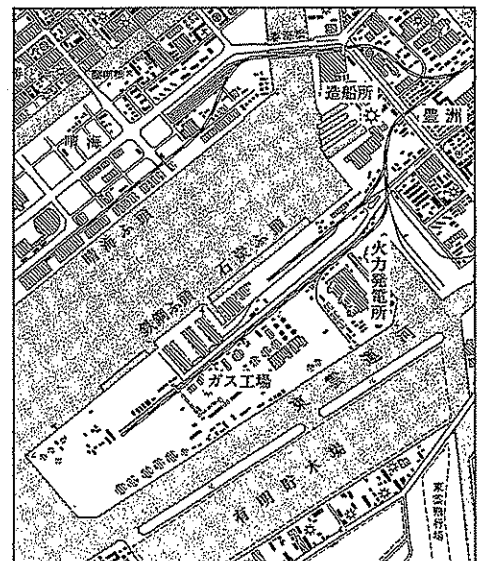
地図① 2015年



図④ ものさし



地図② 1967年



※縮尺は地図①と異なる

(地図①、地図②は、地形図「東京南部」より作成)

【第2問題】 日本と世界の歴史について、次の問1～問3に答えなさい。

問1 古代～近世について、次の1～4に答えなさい。

1 写真①の人物が来日したころの世界のようすとして最も適当なものを、次のア～エから一つ選び、記号で答えなさい。

写真①



- ア 漢と、地中海一帯を支配したローマ帝国との交易が始まった。
- イ 唐の都の長安には、世界各地の産物がもたらされた。
- ウ モンゴル帝国の都には、ヨーロッパから宣教師や商人が訪れた。
- エ 明は、室町幕府に倭寇の取りしまりを求めた。

2 古代～中世の仏教に関する次のア～ウの資料を、年代の古い順に並べて記号で答えなさい。


ア



イ



ウ



3 資料①中の **A** について、江戸幕府は資料②の法令を定めた。 **A** にあてはまる語を答えなさい。

資料① 分国法

本拠である朝倉館以外に、国の中に **A** をつくってはならない。

(「朝倉孝景条々」)


資料② 江戸幕府の法令

修理する場合であっても、必ず幕府に報告せよ。ましてや新しくつくることは、かたく禁止する。

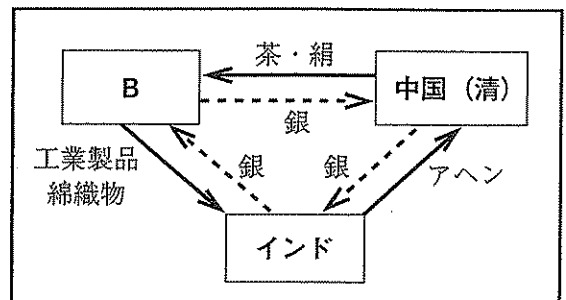
(「武家諸法度」の内容を一部改めている)

- 4 図①のアヘン戦争を知って衝撃を受けた江戸幕府が、異国船（外国船）打払令を撤回したねらいを、下の形式に合うように、10字以上、20字以内で説明しなさい。ただし、図①、図②中の **B** にあてはまる国名を用いること。

図①



図② 三角貿易のしくみ



アヘン戦争を知って衝撃を受けた江戸幕府が、(10字以上、20字以内) ため。

- 問2 近代について、次の年表を参考にして、下の1、2に答えなさい。

西暦	日本と世界の主なできごと
1914年	第一次世界大戦が始まる。日本は連合国側で参戦する。
1917年	ロシア革命が起こる。
1918年	原敬内閣が成立する。第一次世界大戦が終わる。
1925年	日本で満25歳以上の男子に選挙権が認められる。

- 1 表①中の **C** , **D** , **E** にあてはまる、日本の輸出相手国の組み合わせとして正しいものを、略地図①を参考にして、下のア～エから一つ選び、記号で答えなさい。

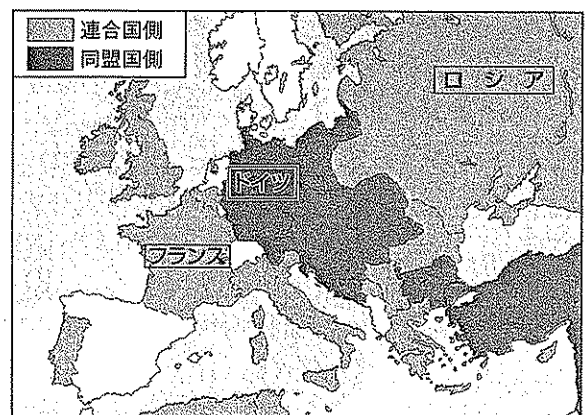
表① 日本の輸出額の変化

(単位：万円)

輸出相手国	C	D	E
西暦			
1913年	490	6023	1313
1914年	197	3121	996
1915年	1124	4229	-
1916年	3342	6401	-
1917年	1352	9782	-
1918年	16	14220	-
1919年	46	6685	6
1920年	21	7165	107

※表中の「-」は不明または統計なし
(「明治大正国勢総覧」より作成)

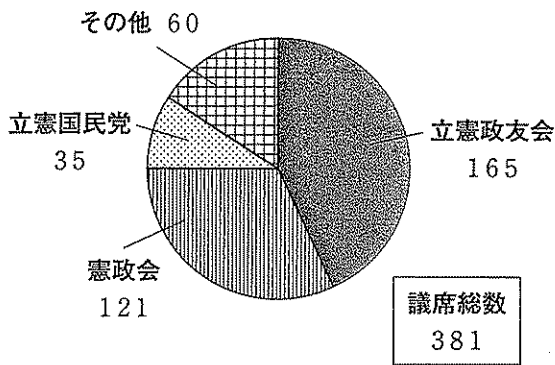
略地図① 1917年のヨーロッパ



- | | | | | | | |
|---|----------|------|----------|------|----------|------|
| ア | C | フランス | D | ロシア | E | ドイツ |
| イ | C | フランス | D | ドイツ | E | ロシア |
| ウ | C | ロシア | D | ドイツ | E | フランス |
| エ | C | ロシア | D | フランス | E | ドイツ |

2 グラフ①, 表②を参考にして, 原内閣の発足時について述べた下の I, II の文の正誤を判断し, その組み合わせとして正しいものを, 下のア~エから一つ選び, 記号で答えなさい。

グラフ① 衆議院の政党別議席数 (1918年)



(グラフ①, 表②は「日本20世紀館」などより作成)

表② 閣僚一覧

職名	氏名	所属政党
内閣総理大臣	原 敬	立憲政友会
外務大臣	内田 康哉	なし (外交官)
内務大臣	床次 竹二郎	立憲政友会
大蔵大臣	高橋 是清	立憲政友会
陸軍大臣	田中 義一	なし (陸軍)
海軍大臣	加藤 友三郎	なし (海軍)
司法大臣	原 敬 (兼任)	立憲政友会
文部大臣	中橋 徳五郎	立憲政友会
農商務大臣	山本 達雄	立憲政友会
通信大臣	野田 卯太郎	立憲政友会
書記官長	高橋 光威	立憲政友会
法制局長官	横田 千之助	立憲政友会

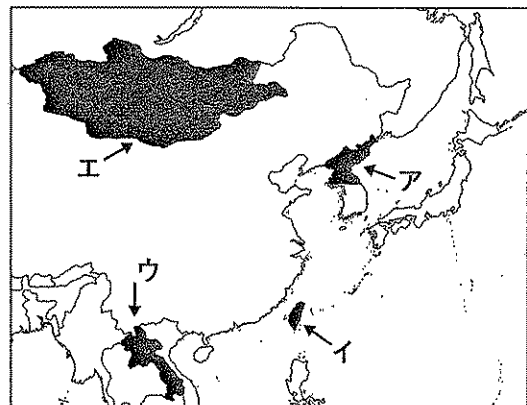
- I 原内閣は, 与党が衆議院の過半数であることを背景に, 普通選挙法を成立させた。
 II 原内閣の閣僚は, 外務大臣, 陸軍大臣, 海軍大臣以外は衆議院第一党の党員であった。

- ア I = 正 II = 正 イ I = 正 II = 誤
 ウ I = 誤 II = 正 エ I = 誤 II = 誤

問3 現代について, 次の1, 2に答えなさい。


1 日本の敗戦後, 中国では中国国民党 (国民政府) と中国共産党との間で内戦が再発した。内戦に敗れた中国国民党はどこにのがれたか。正しいものを, 略地図②中のア~エから一つ選び, 記号で答えなさい。

略地図②



2 図③は沖縄で使用された切手を示している。このように変更されたのはなぜか。資料③からわかる理由を, 15字以上, 25字以内で説明しなさい。ただし, **F** にあてはまる国名を用いること。

図③



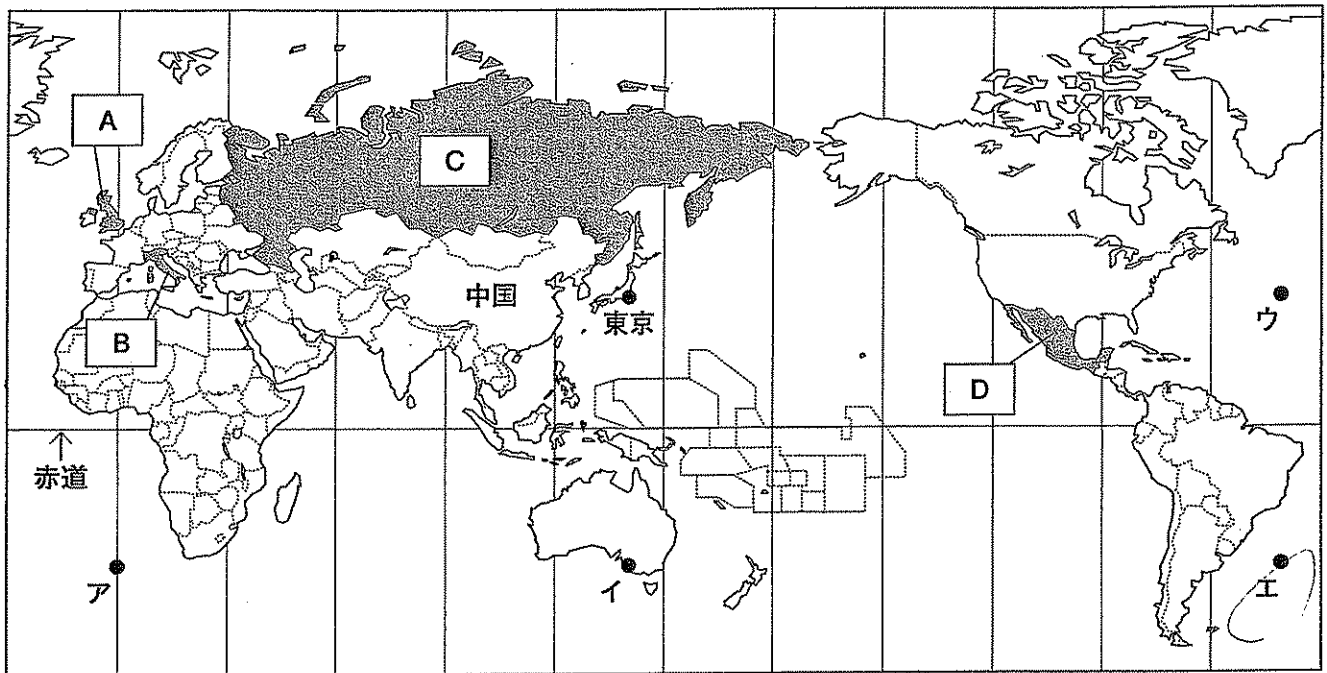
資料③ 佐藤栄作内閣が結んだ協定

F は, (中略) 琉球諸島及び大東諸島に関し (中略) すべての権利及び利益を, この協定の効力発生の日から日本国のために放棄する。


【第3問題】 世界と日本の地理について、次の問1～問4に答えなさい。

問1 略地図①について、下の1～3に答えなさい。



略地図①



※経線は、30度間隔で示している。

1 資料①に示す国はどこか。正しいものを、略地図①中に  で示した **A** ~ **D** から一つ選び、記号で答えなさい。

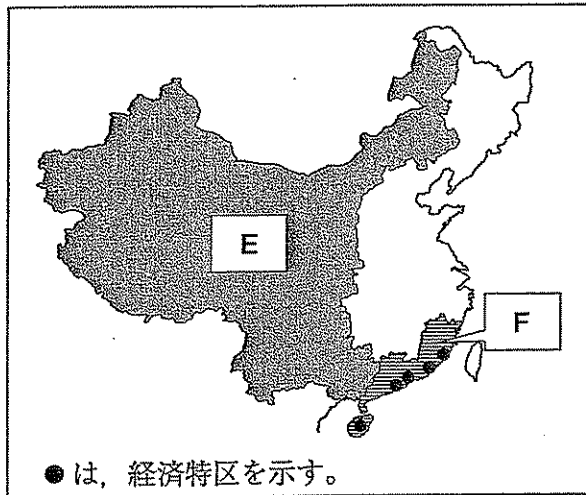
資料①

 <p>小麦粉をめんにした料理を、フォークを使って食べている。この料理には、オリーブオイルも使われている。</p>	 <p>この国の首都の中に、国土の面積が世界で最も小さいバチカン市国がある。</p>
--	--

2 東京からみて、地球の中心を通った反対側の地点はどこか。略地図①中のア～エから一つ選び、記号で答えなさい。

3 中国の **E**、**F** の地域について、略地図②、表①、表②から読みとることができる内容として正しいものを、下のア～エから一つ選び、記号で答えなさい。

略地図②



表① **E** と **F** の比較 (2015年)

	E	F
人口 (千万人)	37	16
一人あたり 国内総生産 (ドル)	6271	10551

※ホンコン、マカオは含まない。
 (「地理統計2017年版」より作成)

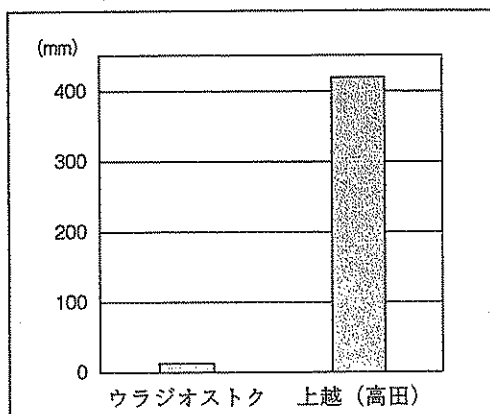
表② 中国で行われてきた開発

年代	開発の内容
1970年代末～ 1980年代	工業の分野で、外国企業を受け入れるための経済特区が F の沿海部に指定され、開発が進められた。
2000年代以降	E で大規模な開発が行われる。

- ア **E** は、**F** と比較して人口が多く、人口密度も高い。
- イ **F** の一人あたり国内総生産は、**E** の2倍以上である。
- ウ **F** の沿海部に経済特区が指定された後に、**E** で大規模な開発が行われた。
- エ **E** と **F** の両方にある経済特区では、外国企業のみが工業製品を生産している。

問2 グラフ①は、略地図③中のウラジオストクと上越(高田)における、1月の降水量を示している。上越(高田)の1月の降水量が多い理由を、季節風の風向きを8方位で明らかにし、解答欄の書き出しに続けて、25字以上、35字以内で説明しなさい。

グラフ① 1月の降水量



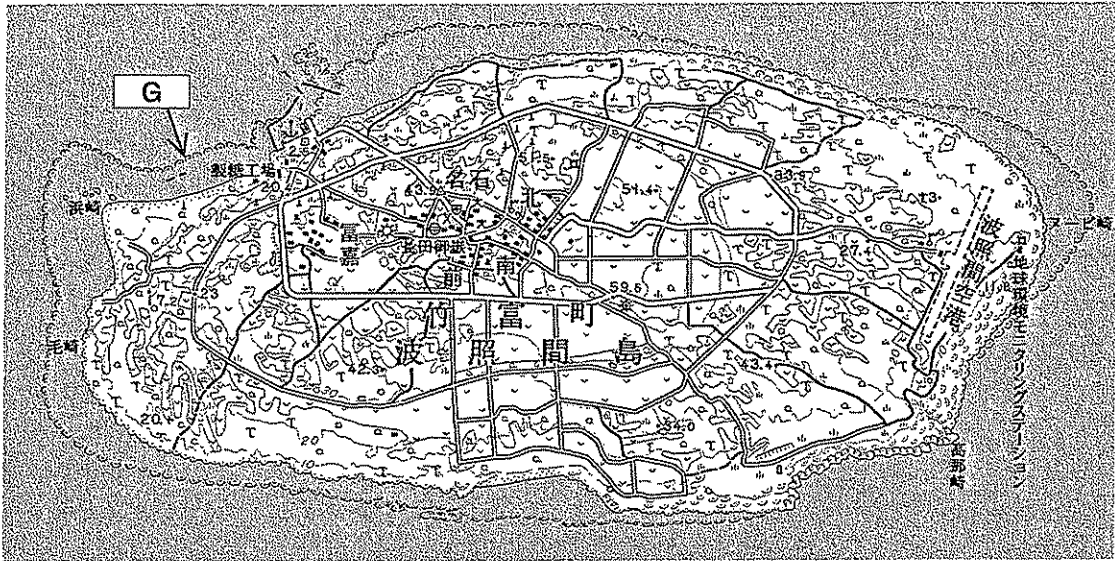
(「日本国勢図会2017/2018」などより作成)

略地図③



問3 地図①は、沖縄県の波照間島のものである。これについて、下の1, 2に答えなさい。

地図①



(地形図「西表島西部」より作成)

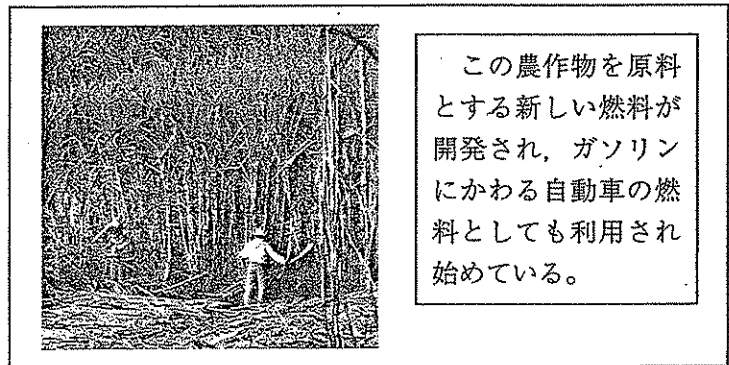
- 1 波照間島の海岸は **G** に囲まれ、美しい海が広がっている。沖縄県をはじめとした日本の南の島にみられ、貴重な観光資源となっている **G** にあてはまる地形を答えなさい。
- 2 表③は、波照間島で栽培されている農作物の、2014年の生産量上位4か国を示している。この農作物を資料②を参考にして、答えなさい。

表③

国名	世界の生産量に占める割合 (%)
ブラジル	39.1
インド	18.7
中国	6.7
タイ	5.5

(「世界国勢図会2017/2018」より作成)

資料②




この農作物を原料とする新しい燃料が開発され、ガソリンにかわる自動車の燃料としても利用され始めている。

問4 日本固有の領土である、写真①の竹島に関連するできごとのうち、最も古いものを、次のア～エから一つ選び、記号で答えなさい。

- ア 幕府の許可を受けて、日本人が現在の竹島での漁業を始めた。
- イ 閣議で「竹島」と命名し、日本への領土編入を決定した。
- ウ 島根県議会で、「竹島の日を定める条例」が可決された。
- エ 韓国が領有を主張して、竹島を不法に占拠した。

写真①




(外務省ホームページより作成)

【第4問題】 問1～問6に答えなさい。

問1 全員が参加して物事を決める政治制度を何というか。

写真①を参考にして、漢字で答えなさい。

写真① スイスのある州でのようす



問2 わが国で制定された表①の法律を何というか、

答えなさい。

表①

	1985年制定	1997年改正	2006年改正	2016年改正
雇用にあたっての条件など	女性に均等な機会を与えるよう努める。	男性との差別を禁止する。	性別を理由とした差別を禁止し、募集時での身長・体重などを条件としない。	改正なし。
職場におけるハラスメントの防止	規定なし。	配慮することを義務づける。	男女とも対象とし、必要な措置を義務づける。	妊娠、出産などに関する措置を義務づける。

問3 資料①は、大日本帝国憲法の条文を抜き出したものである。日本国憲法と大日本帝国憲法の内容を比較した文として正しいものを、下のア～エから一つ選び、記号で答えなさい。

資料①

第1章 天皇	
第4条	天皇は国の元首にして統治権を ^{※1} 総攬し、この憲法の条規によりこれを行う
第2章 ^{※2} 臣民権利義務	
第20条	日本臣民は、法律の定めるところにしたがい、兵役の義務を有す
第21条	日本臣民は、法律の定めるところにしたがい、納税の義務を有す
第22条	日本臣民は、法律の範囲内において居住及び移転の自由を有す
第29条	日本臣民は、法律の範囲内において言論著作印行集会および結社の自由を有す
第3章 帝国議会	
第34条	貴族院は、貴族院令の定むる所により、皇族・華族及び勅任せられたる議員をもって組織す
第35条	衆議院は、選挙法の定むる所により公選せられたる議員をもって組織す

※1「総攬」はすべてにぎること。

※2「臣民」は大日本帝国憲法下における、天皇・皇族以外の国民。

なお、表記は一部改めている。

ア 日本国憲法は、天皇を日本国と日本国民統合の象徴としているが、大日本帝国憲法では国の元首として統治権をすべてにぎるとしていた。

イ 日本国憲法は、3つの国民の義務を定めているが、大日本帝国憲法でも臣民の義務として同じ義務を定めていた。

ウ 日本国憲法は、大日本帝国憲法と同様に、国民の基本的人権は侵すことのできない永久の権利としている。

エ 日本国憲法は、すべての国会議員を選挙によって選出するとしているが、大日本帝国憲法は皇族と華族のみを議員として選出していた。

問4 現代の企業と働き方について、次の1, 2に答えなさい。

1 企業の社会的責任（CSR）に関して述べた文として適当でないものを、次のア～エから一つ選び、記号で答えなさい。

- ア 法令を守り、雇用を確保し、従業員の労働環境に配慮する。
- イ 本業と直接関係しない、社会的に意義のある文化活動を行う。
- ウ 地球環境への影響を考慮して、商品の生産方法を選ぶ。
- エ 原料の産地や、取得した顧客の個人情報幅広く開示する。

2 資料②は、政府などによって制定された「仕事と生活の調和（ワーク・ライフ・バランス）憲章」がめざす社会の姿の一部を、わかりやすくまとめたものである。資料③、表②からそれぞれ読みとれることをもとに、資料②の形式に合うように、 にふさわしい例を考え、20字以上、30字以内で答えなさい。

資料②

仕事と生活の調和（ワーク・ライフ・バランス）が実現した社会の姿

- 1 就労による経済的自立が可能な社会
例) 若者が正規で雇用されることで、結婚や子育てに関する希望の実現などに向けて、安定した働き方ができる。
- 2 健康で豊かな生活のための時間が確保できる社会
例) 誰もが 働き方ができる。
- 3 多様な働き方・生き方が選択できる社会
例) 誰もが子育てや親の介護が必要な時期に、働く時間などを選択可能な働き方ができる。

(厚生労働省ホームページより作成)

資料③

「過労死ライン」
超過ゼロへ
来年度
職員時間外労働
県が目標

県は2日、職員の働き方を見直すための会議を開き、「過労死ライン」とされる月80時間以上の時間外勤務を来年度中になくするという目標を立てた。職員1人当たりの時間外勤務時間の年平均を昨年度比で25%減らすことも目標として

※時間外労働（勤務）は、労働基準法などによって定められた労働時間を超える労働

(朝日新聞佐賀全県 (2017年11月12日付記事) より作成)

表② 各国の年次有給休暇 (2014年)

国名	取得できる日数の平均 (日)	取得率 (%)
日本	18.4	48
アメリカ	19.0	74
イギリス	25.1	100
フランス	30.0	100
ドイツ	30.0	93

※年次有給休暇は、給料が保障される休暇

(データブック国際労働比較などより作成)

問5 写真②のような、自衛隊も参加している国際協力を何というか。表③を参考にして、答えなさい。

写真②



表③ 国際協力のおもな実績

派遣先	内容
アンゴラ	選挙監視
カンボジア	道路、橋の建設
モザンビーク	輸送手段の割りあて
エルサルバドル	選挙監視
ザイール、ケニア	難民の救援
イスラエル、シリア	食料品の輸送
ボスニア・ヘルツェゴビナ	選挙監視
パキスタン	難民の救援
ユーゴスラビア	選挙監視
東ティモール	道路、橋の補修
イラク	難民の救援
ハイチ	被災者の支援
南スーダン	道路の整備

(外務省資料などより作成)

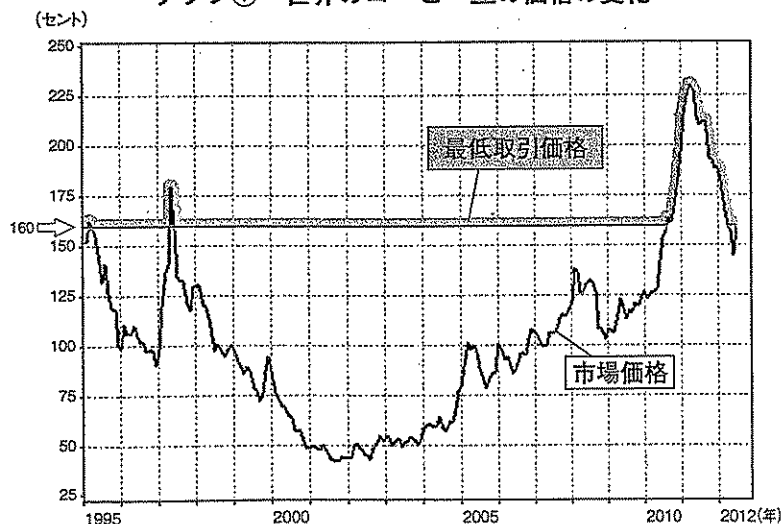
問6 近年、世界で注目されているフェアトレード運動について、次の1、2に答えなさい。

- 1 発展途上国の人々が生産した農産物や製品を、労働に見合う適正な価格で取引することをフェアトレードという。フェアトレードのねらいについて、次の形式に合うように、5字以上、15字以内で答えなさい。

フェアトレード運動に参加している組織（業者）は、「最低取引価格」などを決めて、適正な価格で継続的に購入することを通じて、（5字以上、15字以内）を支えることをめざしている。

- 2 グラフ①から「最低取引価格」について読みとれることとして最も適当なものを、下のア～エから一つ選び、記号で答えなさい。

グラフ① 世界のコーヒー豆の価格の変化



※価格は、コーヒー豆1ポンド（約454グラム）あたりの価格（100セント＝1ドル）
（国際コーヒー機関資料などより作成）

- ア 最低取引価格は、市場価格に関わらず、常に160セントに設定されている。
- イ 最低取引価格は、市場価格の3倍以上にならないように設定されている。
- ウ 最低取引価格は、市場価格が160セントを超えると、常に175セントに設定されている。
- エ 最低取引価格は、市場価格を上回る価格か、同額になるように設定されている。