

平成30年度鳥取県立高等学校入学者選抜
学 力 検 査 問 題

社 会

(第3時限 11:30~12:20 50分間)

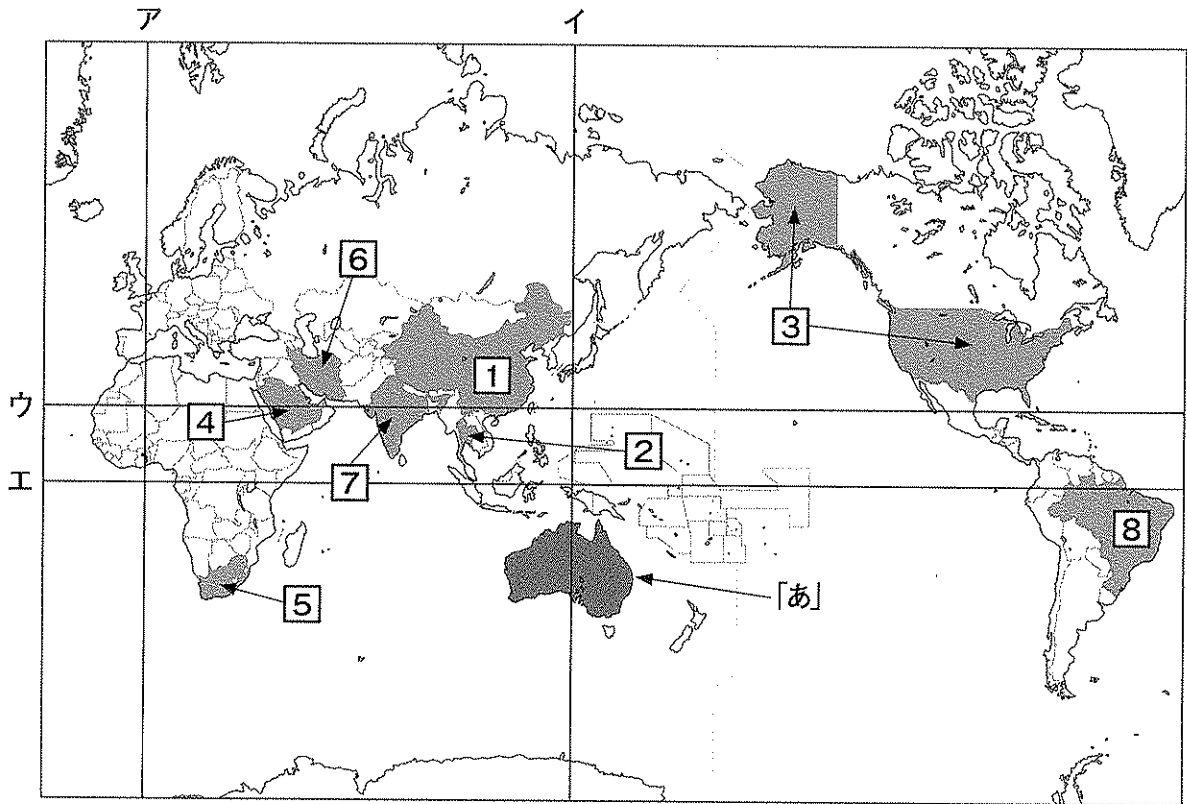
注 意

- 1 「始め」の合図があるまで、開いてはいけません。
- 2 問題は全部で3題あり、20ページまでです。
- 3 「始め」の合図があったら、まず、解答用紙に受検番号を書きなさい。
- 4 ページ数を確認し、不備があった場合、すみやかに監督の先生に申し出て下さい。
- 5 答えはすべて解答用紙に書きなさい。
- 6 問題を読むとき、声を出してはいけません。
- 7 「やめ」の合図で筆記用具を置きなさい。

【問題 1】

問 1 次の地図をみて、あとの各問いに答えなさい。

地図



- (1) 緯度0度の線（赤道）として、最も適切なものを、地図中の直線ア～エからひとつ選び、記号で答えなさい。
- (2) 次のグラフは、1995年と2015年の日本の電気機器の輸入先を示したものである。グラフ中のA～Cは、地図中の①～③の国のいずれかである。A～Cにあてはまる組み合わせとして、最も適切なものを、あとのア～カからひとつ選び、記号で答えなさい。

グラフ 日本の電気機器の輸入先（単位：％）

1995年 3兆2768億円	9.5	6.2	36.7	13.8	7.3	4.2	22.4	
2015年 12兆145億円		A	台湾 11.0	B	韓国 5.8	C	マレーシア 4.6	その他 17.7
		47.1		9.6		4.2		

「財務省貿易統計」より作成

- ア A-① B-② C-③ イ A-① B-③ C-②
 ウ A-② B-③ C-① エ A-② B-① C-③
 オ A-③ B-① C-② カ A-③ B-② C-①

- (3) 地図中の①～④の国について説明した文として、最も適切なものを、次のア～エからひとつ選び、記号で答えなさい。

ア ①の国は、沿岸部に経済特区などの開発地区が設けられて工業が発展したことによって、問題となっていた国内での地域間の経済格差が解消された。

イ ②の国は、工業団地をつくって外国の企業を積極的に受け入れるなど、工業化を進めているが、現在でもこの国の輸出品の上位は、農産物がしめている。

ウ ③の国は、20世紀前半には、航空機・宇宙産業などの先端技術産業に力を入れていたが、20世紀後半になると、五大湖周辺で自動車産業が発達した。

エ ④の国は、世界有数の原油生産国であり、原油を輸出することによって得た利益を利用して、国土の開発が進められている。

- (4) 次の表1は、日本における2016年の外国人労働者数を示している。また、写真は、表1中のD出身の外国人のためにポルトガル語で表記された相談窓口のある群馬県おおいづみまち大泉町の施設である。表1中のDにあてはまる国を、地図中の⑤～⑧からひとつ選び、数字で答えなさい。

表1 2016年の外国人労働者数

国名	労働者数(人)	割合(%)
中国(ホンコン等を含む)	344,658	31.8
ベトナム	172,018	15.9
フィリピン	127,518	11.8
D	106,597	9.8
ネパール	52,770	4.9
その他	280,208	25.9
全体	1,083,769	100

写真 外国人用の相談窓口のある
コミュニティセンター



「厚生労働省ホームページ」より作成

- (5) 次の表2は、世界の陸地を六つの大陸に分けた場合の各大陸の面積にしめる熱帯、乾燥帯、温帯、亜寒帯、寒帯の面積の割合を示したものである。地図中の「あ」の大陸にあてはまるものを、表2のア～カからひとつ選び、記号で答えなさい。

表2 世界の六大陸の面積にしめる5つの気候帯の面積の割合(単位：%)

	熱帯	乾燥帯	温帯	亜寒帯	寒帯
ア	5.2	14.4	13.5	43.4	23.5
イ	7.4	26.1	17.5	39.2	9.8
ウ	63.4	14.0	21.0	—	1.6
エ	38.6	46.7	14.7	—	—
オ	16.9	57.2	25.9	—	—
カ	—	—	—	—	100.0

「データブック オブ・ザ・ワールド2017年版」より作成

問2 日本の農業に関して、あとの各問いに答えなさい。

- (1) 次の表は、日本の農業生産額の構成と変化を示したものである。この表中のA～Cにあてはまる語の組み合わせとして、最も適切なものを、あとのア～カからひとつ選び、記号で答えなさい。

表 日本の農業生産額の構成と変化（単位：％）

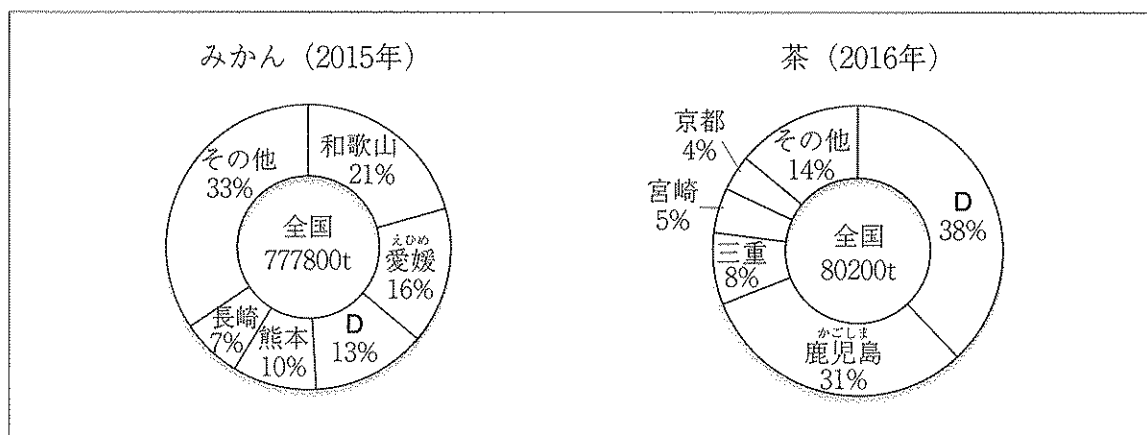
年	生産額（兆円）	A	B	果実	C	その他
1960	1.9	47.4	12.1	6.0	15.2	19.3
1980	10.3	30.1	20.5	6.7	29.9	12.8
2000	9.1	25.4	25.7	8.9	26.9	13.1
2011	8.2	22.4	28.4	9.0	30.9	9.3

「生産農業所得統計」より作成

- | | | | |
|---|----------|----------|----------|
| ア | A－畜産 | B－米 | C－野菜・いも類 |
| イ | A－畜産 | B－野菜・いも類 | C－米 |
| ウ | A－米 | B－野菜・いも類 | C－畜産 |
| エ | A－米 | B－畜産 | C－野菜・いも類 |
| オ | A－野菜・いも類 | B－畜産 | C－米 |
| カ | A－野菜・いも類 | B－米 | C－畜産 |

- (2) 次のグラフ1は、みかん、茶の都道府県別の生産の割合を示したものである。グラフ1中のDにあてはまる都道府県名を答えなさい。なお、みかんのグラフのDと茶のグラフのDには、同じ都道府県名が入る。

グラフ1 みかん、茶の生産の割合



「日本国勢図会 2017/18」より作成

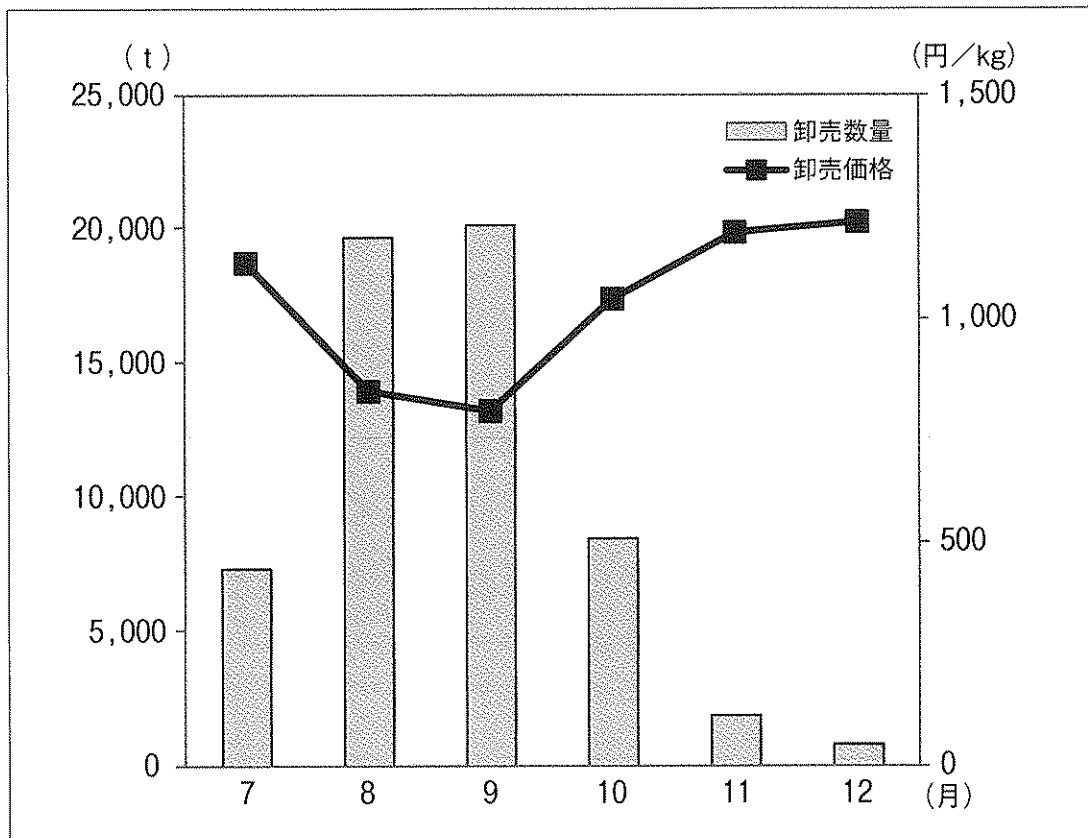
- (3) 次の文は、岡山県のおどょうの出荷に関するものである。また、あとのグラフ2は、7月から12月における主要都市のおどょうの卸売数量と卸売価格を月ごとに示したものである。文中の下線部のように冷蔵貯蔵することで、生産者にとってどのような利点があるか、グラフ2を参考にして答えなさい。なお、あとの条件にしたがって記入すること。

文

J A 岡山^{かがわ}加茂川ぶどう部会は平成29年11月29日から、冷蔵貯蔵したシャインマスカット（ぶどうの品種の名称）の出荷を開始した。今回出荷されたシャインマスカットは、10月上旬から冷蔵貯蔵したもので、当日は、3名の生産者が約150kgを選果場に持ち込み、主に関東市場に出荷された。

「岡山県ホームページ」より改編

グラフ2 主要都市のおどょうの卸売数量と卸売価格



「青果物卸売市場調査 平成28年年間計及び月別結果（農林水産省）」より作成

条件

・「出荷時期」, 「価格」の2語を使用すること。

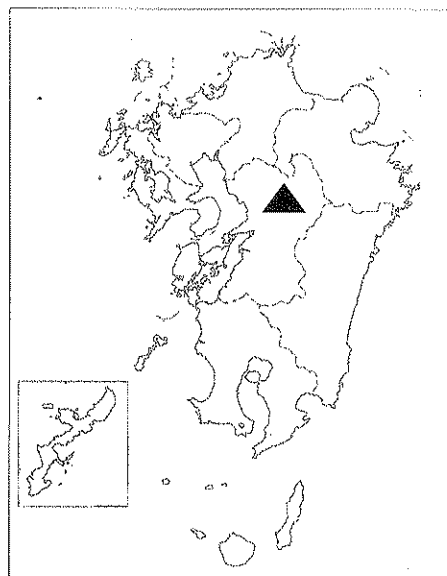
問3 九州地方に関して、あとの各問いに答えなさい。

(1) 地図1中の▲は、九州地方のある火山を示している。この火山には、爆発や、噴火による陥没などによってできた大きなくぼ地がみられる。このくぼ地を何というか、答えなさい。

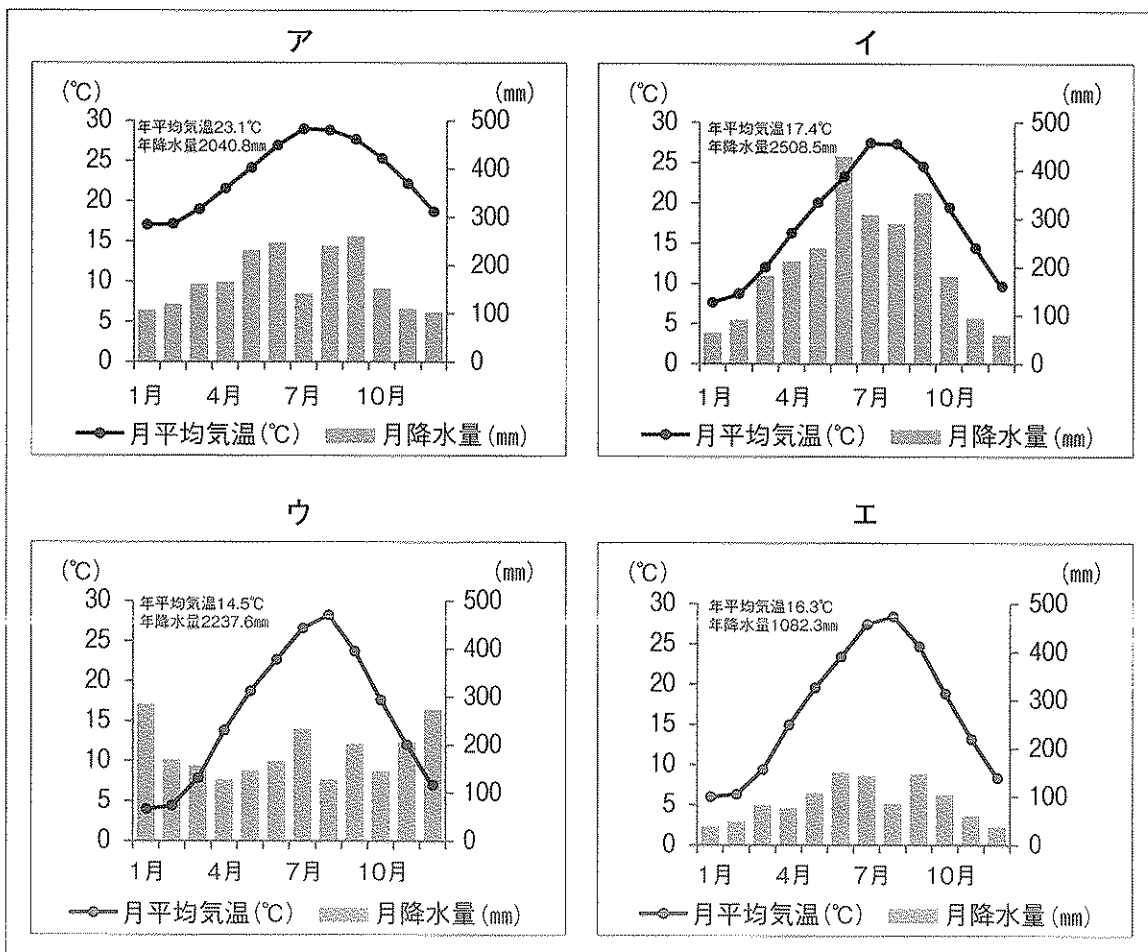
(2) 火山が多い九州地方では、そのエネルギーを発電に生かしている。火山などの地下にある高温の熱水や水蒸気などを利用する発電方法を何というか、答えなさい。

(3) 次のグラフ1は、那覇、宮崎、高松、福井のいずれかの都市の雨温図である。宮崎の雨温図として、最も適切なものを、次のア～エからひとつ選び、記号で答えなさい。

地図1



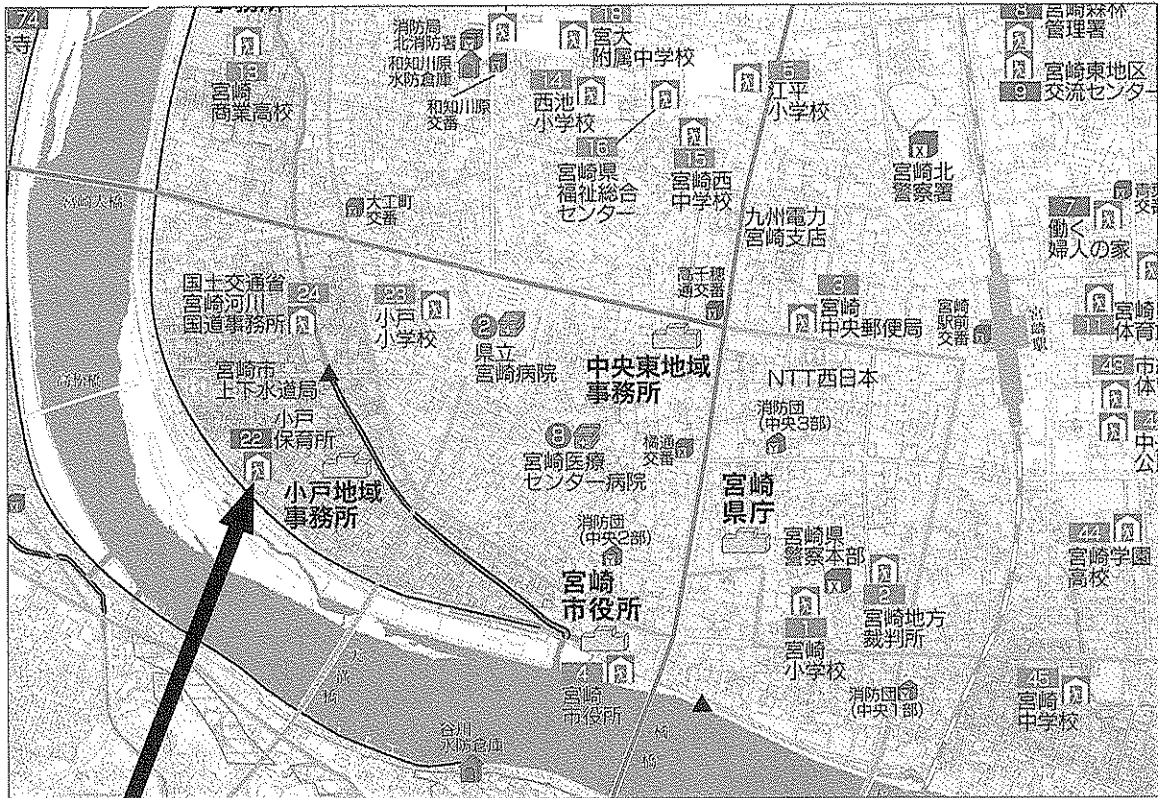
グラフ1



「データブック オブ・ザ・ワールド2017年版」より作成

- (4) 次の地図2は、宮崎県の大淀川周辺で洪水が発生した際の被害の可能性や避難所などを示したものである。このような地図を何というか、カタカナで答えなさい。

地図2

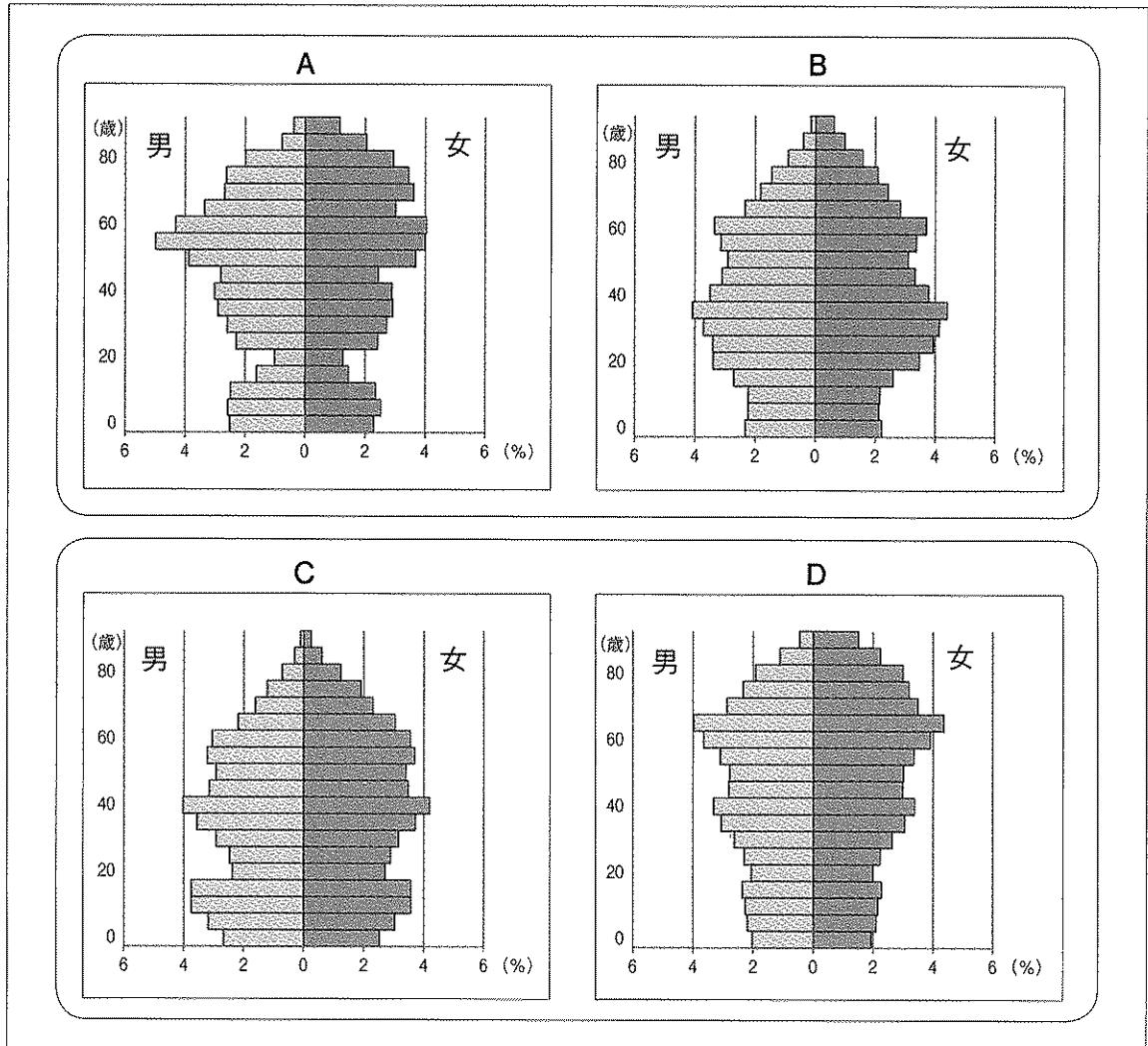


「宮崎市ホームページ」より作成



- (5) 次のグラフ2は、人口ピラミッドである。AとBは2010年の福岡県福岡市と鹿児島県屋久島町、また、CとDは1990年の大分県と2015年の大分県、それぞれいずれかのものを示している。「福岡県福岡市」と「2015年の大分県」にあてはまる組み合わせとして、最も適切なものを、あとのア～エからひとつ選び、記号で答えなさい。

グラフ2



総務省「国勢調査」などを参考に作成


- ア 福岡県福岡市 - A 2015年の大分県 - C
 イ 福岡県福岡市 - A 2015年の大分県 - D
 ウ 福岡県福岡市 - B 2015年の大分県 - C
 エ 福岡県福岡市 - B 2015年の大分県 - D

問題は、次のページに続きます。

【問題2】


問1 次の資料Ⅰ～Ⅳは、鳥取県内の石碑と、それに関する歴史を簡単にまとめたものである。これを見て、あとの各問いに答えなさい。

資料Ⅰ




この石碑は鳥取市にあり、「田村虎蔵先生碑」と記されている。田村虎蔵は、(a)古事記の中にある話をもとにした「大黒さま」をはじめ、「金太郎」「浦島太郎」など、多くの童謡を作曲した。

資料Ⅱ




この石碑は西伯郡(b)大山町にあり、「御船頭塚」と記されている。隠岐に流されていた(c)後醍醐天皇を名和の港まで船で運んだ後に病に倒れ、故郷の隠岐に帰ることなく亡くなった船頭を祀ったと言われている。

資料Ⅲ



この石碑は東伯郡湯梨浜町にあり、「橋津の藩倉」と記されている。江戸時代に鳥取藩が年貢米の保管のために建てたこの倉には、約五万俵の(d)米を貯蔵できたという。その米は船に積まれ、(e)大阪などへ送られた。

資料Ⅳ



この石碑は米子市にあり、「山陰鉄道発祥之地 米子」と記されている。1902年に、境駅(現在の境港駅)から米子駅を経て御来屋駅まで、山陰地方で初めて(f)鉄道が開通した。

(1) 資料Ⅰ中の下線部(a)に関連して、古事記が完成した712年におかれていた都の名前として、最も適切なものを、次のア～エからひとつ選び、記号で答えなさい。

- ア 藤原京
- イ 平城京
- ウ 長岡京
- エ 平安京

- (2) 資料Ⅱ中の下線部(b)に関連して、大山町の大山寺には、阿弥陀仏（阿弥陀如来）の仏像がある。次の写真A、Bのうちのどちらかは、阿弥陀仏（阿弥陀如来）にすぎる浄土信仰が広まった時期の建造物である。この時期の建造物とそれを建てた人物の組み合わせとして、最も適切なものを、あとのア～エからひとつ選び、記号で答えなさい。

写真A



写真B



- ア 写真A - 藤原頼通ふじわらのよりみち イ 写真A - 足利義政あしかがよしまさ
 ウ 写真B - 藤原頼通 エ 写真B - 足利義政

- (3) 資料Ⅱ中の下線部(c)の人物が建武の新政を行ったのは、次の略年表中のア～エのどの時期か、最も適切なものをひとつ選び、記号で答えなさい。

略年表

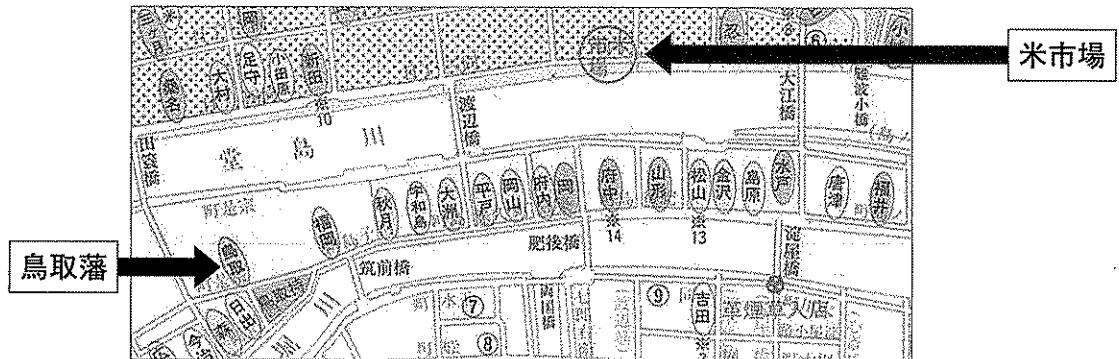
年	できごと
1167	平清盛 <small>たいらのきよもり</small> が太政大臣 <small>だいじょうだいじん</small> となる <small>↑ ↓</small> ア
1185	源頼朝 <small>みなもとのよりとも</small> が守護・地頭を設置する <small>↑ ↓</small> イ
1232	北条泰時 <small>ほうじょうやすとき</small> が御成敗式目を制定する <small>↑ ↓</small> ウ
1392	足利義満 <small>あしかがよしみつ</small> が南北朝を統一する <small>↑ ↓</small> エ
1582	羽柴 <small>はしば</small> （豊臣 <small>とよとみ</small> ）秀吉 <small>ひでよし</small> が検地を開始する

- (4) 資料Ⅲ中の下線部(d)に関連して、日本の稲作に関して説明した次のA～Dの文を、古いものから順に並べ、記号で答えなさい。

- A 米と麦などの二毛作にもうさくが広がり、惣そう（惣村）が用水路の管理などを行った。
 B 戸籍にもとづき口分田くぶんてんを与えられた農民が、収穫の3%を税として納めた。
 C 石包丁で穂先を刈り取った稲をたくわえるため、高床倉庫がつくられ始めた。
 D 新田開発により耕地が増え、千歯こきなどの発明により、生産力が向上した。

- (5) 資料Ⅲ中の下線部(e)に関連して、次の地図1は、江戸時代の大阪の米市場周辺を示したものである。地図1をみると、米市場の周辺には鳥取藩をはじめとする諸藩の施設が多くあったことがわかる。諸藩の年貢米や特産物が運びこまれたこの施設を何というか、答えなさい。

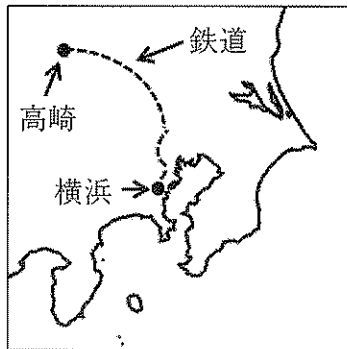
地図1




「新修大阪市史」をもとに作成

- (6) 資料Ⅳ中の下線部(f)に関連して、次の地図2は、1884年に開通した高崎・横浜間の^{たかさき}高崎・横浜間の鉄道を、**絵**は、明治初期における横浜のようすを描いたものである。また、**文**は、全国でも比較的早い時期にこの区間が鉄道で結ばれた理由を述べたものである。**絵**を参考にして、**文**中の（ ）に適切な内容を入れて、**文**を完成させなさい。なお、あとの条件にしたがって、15字以内で記入すること。

地図2



絵 「横浜波止場ヨリ海岸通異人館之真図」
はとば かいがんどおりいじんかんのしんず



「神奈川デジタルアーカイブ」より

文

政府が殖産興業を進めたこともあり、高崎の周辺には、富岡製糸場をはじめとする製糸工場が多くつくられた。それらの工場で生産された生糸を（ ）ため、この鉄道は、全国でも比較的早い時期に開通した。

条件

- ・「横浜」の語を使うこと。
- ・句読点も字数に数えること。

問題は、次のページに続きます。

問2 次の略年表は、民衆の権利に関するできごとを表したものである。これを見て、あとの各問いに答えなさい。

略年表

年	できごと（ <u> </u> は、世界のできごと）
1689	イギリスで権利章典（ <u>権利の章典</u> ）が制定される
1776	(a) <u>アメリカで独立宣言が発表される</u>
1789	フランス革命で <u>人権宣言が発表される</u>
1874	(b) <u>自由民権運動が始まる</u>
1890	最初の衆議院議員選挙が行われる
1918	(c) <u>本格的な政党内閣（<small>はらたかし</small>原敬内閣）が成立する</u>
1928	(d) <u>衆議院議員選挙で初めて普通選挙が実施される</u>
	↑↓ (e)
1947	日本国憲法が施行される
	↑↓ (f)
1979	日本が国際人権規約を* <u>批准</u> する

* 「批准」：条約に対する国家の最終的な確認または同意

- (1) 次の文は、略年表中の下線部(a)の頃の江戸幕府の政治について述べたものである。文中の(A)、(B)にあてはまる語の組み合わせとして、最も適切なものを、あとのア～エからひとつ選び、記号で答えなさい。

文

江戸幕府は、商工業者の同業（者）組織である(A)の営業権を認めるかわりに税を納めさせたり、長崎での貿易の(B)を図ったりするなど、商品の流通から得る利益に注目し、財政を立て直そうとした。


- ア (A) - 座 (B) - 拡大
 イ (A) - 座 (B) - 縮小
 ウ (A) - 株仲間 (B) - 拡大
 エ (A) - 株仲間 (B) - 縮小

- (2) 略年表中の下線部(b)の頃の日本と外国の間で起こったできごとについて説明した文として、最も適切なものを、次のア～エからひとつ選び、記号で答えなさい。

- ア 日本は樺太・千島交換条約を結び、ロシアとの国境を定めた。
 イ 日本は清と下関条約を結んだが、三国干渉により遼東半島を清に返還した。
 ウ ポーツマス条約で得た利権をもとに、日本は南満州鉄道株式会社を設立した。
 エ ベルサイユ条約が結ばれた翌年、日本は国際連盟の常任理事国になった。

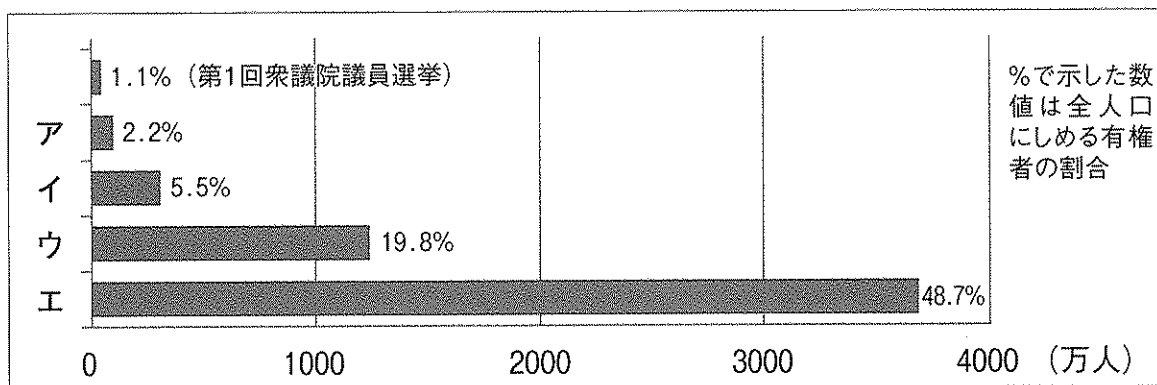
- (3) 略年表中の下線部(c)は、次の絵に描かれた民衆運動を背景としている。富山県で始まった後に全国の都市に広がり、軍隊が出動しておさえようとするほど、民衆の力の大きさを示すことになったこの運動を何というか、答えなさい。

絵



- (4) 次のグラフは、明治から昭和にかけての衆議院議員選挙における有権者数を示したものである。略年表中の下線部(d)の年(1928年)の有権者数として、最も適切なものを、グラフ中のア～エからひとつ選び、記号で答えなさい。また、この時の有権者の資格を答えなさい。なお、グラフ中のア～エは、有権者の資格に変更があった法改正後、初めて実施された選挙における有権者数を示している。

グラフ 衆議院議員選挙における有権者数



「帝国書院ホームページ」より作成

- (5) 略年表中の(e)の期間中の日本の経済について述べた文として、最も適切なものを、次のア～エからひとつ選び、記号で答えなさい。

- ア 大戦景気により経済は好況になり、工業生産額が大きく増加した。
- イ 世界恐慌の影響で農産物の価格が下がり、農村での生活は苦しくなった。
- ウ 朝鮮戦争が始まり、軍需物資を生産したことで経済の復興が進んだ。
- エ 石油危機とよばれる石油価格の値上がりで、経済が不況になった。

- (6) 次の史料は、略年表中の(f)の期間中に結ばれた協定の一部(第一条)である。()には諸島名が入るが、その諸島を含む現在の都道府県名を答えなさい。

史料

アメリカ合衆国は、…〔中略〕…()に関し、千九百五十一年九月八日にサン・フランシスコ市で署名された日本国との平和条約第三条の規定に基づくすべての権利及び利益を、この協定の*効力発生の日から日本国のために放棄する。

*「効力発生の日」は、1972年5月15日。

「日本外交主要文書・年表」より

【問題 3】


問1 みさきさんたち3人は、社会科の授業で鳥取県が推進するさまざまな取り組みについて調べ、発表することになった。次の表1は、それぞれが調べたテーマをまとめたものである。あとの発表1～3を読み、各問いに答えなさい。

表1

みさきさん	子育て王国とっとり条例
ななみさん	食のみやこ鳥取県
だいきさん	鳥取県こども未来基金

(1) 次の発表1は、みさきさんが発表した内容である。発表1中の下線部に関連して、表2は日本における1960年から2010年までの家族類型別の世帯割合を示したものである。表2から読み取ることができることとして、最も適切なものを、あとのア～エからひとつ選び、記号で答えなさい。

発表1



わたしは、「子育て王国とっとり条例」について調べました。

近年では、核家族化、少子化、過疎化など、子どもを取り巻く環境が大きく変化しています。

鳥取県は、豊かな自然や住民同士の強いきずなを生かし、子育てを地域全体で支えることを目指しているそうです。

表2 家族類型別の世帯割合（単位：％）


年	親 族 世 帯					非親族世帯	単 独世帯
	核 家 族 世 帯			その他の親族世帯 (三世帯世帯など)			
	夫婦のみ	夫婦と子ども	ひとり親と子ども				
1960	53.0	7.3	38.2	7.5	30.5	0.3	16.1
1970	56.7	9.8	41.2	5.7	22.7	0.3	20.3
1980	60.3	12.5	42.1	5.7	19.7	0.2	19.8
1990	59.5	15.5	37.3	6.7	17.2	0.2	23.1
2000	58.4	18.9	31.9	7.7	13.6	0.4	27.6
2010	56.3	19.8	27.9	8.7	10.2	0.9	32.4

総務省統計局「国勢調査報告」より

- ア 核家族世帯の割合は増えつつけている。
- イ その他の親族世帯（三世帯世帯など）の割合は減りつつけている。
- ウ 単独世帯の割合は減りつつけている。
- エ 核家族世帯の中で、夫婦のみ世帯がしめる割合は減りつつけている。

- (2) 次の発表2は、ななみさんが発表した内容である。発表2中の下線部に関連して、あとの各問いに答えなさい。

発表2



わたしは、「食のみやこ鳥取県」について調べました。

鳥取県は豊かな自然環境に恵まれ、素晴らしい食材が数多くあります。鳥取県が誇る食資源の例として、スイカがありますが、以前、鳥取県産のスイカをアラブ首長国連邦のドバイに輸出したという記事を読みました。販売された1玉12キロの鳥取スイカは、1玉3万円以上の高値がついたそうです。

- ① 貿易する際は、自国の通貨と相手国の通貨を交換する必要がある。通貨と通貨を交換する比率のことを何というか、答えなさい。
- ② 次の文は、貿易について述べたものである。文中の(A)、(B)にあてはまる語の組み合わせとして、最も適切なものを、あとのア～エからひとつ選び、記号で答えなさい。


文

1ドル=90円が1ドル=100円になるときのように、外国通貨に対して円の価値が低くなることを円安という。この状態になると、自動車など輸出品の現地価格が下がるので、日本の輸出産業にとっては(A)になる。また、食料品などの輸入価格は(B)。

- ア (A) - 有利 (B) - 上がる
イ (A) - 有利 (B) - 下がる
ウ (A) - 不利 (B) - 上がる
エ (A) - 不利 (B) - 下がる

- (3) 次の発表3は、だいきさんが発表した内容である。発表3中の下線部に関連して、あとの各問いに答えなさい。

発表3



ぼくは、「鳥取県子ども未来基金」について調べました。

鳥取県はふるさと納税制度による寄付を活用して「鳥取県子ども未来基金」を設け、子どもたちの育ちを応援しています。県立図書館の「ふるさと納税文庫」には、子どもに楽しく本に親しんでもらえるよう、絵本や物語、科学の本などの児童書がそろえられています。

- ① 次の表3は、日本の税について分類したものである。表3中の(Ⅰ)～(Ⅳ)にあてはまる語の組み合わせとして、最も適切なものを、あとのア～エからひとつ選び、記号で答えなさい。

表3

	(Ⅲ)	(Ⅳ)	
		道府県税	市町村税
(Ⅰ)	所得税, 法人税など	県民税, 自動車税など	市町村民税, 固定資産税など
(Ⅱ)	消費税, 酒税など	ゴルフ場利用税など	市町村たばこ税, 入湯税など

- ア (Ⅰ) - 直接税 (Ⅱ) - 間接税 (Ⅲ) - 国税 (Ⅳ) - 地方税
- イ (Ⅰ) - 直接税 (Ⅱ) - 間接税 (Ⅲ) - 地方税 (Ⅳ) - 国税
- ウ (Ⅰ) - 間接税 (Ⅱ) - 直接税 (Ⅲ) - 国税 (Ⅳ) - 地方税
- エ (Ⅰ) - 間接税 (Ⅱ) - 直接税 (Ⅲ) - 地方税 (Ⅳ) - 国税

- ② 次の会話は、公正な税負担について、3人で話し合ったものである。(a), (b)にあてはまる語の組み合わせとして、最も適切なものを、あとのア～エからひとつ選び、記号で答えなさい。

会話

だいきさん 税金は国民の間でできるだけ公正に負担されるべきだよ。所得は人によってそれぞれに違うのだから、その人が支払える能力に応じて負担するのが公正な税だと思う。つまり、所得税は所得が(a)人ほど高い税率をかけたほうがいいんじゃないかな。

みさきさん でも、利益を受ける人が同じだけ負担すべきという考え方も公正な税と言えるんじゃないかな。たとえば、消費税は同じ商品を買えば所得に関係なく同じ税率の税金を納めているよね。

だいきさん それだと低所得者ほど、所得に定める税負担の割合が(b)なるという問題もあると思う。税負担については、国民の多くが納得できるような公正なものでなければならぬけど、なかなか簡単にはいかないものなんだね。

ななみさん だから複数の税金をうまく組み合わせながら、全体としてできるだけ公正になるように工夫しているんだね。

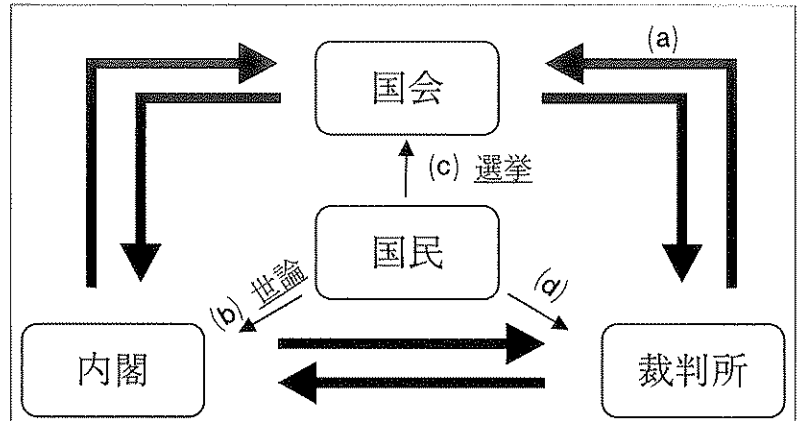
- ア (a) - 少ない (b) - 高く
イ (a) - 少ない (b) - 低く
ウ (a) - 多い (b) - 高く
エ (a) - 多い (b) - 低く

問2 次の図1は、日本の三権分立について表したものである。あとの各問いに答えなさい。

- (1) 図1中の矢印(a)は、裁判所が国会に対して持つ権限を示している。矢印(a)にあてはまるものを、次のア～エからひとつ選び、記号で答えなさい。

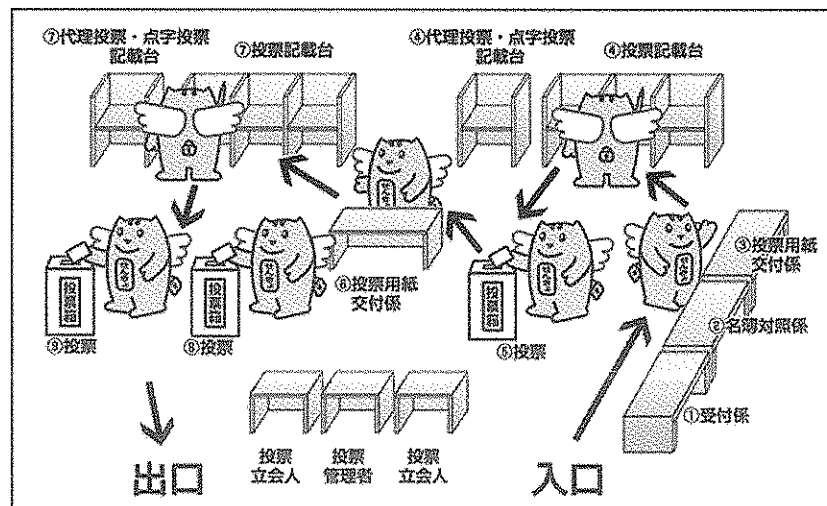
- ア 衆議院の解散の決定
 イ 法律の違憲審査
 ウ 弾劾裁判所の設置
 エ 国会召集の決定

図1 日本の三権分立



- (2) 図1中の下線部(b)に関連して、マスメディアやインターネットの情報は、世論に大きな影響を与える。そのため、私たちは「情報を無批判に受け入れるのではなく、何がより客観的であり真実であるかを判断し活用できる能力」を養う必要があるが、この能力を何というか、カタカナで答えなさい。
- (3) 図1中の下線部(c)に関連して、次の図2は、衆議院議員選挙の投票所における投票手順を表したものである。図2中には投票箱が3つ設置されているが、それはなぜか、理由を答えなさい。なお、あとの条件にしたがって、35字以内で記入すること。

図2 投票所における投票手順



「明るい選挙推進協会ホームページ」より作成

条件

- ・ 衆議院議員選挙で採られている選挙制度の名称を使うこと。
- ・ 図1中の(d)にあてはまる語句を使うこと。
- ・ 句読点も字数に数えること。

問3 しょうたさんは、国際社会における国家間の協力について授業で学習し、その内容についてノートにまとめた。次の文1～3は、しょうたさんがまとめたノートの一部である。文1～3を読み、あとの各問いに答えなさい。

文1 国際連合（国連）について

国連は、世界の平和と安全の維持、諸国間の友好関係の発展、基本的人権の尊重の実現などを目的としている。安全保障理事会は、世界の平和と安全の維持に責任を負う機関として、国連の中でも強い権限を持っているが、(a)常任理事国のうち1か国でも反対すると重要な問題について決議できないことになっている。近年、国連をより現在の国際社会の実情に合った組織にするために、安全保障理事会の改革について議論されている。

文2 ヨーロッパ連合（EU）について

EUは、経済統合からはじまり、現在では政治や外交などの分野についても協力を進めている。2004年以降、(A)ヨーロッパ諸国を中心に加盟国が増えたが、その結果、加盟国の間に経済格差が生まれている。また、EU内では経済が一体化したため、2009年に発生した(B)の債務危機は、EU全体に打撃を与えた。

文3 安全保障のあり方について

これまでの安全保障は、国家が自国の国土と国民を守るという「国家の安全保障」の考え方が中心だった。しかし、グローバル化が進み、国家の安全保障だけでは人々の安全と平和を確保できない場合もみられるようになってきた。そこで、(b)「一人一人の人間に着目し、その生命や人権を大切にする」という考え方が生まれ、日本はこの考え方を外交方針のひとつにしている。

(1) 文1中の下線部(a)は、安全保障理事会の常任理事国のみが持つ権利である。この権利を何というか、答えなさい。

(2) 文2中の(A)、(B)にあてはまる語の組み合わせとして、最も適切なものを、次のア～エからひとつ選び、記号で答えなさい。

- | | | |
|---|---------|------------|
| ア | (A) - 西 | (B) - イギリス |
| イ | (A) - 西 | (B) - ギリシャ |
| ウ | (A) - 東 | (B) - イギリス |
| エ | (A) - 東 | (B) - ギリシャ |

(3) 文3中の下線部(b)の考え方を何というか、答えなさい。

問題は、以上です。