

平成 30 年 度

和歌山県高等学校入学者選抜学力検査問題

社 会

(10時30分～11時20分)

(注 意)

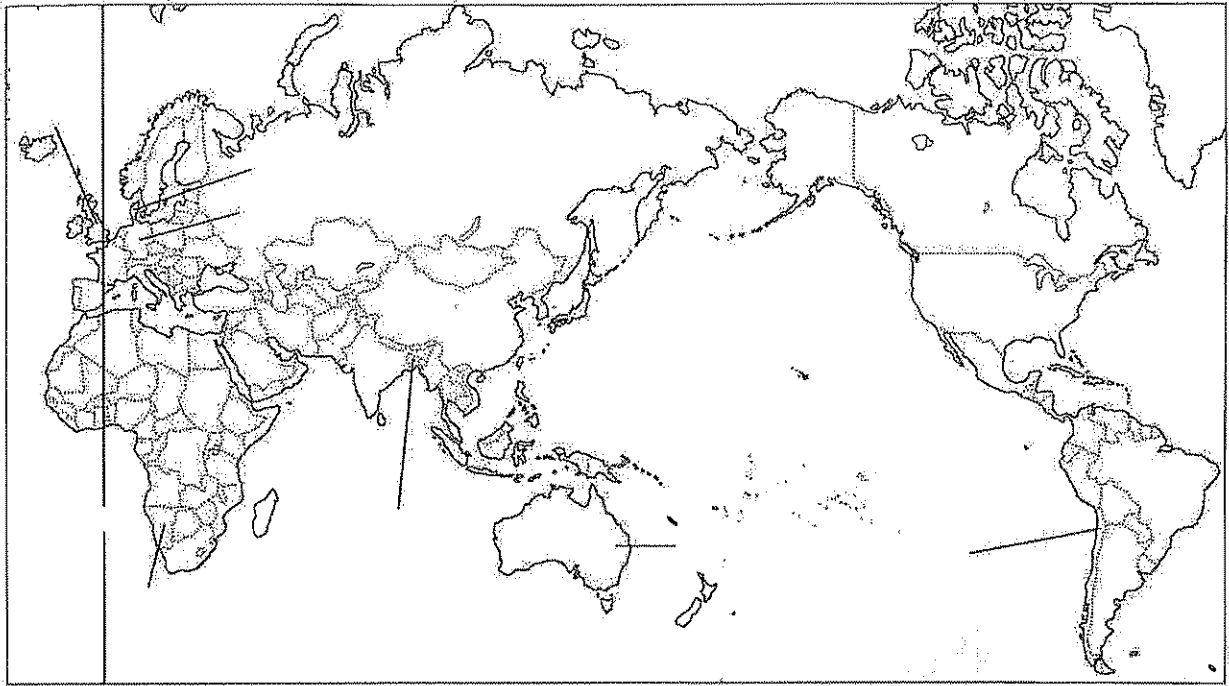
- 1 「始め」の合図があるまで、問題を見てはいけません。
- 2 問題冊子と別に解答用紙が1枚あります。答えは、すべて解答用紙に記入下さい。
- 3 問題冊子と解答用紙の両方の決められた欄に、受検番号を記入下さい。
- 4 印刷が悪くて分からないときや筆記用具を落としたときなどは、黙って手を挙げ下さい。
- 5 時間内に解答が終わっても、その場に着席して下さい。
- 6 「やめ」の合図があったら、すぐに解答するのをやめ、解答用紙を裏向けにして机の上に置き下さい。

受 検 番 号

172

7 次の文は、由美さんが夏休みの自由研究で、「女性が活躍する国」について調べ、レポートにまとめたものの一部です。これを読み、下の略地図を見て、〔問1〕～〔問6〕に答えなさい。

女性の君主である女王がいる国は、① イギリスとデンマークです。特にイギリスの女王エリザベス2世は、イギリスだけでなく、② オーストラリアなどを含む16か国の主権国家の君主であり、現在就任している世界の君主の中で最も長い在位期間となっています。また、たびたび、③ 日本のニュースでも名前が取り上げられているイギリスのメイ首相や、④ ドイツのメルケル首相だけでなく、⑤ バングラデシュやナミビアなどでも女性が首相を務めており、チリのように女性が大統領に就任している国もあります。このように、世界には女性が君主や国家のリーダーとなっている国があります。



〔問1〕 文中の下線①に関し、略地図中のXは、イギリスを通る経度0度の経線を示しています。この経線を何といいますか、書きなさい。

〔問2〕 文中の下線②は、世界を6つの州に分けたとき、何という州に属していますか、州名を書きなさい。

〔問3〕 文中の下線③では、「男性は外で働き、女性は家庭を守る」という、固定した性別役割分担の考え方が残っており、それが女性の社会進出をおくらせる一因となっています。雇用の分野における女性差別を禁止するため、1985年に制定された法律を何といいますか、書きなさい。

〔問4〕 文中の下線④は、ヨーロッパ連合（EU）の中でも多くの難民を受け入れている国です。難民の保護を目的として設立され、かつては日本の緒方貞子おがたさだこさんが活躍した国連難民高等弁務官事務所の略称を、次のア～エの中から1つ選び、その記号を書きなさい。

ア UNCTAD イ UNESCO ウ UNHCR エ UNICEF

〔問5〕 文中の下線⑤に関し、表1は、バングラデシュの日系企業数を、表2は、バングラデシュと日本について、それぞれの人口、経済成長率、製造業における月額賃金を示したものです。表1のように、近年、バングラデシュへ進出する日系企業が増加した理由として考えられることを、表2を参考にして、次の語を用いて、簡潔に説明しなさい。

労働力

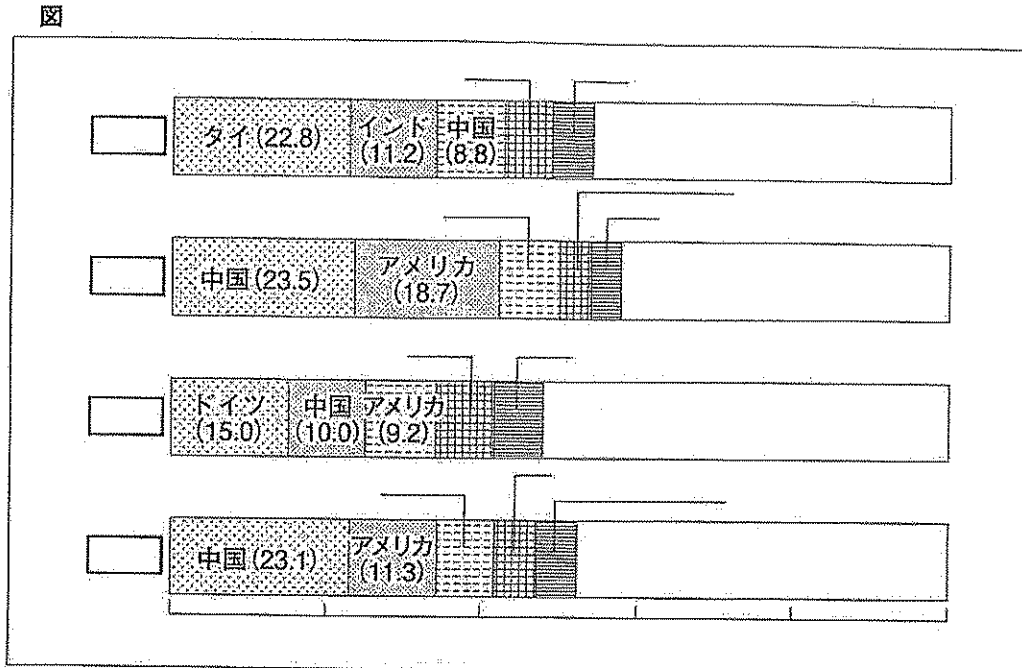
市場

	日系企業数
2012年	155社
2016年	270社

表2

	バングラデシュ	日本
人口	1億6467万人	1億2748万人
経済成長率	6.9%	1.2%
月額賃金	111ドル	2339ドル

〔問6〕 図は、文中のイギリス、オーストラリア、バングラデシュ、チリについて、それぞれの輸入総額に占める国別の輸入額の割合を示したものです。図中の **A** ~ **D** には、イギリス、オーストラリア、バングラデシュ、チリのいずれかの国名が入ります。**A** ~ **D** にあてはまる国名を、それぞれ書きなさい。



(「データブック オブ・ザ・ワールド2017年版」から作成)

次の文は、健二さんが社会科の授業で、「日本の農業の現状」について調べ、まとめたものの一部です。これを読み、〔問1〕～〔問5〕に答えなさい。

稲作は、全国的に行われていますが、なかでも盛んなのは北海道・東北・北陸地方の平野部です。米の収穫量が全国1位である新潟県では、**①**越後平野を中心に稲作が行われています。果樹栽培は、水はけの良い**②**扇状地などで行われています。また、南北に細長い**③**日本列島の特徴と、果樹の特性に応じ、寒冷な東北地方や中央高地ではりんごなど、温暖な東海地方から九州地方にかけての地域ではみかんなどが広く栽培されています。

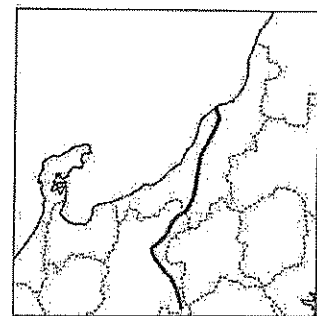
しかし、海外からの安い農産物が流入したため、1990年代後半から日本の**④**食料自給率は40%前後で推移しています。食料自給率を高めるため、日本各地で様々な取り組みが進められています。その1つに、地元で生産された農産物を地元で消費する**⑤**地産地消の推進があげられます。

〔問1〕 文中の下線**①**に関し、次の(1)、(2)に答えなさい。

(1) 図1中のXは、越後平野を流れ、日本海にそそいでいる河川を示しています。この河川を何といいますか、書きなさい。


(2) この地域における1月の気候の特色について、適切に述べているものを、次のア～エの中から1つ選び、その記号を書きなさい。

- ア 北西からの季節風の影響で乾燥する。
- イ 北西からの季節風の影響で降水量が多くなる。
- ウ 南東からの季節風の影響で乾燥する。
- エ 南東からの季節風の影響で降水量が多くなる。



〔問2〕 文中の下線⑥に関し、図2は、河川の上流から下流にみられる地形を模式的に示したものです。一般的に、扇状地が形成される場所として適切なものを、図2中のア～エの中から1つ選び、その記号を書きなさい。

図2



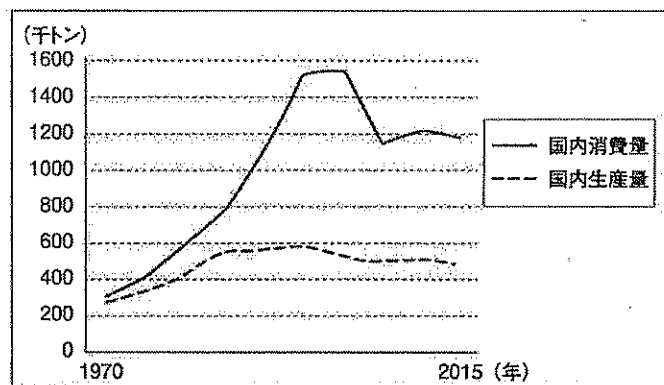
〔問3〕 文中の下線③に関し、日本には多くの火山があります。火山は、ときには噴火による災害をひき起こしますが、私たちにめぐみをもたらすこともあります。私たちの生活に火山がもたらすめぐみを1つ書きなさい。

〔問4〕 文中の下線④に関し、表は、米、りんご、牛肉、鶏卵、それぞれの1970年と2015年の食料自給率を示したものです。図3は、米、りんご、牛肉、鶏卵のいずれかの品目の国内生産量と国内消費量について、1970年からの推移を示したものです。図3に示した品目として適切なものを、4つの品目の中から1つ選び、その品目名を書きなさい。

	1970年	2015年
米	106	98
りんご	102	59
牛肉	90	40
鶏卵	97	96

(農林水産省ホームページから作成)

図3



(農林水産省ホームページから作成)

〔問5〕 文中の下線⑤は、二酸化炭素の排出削減にもつなぐと考えられています。その理由を、簡潔に書きなさい。

3 次のA～Fの資料は、亜紀さんたちが中学校の歴史部の活動で、訪問したい場所を選ぶために集めたものの一部です。これを読み、〔問1〕～〔問8〕に答えなさい。


A 和歌の浦
 『若の浦に潮満ちくれば瀉を無み 葦辺を指して鶴鳴き渡る』(作者 山部赤人)
 この歌は、奈良時代から編纂が始まった歌集である **X** に収められている。
 2017年、「絶景の宝庫 和歌の浦」として日本遺産に認定された。

B 東大寺
 聖武天皇の発願で建てられ、751年に大仏殿が完成した。2度の戦乱にあい、主要な建物を焼失したが、そのつど再建された。また、南大門の金剛力士像は鎌倉文化を代表する作品となっている。


C 延暦寺
 788年、京都市と滋賀県大津市にまたがる比叡山に **最澄** が開き、朝廷から当時の年号である「延暦」を寺の名称として贈られた。
 鎌倉時代には日蓮や一遍もここで修行した。

D 大阪城
 1583年に **豊臣秀吉** が築城をはじめた。この城を中心に大阪は、川や海からつながる交通の拠点として発展した。しかし、1615年に城は焼かれ、豊臣家も滅亡した。

E 姫路城
 姫山の地に砦が築かれ、安土桃山時代には3層の天守閣が設置された。いま見られる全容が整ったのは、戦乱の世が落ち着いた1617年のことである。



F 二条城
 徳川家康が西日本の諸大名に築城を命じ、その2年後に完成した。家康と豊臣秀頼の会見場所となったほか、15代将軍の徳川慶喜が、大政奉還の意思を発表した場所でもある。



〔問1〕 文中の **X** にあてはまる歌集には、天皇、貴族から庶民まで、広い範囲の人々の和歌が集められています。この歌集を次のア～エの中から1つ選び、その記号を書きなさい。

- ア 古今和歌集 イ 日本書紀 ウ 風土記 エ 万葉集

〔問2〕 文中の下線①が建てられた理由を、次の語を用いて、簡潔に書きなさい。

仏教 国家

〔問3〕 文中の下線②が定めた^{こんでんえいねん しりぞくほう} 墾田永年私財法について適切に述べているものを、次のア～エの中から1つ選び、その記号を書きなさい。

- ア 借金を帳消しにし、生活が苦しくなった御家人を救おうとした。
 イ 全国の田畑の面積や土地のよしあしを調べ、土地を石高という統一的な基準であらわした。
 ウ 地主が持つ小作地を強制的に買い上げて小作人に安く売り渡し、多くの自作農を生み出した。
 エ 新しく開いた土地の所有を認め、口分田の不足を解消し、租を負担させた。

〔問4〕 文中の下線③が日本に伝えた仏教の宗派を何といいますか、書きなさい。

〔問5〕 文中の下線④に関し、承久の乱後、幕府が朝廷を監視し、西日本の御家人を統制するため、京都に設置した機関を何といいますか、書きなさい。

〔問6〕 文中の下線⑤が行ったことについて適切に述べているものを、次のア～エの中から1つ選び、その記号を書きなさい。

- ア 執権の地位につき、武士の慣習をまとめた御成敗式目を定めた。
 イ 長崎がキリスト教の領地になっていたことを知って、宣教師を追放した。
 ウ 将軍として京都に御所をかまえ、南北朝を統一した。
 エ 足利義昭を京都から追放し、室町幕府を滅ぼした。

〔問7〕 文中の下線⑥に関し、図は、この時代の文化を代表する作品です。大名の権力や商人の経済力を反映した、この文化の特徴を、簡潔に書きなさい。

図 唐獅子図屏風 (狩野永徳 作)



〔問8〕 文中の下線⑦に関し、次の(1)、(2)に答えなさい。

(1) 大政奉還に至るまでの、次のア～エのできごとを年代の古い順に並べるとどのようになりますか、その記号を順に書きなさい。

- ア 神奈川(横浜)など5港を貿易のために開くことを認めた。
 イ 坂本龍馬などの仲立ちで、薩摩藩と長州藩が同盟を結んだ。
 ウ 井伊直弼が、江戸城の桜田門外で暗殺された。
 エ 長州藩が下関で、外国船を砲撃した。

(2) 大政奉還ののち、朝廷は天皇を中心とする新政府の成立を宣言しました。これを何といいますか、書きなさい。

- 4 次の文は、高志さんが「近代・現代の教育」について調べ、まとめたものの一部です。これを読み、[問1]～[問5]に答えなさい。

明治時代、日本政府は、近代化を進めるため、1872年、6歳以上の男女すべてに小学校教育を受けさせることとし、全国に小学校をつくらせました。はじめは入学する児童があまり多くありませんでしたが、しだいに増加しました。

大正時代になると、当時は義務教育でなかった中学校や、高等学校、大学などに進学する生徒が増えたため、それらの学校の数も増やされました。

しかし、第二次世界大戦が始まり、戦況が深刻化する中で、それまで行われていた教育活動は、ほとんど行われなくなっていきました。


戦後の日本では、平和的な国家・社会の形成者を育てることを目的として、1947年、教育の機会均等や男女共学などを定めた「X」や、学校制度について定めた学校教育法が制定されました。

その後、科学技術の進歩や情報化の進展、価値観の多様化など、日本の社会が大きく変化したため、2006年に「X」の改正が行われました。

[問1] 文中の「X」にあてはまる法律の名称を書きなさい。

[問2] 文中の下線①に関し、図は、日清戦争の賠償金を使って建設され、1901年に操業を開始した製鉄所です。表は、鉄鋼について、この製鉄所の生産高、全国の生産高と自給率の推移を示したものです。この製鉄所を何といいますか、書きなさい。また、この製鉄所について、表から読みとれることを、簡潔に書きなさい。

図



表

(五か年平均)

	図の製鉄所の生産高 (万トン)	全国(図の製鉄所を含む)の生産高 (万トン)	自給率 (%)
1900～1904年	1.8	2.8	13.4
1905～1909年	7.5	8.7	22.4
1910～1914年	19.2	22.3	36.8

(「近現代日本経済史要覧」から作成)

[問3] 文中の下線②に関し、政府が1872年に定めた法を何といいますか、書きなさい。

[問4] 文中の下線③に関し、1940年9月、日本は3国間で同盟を結びました。この同盟の相手国をすべて書きなさい。

[問5] 文中の下線④に関し、次のア～エの世界のできごとについて、年代の古い順に並べるとどのようになりますか、その記号を順に書きなさい。

ア 朝鮮を統一しようとした北朝鮮が、韓国に攻め込み、朝鮮戦争が始まった。

イ 東西ドイツが、ベルリンの壁の崩壊をきっかけに、統一を実現させた。

ウ 連合国が、戦争を防ぐために、国際連合を成立させた。

エ ロシアなどの各共和国が独立し、ソ連が解体した。

- 5 次の文は、純子さんが社会科の課題学習で、「地方自治」について調べ、レポートにまとめたものの一部です。これを読み、〔問1〕～〔問5〕に答えなさい。

私は先日、知り合いから珍しい貨幣を見せてもらいました。この貨幣は地方自治法施行60周年を記念してつくられたものだそうです。また、2017年に、地方自治法が施行されて70周年を迎えたことを聞きました。そこで、私は、地方自治について調べることにしました。

地方自治法ができた1947年には、^a日本国憲法をはじめ、様々な^b法が施行され、さらに、最高裁判所がつくられたり、初めて^c参議院議員の^d選挙が行われたりと多くのできごとがありました。今日の私たちの社会の基盤が形成された時期だと感じました。

現在も、憲法の理念に沿った地方自治を実現するために、^e地方公共団体の首長や議員、国会議員などの代表で構成される地方制度調査会で話し合いが行われています。地方自治は、私たちの身近な生活と関わる大切なものなので、私もより良い地方自治のために何ができるのかを考えていこうと思います。



1947年に施行された主な法

2月24日	参議院議員選挙法
5月3日	日本国憲法 地方自治法 内閣法 国会法 裁判所法
9月1日	労働基準法

- 〔問1〕 文中の下線^aに関し、次の(1)、(2)に答えなさい。

- (1) 日本国憲法には3つの基本原理(原則)があります。「国民主権」と「基本的人権の尊重」、そして、あと1つは何ですか、書きなさい。
- (2) 日本国憲法では、刑事裁判においてどのような行為が犯罪にあたり、どのような刑罰が科されるかは、あらかじめ法律によって定める必要があるとしています。このような考え方を何といいますか、書きなさい。

- 〔問2〕 文中の下線^bに関し、次のア～ウの法をより上位の法から順に並べるとどのようになりますか、その記号を順に書きなさい。

ア 命令 イ 憲法 ウ 法律

- 〔問3〕 文中の下線^cに関し、次の説明文は、国会が二院制をとる理由についてまとめたものです。説明文中の()にあてはまる文を書きなさい。

説明文

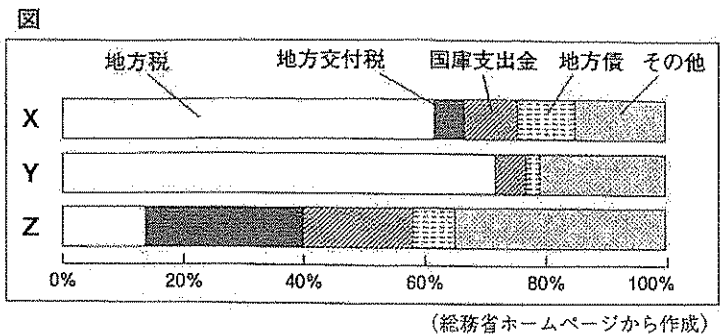
国会は衆議院と参議院からなる二院制をとっています。衆議院だけでなく、参議院が置かれているのは、国民の様々な意見や利益を政治に反映させることと、()ことが期待されるからです。

- 〔問4〕 文中の下線^dに関し、比例代表選挙において、ある選挙区では、表のような投票結果になりました。この選挙区の定数は6議席です。ドント式で議席を配分した場合、表中のA～D党の各政党に配分される議席数を、それぞれ書きなさい。

表

	A党	B党	C党	D党
得票数(票)	96万	66万	54万	36万

〔問5〕 文中の下線㉔に関し、図は、3つの都道府県X～Zの歳入の内訳の割合を、それぞれ示したものです。図から読みとれる地方税と地方交付税（地方交付税交付金）の関係と、地方交付税の役割を簡潔に書きなさい。



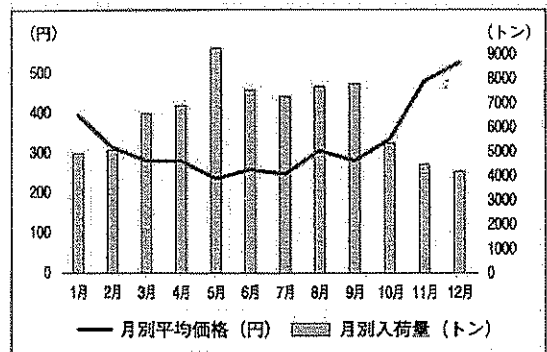
6 一郎さんのクラスでは、公民の授業のまとめとして、班ごとに興味があるテーマについて調べ、発表することになりました。次の表は、各班が発表するテーマを示したものです。これを見て、〔問1〕～〔問5〕に答えなさい。

表

班	テーマ	班	テーマ
A班	㉑ 価格のはたらき	B班	世界の ㉒ 経済格差
C班	㉓ ユニバーサルデザインの普及	D班	㉔ 行政の効率化
E班	㉕ 持続可能な社会の実現		

〔問1〕 表中の下線㉑に関し、図1は、東京都中央卸売市場における、2017年のきゅうりの月別入荷量と1kgあたりの月別平均価格の推移を示したものです。図1中の9月から12月までの期間に価格が上昇した理由として最も適切なものを、次のア～エの中から1つ選び、その記号を書きなさい。

図1



- ア 需要量と供給量がともに増加したから。
- イ 需要量と供給量が一致したから。
- ウ 需要量が供給量を上回ったから。
- エ 需要量が供給量を下回ったから。

〔問2〕 表中の下線㉒に関し、先進国（先進工業国）と発展途上国との間には、南北問題とよばれる経済格差があります。一般的に、先進国より発展途上国の数値が大きくなる項目を、次のア～エの中から1つ選び、その記号を書きなさい。

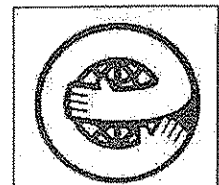
- ア 産業別人口における第1次産業の割合
- イ 国民千人あたりの病床数
- ウ 国民一人あたりのカロリー摂取量
- エ 水道の普及率

〔問3〕 表中の下線㉓に関し、和歌山県立博物館は、「さわって読む図録」や「さわれるレプリカ」を展示、公開することにより、平成26年度バリアフリー・ユニバーサルデザイン推進功労者表彰の内閣総理大臣表彰を受賞しました。この博物館の取り組みのようなバリアフリーやユニバーサルデザインの推進によって、日本は、どのような社会の実現をめざしていますか、簡潔に書きなさい。

〔問4〕 表中の下線㉔に関し、政府は、自由な経済活動をうながし、経済を活性化することを目的として、現在、行政がもっている許可や認可を与える権限を弱める方向で見直しています。このことを何といいますか、書きなさい。

〔問5〕 表中の下線㉕に関し、図2は、エコマークとよばれる環境ラベルです。このマークを商品に表示することは、消費者にとってどのような利点があると考えられますか、次の語を用いて、簡潔に書きなさい。

図2



環境 選択