

平成 30 年 度
公立高等学校入学者選抜
学力検査問題

社 会

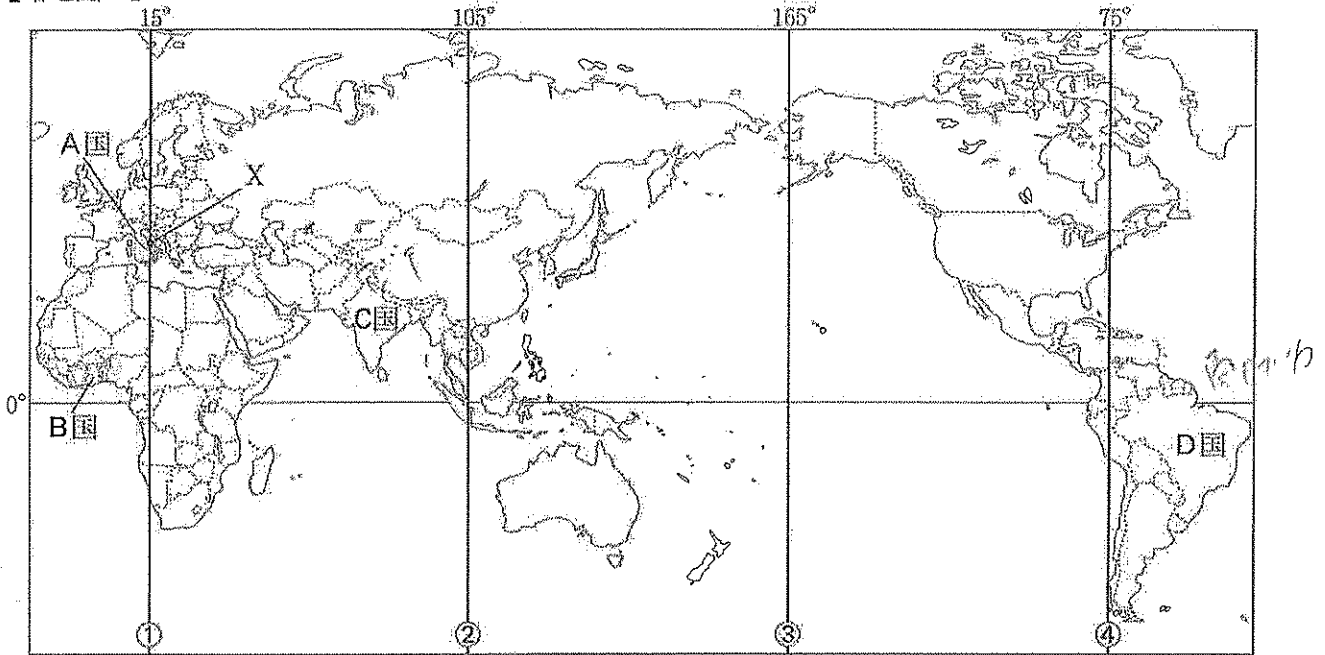
(11:10 ~ 12:00)

注 意

- 1 「開始」の合図があるまで、開いてはいけません。
- 2 問題は、7 ページまであります。
- 3 **1** の問 6 は選択問題です。指示に従って答えなさい。
- 4 「開始」の合図があったら、まず、解答用紙に受検番号を書きなさい。次に、問題のページ数を確認し、不備があればすぐに手を挙げなさい。
- 5 答えは、すべて解答用紙に書きなさい。
- 6 「終了」の合図で、すぐに鉛筆(シャープペンシルを含む)をおき、解答用紙を裏返しにしてください。

1 良男さんは、世界の国々を調べる授業で、略地図Ⅰ中のA国～D国について、地図や資料を使って調べました。あとの問いに答えなさい。

【略地図Ⅰ】



注：略地図Ⅰは緯線と経線が直角に交わる地図である。

問1 略地図Ⅰ中のA国～D国は、世界を分ける六つの州のうち、それぞれいずれかの州に属します。

A国～D国のいずれの国も属さない州の名前を、二つ書きなさい。

問2 略地図Ⅰ中のXは、経線①上にあるA国の都市を示しています。地球儀上で、都市Xから北に直進し最短距離で地球を一周するとき、北極点を通過したあと、南極点に着くまでにたどる経線はどれか、①～④から一つ選び、番号で答えなさい。

問3 資料Ⅰは、略地図Ⅰ中のA国～D国の経済の様子を比較するために、国土面積や国民総所得などについてまとめたものです。ア～エは、A国～D国のいずれかです。A国にあたるものを、ア～エから一つ選び、記号で答えなさい。

【資料Ⅰ】 (2013年)


	国土面積 (千km ²)	国民総所得 (億ドル)	1人あたりの 貿易額 (ドル)	日本への 輸出額 (億円)
ア	8,515	23,426	2,490	10,862
イ	301	21,453	16,313	9,309
ウ	3,287	19,616	622	6,898
エ	239	458	1,214	98

(『データブック オブ・ザ・ワールド 2016年版』などから作成)

問4 良男さんは、略地図Ⅰ中のA国とB国の農業について調べました。

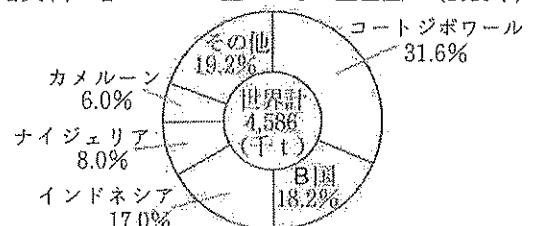
次の問いに答えなさい。

(1) 資料Ⅱは、A国で生産される、ある農産物です。資料Ⅱの農産物の実をしぼってつくった油は、料理に使われます。資料Ⅱの農産物は何か、書きなさい。



(2) 資料Ⅲは、B国で生産される、カカオ豆について、おもな生産国の割合をまとめたものです。B国の国名を、書きなさい。

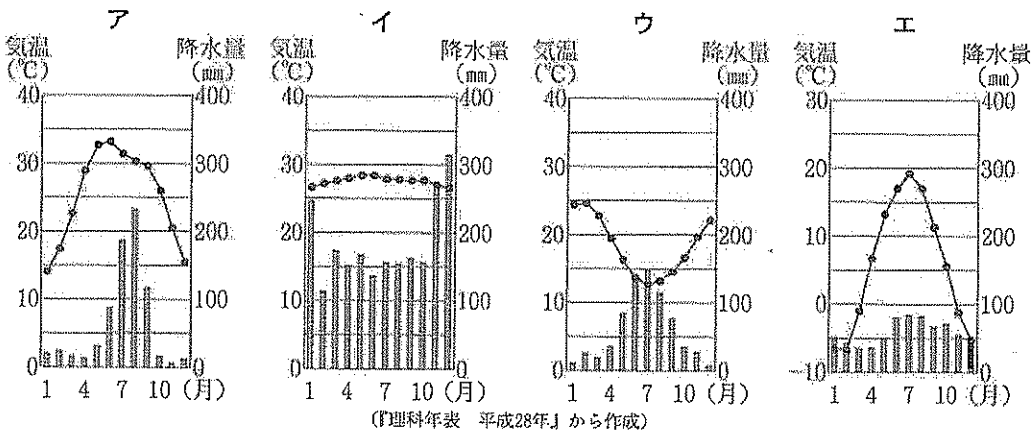
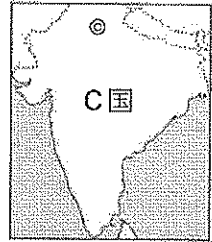
【資料Ⅲ】 カカオ豆のおもな生産国 (2013年)



(『世界国勢図会 2016/17年版』から作成)

問5 略地図Ⅱ中の◎は、C国の首都の位置を示しています。C国の首都の雨温図を表したグラフとして適切なものを、次のア～エから一つ選び、記号で答えなさい。


【略地図Ⅱ】



問6 《選択問題》

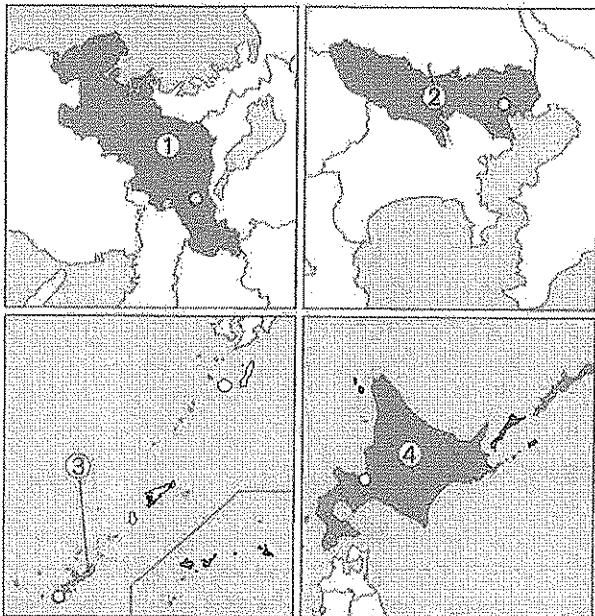
資料Ⅳは、D国を流れるアマゾン川の様子です。アマゾン川流域では、大規模な地域開発が行われています。あなたがアマゾン川流域に住んでいるとしたら、大規模な地域開発に賛成しますか、反対しますか。「A賛成」、「B反対」のどちらか一つを選び、その立場を選んだ理由を書きなさい。なお、選んだ立場の記号を解答欄に書くこと。

【資料Ⅳ】



2 優子さんは、日本を訪れる外国人の観光客数が増えていることを知り、日本を訪れる外国人の観光客数が多い都道府県について調べました。資料は、そのときまとめたものの一部です。略地図Ⅰ中の①～④の都道府県について、あとの問いに答えなさい。

【略地図Ⅰ】



注1: 略地図Ⅰ中の○は、都道府県庁所在地の位置を示している。
注2: 各地図の縮尺は同じではない。

問1 資料Ⅰは、①～④における外国人の観光客数などについてまとめたものです。ア～エは、①～④のいずれかです。①にあたるものを、ア～エから一つ選び、記号で答えなさい。

【資料Ⅰ】


(2015年)

	訪日外国人の観光客数(千人)	産業別人口割合(%)		
		第1次産業	第2次産業	第3次産業
ア	1,015	7.8	16.9	75.4
イ	593	5.0	15.1	80.0
ウ	1,202	2.3	22.7	75.0
エ	6,811	0.5	15.8	83.7

(国土交通省の資料などから作成)

注1: 訪日外国人の観光客数の値は、2013年のものである。
注2: 産業別人口割合は、四捨五入してあるため合計が100にならないものもある。

問2 資料Ⅱは、①の、ある市における整備前と整備後の様子です。資料Ⅱの市が2007年に条例を制定し整備を行い、観光資源として活用しているものは何か、書きなさい。




問3 ②の説明として適切なものを、次のア～エから一つ選び、記号で答えなさい。


- ア 都市機能の分散が進み、すべての省庁の庁舎が幕張新都心やさいたま新都心に移転している。
- イ 都心では、通勤や通学によって夜間人口よりも昼間人口が多くなる。
- ウ 関東ロームにおおわれた台地が広がっており、冬はやませとよばれる冷たい風がふく。
- エ 内陸部には、大工場が立ち並び、工業出荷額が日本最大である工業地帯がある。

問4 資料Ⅲは、③に多くみられる、伝統的な住居の様子です。資料Ⅲの住居のように、屋根のかわらをしっかりと固めたり、石垣で囲ったりしている理由を、③の特徴的な気象に着目して書きなさい。

【資料Ⅲ】




問5 ④について、次の問いに答えなさい。

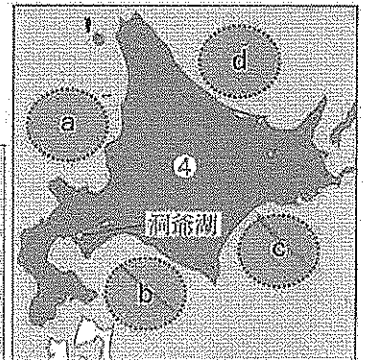
(1) 資料Ⅳは、流水観光の様子です。略地図Ⅱにおいて、で示されたa～dの海域のうち、資料Ⅳの流水観光が行われる海域を一つ選び、記号で答えなさい。

(2) 略地図Ⅱ中の洞爺湖は、火山の噴火によってできたくぼ地に水がたまってできました。火山の爆発や、噴火による陥没などによってできた、大きなくぼ地のことを何というか、書きなさい。

【資料Ⅳ】



【略地図Ⅱ】



(3) 優子さんは、④が公表している統計をもとに、④を訪れた外国人の宿泊者数を、夏季と冬季について調べ、資料Ⅴにまとめました。資料Ⅴにもとづいて、夏季と冬季の宿泊者数の変化を示すグラフを完成させなさい。

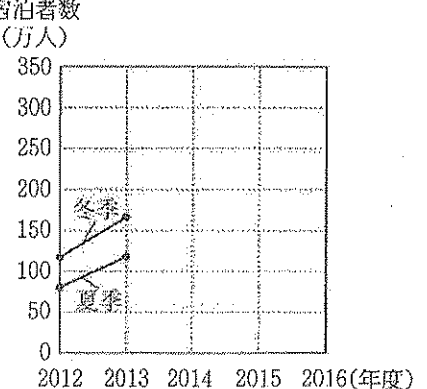
(4) 2012年度から2016年度における、夏季と冬季の外国人の宿泊者数の変化には、どのような違いがみられるか、グラフをふまえて書きなさい。

【資料Ⅴ】 (万人)





年度	夏季	冬季
2012	80.5	117.2
2013	118.0	166.5
2014	136.3	226.7
2015	184.2	285.3
2016	185.8	300.9

注1：夏季は6月～9月、冬季は12月～3月の合計の値を表している。
注2：外国人1泊につき一人と換算している。

外国人の宿泊者数 (万人) 【グラフ】

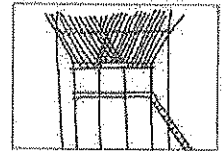


3 太郎さんは、各時代の特色を学ぶ授業で、原始から近世までの人々の暮らしについて調べました。次の表は、そのとき調べたことをまとめたものの一部です。表を見て、あとの問いに答えなさい。

【表】	A	B	C	D
時代	弥生時代	奈良時代	鎌倉時代	江戸時代
ま と め				
	この青銅器は、東京国立博物館所蔵の銅鐸である。表面に模様が描かれ、当時の農耕社会や生活環境を知ることができる。	この資料は、 <input type="text" value="X"/> におさめられていた下総国葛飾郡の戸籍の一部である。戸主とその家族の名前、年齢などが記されている。	この絵は、 <input type="text" value="Y"/> 上人絵伝の一部である。毎月決められた日に開かれる定期市で、物の売り買いをしている様子が描かれている。	この資料は、宮崎安貞があらわした『農業全書』の一部である。著者の見聞と体験にもとづく農業技術が記されている。

問1 Aについて、右の資料は、Aの銅鐸の表面に描かれた模様を写し取ったもの
の一部です。模様には、湿気やねずみを防ぎ、米をたくわえるための建物が描
かれています。この建物を何というか、書きなさい。

【資料】



問2 Bについて、次の問いに答えなさい。

- (1) にあてはまる、宝物がおさめられていた、東大寺の建物を何というか、書きなさい。
- (2) 朝廷は、743年に墾田永年私財法を定め、人々に開墾をすすめました。朝廷が人々に開墾をすすめた理由を書きなさい。

問3 Cについて、次の問いに答えなさい。

- (1) には、おどり念仏を行って、念仏信仰を人々に広めた人物名が入ります。 にあてはまる人物名を書きなさい。
- (2) この時代のできごととして適切なものを、次のア～エから一つ選び、記号で答えなさい。
 - ア 紀貫之らにより、『古今和歌集』がまとめられた。
 - イ 千利休により、わび茶の作法が完成された。
 - ウ 鴨長明により、『方丈記』が書かれた。
 - エ 観阿弥と世阿弥により、能が大成された。

問4 Dについて、次の問いに答えなさい。

- (1) 宮崎安貞が生まれた年に、徳川家光が3代将軍になりました。徳川家光が行ったこととして適切なものを、次のア～エから一つ選び、記号で答えなさい。
 - ア 裁判や刑の基準を定めた公事方御定書を制定した。
 - イ 安政の大獄で、幕府に反対した大名や武士、公家を処罰した。
 - ウ 天明のききんがおり、江戸などに出かせぎに来ていた者を村に帰した。
 - エ 大名が1年ごとに江戸と領地を行き来する、参勤交代の制度を整えた。
- (2) この時代の中ごろから、農村に経済上の変化がおり、紅花や綿、菜種などが商品作物として農村で栽培されるようになりました。農村における経済上の変化とはどのようなことか、書きなさい。

4 次の略年表は、近現代における、マスメディアの発達を中心としたわが国や山形県の動きをまとめたものです。略年表を見て、あとの問いに答えなさい。

【略年表】

年	できごと
1870	日本で最初の日刊新聞が創刊される
1872	X があらわした『学問のすゝめ』が出版される
1876	三つの県が合併し、現在の山形県になる ……①
1916	吉野作造が雑誌に論文を発表する ……②
1925	日本でラジオ放送が開始される ……③
1936	山形県で最初のラジオ放送局ができる
1945	第二次世界大戦が終わる
1953	A 日本でテレビ放送が開始される
1959	山形県で最初のテレビ放送局ができる
2001	B 日本のインターネット利用人口が5,000万人を超える ……④

問1 略年表中の X にあてはまる人物名を書きなさい。

問2 略年表中の①について、資料Ⅰは、1876年9月に山形県で発行された新聞の一部です。資料Ⅱは、資料Ⅰの記事の一部であり、①のできごとを報じています。①に関連して、明治政府が、1871年に廃藩置県を行った目的は何か、

書きなさい。

問3 略年表中の②について、吉野作造は、大日本帝国憲法の枠内で、民意にもとづいた政治を進めることが可能であると主張しました。このような、吉野作造が提唱した思想は何とよばれるか、書きなさい。

問4 略年表中の③に関連して、資料Ⅲは、アメリカのルーズベルト大統領が、ラジオ放送を通して、ニューディール政策を説明している様子です。ニューディール政策において、政府が雇用を増やすために行ったのはどのようなことか、書きなさい。

問5 略年表中のAの時期のできごととして適切なものを、次のア～エから一つ選び、記号で答えなさい。


- ア 財閥が解体される
- イ 第一回帝国議会が開かれる
- ウ 全国水平社が設立される
- エ 大政翼賛会が結成される

問6 略年表中の③に関連して、資料Ⅳは、ラジオの前に集まる家族の様子です。また、略年表中の④に関連して、資料Ⅴは、インターネットを利用している様子です。ラジオとインターネットでは、情報の送り手と受け手の関係にどのような違いがあるか、書きなさい。

問7 次のア～エは、略年表中のBの時期のできごとです。ア～エを、おこった年の古い順に並べかえ、記号で答えなさい。

- ア 東海道新幹線が開通する 1964
- イ 東西ドイツが統一される
- ウ 石油危機がおこる
- エ 京都議定書が採択される


【資料Ⅰ】




【資料Ⅱ】

鶴岡置賜両県被廢其県へ
被併條々土地人民兩県ヨ
リ可受取此旨相達候事
明治九年八月二十一日
右大臣 岩倉眞視


【資料Ⅲ】



【資料Ⅳ】



【資料Ⅴ】



5 拓さんは、私たちに保障されている人権について調べ、カードA、Bにまとめました。次の問いに答えなさい。

問1 カードAの下線部①について、憲法が定める自由権のうち、経済活動の自由として保障されているものを、次のア～オから二つ選び、記号で答えなさい。

- ア 思想・良心の自由
- イ 集会・結社・表現の自由
- ウ 職業選択の自由
- エ 居住・移転の自由
- オ 学問の自由

カードA

日本国憲法で保障されている人権
憲法では、個人の尊重の原理にもとづいて、平等権、 <u>①自由権</u> 、社会権、 <u>②参政権</u> などの権利が保障されている。

カードB

「新しい人権」
産業の発達や情報化の進展などにともない、次のような「新しい人権」が主張されるようになった。
○ <input checked="" type="checkbox"/> X
○ 知る権利
○ 環境権

問2 カードAの下線部②について、拓さんは、資料Iにまとめました。次の問いに答えなさい。

- (1) 資料Iの下線部①について、選挙は四つの原則のもとで行われています。四つの原則のうち、どの政党や候補者に投票したのかを他人に知られないようにする選挙を何というか、書きなさい。
- (2) 資料Iの下線部②について、国民には参政権の一つとして国民審査の権利が保障されています。資料IIは、その投票用紙の見本の一部です。国民が審査するのはどのようなことか、資料IIをふまえて、書きなさい。

【資料I】

国の政治に参加する権利
○ <u>①国会議員を選挙する権利</u>
○ 国会議員に立候補する権利
○ <u>②国民審査権</u>
③地方の政治に参加する権利
○ 地方公共団体の長を選挙する権利
○ 地方公共団体の議会の議員を選挙する権利

- (3) 資料Iの下線部③に関連して、拓さんは、地域で意見の分かれる課題をめぐり、地方公共団体の中には、条例を制定し住民投票を行うところがあることを知りました。住民が投票によって行うことは何か、書きなさい。


【資料II】

						× を 書 く 欄
		見				
○	○	本	○	○	○	裁 判 官 の 名
○	○	○	○	○	○	
○	○	○	○	○	○	
○	○	○	○	○	○	

問3 カードBについて、次の問いに答えなさい。

- (1) X にあてはまる、個人の私的な生活や情報を他人の干渉から守る権利は何か、書きなさい。
- (2) 下線部について、資料IIIは、環境権に含まれるある権利に配慮して、側面を階段状にした建物の様子です。ある権利とは何か、書きなさい。

【資料III】




6 夏子さんは、授業で学習したマララ・ユスフザイさんに興味を持ち、マララさんが国際連合（国連）の本部で行った演説などについて調べ、ポスターやメモにまとめました。次の問いに答えなさい。

【ポスター】

問1 ポスターについて、次の問いに答えなさい。

- (1) 下線部①がおかれている都市名を、書きなさい。
- (2) 下線部②に関連して、国連は、世界平和の実現を目指しています。国連において、5か国の常任理事国と10か国の非常任理事国から構成される主要機関は何か、書きなさい。



演説するマララさん

〈マララさんについて〉

- 2013年①国連本部で演説を行う
- 2014年 ノーベル平和賞を受賞する
- 2017年②国連平和大使に任命される

〈マララさんが行った演説の一部〉

すべての子どもたちに教育を受ける権利を保障してください。1人の子ども、1人の教師、1冊の本、1本のペンでも世界は変えられます。③教育こそがただ一つの解決策です。

- (3) 下線部③に関連して、夏子さんは、教育の分野における国連の取り組みについて調べ、メモⅠにまとめました。メモⅠの下線部について、ユネスコの具体的な活動の内容として最も適切なものを、次のア～エから一つ選び、記号で答えなさい。

- ア 子どもたちに、ワクチンを接種したり、学校で使う教材を配ったりしている。
- イ 労働・生活条件を改善するための国際的な政策やプログラムを定めている。
- ウ 「すべての人に健康を」を目的とし、医療や衛生などの活動を行っている。
- エ 貴重な自然や文化財を世界遺産として登録し、後世に残す取り組みをしている。

【メモⅠ】

- 国連では、多くの機関が、さまざまな教育計画の資金援助や開発を行っている。
- ユネスコでは、すべての子どもにも初等教育を普及することを目指している。

問2 夏子さんは、ユネスコが、経済社会理事会の専門機関であることを知り、経済社会理事会について調べ、メモⅡにまとめました。メモⅡについて、次の問いに答えなさい。

【メモⅡ】

- ① 貿易や工業化、経済開発などの経済問題や、人口や人権、食料などの
- ② 社会問題について議論する。

(1) 下線部①に関連して、発展途上国でつくられた農産物や製品を適正な価格で取り引きし、それを買うことで、生産者の生活を支えようというしくみを何というか、書きなさい。

(2) 下線部②に関連して、資料は、負傷した人を治療する、ハイチでの「国境なき医師団」の医師の様子です。このような、国際社会を中心としたさまざまな課題に取り組む、非政府組織のことを何というか、その略称を、アルファベット3文字で書きなさい。

【資料】



(3) 下線部②に関連して、国連では、ワーク・ライフ・バランスの実現を目指しています。ワーク・ライフ・バランスとはどのようなことか、説明しなさい。