

平成30年度山口県公立高等学校
入学者選抜学力検査問題

社 会

(第4時限 13:00~13:50 50分間)

注 意


- 1 指示があるまで、開いてはいけません。
- 2 答えは、すべて解答用紙に記入しなさい。
- 3 解答用紙は、問題用紙の中に、はさんであります。
- 4 問題用紙は、表紙を除いて11ページで、問題は から までです。

1 次の資料Ⅰ～Ⅲについて、下の(1)～(3)に答えなさい。


資料Ⅰ



資料Ⅱ



資料Ⅲ



(1) 資料Ⅰは、くさび形文字である。この文字が用いられた、紀元前3500年頃にチグリス・ユーフラテス川流域に誕生した文明を何というか。次の1～4から一つ選び、記号で答えなさい。

- 1 エジプト文明 2 メソポタミア文明
3 インダス文明 4 中国文明

(2) 資料Ⅱは、現存する世界最古の木造建築といわれ、飛鳥文化を代表する寺院である。この寺院を何というか。次の1～4から一つ選び、記号で答えなさい。

- 1 法隆寺 2 東大寺 3 延暦寺 4 中尊寺

(3) 資料Ⅲは、日本で毎年8月6日に行われる平和記念式典のようすである。この式典が行われる都市名を答えなさい。

2 次の(1)～(3)に答えなさい。

(1) 訪問販売などによって、消費者が契約をした場合、一定期間であれば、右の資料Ⅰに示すような通知書を、契約を行った業者に送付することで、契約を解除することができる制度がある。このような制度を何というか。答えなさい。

(2) 国民生活の安定のために、国や地方公共団体が決めたり認可したりする価格の例として、最も適切なものを、次の1～4から選び、記号で答えなさい。

- 1 自動車価格
2 ホテル宿泊料金
3 水道料金
4 生鮮食料品価格

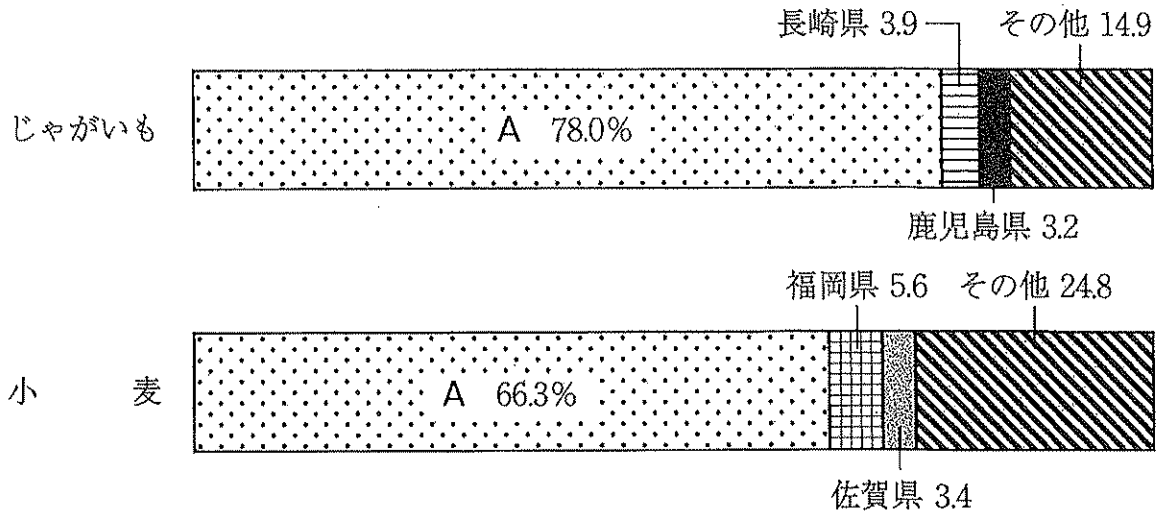
(3) 20歳以上の国民が裁判官といっしょに刑事裁判に参加し、被告人の有罪・無罪や刑罰の内容を決める、2009年に始まった制度を何というか。答えなさい。

資料Ⅰ

平成〇〇年〇月〇日 株式会社〇〇〇〇 〇〇営業所 〇〇〇〇市〇〇町〇〇番〇号 (氏名) 〇〇〇〇	通知書 私は、貴社と次の契約をしましたが、解除します。 契約年月日 平成〇〇年〇月〇日 商品名 〇〇〇〇 契約金額 〇〇〇〇円 支払った金額 〇〇〇〇円 商品を引き取ってください。
--	--

3 次の(1)~(3)に答えなさい。

(1) 次のグラフは、「ジャガイモ」「小麦」の都道府県別収穫量の割合を示している。グラフ中のAにあてはまる都道府県名を答えなさい。



(注) データは2016年のものである。

都道府県別収穫量の割合は、小数第二位を四捨五入してあるため、合計が100.0%にならない場合がある。
(データでみる県勢2018年版により作成)

(2) ユーラシア大陸の西岸に位置しているヨーロッパの国々の中には、日本より高緯度に位置しているが、冬でも比較的温暖な地域が多くある。その理由として、暖流である北大西洋海流とその上をふく風の影響を受けていることがあげられる。この風を何というか。答えなさい。

(3) 次の資料Iは、世界最大級の一枚岩で、世界遺産に登録されている。この岩は、周辺に住む先住民の聖地といわれている。この世界遺産がある国と先住民の組み合わせとして正しいものを、下の1~4から一つ選び、記号で答えなさい。

資料I



- 1 カナダ —— イヌイット
- 2 カナダ —— アボリジニー
- 3 オーストラリア —— イヌイット
- 4 オーストラリア —— アボリジニー

- 4 Mさんは、日本の外交・貿易に関する歴史について調べ学習を行い、次の資料にまとめた。これについて、あとの(1)～(7)に答えなさい。

古代・中世

中国を中心に東アジア諸国と交流や貿易をおこなった。

- 7～9世紀頃にわたり、中国の進んだ政治制度や文化を取り入れるために使者（①遣隋使・遣唐使）を派遣した。
- 13世紀後半、②元のフビライは二度にわたり日本を攻撃した。
- 15世紀に入り、足利義満が朝貢形式による③日明貿易をはじめた。

近世

大航海時代のはじまりにより、ポルトガルやスペインをはじめとしたヨーロッパ諸国がアジアに貿易の拠点をつくり、日本にも来航するようになった。

- 16世紀半ばから、ポルトガル人やスペイン人との④南蛮貿易がはじまった。
- 江戸幕府は貿易を統制し、日本人の出入国を禁止した。⑤その後は、四つの窓口（長崎、対馬藩、薩摩藩、松前藩）において、外交や貿易がおこなわれた。

近代

明治政府は、欧米諸国に劣らない強い国をつくるために富国強兵の政策を進めた。そのために、⑥欧米の進んだ技術を取り入れ、近代的な産業に育てあげようとした。

- 19世紀末に軽工業が発達し、日本は産業革命の時代をむかえた。これにより、貿易では、日露戦争後、製糸業において世界最大の輸出国となった。
- 20世紀に入ると、軽工業に加えて造船や鉄鋼を中心とした重化学工業が発展した。

現代

高度経済成長期には、第二次世界大戦後の自由貿易体制の中で、海外との貿易も拡大し、経済大国としての地位をきずいた。

- ⑦アメリカ合衆国中心の西側陣営をはじめ、ソ連中心の東側陣営やアジア諸国とも外交関係を結んだ。
- 冷戦後、日本は経済援助とともに、世界平和への国際貢献も求められるようになった。

- (1) 下線部①について、次のA、Bにあてはまる人物の組み合わせとして正しいものを、下の1～4から一つ選び、記号で答えなさい。


- A 607年に遣隋使として派遣された人物
B 894年に遣唐使の派遣の停止を提案した人物

- 1 A 蘇我馬子 B 紀貫之 2 A 蘇我馬子 B 菅原道真
3 A 小野妹子 B 紀貫之 4 A 小野妹子 B 菅原道真

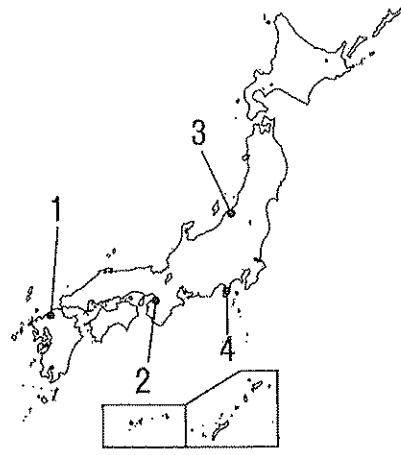
- (2) 下線部②について、元が日本を攻撃したときの鎌倉幕府の実権は、北条時宗がにぎっていた。この人物が就いていた、将軍を補佐する鎌倉幕府の役職は何か。答えなさい。

- (3) 下線部③について、この貿易では、右の資料Iのような合あはい札は（割り札）が用いられていた。このような札が用いられた理由を、簡潔に述べなさい。

資料I



- (4) 下線部③, ④で繁栄したある都市では, 有力商人による運営が行われていたが, 16世紀後半に織田信長により自治権が奪われた。その都市の名称を答えなさい。また, その位置を右の地図の1~4から一つ選び, 記号で答えなさい。

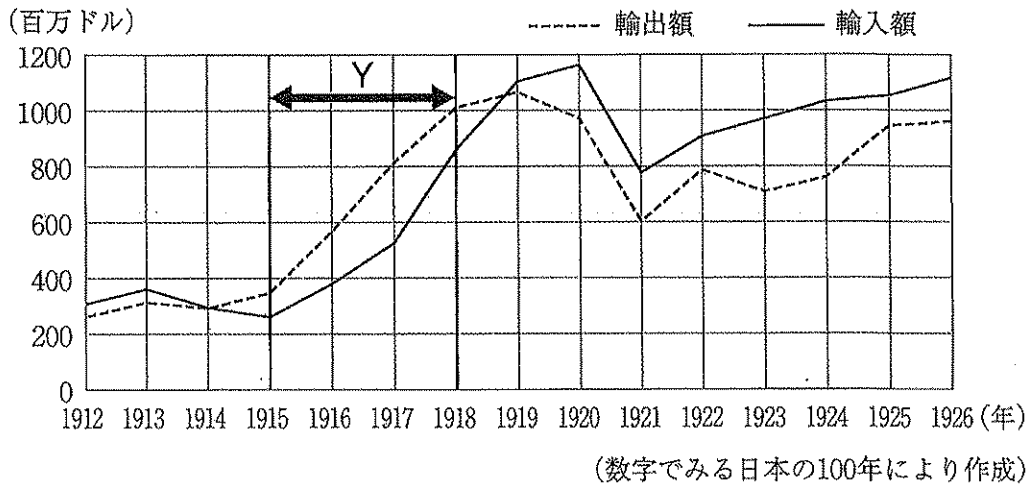


- (5) 下線部⑤について, 四つの窓口(長崎, 対馬藩, 薩摩藩, 松前藩)のそれぞれと関係の深い語として最も適切なものを, 次の1~8から選び, 記号で答えなさい。

- | | | | |
|-----------|-------|---------|--------|
| 1 シャクシャイン | 2 千利休 | 3 楽市・楽座 | 4 琉球王国 |
| 5 オランダ風説書 | 6 五街道 | 7 朝鮮通信使 | 8 菱垣廻船 |

- (6) 下線部⑥について, 資料Ⅱは, 1912年から1926年の日本における輸出額と輸入額の推移を示したものである。日本の輸出額と輸入額の関係について, Yの時期にみられる特徴を, 当時のヨーロッパの状況をふまえ, 説明しなさい。

資料Ⅱ



- (7) 下線部⑦について, 次の1~4は, 第二次世界大戦後の外交に関するできごとである。1~4を年代の古い順に並べかえなさい。

- 1 日中共同声明により, 中国と国交を正常化したのち, 日中平和友好条約を調印した。
- 2 サンフランシスコ平和条約の締結と同時に, アメリカ合衆国と日米安全保障条約を締結した。
- 3 アメリカ合衆国の要請のもと, 日本は韓国と日韓基本条約を調印し, 国交を正常化した。
- 4 ソ連との国交が回復した日ソ共同宣言の調印により, 日本の国際連合加盟が実現した。

- 5 Kさんは、年齢に応じた権利や義務についてまとめた。次は、その一部である。これについて、あとの(1)～(6)に答えなさい。

年齢に応じた権利や義務	
6歳	4月から① <u>小学校</u> に入学することができる。
15歳	② <u>就業</u> できる。 (子役など一部の職業は、許可があれば15歳未満でも就業できる。)
18歳	選挙権をもつ。
20歳	保護者の同意なく、クレジットカードなどの契約ができる。
25歳	③ <u>衆議院議員</u> 、市町村長、④ <u>地方議会</u> の議員に立候補できる。
30歳	⑤ <u>参議院議員</u> 、都道府県知事に立候補できる。
40歳	原則として、全員が(A)保険に加入する。

- (1) (A)に入る、適切な語を答えなさい。
- (2) 下線部①について、「教育を受ける権利」は、どの権利に含まれるか。次の1～4から一つ選び、記号で答えなさい。
1 社会権 2 自由権 3 平等権 4 請求権
- (3) 下線部②について、15歳未満の児童を就業させてはならないことを規定している法律には、男女同一賃金の原則や労働時間を週40時間以内とするなどの労働条件も定められている。この法律を何というか。答えなさい。
- (4) 下線部③、⑤について、次の表Iは、ある年度の一般会計予算案の、衆議院、参議院それぞれの本会議における採決結果を示したものである。このような採決結果となった場合、この予算案は、どのような手続きを経て、どのように議決されるか。説明しなさい。

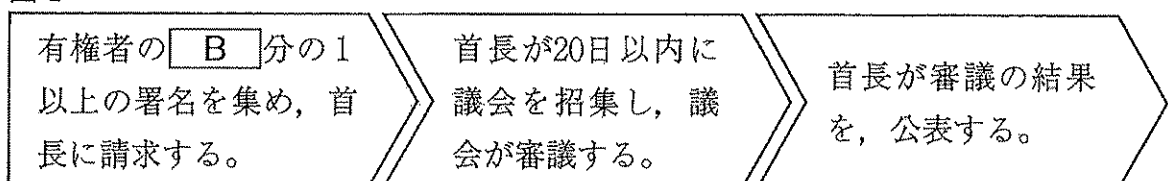
表I

	衆議院	参議院
投票総数	476	234
賛成	328	110
反対	148	124

(注) 予算案が審議された年度の衆議院の議員定数は480名であった。

- (5) 下線部④について、地方議会は条例を制定することができるが、住民も首長を通じて条例の制定を請求することができる。次の図Iは、住民が条例の制定を請求し、結果が公表されるまでの流れを示したものである。図I中の B に適切な数字を入れなさい。

図I

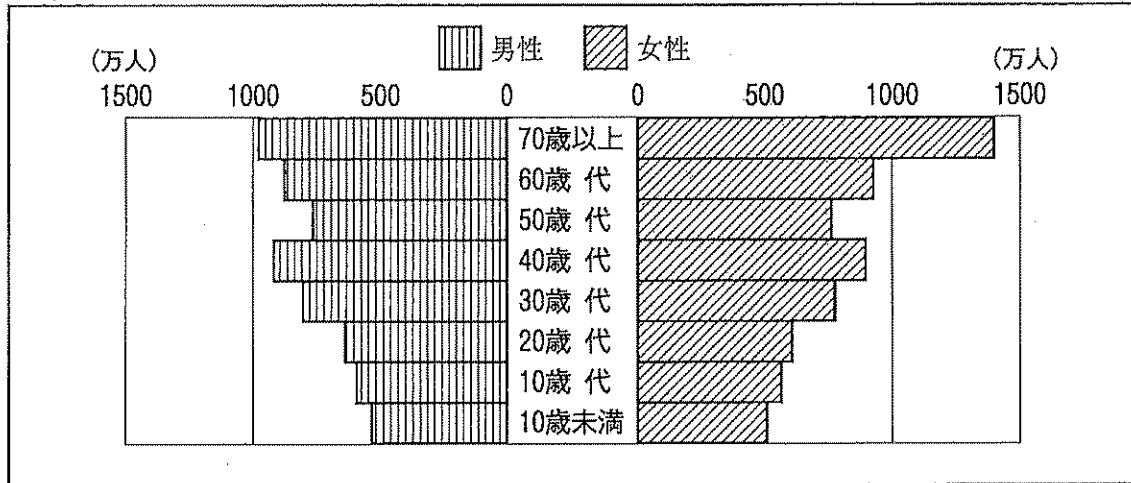


- (6) Kさんは、2015年6月に公職選挙法が改正され、選挙権年齢が満20歳以上から、満18歳以上へと引き下げられたことに興味をもち、選挙権年齢が引き下げられる前の状況について調べ、まとめることにした。次は、その一部である。 C
 に適切な語句をおぎない、文章を完成させなさい。

選挙権年齢の引き下げについて

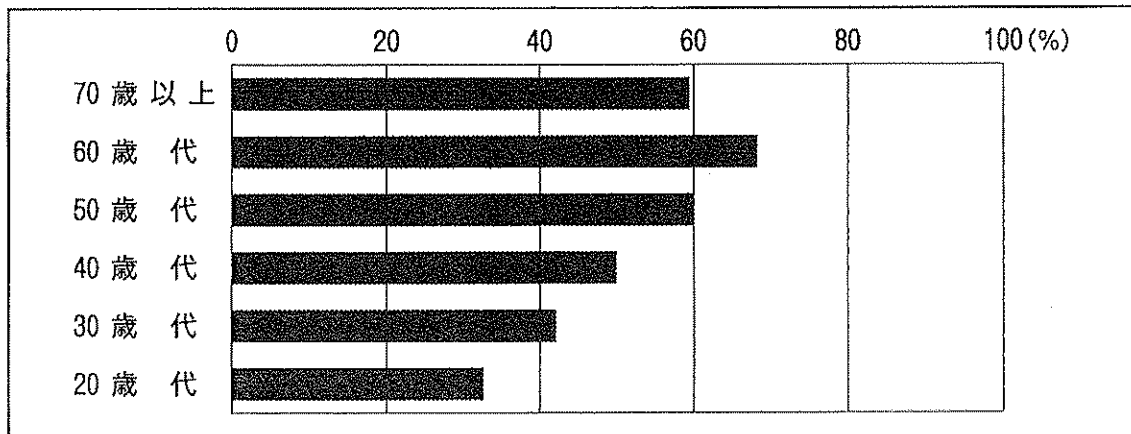
【公職選挙法改正前の状況】

資料Ⅰ 日本の人口ピラミッド（2014年）



（総務省統計局人口推計により作成）

資料Ⅱ 第47回衆議院議員総選挙（2014年）における年代別投票率



（総務省の資料により作成）

《資料Ⅰと資料Ⅱから考えられること》

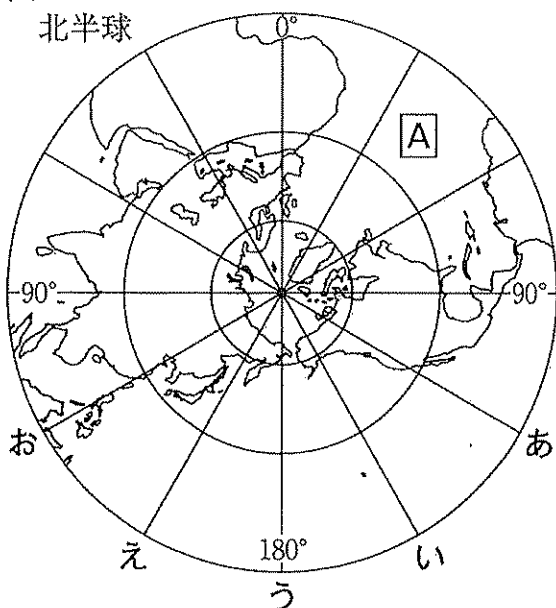
資料Ⅰと資料Ⅱをみると、20歳代は、選挙権をもつ他の年代に比べて、C ので、実際に投票した人数が少ないと考えられる。

選挙権年齢の引き下げにより、より多くの若い世代が投票を行うことで、若い世代の意見が政治に反映されるようになることが期待されている。

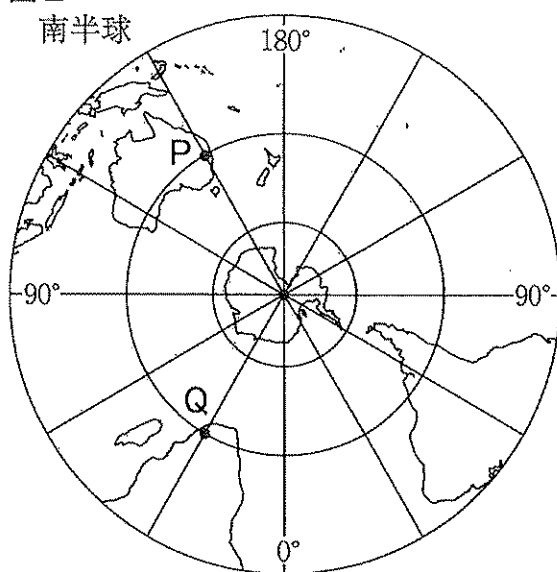
6 あとの(1), (2)に答えなさい。

(1) 地理の学習で、地図帳をみていたYさんは、図I, 図IIの地図に興味をもった。これについて、下のア～エに答えなさい。

図I



図II



(注) 緯線・経線は30度間隔で引いてある。
(中学校社会科地図などにより作成)

ア 図I中のAの海洋名を、次の1～4から一つ選び、記号で答えなさい。

- 1 太平洋 2 大西洋 3 インド洋 4 地中海

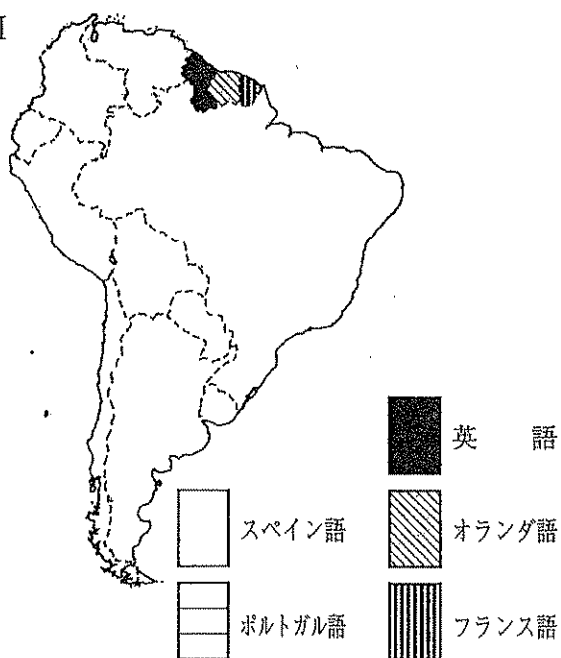
イ 図I中のあ～おの経線のうち、オーストラリア大陸を通過するものを、すべて選び、記号で答えなさい。

ウ 図II中のP地点が1月1日午後3時の時、Q地点の日時を答えなさい。ただし、午前、午後のいずれかを示すこと。また、サマータイム（夏の一定期間に時刻を1時間早めること）は、考えないものとする。

エ Yさんは、南アメリカの国・

地域
の主な公用語について、図IIIの地図にあらわすことにした。この図には、英語、オランダ語、フランス語を公用語としている国・地域は記入されている。この図にある残りの国々は、ポルトガル語を公用語としている国が1か国あり、その他はすべてスペイン語を公用語とする国である。ポルトガル語を公用語としている国について、記入されている国の例にならって作業を行い、図IIIを完成させなさい。

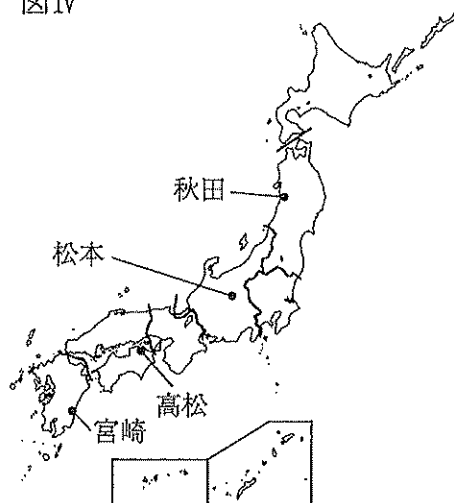
図III



(中学校社会科地図などにより作成)

(2) Tさんは、図Ⅳのように区分された、日本の七つの地方のそれぞれの特色について調べた。これについて、次のア～エに答えなさい。

図Ⅳ



ア Tさんは、各地方の産業の特色を知るために、表Ⅰを作成した。表Ⅰ中の1～4は、関東地方、中部地方、中国・四国地方、九州地方のいずれかである。このうち、中国・四国地方であるものを一つ選び、記号で答えなさい。

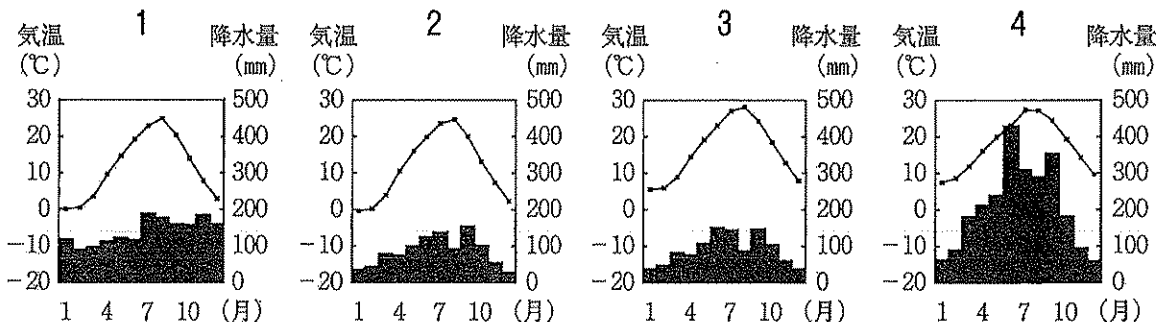
表Ⅰ

	製造品 出荷額 (億円)	小売業年間 商品販売額 (億円)	農業産出額 (億円)
1	857,252	211,008	13,286
2	807,879	415,846	16,251
近畿地方	589,038	208,606	5,438
3	350,343	106,816	7,978
4	229,649	130,850	17,918
東北地方	168,487	89,827	12,298
北海道地方	67,435	58,814	11,110

(注) データは2014年のものである。

(データでみる県勢2018年版などにより作成)

イ 次の1～4のグラフは、それぞれ図Ⅳ中の秋田、松本、高松、宮崎のいずれかの都市の雨温図である。このうち、松本の雨温図にあてはまるものを一つ選び、記号で答えなさい。




(理科年表平成29年版により作成)

ウ 次の文は、関東地方の地形とその利用の特色について述べた説明文である。()に適切な語をおぎない、説明文を完成させなさい。

関東地方は、利根川や荒川などの河川が流れており、川沿いにできた低地は水田地帯となっています。また、川がきざむ広大な台地は、火山灰が積もってできた()とよばれる赤土におおわれ、住宅地や工場、畑作などに利用されています。

エ 近畿地方について、次の二枚の写真は、京都市と大阪市の市街地を撮影したものである。大阪市の市街地に比べ、京都市の市街地では高層ビルが少ない理由を、「条例」と「歴史」という二つの語を用いて説明しなさい。



京都市の市街地



大阪市の市街地

- 7 Sさんのクラスでは、山口県の観光の活性化について考えることにした。次は、Sさんの班が、作成したレポートの一部である。これについて、あとの(1)～(9)に答えなさい。

長州ファイブを活用した観光の活性化

【テーマ設定の理由】

今年は、山口県内において明治150年を記念したイベントが行われる。そこで、①幕末にイギリスへ渡った5人の留学生「長州ファイブ」を活用した②観光資源の開発について考えたい。

【長州ファイブとは】

1863年(文久3年)にイギリスへ渡り、進んだ文化や技術を学んだ③伊藤博文、井上馨、井上勝、遠藤謹助、山尾庸三の5人の留学生のことである。

【5人の功績】

伊藤博文：初代④内閣総理大臣

日本の近代国家確立に取り組んだ。

井上 馨：初代外務大臣

⑤不平等条約の改正に取り組んだ。

井上 勝：「鉄道の父」

日本の⑥鉄道建設に貢献した。

遠藤謹助：「造幣の父」

新しい貨幣を造ることに貢献した。

山尾庸三：「工学の父」

日本の工業発展のためにつくした。



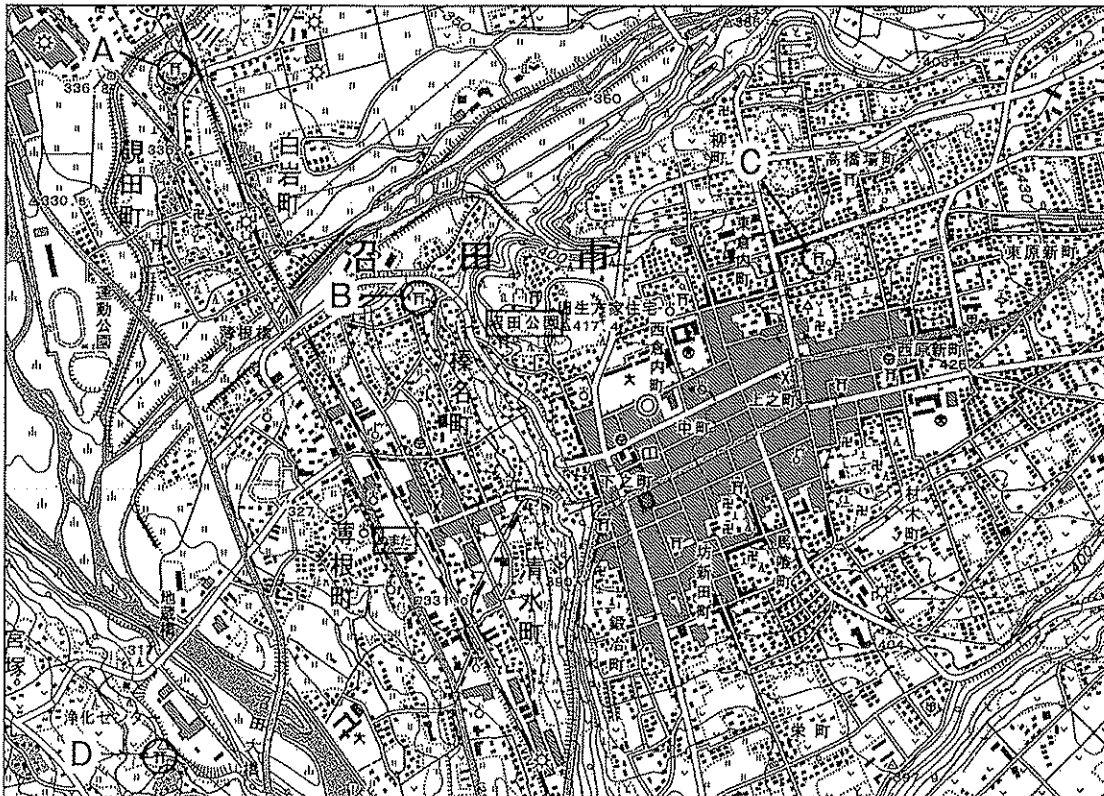
ロンドン到着後に撮影された長州ファイブ

【観光の活性化に向けた方策】

- ・ 山尾庸三は、障がいのある人が社会生活に参加できるようつくしたことで知られており、彼の志を受け継ぎ、障がいのある人や高齢者も訪れやすくするため、観光地の施設に⑦車いす用のスロープなどを設置する。
- ・ イギリスのロンドンをはじめ、長州ファイブにゆかりのある都市でイベントを行い、⑧関連商品を販売するなどして、海外の人々にも山口県に興味をもってもらおう。
- ・ 長州ファイブのそれぞれの出身地と関連する⑨地元食材を使用したメニューの開発を進める。

- (1) 下線部①に関連して、19世紀に世界で起こったできごとを述べた文として正しいものを、次の1～4から一つ選び、記号で答えなさい。
- 1 アヘンを取り締まった清に対し、イギリスは艦隊を派遣して清に勝利した。
 - 2 イギリスでは名誉革命によって、権利の章典が採択された。
 - 3 フランス革命が起こった年に、自由、平等などがかかげた人権宣言が発表された。
 - 4 ドイツのルターは、教皇や教会の権威を否定し、宗教改革を始めた。
- (2) 下線部②に関して、群馬県沼田市は、「天空の城下町」として地域資源を活用した観光の活性化を図っている。図Iは、沼田市の地形図の一部である。図Iの範囲から読み取れることとして正しいものを、次の1～4から一つ選び、記号で答えなさい。
- 1 小学校と中学校はあるが、高等学校はない。
 - 2 城跡がある「沼田公園」からみて、「ぬまた」駅は南東にある。
 - 3 A～Dの神社のうち、標高が最も高い位置にある神社はCである。
 - 4 市役所から半径100m以内の範囲に寺院がある。

図I

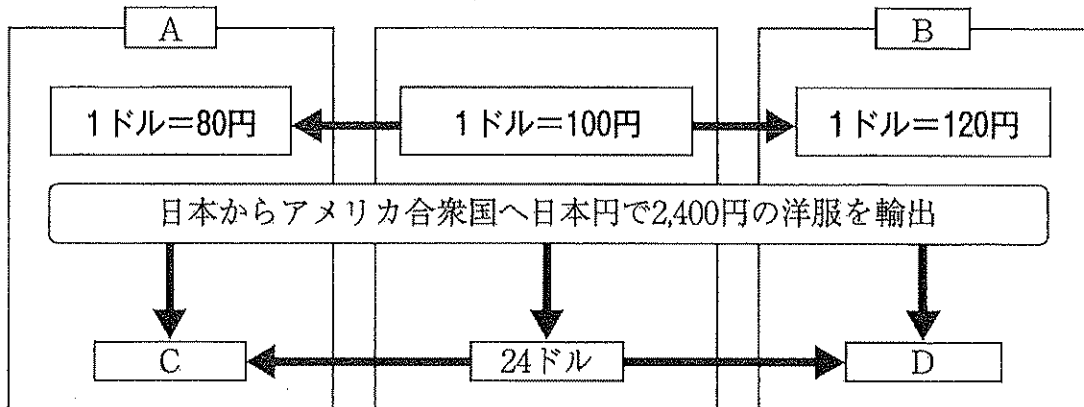


(国土地理院25,000分の1地形図による)

- (3) 次の1～3は、下線部③が関わったできごとである。1～3のできごとを、年代の古い順に並べ、記号で答えなさい。
- 1 岩倉使節団の派遣
 - 2 大日本帝国憲法の発布
 - 3 内閣制度の創設
- (4) 下線部④に関連して、現在の日本は、議院内閣制を採用している。議院内閣制とはどのような制度か。簡潔に述べなさい。

- (5) 下線部⑤について、1894年にイギリスと領事裁判権の撤廃を含む条約の調印に成功した外務大臣はだれか。答えなさい。
- (6) 下線部⑥について、1872年に日本ではじめて開通した鉄道は、新橋と幕末の開港地を結ぶ区間で開業した。この開港地はどこか。答えなさい。
- (7) 下線部⑦に関連して、このような設備の設置にみられるように、安全で快適な生活を送るために障壁を取り除こうという考え方を何というか。答えなさい。
- (8) 下線部⑧に関して、次の図Ⅱは、日本の通貨（円）とアメリカ合衆国の通貨（ドル）の為替相場の変動により、日本からアメリカ合衆国へ輸出した商品の価格が変動するしくみについて示したものである。図Ⅱ中の **A**、**B** には、円安、円高のいずれかの語が、**C**、**D** には、円安、円高により変動したアメリカ合衆国における価格が入る。これらの組み合わせとして適切なものを、下の1～4から一つ選び、記号で答えなさい。

図Ⅱ



- | | | | | |
|---|--------|--------|----------|----------|
| 1 | A - 円安 | B - 円高 | C - 20ドル | D - 30ドル |
| 2 | A - 円安 | B - 円高 | C - 30ドル | D - 20ドル |
| 3 | A - 円高 | B - 円安 | C - 20ドル | D - 30ドル |
| 4 | A - 円高 | B - 円安 | C - 30ドル | D - 20ドル |

- (9) 下線部⑨について、Sさんの班では、観光客に提供する料理のメニューを考えることにした。その話し合いの中で、先生から次のようなアドバイスがあった。なぜ、先生はこのようなアドバイスを行ったのか。その理由について、「宗教」という語を用いて簡潔に述べなさい。

【先生のアドバイス】

海外からの観光客のことも考えると、豚肉や牛肉など食材については、注意する必要があります。