

社 会

# 学力検査問題

係の「始め」の合図があるまで、このページ以外のところを見てはいけません。  
下書いてある注意を静かに読みなさい。

## 注 意

- 1 まず、下の欄の決められた場所に、校名・受検番号・氏名を書き入れ、次に解答用紙に受検番号・氏名を書き入れなさい。
- 2 検査問題は、**1**から**4**までの**4**問で、**9**ページまでです。
- 3 検査時間は、**45**分間です。検査開始後、**35**分過ぎたときに、係が時間を知らせます。
- 4 係の「始め」の合図があったら、まず、ページ数を調べて、異状があれば申し出なさい。
- 5 印刷がはっきりしなくて読めないときは、だまって手をあげなさい。問題内容や答案作成上の質問は認めません。
- 6 答えは、すべて別紙の解答用紙の決められた場所に、はっきり書き入れなさい。勝手なところに書いてはいけません。
- 7 係の「やめ」の合図があったら、すぐにやめて、係の指示を待ちなさい。

在学学校名、または、出身学校名	受 検 番 号	氏 名
学校		

1 1, 2の問いに答えなさい。

1 田中さんは、山梨県の産業について関心をもち、次の表Ⅰ～Ⅲを見つけた。これに関する(1)～(5)の問いに答えなさい。

表Ⅰ ミネラルウォーターの出荷額(2014年)

順位	県名	全国シェアに占める割合(%)
1	山梨県	29.3
2	鳥取県	14.9
3	静岡県	13.4
4	鹿児島県	8.1
5	X	3.4

(「工業統計調査」より作成)

表Ⅱ ワインの生産量(2015年)

順位	県名	生産量(kL)
1	神奈川県	32 161
2	山梨県	23 761
3	栃木県	22 970
4	岡山県	6 500
5	X	4 703

(国税庁資料より作成)

表Ⅲ ぶどうの収穫量(2015年)

順位	県名	収穫量(t)
1	山梨県	41 400
2	X	28 300
3	山形県	18 200
4	岡山県	16 300
5	福岡県	8 330

(「農林水産統計」より作成)

(1) 田中さんは、表Ⅰの上位5県には、豊富な水源となる山があることに気づいた。右の略地図のア、イが示す山脈や山の名前を次のa～hからそれぞれ一つずつ選び、記号で書きなさい。

- |   |               |   |               |
|---|---------------|---|---------------|
| a | おうう<br>奥羽山脈   | b | きそ<br>木曾山脈    |
| c | あかいし<br>赤石山脈  | d | ひだ<br>飛騨山脈    |
| e | たいせつざん<br>大雪山 | f | だいせん<br>大山    |
| g | さりしまやま<br>霧島山 | h | ちうかいざん<br>鳥海山 |



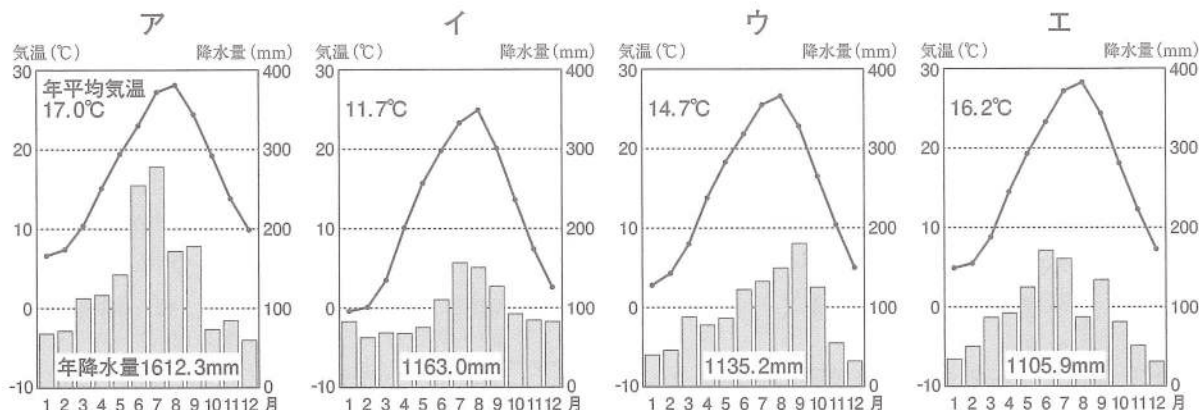
(2) 田中さんは、表Ⅱ、Ⅲを見て、ぶどうの収穫量が上位ではない神奈川県で、ワインが大量に生産されていることに疑問をもった。この疑問に対する答えの一つとして考えられることを、右の資料から読み取り、「横浜港」という語句を使って、簡潔に書きなさい。

資料

原材料名：濃縮ぶどう果汁(外国産)  
 内容量：720 mL  
 アルコール分：11.5%  
 ○○○○株式会社

(神奈川県で製造されたワインのラベルより作成)

(3) 次のア～エは、表Ⅲ中の、山梨県、山形県、岡山県、福岡県の県庁所在地の雨温図である。エの雨温図はどの県庁所在地のものか、市の名前を書きなさい。



(「理科年表」平成30年度版より作成)

- (4) 次の文章は、表Ⅲ中の、山梨県と山形県を例として伝統産業についてまとめたものである。文章中の ( a ) には当てはまる語句を、下のア～エから一つ選び、記号で書きなさい。また、b には当てはまる内容を書きなさい。

山梨県の伝統的工艺品といえば甲州手彫印章<sup>てぼりいんしょう</sup>が、山形県の伝統的工艺品といえば ( a ) が有名で、こうした伝統的工艺品づくりには、職人の手作業が必要とされている。

全国的に職人の高齢化が進んでいる今、その技能と経験を伝えるために、b 取り組みが、各地で行われている。

ア 有田焼<sup>ありたやき</sup>      イ 南部鉄器<sup>なんぶてつき</sup>      ウ 樺細工<sup>かばざいく</sup>      エ 天童将棋駒<sup>てんどうしやうぎこま</sup>

- (5) 次のメモは、表Ⅰ～Ⅲ中のXについて述べたものである。Xに当てはまる県の名前を書きなさい。また、メモ中の (                    ) に当てはまる語句を一つ選び、書きなさい。

＜メモ＞

- ・ 2014年の顕微鏡・拡大鏡の出荷額が日本一である。
- ・ 冬のオリンピック・パラリンピックが開催された。
- ・ 高原ではレタスの栽培が盛んで、主に ( 春 , 夏 , 秋 , 冬 ) に出荷されている。

- 2 山田さんは、世界の水事情に関心をもち、次の表をつくった。これに関する(1)～(4)の問いに答えなさい。

表 世界各国の降水量など

国名	面積 (千km <sup>2</sup> )	平均降水量 (mm/年)	年降水総量 (km <sup>3</sup> /年) (面積×平均降水量)
日本	A	1 668	630.504
オーストラリア	7 741	534	4 133.694
インド	3 287	1 083	3 559.821
エジプト	B	51	51.051
イタリア	C	832	250.432
カナダ	9 985	537	5 361.945
アメリカ	9 832	715	7 029.880
ブラジル	8 516	1 761	14 996.676

(「平成27年度国土交通白書参考資料編」より作成)

- (1) 表中のA, B, Cの大小を正しく表しているものを、次のア～カから一つ選び、記号で書きなさい。

ア A<B<C      イ A<C<B      ウ B<A<C      エ B<C<A  
オ C<A<B      カ C<B<A

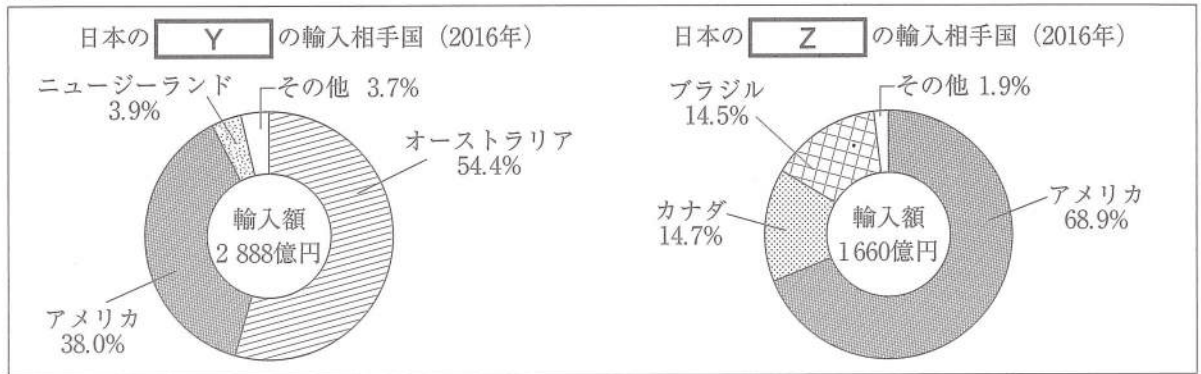
- (2) 次の文章は、表中のインドについて述べたものである。文章中のa～dの (                    ) の中から当てはまる語句を一つずつ選び、それぞれ記号で書きなさい。

人口の約8割を占める a ( ア 仏教    イ イスラム教    ウ ヒンドゥー教 ) の人々が沐浴<sup>もくよく</sup>を行うインド東部の b ( ア インダス川    イ ガンジス川    ウ ユーフラテス川 ) 下流域は、降水量が多く、c ( ア コーヒー栽培    イ 綿花栽培    ウ 稲作 ) が盛んである。

近年インドでは d ( ア 再生可能エネルギー産業    イ 情報技術産業    ウ 石油化学産業 ) が、南部の都市バンガロールを中心にめざましい成長をとげている。その背景には、理系の教育水準が高いことや英語を話せる技術者が多いことなどがあげられる。

- (3) 日本が輸入している食料と水の関係性について、次の資料を見て、下の①、②の問いに答えなさい。

資料



(「農林水産物輸出入統計」より作成)

- ① 資料中の Y, Z に当てはまる品目を、次のア～エから一つずつ選び、それぞれ記号で書きなさい。
- ア とうもろこし      イ 牛肉      ウ 鶏肉      エ 大豆
- ② 多くの食料を輸入していることは、多くの水を輸入しているのと同じだと考えることができる。そのように考えられる理由を、「～の生産には～」という形で、簡潔に書きなさい。

- (4) 水問題に関する次の資料 I, II を見て、下の①, ②の問いに答えなさい。

資料 I

年	世界の人口 (百万人)	世界の取水量 (km <sup>3</sup> )
1980	4 430	3 175
1990	5 255	3 633
2000	6 057	3 973
2010	6 826	4 431
2025 (予測)	7 937	5 235

(注) 取水量…農業や工業、生活のために水源から取り入れた水の量

(国土交通省ウェブページなどより作成)

資料 II

- ・世界では21億人が安全な水を自宅で入手できていない。
- ・世界では2億6300万人が、往復で30分を超える時間をかけて水をくんでいる。
- ・2015年の5歳未満死亡率は、日本の3に対し、後発開発途上国は73である。

(注) 5歳未満死亡率…満5歳に達する日までに死亡する確率  
出生1000人あたりの死亡数で表す

(注) 後発開発途上国…発展途上国の中でも特に開発が遅れている国々

(ユニセフ・WHO共同プログラム「水と衛生に関する報告書」2017年などより作成)

- ① 人間が利用できる水には限りがあり、21世紀の間には多くの国が水不足に直面すると予想されている。水不足が予想される要因を、資料 I から考え、「～によって～ため。」という形で簡潔に書きなさい。
- ② 山田さんと先生は、資料 II を見て、次のような会話をした。会話中の [ ] には同じ語句が入る。これに当てはまる語句を書きなさい。

山田：<sup>じやぐら</sup>蛇口をひねれば安全な水を利用できる私たちの生活とはまったく違う現状があるのですね。

先生：多くの途上国では、水くみは女性や [ ] たちの仕事になっています。毎日、池や川などから水をくみ、長い時間をかけて重い水を歩いて運んでいます。

山田：たいへんな仕事ですね。安全ではない水を飲むしかなくて、それが原因で病気になっている人がたくさんいると思います。

先生：そうです。特に抵抗力の弱い [ ] たちが、<sup>げり</sup>下痢性の病気になり命を落としています。不衛生な水は、<sup>せきり</sup>コレラや赤痢といった感染症の伝染とも関連しています。

山田：水の問題について、関心をもって考えていきたいと思っています。

2 1, 2の問いに答えなさい。

1 小林さんは、歴史上の建造物に関心をもち、A～Dの写真を見つけた。これに関する(1)～(4)の問いに答えなさい。



A ローマのコロッセウム



B 平等院鳳凰堂



C 首里城守礼門

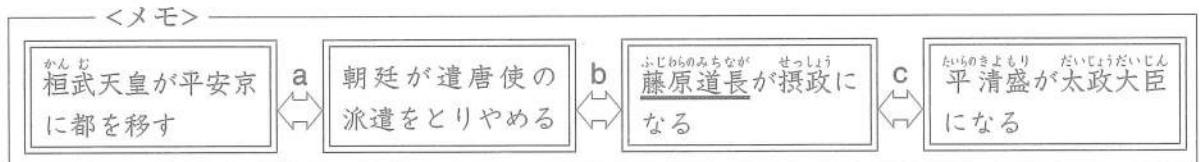


D 姫路城

(1) 写真Aの建造物が建てられた帝国について述べている文として正しいものを、次のア～エから一つ選び、記号で書きなさい。

- ア くさび形文字が使われるようになった。      イ キリスト教が公認された。  
ウ モヘンジョ＝ダロが繁栄した。                  エ ハンムラビ法典がつくられた。

(2) 次のメモは、写真Bの建造物が建てられた平安時代のおもなできごとを、左から年代の古い順に並べたものである。メモについて、下の①、②の問いに答えなさい。



① メモ中の下線部に関連して、藤原氏について述べた次の文中の□に当てはまる語句を書きなさい。

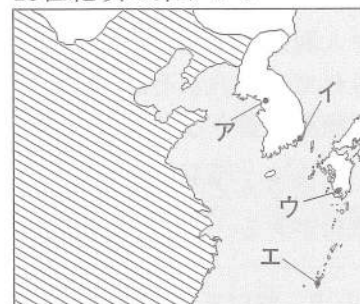
藤原道長と、子のよりみち頼通の時に最も栄えた藤原氏は、朝廷のおもな役職を一族で占め、国司からの贈り物や、所有する土地である□からの収入などで、はなやかな生活を送った。

② メモ中のa～cのいずれかの期間に右のできごとを加える場合、どこに加えるべきか、a～cから一つ選び、記号で書きなさい。

しらかわじょうこう  
白河上皇が院政を始める

(3) 写真Cの建造物がある場所を、右の略地図中のア～エから一つ選び、記号で書きなさい。また、略地図中の斜線部分は写真Cの建造物を建てた王国と交易を行った国を示している。この国の名前を漢字1字で書きなさい。

15世紀頃の東アジア



(4) 写真Dの建造物は、14世紀前半の築城以降の拡張・修築を経て、今日の姿になった。この間の時代に関する、次の①、②の問いに答えなさい。

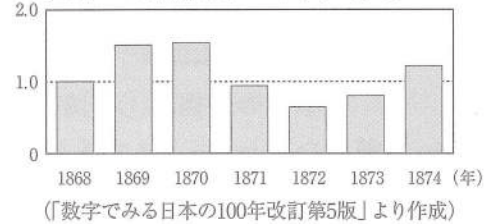
- ① 姫路城の築城にかかわったとよとみひでよし豊臣秀吉に仕え、わ侘び茶を大成したのは誰か、人物の名前を書きなさい。
- ② 姫路城が写真Dのような姿になったのは江戸時代初期であったが、1615年に江戸幕府は武家諸法度により、新たに城を築くことを禁じた。幕府がこのような規制を設けた目的を簡潔に書きなさい。

- 2 木村さんは、近現代の歴史を勉強するために次の略年表をつくった。これに関する(1)~(6)の問いに答えなさい。

年	おもなできごと	年	おもなできごと
1868	五箇条の御誓文が發布される	1914	④ 第一次世界大戦が始まる
1873	① 地租改正が行われる	1939	第二次世界大戦が始まる
1889	② 大日本帝国憲法が發布される	1946	⑥ 日本国憲法が公布される
1894	日清戦争が始まる	1955	原水爆禁止世界大会が広島で開かれる
1904	③ 日露戦争が始まる	1971	⑦ 非核三原則に関する衆議院決議が採択される

- (1) 下線部①について、右の資料は1868年の米価を1.0としたときの米価の推移を表したものである。明治政府が、従来の年貢を引き継いだ方法をやめ、地租改正を実施した理由を、資料の推移全体から読み取れることをもとにして、簡潔に書きなさい。

資料 明治初期の米価の推移



- (2) 下線部②、⑥について、次の条文中の [ A ]、[ B ] に当てはまる語句を、それぞれ書きなさい。

大日本帝国憲法	日本国憲法
第一条 大日本帝国ハ万世一系ノ [ A ] 之ヲ統治ス	第一条 [ A ] は、日本国の象徴であり日本国民統合の象徴であつて、この地位は、[ B ] の存する日本国民の総意に基く。

- (3) 下線部③での日本の勝利によって、アジア諸国で民族独立や近代化の動きが活発になった。三民主義を唱えて中国の革命運動の中心となった人物の名前を書きなさい。
- (4) 下線部④の説明として誤っているものを、次のア～エから一つ選び、記号で書きなさい。
- ア イギリスの皇太子夫妻がサラエボで暗殺された事件を機に勃発した。
- イ 日本は日英同盟を理由に連合国として参戦した。
- ウ 戦車・潜水艦・毒ガスなどの新兵器が登場したことで死傷者が増大した。
- エ イギリスやフランスでは総力戦の体制が作られた。
- (5) 次のア～エは、日本や世界に関連のあるできごとを、それぞれ年代の古い順に並べたものである。略年表中の⑤の期間にすべてが当てはまるものを、ア～エから一つ選び、記号で書きなさい。
- ア 福沢諭吉の『西洋事情』が刊行される → 平塚らいてうらの雑誌『青鞨』が刊行される → 日本でラジオ放送が始まる → 日本でテレビ放送が始まる
- イ 国際連盟が設立される → ワシントン会議で軍縮条約が結ばれる → 世界恐慌が起こる → ドイツでヒトラー政権が誕生する
- ウ アヘン戦争で清がイギリスに敗れる → 義和団事件が起こる → 満州事変が始まる → 日中戦争が始まる
- エ 大隈重信が立憲改進黨を組織する → 日本で第1回帝国議会が開かれる → 治安維持法が成立する → 五・一五事件が起こる
- (6) 下線部⑦に関連して、次の文章中の (      ) の中から当てはまる内容を一つ選び、記号で書きなさい。また、 [                          ] に当てはまる内容を書きなさい。

1971年に、( ア 沖縄返還協定が調印    イ 警察予備隊が新設 ) された。この年、核兵器を [                          ] という非核三原則を守るべきとする衆議院決議が採択された。

3 1～4の問いに答えなさい。

1 丸山さんは、学級で「国際社会」について考える機会をもつために発表を行った。次の文章はその原稿の一部である。これに関する(1)～(3)の問いに答えなさい。

1945年に設立された①国際連合は、憲章の第一条で「国際の [ ] 及び安全」の維持を目的に掲げましたが、今でも世界の多くの場所で問題が残されています。

[ ] とは何でしょう。「戦争のない状態」をさすといわれますが、それだけでしょうか。世界中には、今こうしている間にも②飢餓で命を失っていく人々があります。苦しむ人々のいる現代社会は、決して [ ] であるとはいえないと思います。

- (1) 文章中の [ ] には同じ語句が入る。これに当てはまる語句を書きなさい。
- (2) 文章中の下線部①に関連して、国際連合の主要機関の一つである安全保障理事会について述べた文として正しいものを、次のア～エから一つ選び、記号で書きなさい。
- ア 常任理事国の5か国には拒否権が認められている。
- イ 非常任理事国の10か国は、4年ごとに改選される。
- ウ 理事国はPKO活動による軍事的制裁を決議できる。
- エ 日本は、常任理事国として理事会に参加している。
- (3) 文章中の下線部②に関連して、「飢餓」などをキーワードにインターネットで検索したところ、次の一節をもつ歌詞を見つけた。飢餓に苦しむ人々がいる一方で、食料に関して問題になっていることを、この歌詞を参考にして、簡潔に書きなさい。

(歌詞の一節) …料理達が まだ食べられるよって話しかけてる

(消費者庁ウェブページより作成)

2 古屋さんと中沢さんは、選挙について語り合った。次の文章はその会話の一部である。これに関する(1)～(3)の問いに答えなさい。

古屋：2016年の参議院議員選挙、①2017年の衆議院議員解散・総選挙と、選挙権年齢が18歳に引き下げられてから、2年連続で国政選挙があったね。

中沢：2017年の衆議院議員総選挙では、議員定数が10人減ったよね。なぜ減らしたのかな。

古屋：理由の一つに「一票の格差」の問題があるよ。教科書には、選挙で国民の意見を正しく反映することや、日本国憲法第14条にある [ ] を保障することが必要だと書いてあるね。

中沢：なるほど。授業で学習していることが、こういうかたちで役に立つんだね。そういえば、2017年の衆議院議員総選挙のときに②国民審査も行われたね。これも勉強したよね。

- (1) 会話文中の下線部①とその後の流れについて示した次のパネルには誤りがある。パネル中の下線部ア～エから誤っているものを一つ選び、記号で書きなさい。また、選んだ語句を正しく書き直しなさい。

内閣の助言と承認に基づく天皇の ア 国事行為によって衆議院が解散した。

イ 小選挙区比例代表並立制による選挙が行われ、全国で465議席が争われた。

ウ 臨時国会が開かれ、内閣総理大臣が エ 指名された。

- (2) 会話文中の [ ] に当てはまる語句を、6字で書きなさい。
- (3) 会話文中の下線部②について、国民審査を受けることが定められているのは、どのような人か、書きなさい。

- 3 小川さんは、日本経済について勉強するために祖父の話を聞いて、次の資料をまとめた。これに関する(1)~(3)の問いに答えなさい。

資料

年	祖父の年齢	祖父の話に出てきたおもなできごと
1966	18歳	高校卒業後、会社に就職した。
1973	25歳	長男（私の父）が誕生した。この年、第一次石油危機がおこった。
1991	43歳	長男が高校を卒業した。この年、バブル景気が崩壊した。
1994	46歳	②家を新築した。
2008	60歳	会社を定年退職し、別の会社に再就職をした。
2014	66歳	私たちとの同居が始まった。この年、③消費税率が8%に引き上げられた。

- (1) 資料中の①について、この期間の日本経済に関することがらを述べた文として最も適切なものを、次のア~エから一つ選び、記号で書きなさい。

- ア 自動車や精密機械、コンピュータ関連産業を中心とする産業構造に転換した。
- イ 重化学工業への投資が増え、各地に、次々と巨大なコンビナートが建設された。
- ウ 財政再建をめざして、企業の規制緩和や郵政事業の民営化などの政策が行われた。
- エ ほぼ戦前の生産水準に達して、『経済白書』が「もはや戦後ではない」と表した。

- (2) 次の文章は、資料中の下線部②についての祖父の思い出話である。これに関連して下に示したⅠ、Ⅱのそれぞれの文が正しければ○、誤りであれば×とする。このとき、その組み合わせとして正しいものを、ア~エから一つ選び、記号で書きなさい。

家の新築で、銀行から住宅ローンを20年間返済の約束で借りた。数年前に、やっと返済が終わったので、株式投資を始めてみた。社会貢献に力を入れている企業の株主になったんだ。

- Ⅰ 銀行から借りる住宅ローンは間接金融にあたる。
- Ⅱ 株主は、会社経営に直接参加する義務を負う。

- ア Ⅰ-○ Ⅱ-○    イ Ⅰ-○ Ⅱ-×    ウ Ⅰ-× Ⅱ-○    エ Ⅰ-× Ⅱ-×

- (3) 資料中の下線部③について、消費税は「間接税」であるが、間接税とはどのような税か、「納税者」と「担税者」という語句を使って、簡潔に書きなさい。なお、「納税者」は税を納める人、「担税者」は税を負担する人という意味である。

- 4 中村さんと野沢さんは、ごみ問題について調べるうちに、江戸時代の庶民生活のことを知り、先生と話をした。次の文章はその会話の一部である。これに関する(1)、(2)の問いに答えなさい。

野沢：私たちは、多くの物を使い捨てにしています。使い捨てられたごみの再資源化が現代の課題ですが、今回調べた江戸時代の状況は違いましたね。

中村：江戸時代の庶民は、衣類を何度も仕立て直して着て、古くなったら雑巾などに作り直して、最後は燃料として使い、あとに残った灰も作物を育てるための肥料にしていたそうです。

先生：物が手に入りやすかった江戸時代と、「**A**」やサービス」を消費して、便利で豊かな生活をしてきた現代では、「物」の扱い方が違うようですね。

野沢：衣類を灰にしてまでも使ったという点に、江戸時代と現代の私たちとの違いを感じます。

先生：そうですね。江戸時代は結果的に、高度な**B**型社会だったと言えます。現代の課題を解決するためのヒントになるものがありそうですね。もう少し調べてみましょう。

- (1) 会話文中の**A**，**B**に当てはまる語句を書きなさい。

- (2) 会話文中の下線部について、江戸時代の庶民が物をどのように扱っていたかを、「ごみ」という語句を使って、簡潔に書きなさい。



4 ある学級では、観光をテーマに各班で調べ学習を行った。これに関する1～4の問いに答えなさい。

1 1班は、日本を訪れる外国人観光客について右の資料を見つけた。これに関する(1)、(2)の問いに答えなさい。

資料 日本を訪れる観光客が多い国・地域 (2016年)

順位	1	2	3	4	5
国名	中国	韓国	台湾	香港 <sup>ホンコン</sup>	アメリカ

(日本政府観光局ウェブサイトより作成)

(1) 資料中の中国、韓国、アメリカから自由に一つ選び、国名を書きなさい。そのうえで、選んだ国の説明として最も適切なものを、次のア～エから一つ選び、記号で書きなさい。

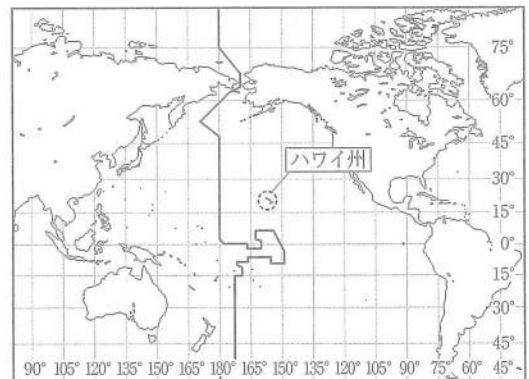
- ア 大型機械を使い、少ない労働力で、効率よく大量に作物を生産している。
- イ 鉄鉱石の輸出が盛んであり、輸出先の大半をアジア諸国が占めている。
- ウ 1970年代以降の経済発展に伴い、首都への著しい人口集中が見られる。
- エ 国土の南東部では稲作や茶の栽培が、西部では牧畜がそれぞれ盛んである。

(2) 右の略年表は、中国・韓国と、日本や山梨県との戦後の友好関係についてまとめたものである。略年表中の( a )、( b )に当てはまる条約の名前をそれぞれ書きなさい。

年	おもなできごと
1965	( a ) を締結する
1972	日中の国交が正常化する
1978	( b ) を締結する
1985	山梨県と中国四川省 <sup>しせんしゅう</sup> が友好締結を行う
1992	山梨県と韓国忠清北道 <sup>ちゅうせいほくどう</sup> が姉妹締結を行う
2002	サッカーワールドカップが日韓共同で開催される

2 2班は、日本人観光客が多く訪れるアメリカのハワイ州への旅行計画を立てることにした。これに関する(1)、(2)の問いに答えなさい。

(1) ハワイ州について調べるため、現地の学校とテレビ電話で話をするようになった。日本時間の3月3日午前9時に話を始めるとき、ハワイ州は何月何日の午前または午後何時になるか、右の略地図を参考にして書きなさい。なお、ハワイ州は西経150度を標準時子午線としている。



(2) 次のメモは、旅行に必要な費用についてまとめたものである。メモ中の□に円高、円安から自由に一つ選び、その語句を書きなさい。そのうえで、( P )、( Q )に当てはまる数値を、それぞれ書きなさい。

— <メモ> 円をドルに換えて、旅行に必要な3000ドルを用意する。 —

- ・1ドル100円を基準とする。
- ・為替レート<sup>かわせ</sup>が5円□になると、1ドル ( P ) 円となり、3000ドルを用意するためには、( Q ) 円が必要となる。

※ 為替手数料などは含まない。

3 3班は、国内の観光地として北海道に関心をもった。これに関する(1), (2)の問いに答えなさい。

(1) 次の文章は、北海道に関する資料Ⅰ, Ⅱについて述べたものである。文章中の□に当てはまる語句を書きなさい。

資料Ⅰは、「イランカラプテ」という言葉を「北海道のおもてなし」の合言葉として普及しようというキャンペーンのロゴマークです。  
 「イランカラプテ」という言葉は、資料Ⅱに示した先住民族である□の人々の言葉で、「こんにちは」という意味です。



(2) 次の会話文は、北方領土に関心をもった生徒が、元島民に行ったインタビューの一部である。これに関する下の①, ②の問いに答えなさい。

生徒：北方領土のどの島に住んでいたのですか。  
 元島民：私は、日本の北端である□A□に住んでいました。しかし、第二次世界大戦の終結直後、□B□が北方領土を不法に占領したため、住めなくなってしまいました。  
 生徒：日本が□C□宣言を受諾した後、占領されたということですか。  
 元島民：そうです。□B□の軍隊は、日本が宣言を受諾した後、1945年8月28日から9月5日までの間に、北方領土を占領したのです。

① 会話文中の□A□に当てはまる島の名前を、次のア～エから一つ選び、記号で書きなさい。

- ア 択捉島 (えとろふとう)      イ 国後島 (くなしりとう)      ウ 色丹島 (しこたんとう)      エ 歯舞群島 (はほまいぐんとう)

② 会話文中の□B□, □C□に当てはまる語句をそれぞれ書きなさい。

4 4班は、山梨県が観光の活性化に力を入れていることに興味をもち、次の資料を見つけた。この資料をもとに作成したボードの□に当てはまる内容として最も適切なものを、下のア～エから一つ選び、記号で書きなさい。

資料 山梨県を訪れた観光客の日帰り客と宿泊客の比較 (2016年)

項目	観光客の数 (千人)	一人当たりの観光消費額 (円)
日帰り客	22 122	6 871
宿泊客	7 118	17 195

(「H28山梨県観光入込客統計調査報告書」より作成)

- ア 日帰り客一人当たりの観光消費額  
 イ 観光客全体における日帰り客の数  
 ウ 宿泊客一人当たりの観光消費額  
 エ 観光客全体における宿泊客の数

□が増加した場合の観光消費額の変化 (試算)

$$\begin{array}{r}
 17\,195(\text{円}) \\
 - 6\,871(\text{円}) \\
 \hline
 10\,324(\text{円}) \dots \text{①}
 \end{array}
 \qquad
 \begin{array}{r}
 22\,122\text{千人の} 1\% \\
 \rightarrow 221\,220\text{人} \dots \text{②}
 \end{array}$$

① × ②  
 $10\,324\text{円} \times 221\,220\text{人} = 2\,283\,875\,280\text{円}$   
 およそ23億円の増加

(注) 試算…ためしに行う計算