

2021 年度大学入学共通テスト 解説 〈数学 I・A〉

第 1 問

[1] $2x^2 + (4c - 3)x + 2c^2 - c - 11 = 0$ ……①

(1) $c=1$ のとき, ①の左辺は,

$$\begin{aligned} & 2x^2 + (4 \times 1 - 3)x + 2 \times 1^2 - 1 - 11 \\ &= 2x^2 + x - 10 \\ &= \underline{(2x+5)}(x-\underline{2}) \end{aligned}$$

……ア, イ, ウ

であるから, ①の解は, $x = -\frac{5}{2}, 2$

(2) $c=2$ のとき, ①は,

$$\begin{aligned} & 2x^2 + (4 \times 2 - 3)x + 2 \times 2^2 - 2 - 11 = 0 \text{ より,} \\ & 2x^2 + 5x - 5 = 0 \end{aligned}$$

よって, 解の公式より,

$$x = \frac{-5 \pm \sqrt{5^2 - 4 \times 2 \times (-5)}}{2 \times 2} = \underline{\underline{\frac{-5 \pm \sqrt{65}}{4}}}$$

……エ, オカ, キ

大きい方の解 α は, $\alpha = \frac{-5 + \sqrt{65}}{4}$ であるから,

$$\begin{aligned} \frac{5}{\alpha} &= 5 \times \frac{4}{-5 + \sqrt{65}} = \frac{20}{\sqrt{65} - 5} \\ &= \frac{20(\sqrt{65} + 5)}{(\sqrt{65} - 5)(\sqrt{65} + 5)} \\ &= \frac{20(\sqrt{65} + 5)}{65 - 25} \\ &= \frac{20(\sqrt{65} + 5)}{40} \\ &= \underline{\underline{\frac{5 + \sqrt{65}}{2}}} \end{aligned}$$

……ク, ケコ, サ

ここで, $\sqrt{64} < \sqrt{65} < \sqrt{81}$ より, $8 < \sqrt{65} < 9$ であるから,

$$\frac{5+8}{2} < \frac{5+\sqrt{65}}{2} < \frac{5+9}{2}$$

これより, $6.5 < \frac{5+\sqrt{65}}{2} < 7$ であるから, $m < \frac{5}{\alpha} < m+1$ を満たす整数 m は,

$$m = \underline{\underline{6}}$$

……シ

(3) ①の解は、解の公式より、

$$x = \frac{-(4c-3) \pm \sqrt{(4c-3)^2 - 4 \times 2 \times (2c^2 - c - 11)}}{2 \times 2} = \frac{-4c+3 \pm \sqrt{-16c+97}}{4}$$

この2解がともに有理数になるのは、根号内の $-16c+97 (=D)$ が平方数であるときである。

この根号内は正であるから、

$$-16c+97 > 0$$

$$c < \frac{97}{16} = 6 + \frac{1}{16}$$

であり、 c は正の整数であるから、

$$c = 1, 2, 3, 4, 5, 6$$

この c のうち、 D が平方数となるのは、 $c=1$ ($D=81=9^2$), $c=3$ ($D=49=7^2$),

$c=6$ ($D=1=1^2$) の 3 個である。

……ス

[2]

(1) $\sin A = \sqrt{1 - \cos^2 A} = \sqrt{1 - \left(\frac{3}{5}\right)^2} = \frac{4}{5}$ ……セ, ソ

よって, $\triangle ABC$ の面積は, $\frac{1}{2}bc \sin A = \frac{1}{2} \times 6 \times 5 \times \frac{4}{5} = \underline{12}$ ……タチ

また, $\angle DAI = 180^\circ - A$ であるから, $\sin \angle DAI = \sin A$

よって, $\triangle AID = \frac{1}{2}bc \sin A = \triangle ABC = \underline{12}$ ……ツテ

(2) $S_1 = a^2$, $S_2 = b^2$, $S_3 = c^2$ である。

$0^\circ < A < 90^\circ$ のとき, $a^2 < b^2 + c^2$ であるから, $S_1 < S_2 + S_3$ よって, $S_1 - S_2 - S_3 < 0$

$A = 90^\circ$ のとき $a^2 = b^2 + c^2$ であるから, $S_1 = S_2 + S_3$ よって, $S_1 - S_2 - S_3 = 0$

$90^\circ < A < 180^\circ$ のとき $a^2 > b^2 + c^2$ であるから, $S_1 > S_2 + S_3$ よって, $S_1 - S_2 - S_3 > 0$

よって, この順に ②, ①, ③ ……ト, ナ, ニ

(3) (1)の ~~~~ 線部と同様に, $\triangle BEF = \triangle ABC$, $\triangle CGH = \triangle ABC$ であるから,

a , b , c の値に関係なく, $T_1 = T_2 = T_3$

よって, ③ ……ヌ

(4) $0^\circ < A < 90^\circ$ のとき, $\angle IAD = 180^\circ - A$ より, $90^\circ < \angle IAD < 180^\circ$ であるから, 直角をはさむ 2 辺の長さが b , c である直角三角形の斜辺の長さを d とすると, (2)と同様に,

$$ID^2 > d^2 (= b^2 + c^2) > BC^2 \quad \text{これより, } ID > BC \quad \text{……(☆)}$$

よって, ② ……ネ

ここで, $\triangle ABC$, $\triangle AID$ の外接円の半径をそれぞれ R , R_1 とすると, 正弦定理より,

$$2R_1 = \frac{ID}{\sin \angle IAD} = \frac{ID}{\sin(180^\circ - A)} = \frac{ID}{\sin A}, \quad 2R = \frac{BC}{\sin A}$$

であるから, (☆)より, $R_1 > R$ ……(★)

よって, ② ……ノ

次に, $\triangle BEF$, $\triangle CGH$ の外接円の半径をそれぞれ R_2 , R_3 とすると,

• $0^\circ < A < B < C < 90^\circ$ のとき, (★)と同様に, $R_2 > R$, $R_3 > R$ もいえるから, R , R_1 , R_2 , R_3 の中で最も小さいのは R である。

よって, ① ……ハ

• $0^\circ < A < B < 90^\circ < C$ のとき, $0^\circ < A < B < 90^\circ$ より, $R_1 > R$, $R_2 > R$ がいえ, $90^\circ < C$ より $R_3 < R$ がいえるから, R , R_1 , R_2 , R_3 の中で最も小さいのは R_3 である。

よって, ③ ……ヒ

第2問

[1]

- (1) ストライドを x m/歩, ピッチを z 歩/秒, 100 m を走るのにかかった歩数を a 歩, タイムを t 秒とおくと, 定義より,

$$x = \frac{100}{a} \quad \dots\dots\textcircled{7}, \quad z = \frac{a}{t} \quad \dots\dots\textcircled{8}$$

$\textcircled{7}$, $\textcircled{8}$ を辺々かけると, $xz = \frac{100}{t}$ すなわち, 平均速度は xz ($\dots\dots\textcircled{9}$) ……ア

これより, $t = \frac{100}{xz} \quad \dots\dots\textcircled{10}$

- (2) z が x の 1 次関数であると仮定すると, その変化の割合は, $\frac{-0.1}{0.05} = -2$

これと, $x=2.05$ のとき $z=4.70$ であることから,

$$z = -2(x - 2.05) + 4.70 \quad \text{よって, } z = -2x + 8.8 = \underline{\underline{-2x + \frac{44}{5}}} \quad \dots\dots\textcircled{11} \quad \dots\dots\text{イウ, エオ}$$

ピッチの最大値が $z=4.80$ のとき, $4.80 \geq -2x + 8.8$ より, $x \geq 2.00$

これと $x \leq 2.40$ より, $\underline{\underline{2.00}} \leq x \leq 2.40$ ……カ, キク

$y = xz$ とおくと, これに $\textcircled{11}$ を代入して,

$$y = x \left(-2x + \frac{44}{5} \right) = -2x^2 + \frac{44}{5}x = -2 \left(x - \frac{11}{5} \right)^2 + \frac{242}{25}$$

y の $2.00 \leq x \leq 2.40$ における最大値は, $2.00 < \frac{11}{5} < 2.40$ より, x (ストライド) $= \frac{11}{5} = \underline{\underline{2.20}}$ の

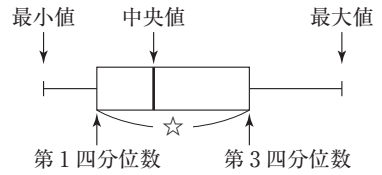
ときであり, このとき, $\textcircled{11}$ より, z (ピッチ)は, $z = -2 \times 2.20 + 8.8 = \underline{\underline{4.40}}$ である。

……ケ, コサ, シ, スセ

このときのタイムは, $\textcircled{10}$ より, $t = \frac{100}{2.20 \times 4.40} = \frac{100}{9.68} = \underline{\underline{10.330\dots}}$ ($\dots\dots\textcircled{12}$) ……ソ

〔2〕

- (1) 「四分位範囲」とは、箱ひげ図における右図の☆の長さを表し、1975年度から2000年度まで長さは減少しているから、①は正しい。



1990年度、2000年度、2010年度においては、右側のひげの長さが左側のひげの長さより長いから、①は正しくない。

1990年度以降は、第2次産業の就業者割合の中央値は、後の時代になるにしたがって減少しているから、②は正しい。

第2次産業の就業者割合の第1四分位数は、1975年度から1980年度、1985年度から1990年度にかけて増えているから、③は正しくない。

第3次産業の就業者割合の第3四分位数は、後の時点になるにしたがって増加しているから、④は正しい。

第3次産業の就業者割合の最小値は、後の時点になるにしたがって増加しているから、⑤は正しい。

よって、正しくないものは、①、③

……タ、チ

- (2) 1985年度の第1次産業の就業者割合の最大値は、(1)の箱ひげ図より、25%以上30%未満であるから、これと合致するヒストグラムは、①と③。

このうち、1985年度の第3次産業の就業者割合の最小値が45%であるヒストグラムは、①。

よって、1985年度におけるグラフは、①

……ツ

次に、1995年度の第1次産業の就業者割合の最大値は、(1)の箱ひげ図より、15%以上20%未満であるから、これと合致するヒストグラムは、②と④。

ここで、47都道府県の第3次産業の就業者割合の中央値は、小さい方から24番目であるが、ヒストグラムより、②の中央値は60%以上65%未満、④の中央値は55%以上60%未満であるから、(1)の箱ひげ図に合致するのは、④。

よって、1995年度におけるグラフは、④

……テ

- (3) 図2、図3の左端の散布図を比べると、第1次産業の就業者割合と、第2次産業の就業者割合については、図2の散布図には負の相関があるが、図3の散布図には特に相関はないから、図2を基準にすると、図3の相関は弱くなった。したがって、(I)は誤り。

図2、図3の真ん中の散布図を比べると、第2次産業の就業者割合と、第3次産業の就業者割合については、図2の散布図には特に相関はないが、図3の散布図には負の相関があるから、図2を基準にすると、図3の相関は強くなった。したがって、(II)は正しい。

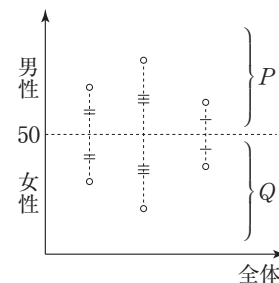
図2、図3の右端の散布図を比べると、第3次産業の就業者割合と、第1次産業の就業者割合については、図2の散布図には負の相関があるが、図3の散布図には特に相関はないから、

図2を基準にすると、図3の相関は弱くなった。したがって、(Ⅲ)は誤り。

以上から、(I)誤 (II)正 (III)誤 (……⑤)

……ト

- (4) 横軸に第1次産業の就業者割合、縦軸に男性の就業者割合をとった散布図(Pとする)と、横軸に第1次産業の就業者割合、縦軸に女性の就業者割合をとった散布図(Qとする)の関係を1つの散布図に表すと、右図のように縦軸の目盛り50%を通る横軸に平行な直線に関して対称となる(男性と女性の就業者割合の和は100%となるから)。



よって、①～③の散布図の中から、Pと上下逆になった散布図を選ぶと、答えは② ……ナ

第3問

(1)

(i) 箱 A において、当たりくじを引く確率は $\frac{1}{2}$ 、外れくじを引く確率は $1 - \frac{1}{2} = \frac{1}{2}$ であるから、

3 回中ちょうど 1 回当たる確率は、

$${}_3C_1 \left(\frac{1}{2}\right) \left(\frac{1}{2}\right)^2 = \frac{3}{8} \quad \dots\dots ① \quad \dots\dots \text{ア, イ}$$

箱 B において、当たりくじを引く確率は $\frac{1}{3}$ 、外れくじを引く確率は $1 - \frac{1}{3} = \frac{2}{3}$ であるから、

3 回中ちょうど 1 回当たる確率は、

$${}_3C_1 \left(\frac{1}{3}\right) \left(\frac{2}{3}\right)^2 = \frac{4}{9} \quad \dots\dots ② \quad \dots\dots \text{ウ, エ}$$

(ii) A を選ぶ確率と B を選ぶ確率はともに $\frac{1}{2}$ であるから、①、②より、

$$P(A \cap W) = \frac{1}{2} \times \frac{3}{8} = \frac{3}{16} \quad \dots\dots ③, \quad P(B \cap W) = \frac{1}{2} \times \frac{4}{9} = \frac{2}{9} \quad \dots\dots ④$$

$$\text{これより, } P(W) = P(A \cap W) + P(B \cap W) = \frac{59}{144} \quad \dots\dots ⑤$$

$$\text{よって, } ③, ⑤ \text{ より, } P_W(A) = \frac{P(A \cap W)}{P(W)} = \frac{3}{16} \times \frac{144}{59} = \frac{27}{59} \quad \dots\dots \text{オカ, キク}$$

$$\text{また, } ④, ⑤ \text{ より, } P_W(B) = \frac{P(B \cap W)}{P(W)} = \frac{2}{9} \times \frac{144}{59} = \frac{32}{59} \quad \dots\dots \text{ケコ, サシ}$$

$$\text{【別解】 } P_W(B) = 1 - P_W(A) = 1 - \frac{27}{59} = \frac{32}{59}$$

(2) $P_W(A) : P_W(B) = \frac{P(A \cap W)}{P(W)} : \frac{P(B \cap W)}{P(W)} = P(A \cap W) : P(B \cap W) = ① : ②$ であるから、正し

い選択肢は ③ ……ス

(3) 箱 C において、3 回中ちょうど 1 回当たる確率は、 ${}_3C_1 \left(\frac{1}{4}\right) \left(\frac{3}{4}\right)^2 = \frac{27}{64}$ ……⑥

よって、①、②、⑥より、

$$\begin{aligned} P(W) &= P(A \cap W) + P(B \cap W) + P(C \cap W) \\ &= \frac{1}{3} \times \frac{3}{8} + \frac{1}{3} \times \frac{4}{9} + \frac{1}{3} \times \frac{27}{64} = \frac{1}{3} \times \left(\frac{3}{8} + \frac{4}{9} + \frac{27}{64} \right) \\ &= \frac{1}{3} \times \frac{216 + 256 + 243}{9 \times 64} = \frac{715}{3 \times 9 \times 64} \quad \dots\dots ⑦ \end{aligned}$$

よって、①、⑦より、

$$P_W(A) = \frac{P(A \cap W)}{P(W)} = \frac{1}{3} \times \frac{3}{8} \times \frac{3 \times 9 \times 64}{715} = \frac{216}{715} \quad \dots\dots \text{セソタ, チツテ}$$

(4) 箱 D において、3 回中ちょうど 1 回当たる確率は、 $\frac{1}{5} \times \left(\frac{4}{5}\right)^2 \times {}_3C_1 = \frac{48}{125}$ ……⑧

よって、花子さんの考えを用いると、①、②、⑥、⑧より、

$$\begin{aligned} P_w(A) : P_w(B) : P_w(C) : P_w(D) &= \frac{3}{8} : \frac{4}{9} : \frac{27}{64} : \frac{48}{125} \\ &= 27000 : 32000 : 30375 : 27648 \end{aligned}$$

であるから、可能性が高い方から順に、B, C, D, A (……⑧) ……ト

第4問

以下、さいころを投げて偶数の目が x 回、奇数の目が y 回出るとして計算を行う。

- (1) さいころを5回投げて、点 P_0 にある石を点 P_1 に移動させることができたとき、

$$x+y=5, 5x-3y=1$$

が成り立つから、これらを解けば、 $x=2, y=3$ ……ア、イ

- (2) $5x-3y=8$ ……①

(1)より、 $5 \times 2 - 3 \times 3 = 1$ であるから、この式の両辺に8を掛けると、

$$5 \times 2 \times 8 - 3 \times 3 \times 8 = 1 \times 8 \quad \dots\dots ②$$

$$① - ② \text{をつくれれば、} 5(x-16) - 3(y-24) = 0$$

これより、 $5(x-16) = 3(y-24)$ となり、5と3は互いに素であるから、 k を整数として、

$$x-16=3k, y-24=5k \text{ すなわち、} x=16+3k, y=24+5k \quad \dots\dots ③ \quad \dots\dots \text{ウ、エ}$$

③より、①の整数解の中で、 $0 \leq y < 5$ を満たすものは、 $k = -4$ の場合、このとき、

$$x=16+3 \times (-4)=4, y=24+5 \times (-4)=4 \quad \dots\dots \text{オ、カ}$$

したがって、さいころを8回投げて、偶数の目が4回、奇数の目が4回出れば、点 P_0 にある石を点 P_8 に移動させることができる。 ……キ

- (3) $8-15=-7$ より、石を点 P_0 から反時計回りに -7 (時計回りに7) 移動させても点 P_8 に移すことができる。

このとき、 $5x-3y=-7$ の正の整数解 x, y のうち、 $x+y < 8$ を満たすものは、 $x=1, y=4$

すなわち、偶数の目が1回、奇数の目が4回出れば、さいころを投げる回数が $1+4=5$ (回) で、点 P_0 にある石を点 P_8 に移動させることができる。 ……ク、ケ、コ

- (4) 点 P_0 にある石を、サの解答群にある点 $P_{10} \sim P_{14}$ に移動させるための、さいころを投げる最小回数をそれぞれ求める。

石を反時計回りにいくつ移動すればよいか($5x-3y$ の値)と、それを満たす整数解 x, y のうち、 $x+y$ が最小になるものを求めて、表にすると、右のようになる。

よって、最小回数が最も多いのは、

$$\text{点 } P_{13} \quad (\dots\dots ③) \quad \dots\dots \text{サ}$$

であり、その最小回数は6回である。 ……シ

移る先	P_{10}	P_{11}	P_{12}	P_{13}	P_{14}
$5x-3y$	10	11	12	13	14
(x, y)	(2, 0)	(4, 3)	(3, 1)	(5, 4)	(4, 2)
$5x-3y$	-5	-4	-3	-2	-1
(x, y)	(2, 5)	(1, 3)	(0, 1)	(2, 4)	(1, 2)
最小回数	2回	4回	1回	6回	3回

第5問

$AB^2+BC^2=CA^2(3^2+4^2=5^2)$ であるから、 $\triangle ABC$ は $\angle B=90^\circ$ の直角三角形である。

右の図で、角の二等分線の性質より、 $BD:DC=BA:AC=3:5$ であるから、

$$BD = \frac{3}{3+5}BC = \frac{3}{8} \times 4 = \underline{\underline{\frac{3}{2}}}$$

よって、

$$AD = \sqrt{AB^2+BD^2} = \sqrt{3^2 + \left(\frac{3}{2}\right)^2} = \frac{3}{2}\sqrt{2^2+1^2} = \underline{\underline{\frac{3\sqrt{5}}{2}}} \quad \dots\dots\text{ウ, エ, オ}$$

また、 $\triangle AEC \sim \triangle ABD$ より、

$$AE:AB=AC:AD$$

であるから、

$$AE = \frac{AB \times AC}{AD} = \frac{3 \times 5}{\frac{3\sqrt{5}}{2}} = \underline{\underline{2\sqrt{5}}}$$

さらに、右の図のようになるから、円Pと辺ABとの接点をHとすると、 $\triangle AHP \sim \triangle ABD$ (…☆) より、 $AP:AD=HP:BD$

であるから、

$$AP = \frac{AD \times HP}{BD} = \frac{\frac{3\sqrt{5}}{2} \times r}{\frac{3}{2}} = \underline{\underline{\sqrt{5}r}} \quad \dots\dots\text{ク}$$

また、円Pと円Oの接点Fと点Pを結ぶ直線FPは、2円P, Oの中心線であるから、FGは円Oの直径(=AC=5)である。

$$\text{よって、} PG = FG - FP = \underline{\underline{5-r}} \quad \dots\dots\text{ケ}$$

したがって、方べきの定理より、

$$AP \times EP = FP \times GP$$

が成り立つから、

$$\sqrt{5}r \times (2\sqrt{5} - \sqrt{5}r) = r \times (5-r)$$

$r \neq 0$ より、

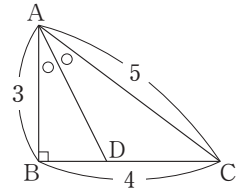
$$\sqrt{5}(2\sqrt{5} - \sqrt{5}r) = 5-r$$

$$10 - 5r = 5 - r$$

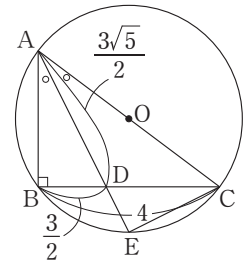
$$\text{よって、} r = \underline{\underline{\frac{5}{4}}} \quad \dots\dots\text{コ, サ}$$

$\triangle ABC$ の内接円Qの半径を q とすると、 $\triangle ABC$ の面積について、

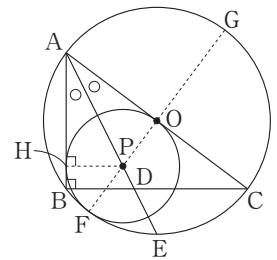
$$\frac{1}{2} \times AB \times q + \frac{1}{2} \times BC \times q + \frac{1}{2} \times CA \times q = \frac{1}{2} \times AB \times BC$$



……ア, イ



……カ, キ



……ク

……ケ

……コ, サ

が成り立つから、これより、

$$(3+4+5)q=3 \times 4 \quad \text{よって、} q=\underline{1} \quad \dots\dots \text{シ}$$

Q は直線 AD 上にあるから、円 Q と辺 AB の接点を I とすると、 $\triangle AIQ \sim \triangle ABD$ より、

$$AQ : AD = QI : DB$$

$$AQ = \frac{AD \times QI}{DB} = \frac{\frac{3\sqrt{5}}{2} \times 1}{\frac{3}{2}} = \underline{\sqrt{5}} \quad \dots\dots \text{ス}$$

また、(☆)より、 $AH : AB = HP : BD$ であるから、

$$AH = \frac{AB \times HP}{BD} = \frac{3 \times \frac{5}{4}}{\frac{3}{2}} = \underline{\frac{5}{2}} \quad \dots\dots \text{セ, ソ}$$

このとき、

$$AH \times AB = \frac{5}{2} \times 3 = \frac{15}{2}, \quad AQ \times AD = \sqrt{5} \times \frac{3\sqrt{5}}{2} = \frac{15}{2}$$

より、 $AH \times AB = AQ \times AD$ が成り立つから、方べきの定理の逆より、4点 H, B, D, Q は同一円周上にある。すなわち、点 H は 3 点 B, D, Q を通る円の周上にあり、(a)は正しい。

また、明らかに $AH \times AB \neq AQ \times AE$ であるから、4点 H, B, E, Q は同一円周上にはない。

すなわち、点 H は 3 点 B, E, Q を通る円の周上になく、(b)は誤り。

よって、正誤の組合せとして正しいものは、① ……タ