

地理歴史 $\left(\begin{array}{ccc} \text{世界史 A} & \text{世界史 B} & \text{日本史 A} \\ \text{日本史 B} & \text{地理 A} & \text{地理 B} \end{array} \right)$ $\left(\begin{array}{l} 100 \text{ 点} \\ 60 \text{ 分} \end{array} \right)$

この問題冊子には、「世界史A」「世界史B」「日本史A」「日本史B」「地理A」「地理B」の6科目を掲載しています。解答する科目を間違えないよう選択しなさい。

注意事項

- 1 試験開始の合図があるまで、この問題冊子の中を見てはいけません。
- 2 この注意事項は、問題冊子の裏表紙にも続きます。問題冊子を裏返して必ず読みなさい。
- 3 出題科目、ページ及び選択方法は、下表のとおりです。

出題科目	ページ	選 択 方 法
世界史 A	4～25	左の6科目のうちから1科目を選択し、解答しなさい。
世界史 B	26～51	
日本史 A	52～79	
日本史 B	80～103	
地理 A	104～135	
地理 B	136～169	

- 4 試験中に問題冊子の印刷不鮮明、ページの落丁・乱丁及び解答用紙の汚れ等に気付いた場合は、手を挙げて監督者に知らせなさい。
- 5 解答用紙には解答欄以外に次の記入欄があるので、監督者の指示に従って、それぞれ正しく記入し、マークしなさい。

① 受験番号欄

受験番号(数字及び英字)を記入し、さらにその下のマーク欄にマークしなさい。
正しくマークされていない場合は、採点できないことがあります。

② 氏名欄、試験場コード欄

氏名・フリガナ及び試験場コード(数字)を記入しなさい。

裏表紙に続く。

③ 解答科目欄

解答する科目を一つ選び、科目の下の○にマークしなさい。マークされていない場合又は複数の科目にマークされている場合は、0点となります。

- 6 解答は、解答用紙の解答欄にマークしなさい。例えば、

10

と表示のある問いに対して③と解答する場合は、次の(例)のように解答番号10の解答欄の③にマークしなさい。

(例)

解答番号	解 答 欄
10	① ② ③ ④ ⑤ ⑥ ⑦ ⑧ ⑨ ⑩

- 7 問題冊子の余白等は適宜利用してよいが、どのページも切り離してはいけません。
8 試験終了後、問題冊子は持ち帰りなさい。

日本史 B

(解答番号 ~)

第1問 次の文章A・Bは、神社に伝わる祭礼や信仰について、ある高校生が書いたレポートの一部である。この文章を読み、下の問い(問1～6)に答えよ。

(配点 12)

A 先日、家の近くの神社で行われた秋の祭礼を見に行った。この神社では、毎年春と秋に祭礼がある。春の初めの という祭礼では、田植えの作業をまねた神事や舞を奉納する。 は、豊作を祈願するために古くから各地で行われていた祭りであると、日本史の教科書に書いてあった。

先日の秋の祭礼では、五穀豊穡を祈願する恒例の行事として、 という神事を行っていた。この行事は鎌倉時代の武士たちが行った武芸が起源とされているが、今はだいぶ形が変わってしまっているそうだ。先日見に行ったときは、12本の矢がすべての的に命中した。見に来ていた人は、来年は豊作に違いないといっていた。神社の祭礼は、田植えや収穫の時期と密接な関係があり、

① 農作業の暦と深く結びついていたことがわかる。

それにしても、現在までお祭りが続いているのは、考えてみれば驚きだ。

② 神社に伝わる祭礼は、その周辺に住む人々によって支えられ、受け継がれてきたのだなと思った。

問1 空欄 に入る語句の組合せとして正しいものを、次の①～④のうちから一つ選べ。

- | | | | | | | | | | |
|---|---|-----|---|-----|---|---|-----|---|------|
| ① | ア | 祈年祭 | イ | 流鏝馬 | ② | ア | 祈年祭 | イ | 盟神探湯 |
| ③ | ア | 新嘗祭 | イ | 流鏝馬 | ④ | ア | 新嘗祭 | イ | 盟神探湯 |

問 2 下線部㉔に関連して、農業技術の歴史に関して述べた次の文Ⅰ～Ⅲについて、古いものから年代順に正しく配列したものを、下の①～④のうちから一つ選べ。 2

- Ⅰ 脱穀用の千歯扱や選別用の唐箕が広く用いられた。
- Ⅱ 石包丁による穂首刈りが広く行われた。
- Ⅲ 肥料として草木灰が普及しはじめた。

- ① Ⅰ — Ⅱ — Ⅲ
- ② Ⅱ — Ⅰ — Ⅲ
- ③ Ⅱ — Ⅲ — Ⅰ
- ④ Ⅲ — Ⅱ — Ⅰ

問 3 下線部㉕に関連して、中世の惣村における神社や祭礼に関して述べた次の文X～Zについて、その正誤の組合せとして正しいものを、下の①～④のうちから一つ選べ。 3

- X 神社の祭礼行事の組織として宮座が結成された。
- Y 人々は鎮守の神社などに集まって、太占によって結束を誓った。
- Z 神社の祭礼行事は寺社奉行によって決定された。

- ① X 正 Y 正 Z 誤
- ② X 正 Y 誤 Z 誤
- ③ X 誤 Y 正 Z 正
- ④ X 誤 Y 誤 Z 正

日本史B


B この神社には、江戸時代に奉納された大きな絵馬が残っていて、見事な馬が描かれている。今もさまざまな祈願のために絵馬を奉納するが、絵馬を奉納する風習は古くからあったようだ。でもなぜ馬の絵を描くのだろう。㉔馬と人間とのかかわりの歴史を調べてみると、馬を荷物を運ぶ手段や農耕のために用いたり、^{あまご}雨乞いのために神社に奉納したりと、古くから人間の生活や信仰と深くかかわっていたことがわかる。そのことと関係するのだろうか。

また、境内には江戸時代に寄進された鐘が残っている。ふつう、鐘はお寺にあるものだが、これは㉕神仏習合の影響と考えられている。説明板によると、第二次世界大戦中に、兵器製造の材料などを調達する名目で各地の鐘を政府に供出したが、この鐘は供出を免れたそうだ。この鐘にそのような歴史があるとは知らなかった。㉖近代以降の神社の歴史についても、さらに調べてみたいと思った。


問 4 下線部㉔に関連して、次の甲・乙の図に関して述べた文 a～d について、正しいものの組合せを、下の①～④のうちから一つ選べ。

4

甲



乙



- a 甲は、雨乞いのために神社に奉納する目的で作られた。
- b 甲は、古墳の墳丘に並べられたものの一つである。
- c 乙は、馬に荷を背負わせた馬借の様子を描いている。
- d 乙は、馬が耕作に用いられている様子を描いている。

① a・c

② a・d

③ b・c

④ b・d

問 5 下線部㉑に関して述べた文として誤っているものを、次の①～④のうちから一つ選べ。

- ① 奈良時代ころから、神社に付属して神宮寺が建てられるようになった。
- ② 平安時代には、神は仏の仮の姿であるとする本地垂迹説が広まった。
- ③ 室町時代には、仏教や儒教を取り込んだ唯一神道が唱えられた。
- ④ 江戸時代には、宗門改めの実施にともなって神仏分離令が出された。

問 6 下線部㉒に関連して、近現代の神道に関して述べた文として正しいものを、次の①～④のうちから一つ選べ。

- ① 明治維新後、政府は神祇官を設置して、祭政一致を否定した。
- ② 大教宣布の詔によって、政府は神道の弾圧を行った。
- ③ 久米邦武は「神道は祭天の古俗」と論じて、神道家たちの支持を集めた。
- ④ 神道指令により、政府による神社神道への援助・監督を禁止した。

日本史B

第2問 原始・古代の社会に関する次の文章A・Bを読み、下の問い(問1～6)に答えよ。(史料は、一部省略したり、書き改めたりしたところもある。)(配点 18)

A 長く無文字社会であった原始時代の日本列島に、文字は中国大陸や朝鮮半島との交流を通して入ってきた。㉓年代が判明する列島内最古の文字資料の一つは、福岡県の志賀島で発見された金印であるが、これは中国の王朝との外交交渉のなかでもたらされたものである。

5世紀になると、列島内において漢字を用いて文書や記録が作成されたことが複数の資料から確認できる。熊本県の で出土した鉄刀に刻まれた銘文の最後には「書する者は張安なり」とあり、作文したのは渡来人のようである。

文書行政を原則とする律令制の導入にともない、㉔文字の習得が役人には必須となった。都や地方の役所跡で出土する から、7世紀半ば以後、役人を中心に文字の使用が徐々に広がりはじめていたことがわかる。8世紀末の都では、往来の人々に対して迷子についての情報提供を求める立て札が、道路のそばに立てられていた。このころになると都では、通行人の中にも文字を読める人々がいるほど、識字層が広がっていたことを示している。

問1 空欄 に入る語句の組合せとして正しいものを、次の①～④のうちから一つ選べ。

- ① ア 江田船山古墳 イ 青銅器
- ② ア 江田船山古墳 イ 木簡
- ③ ア 稲荷山古墳 イ 青銅器
- ④ ア 稲荷山古墳 イ 木簡

問 2 下線部㉔に関連して、この時代の遺跡について述べた文として正しいものを、次の①～④のうちから一つ選べ。 8

- ① 温暖化のため海面が上昇していたので、現在では海岸から離れた地に貝塚が発見されている。
- ② 半地下式の窯を作り、硬質で灰色の土器を焼成していた跡が見つまっている。
- ③ ナウマン象やオオツノジカの化石とともに、狩猟や解体に用いられたと考えられる石器が出土している。
- ④ 集落には、防衛的機能を備えていたと考えられる何重もの環濠や、見張り用の建物の跡が見つまっている。

問 3 下線部㉕に関連して、古代の教育に関して述べた次の文Ⅰ～Ⅲについて、古いものから年代順に正しく配列したものを、下の①～④のうちから一つ選べ。

9

- Ⅰ 官人を養成するために、諸国に国学が設けられた。
- Ⅱ 一族子弟の教育のために、藤原氏により勸学院が設けられた。
- Ⅲ 子孫に先例を学ばせるために、『小右記』などの日記が書かれた。

- ① Ⅰ — Ⅱ — Ⅲ
- ② Ⅰ — Ⅲ — Ⅱ
- ③ Ⅱ — Ⅰ — Ⅲ
- ④ Ⅱ — Ⅲ — Ⅰ

日本史B

B 次の史料は、平安時代初期に成立した説話集の一節である。この説話には虚構が含まれているが、そこに描かれた細かな記述から、当時の社会のさまざまな姿を読み取ることができる。

^{ならのいわしま} ^{なら}
檜 磐嶋は諾楽の左京六条三坊(注1)の人なり。大安寺の西の里に居住せり。

㊦ 聖武天皇の世に、その大安寺の修多羅(注2)分の錢三十貫(注3)を借りて、越前の都魯鹿(注4)の津に往きて、交易して運び超し、船に載せ家に將ち来らむとする時に、忽然に病を得つ。船を留め、単独家(注5)に来むと思ひ、馬を借りて乗り来る。近江の滋賀郡の磯鹿の辛前(注5)に至りて、かへりみれば三人追ひ来る(注6)。

(『日本靈異記』中巻第24)

(注1) 原史料には「五坊」とあるが、「三坊」の誤りである。

(注2) 「修多羅」は經典のこと。ここでは經典を読んだり論議したりする研究組織を指す。

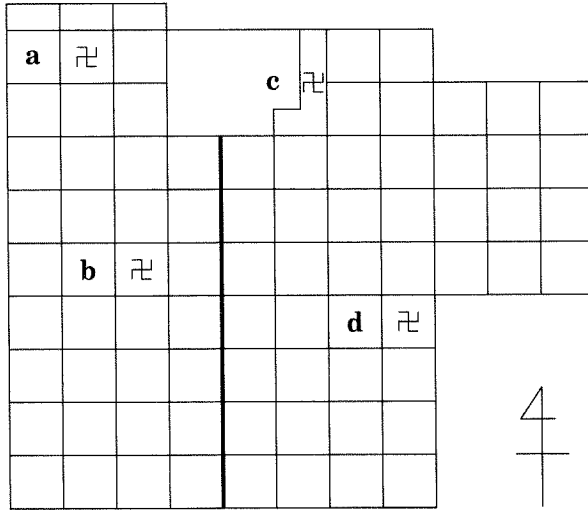
(注3) 1貫は錢1,000枚である。

(注4) 現在の福井県敦賀市。

(注5) 現在の滋賀県大津市。なお、原史料には「高嶋郡」とあるが、「滋賀郡」の誤りである。

(注6) この後、檜磐嶋は追ってきた3人(正体は冥界から来た鬼)を饗応し、読経したことで長寿を得たという。

問 4 次の図は、平城京条坊の概略図である。図中の区画 a～d について、この説話における檜磐嶋の居住地として正しいものを、下の①～④のうちから一つ選べ。 10



- ① a ② b ③ c ④ d

問 5 下線部㉓に関して、この時代に、政府が流通させようとした錢として正しいものを、次の①～④のうちから一つ選べ。 11

- ① 和同開珎 ② 乾元大宝 ③ 富本錢 ④ 宋 錢

問 6 この史料から読み取れることがらとして誤っているものを、次の①～④のうちから一つ選べ。 12

- ① 大安寺の經典研究組織用の資金が、商業活動に使われていた。
 ② 聖武天皇は、金堂を建立する資金を大安寺に貸し付けていた。
 ③ 敦賀には港があり、そこでは錢を用いた交易が行われていた。
 ④ 敦賀から奈良に向けての物品輸送には、水運も利用されていた。

日本史B

第3問 中世の政治と文化に関する次の文章A・Bを読み、下の問い(問1～6)に答えよ。(配点 18)

A 11世紀の後半、陸奥国においては、国司と豪族 **ア** 氏との対立が激しくなり、ついに戦乱となった。この戦乱を経て、出羽国の豪族清原氏の勢力が奥羽地方において強大化した。そののち、清原氏一族に内紛が生じ、㉑再び戦乱が起こったが、藤原(清原)清衡が勝利した。

清衡は、当時奥羽地方の要衝とされていた **イ** に館を置き本拠地とした。この **イ** は、特産の金や馬、それに北方との交易から得た富などを背景に、京都の文化が積極的に移入され、東日本随一の都市として繁栄した。特に ㉒中尊寺をはじめとする大伽藍はその偉容を誇った。

問1 空欄 **ア** **イ** に入る語句の組合せとして正しいものを、次の①～④のうちから一つ選べ。 **13**

- ① ア 安倍 イ 平泉
- ② ア 安倍 イ 福原
- ③ ア 大江 イ 平泉
- ④ ア 大江 イ 福原

問2 下線部㉑の戦乱の名称として正しいものを、次の①～④のうちから一つ選べ。 **14**

- ① 承平・天慶の乱
- ② 平忠常の乱
- ③ 後三年の役(合戦)
- ④ 霜月騒動

問 3 下線部⑤に関して述べた次の文X・Yについて、その正誤の組合せとして正しいものを、下の①～④のうちから一つ選べ。 15

X 中尊寺金色堂は、地方に伝わった浄土教の影響を強く受けた建築である。

Y 中尊寺金色堂と同じ建築様式をもつものとして、円覚寺舍利殿がある。

① X 正 Y 正

② X 正 Y 誤

③ X 誤 Y 正

④ X 誤 Y 誤

日本史B

B 室町幕府は、地方支配のため、鎌倉幕府以来の守護を置いたが、㉓その権限は、南北朝動乱の過程で、大幅に拡大されていった。守護はこれらの権限を利用して荘園や公領を侵略し、国人などの武士たちに分配して家臣化を進めた。また、従来の国衙の機能もしだいに守護のもとに吸収され、任国内に独自に **ウ** を賦課することもあった。守護のなかには、一族で複数の守護を占めるものもあり、領国支配を強めて大きな権力をもつ者も現れた。

しかし国人などの武士のなかには、自立的で、守護権力に対抗した者も多かった。幕府は、国人や古くからの足利氏家臣、守護の一族などを奉公衆という直轄軍に編成し、京都において将軍を護衛させる一方、諸国に散在する将軍直轄領である **エ** の管理をゆだね、守護の動向を牽制させた。

領国化を進めた守護のなかには、全国公権としての幕府が衰えたのち、㉔独自の統治機構をもつ戦国大名に成長する者がいたが、守護代や国人などに実権を奪われ、滅ぼされてしまう場合もあった。

問 4 空欄 **ウ** **エ** に入る語句の組合せとして正しいものを、次の①～④のうちから一つ選べ。 **16**

- ① ウ 分一銭 エ 関東御分国
- ② ウ 分一銭 エ 御料所
- ③ ウ 段 銭 エ 関東御分国
- ④ ウ 段 銭 エ 御料所

問 5 下線部㉓について、この時代の守護の権限や行ったこととして誤っているものを、次の①～④のうちから一つ選べ。 **17**

- ① 任国内の耕作地面積や収穫高などを把握するために指出検地を行うこと。
- ② 所領紛争などについて、幕府の裁判の判決を強制執行すること。
- ③ 田地をめぐる紛争で、一方的に作物を刈り取る実力行使を取り締まること。
- ④ 荘園や公領の年貢徴収を請け負うこと。

問 6 下線部㉑に関して、次の戦国大名 a～d について、南北朝時代以後、守護職を受け継いできた家の出身者として正しいものの組合せを、下の①～④のうちから一つ選べ。

18

a 北条早雲 b 武田信玄 c 今川義元 d 毛利元就

① a・b ② a・c ③ b・c ④ b・d

日本史B

第4問 近世の政治・経済に関する次の文章A・Bを読み、下の問い(問1～6)に答えよ。(史料は、一部省略したり、書き改めたりしたところもある。)(配点 17)

A 16世紀から17世紀にかけては日本国内の各地で鉱山開発が進み、①多くの銀が産出されるようになり、海外に輸出された。17世紀の半ばを過ぎるころには、銀の産出量は した。さらに、長崎へ来航する貿易船が増加したことも加わって、幕府は銀の輸出をしだいに するようになった。

このような貿易をめぐる状況の変化を受けて、従来は輸入していた産物について日本国内での生産を進める政策が実施された。たとえば、②対馬藩を通じて輸入していた朝鮮人参は、幕府が栽培を成功させ、諸藩にも栽培を奨励した。その結果、国内の需要にこたえるだけでなく、18世紀末以降、長崎を通じて中国に輸出されるまでになった。

問1 空欄 に入る語句の組合せとして正しいものを、次の①～④のうちから一つ選べ。

- | | | | |
|--------|------|--------|------|
| ① ア 増加 | イ 奨励 | ② ア 増加 | イ 制限 |
| ③ ア 減少 | イ 奨励 | ④ ア 減少 | イ 制限 |

問 2 下線部㉔に関連して、江戸時代の銀貨に関して述べた次の文Ⅰ～Ⅲについて、古いものから年代順に正しく配列したものを、下の①～④のうちから一つ選べ。 20

- Ⅰ 幕府が銀座を開設し、丁銀・豆板銀を鑄造させた。
- Ⅱ 外国人が銀貨を日本に持ち込み、多量の金貨を海外へ持ち出した。
- Ⅲ 金貨の単位で表された銀貨が、はじめて鑄造された。

- ① Ⅰ — Ⅱ — Ⅲ
- ② Ⅰ — Ⅲ — Ⅱ
- ③ Ⅱ — Ⅲ — Ⅰ
- ④ Ⅲ — Ⅰ — Ⅱ

問 3 下線部㉕に関連して述べた文として誤っているものを、次の①～④のうちから一つ選べ。 21

- ① 対馬藩は、己酉約条を結んで朝鮮貿易を独占した。
- ② 対馬藩は、釜山に置かれた倭館に貿易船を派遣した。
- ③ 幕府は、株仲間を解散して朝鮮人参座を設けさせた。
- ④ 幕府は、朝鮮人参とともに甘藷の普及にもつとめた。

日本史B

B 次の史料は、大蔵永常『広益国産考』の一節である。

情 国産の事を考ふるに、㉔国に其品なくして他国より求むるをふせぎ、多く作りて他国へ出し其価を我国へ取入れ、民を潤し国を賑す事肝要ならんかし。
扱、昔より今に冠たる産物は、㉕薩摩の砂糖、中国・土佐の紙、九州の蠟、
㉖畿内の綿、出羽の紅花、越後縮、奈良晒、京都の織ものは云ふも更なり、
(後略)

問 4 下線部㉔と同様の意図をもって実施された諸藩の政策について述べた文として正しいものを、次の①～④のうちから一つ選べ。 22

- ① 特産物の生産を奨励し、専売制を実施した。
- ② 綿花や菜種などの商品作物の栽培を制限した。
- ③ 城下町を建設し、商工業者を集住させた。
- ④ 百姓が他国に出稼ぎに行くことを制限した。

問 5 下線部㉕に関連して、江戸時代の薩摩藩に関して述べた次の文X～Zについて、その正誤の組合せとして正しいものを、下の①～④のうちから一つ選べ。
23

- X 奄美三島(奄美諸島)を支配して、砂糖を生産させた。
- Y 琉球を通じて中国との密貿易を行い、利益を得た。
- Z 生麦事件の報復にきたフランス艦隊と交戦した。

- ① X 正 Y 正 Z 誤
- ② X 正 Y 誤 Z 誤
- ③ X 誤 Y 正 Z 正
- ④ X 誤 Y 誤 Z 正

問 6 下線部㊸の綿と関連した近世の産業について述べた次の文X・Yと、その産物a～dとの組合せとして正しいものを、下の①～④のうちから一つ選べ。

24

X 九十九里浜で地引(曳)網により捕獲されて、綿作などの肥料に加工された。

Y 阿波国(徳島県)でさかんに栽培されて、木綿などの染料に加工された。

a にしん
鯨

b いわし
鰯

c あい
藍

d はげ
櫛

① X — a Y — c

② X — a Y — d

③ X — b Y — c

④ X — b Y — d

日本史B

第5問 明治前期の政治に関する次の文章を読み、下の問い(問1～4)に答えよ。

(配点 12)

憲法制定と国会開設を柱に立憲制の樹立を求めた自由民権運動は、1880年に入って急速な盛り上がりを見せる。この年3月に組織された **ア** は、11月、東京で開催した第2回大会において、翌年の大会までに憲法草案を作成して持ち寄ることを決定した。その結果、翌年までに多くの **㉔私擬憲法** が起草された。

自由民権運動の高揚に対して、政府は、1880年4月に **イ** を定めて弾圧を強化する一方、翌1881年10月には、1890年の国会開設を約した勅諭を發布して、危機を乗り切った。

ついで政府は、1885年、**㉑内閣制度** を創設し、翌年から憲法の起草に着手した。そうして1889年2月には **㉓大日本帝国憲法** を發布して、近代国家としての体制を整えた。

問1 空欄 **ア** **イ** に入る語句の組合せとして正しいものを、次の**①～④**のうちから一つ選べ。 **25**

- | | | | | |
|---|---|--------|---|------|
| ① | ア | 国会期成同盟 | イ | 集会条例 |
| ② | ア | 国会期成同盟 | イ | 保安条例 |
| ③ | ア | 愛国社 | イ | 集会条例 |
| ④ | ア | 愛国社 | イ | 保安条例 |

問 2 下線部㉔に関連して、次の文X・Yと、それに該当する語句a～dとの組合せとして正しいものを、下の①～④のうちから一つ選べ。 26

X この人物は、革命権や抵抗権を規定した憲法草案を起草した。

Y この草案は、地域の青年たちの学習活動から生まれた。

- | | |
|-------------------|-------------|
| a 中江兆民 | b 植木枝盛 |
| c 日本帝国憲法(五日市憲法草案) | d 民撰議院設立建白書 |

- | | |
|------------------|------------------|
| ① X — a Y — c | ② X — a Y — d |
| ③ X — b Y — c | ④ X — b Y — d |

問 3 下線部㉕について述べた文として誤っているものを、次の①～④のうちから一つ選べ。 27

- ① 内閣総理大臣と国務大臣の職が創設された。
- ② 国会開設にそなえて行政府の強化を意図した。
- ③ 伊藤博文が初代内閣総理大臣となった。
- ④ それまでの太政官制と併存することになった。

問 4 下線部㉖に関して述べた次の文X・Yについて、その正誤の組合せとして正しいものを、下の①～④のうちから一つ選べ。 28

X 憲法の起草作業は、法律顧問ロエスレルの助言も得て進められた。

Y 憲法は、国民の代表による会議の議決を経て発布された。

- | | |
|--------------|--------------|
| ① X 正 Y 正 | ② X 正 Y 誤 |
| ③ X 誤 Y 正 | ④ X 誤 Y 誤 |

日本史B

第6問 日本の憲政史上、もっとも長期にわたって衆議院議員をつとめた尾崎行雄に関する次の文章A～Cを読み、下の問い(問1～8)に答えよ。(史料は、一部省略したり、書き改めたりしたところもある。)(配点 23)

A 尾崎行雄(1858～1954)は第1回総選挙に当選して以来、1952年の第25回総選挙まで連続して当選を果たし、その生涯の多くを衆議院議員として生きた。明治～大正初期の尾崎は藩閥政府批判に活躍し、では内閣打倒に大きな役割を果たした。

1919年に①第一次世界大戦で疲弊したヨーロッパを視察した尾崎は、現代の戦争がもたらす惨禍の深刻さに驚き、将来の戦争を防止するために軍備縮小の実行を主張するようになった。しかし尾崎が1921年2月の議会に提出した軍縮決議案は、議員たちの理解を得ることができず、圧倒的票差で否決された。

ところが、同年7月にアメリカ政府がの開催を提起すると、日本政府はこれに参加することを決定し、翌1922年には海軍軍縮条約が締結された。以後、軍縮への動きは大きな流れとなり、1930年には②2度目の海軍軍縮も実施されることになった。この間を通じて尾崎は軍縮の必要を説き続け、日本を代表する軍縮論者として知られるようになった。

問1 空欄 に入る語句の組合せとして正しいものを、次の①～④のうちから一つ選べ。

- | | |
|--------------|-----------|
| ① ア 大正政変 | イ パリ講和会議 |
| ② ア 大正政変 | イ ワシントン会議 |
| ③ ア 明治十四年の政変 | イ パリ講和会議 |
| ④ ア 明治十四年の政変 | イ ワシントン会議 |

問 2 下線部②の時期の日本外交に関して述べた次の文Ⅰ～Ⅲについて、古いものから年代順に正しく配列したものを、下の①～④のうちから一つ選べ。

30

- Ⅰ シベリア出兵を行った。
- Ⅱ 中国政府に二十一カ条の要求を行った。
- Ⅲ 日英同盟を理由にドイツに宣戦布告した。

- ① Ⅰ — Ⅱ — Ⅲ
- ② Ⅱ — Ⅲ — Ⅰ
- ③ Ⅲ — Ⅰ — Ⅱ
- ④ Ⅲ — Ⅱ — Ⅰ

問 3 下線部⑤について述べた次の文X・Yについて、その正誤の組合せとして正しいものを、下の①～④のうちから一つ選べ。

31

- X 条約は若槻礼次郎内閣の時に調印された。
- Y 条約の批准をめぐって統帥権干犯問題が起こった。

- ① X 正 Y 正
- ② X 正 Y 誤
- ③ X 誤 Y 正
- ④ X 誤 Y 誤

日本史B

B 1930年代に入ると、日本は戦争への道を歩むようになる。次の史料は、1933年、尾崎行雄が当時の情勢を憂えて発表した文章の一部である。

紀律が乱れて、軍人が長上(注1)に反抗したり、政治に干渉したり、長上の命令を受けずして専恣(注2)の振舞をなすようになっては、皇室のためにも、又人民のためにも、軍隊ほど危険なものはない。㊦内にあっては徒党を結んで、陛下最高の職司を虐殺し、外に於ては勅命をも請わずして全世界を敵に取るべき軍事行動を開始す。是みな軍人の所業にして、規律の頽廃(注3)に是より甚しきはない。(中略)かくの如くにしてやまずんば、内憂外患も到って国家は遂に滅亡するよりほかはなかろう。然るに、全国官民は声色を励まして軍人の横暴を叱責する事の代わりに、却って諛辞(注4)「諂言」(注3)、徒らに之に追従し、之を煽動し、遂に帝国をして進退維谷(注4)の窮地に陥らしめんとして居る。実に長嘆大息すべきである。

(『尾崎罌堂全集』第8巻)

(注1) 「長上」=上位の者

(注2) 「専恣」=わがまま、ほしいまま

(注3) 「諛辞」「諂言」=へつらいのことば

(注4) 「進退維谷」=進むことも退くこともできず困り果てること

問4 下線部㊦に関連して、1930年代の軍部の行動に関して述べた次の文I～IIIについて、古いものから年代順に正しく配列したものを、下の①～④のうちから一つ選べ。 32

I 関東軍が、柳条湖で満鉄の線路を爆破した。

II 陸軍の青年将校らが、部隊を率いて政府要人や重要施設を襲撃した。

III 海軍の青年将校らが、犬養毅首相を射殺した。

① I — II — III

② I — III — II

③ II — III — I

④ III — II — I

問 5 この史料に関して述べた文として誤っているものを、次の①～④のうちから一つ選べ。 33

- ① 尾崎は、当時の軍部の行動を、紀律(規律)の頹廢を示すものとみていた。
- ② 尾崎は、当時の軍部を、国家を滅亡に導きかねない危険な存在とみなしていた。
- ③ 尾崎は、軍部の政治への干渉をやむをえないものとみなしていた。
- ④ 尾崎は、官民こぞって軍部を支持している状況を嘆いていた。

日本史B

C 太平洋戦争が開始されると、政治・社会に対する統制はさらに強まった。1942年の翼賛選挙では、軍部に批判的な尾崎は非推薦で立候補し、当選したとはいえず、かつてなく苦しい選挙活動を強いられた。このような選挙を実施した東条内閣も、1944年の **ウ** をきっかけに総辞職し、日本の敗戦は不可避となっていった。

1945年に戦争が終結すると、尾崎は平和実現の根本策として①「世界連邦」の建設を提唱するなど、二度と戦争が起きない世界を作らねばならないと主張した。また日本国憲法の平和主義を高く評価しつつ、日本人は自らが「真の平和愛好者であることを、実践を通して説明」する必要があると述べた。しかしこうした尾崎の理想主義的平和主義は、東西冷戦が激化し、1950年に **エ** が勃発するという国際政治の現実のなかで、大きく揺らぐこととなる。

明治・大正・昭和を議会人として生きた尾崎は、1954年に死去した。その翌年には「55年体制」とよばれる戦後の政治体制が成立し、そのもとで日本は②高度経済成長の時代を迎えることになる。

問 6 空欄 **ウ** **エ** に入る語句の組合せとして正しいものを、次の①～④のうちから一つ選べ。 **34**

- ① ウ ミッドウェー海戦の敗北 エ ヴェトナム戦争
- ② ウ ミッドウェー海戦の敗北 エ 朝鮮戦争
- ③ ウ 米軍によるサイパン島占領 エ ヴェトナム戦争
- ④ ウ 米軍によるサイパン島占領 エ 朝鮮戦争

問 7 下線部①に関連して、20世紀に成立した国際機構について述べた文として誤っているものを、次の①～④のうちから一つ選べ。 **35**

- ① 国際連盟はアメリカ大統領の提唱で設立された。
- ② 日本は国際連盟の常任理事国であった。
- ③ 日本の敗戦後、国際連合の設立準備がはじまった。
- ④ 日本の国際連合加盟は、日ソ国交回復後に実現した。

問 8 下線部㉔に関連して述べた次の文 a～d について、1960 年代に起こった出来事として正しいものの組合せを、下の①～④のうちから一つ選べ。

36

- a 自衛隊が発足し、防衛庁が設置された。
- b 公明党が結成された。
- c 為替相場が変動相場制に移行した。
- d 東海道新幹線が開通した。

- ① a・c ② a・d ③ b・c ④ b・d