

平成 30 年度

社 会

注 意


- 1 問題は 1 ページから 6 ページまであり、これとは別に解答用紙が 1 枚ある。
- 2 解答は、全て別紙解答用紙の該当欄に書き入れること。

(一) 次の資料は、我が国のできごとを年代の古い順に上から並べたものである。これを読んで、1～7の問いに答えなさい。

- ① 中大兄皇子が、即位して [①] 天皇となった。
- ② 藤原頼通が関白となり、政治の実権をにぎった。
- ③ 後鳥羽上皇が鎌倉幕府をたおそうとして兵を挙げ、③ 承久の乱が始まった。
- ④ 足利義満が、南北朝を統一し、④ 室町幕府の全盛期を築いた。
- ⑤ 豊臣秀吉が、北条氏をほろぼし、奥州を平定して、天下を統一した。
- ⑥ 江戸幕府は、大名を支配するための法律として、⑥ 武家諸法度を定めた。
- ⑦ 徳川家光が、参勤交代の制度を定めた。

1 ①には、全国の戸籍をつくるなど、政治の改革を進めた天皇の名が当てはまる。①に当てはまる天皇の名を書け。

2 右の資料は、②が政治を行った頃に建てられた建築物が題材となった切手の写真である。この建築物は、[] と呼ばれている。[] に当てはまる言葉として適当なものを、ア～エから一つ選び、その記号を書け。



- ア 平等院鳳凰堂 イ 東大寺大仏殿
- ウ 法隆寺金堂 エ 中尊寺金色堂

3 次の表は、③をきっかけに安芸国(現在の広島県)で新たに地頭に任命された一族とその出身地を表した表の一部であり、次の会話文は、直子さん、健太さんと先生が、この表を見ながら話をしたときのものである。文中の [] に適当な言葉を書き入れて文を完成させよ。ただし、[] には、東日本、西日本、鎌倉幕府、支配方の四つの言葉を含めること。

直子さん： ③の結果、鎌倉幕府の勢いは、どのようになったのでしょうか。

健太さん： 表を見ると、[] ことが分かります。

先生： 敵対した武士から土地を取り上げ、御家人を地頭に任命したので、そうなったのです。

一族	出身地(現在の都県名)
香川氏	相模国(神奈川県)
小早川氏	相模国(神奈川県)
熊谷氏	武蔵国(東京都・埼玉県)
金子氏	武蔵国(東京都・埼玉県)

(広島県史ほかによる)

4 ④が行った貿易について述べた次の文の a、b の () の中から適当なものを、それぞれ一つずつ選び、その記号を書け。

④は、a (ア 茶 イ 絹) が倭寇の取りしまりを求めたので、正式な貿易船に、倭寇と区別するための証明書である b (ウ 勘合 エ 朱印状) を持たせて、朝貢の形式の貿易を行った。

5 ⑤が政治を行った頃、桃山文化が栄えた。この文化が栄えた頃に起こったできごととして適当なものを、ア～エから一つ選び、その記号を書け。

- ア 千利休がわび茶の作法を完成させた。
- イ 小堀一茶が農民の生活を題材に俳句をよんだ。
- ウ 雪舟が我が国の水墨画を確立した。
- エ 近松門左衛門が人形浄瑠璃の脚本を書いた。

6 江戸幕府は、⑥のほか、朝廷の動きを制限するために、禁中並 [] 諸法度と呼ばれる法律を定めた。[] に当てはまる最も適当な言葉を書け。

7 ⑦が政治を行った頃より後に起こった、次のア～エのできごとを年代の古い順に左から並べ、その記号を書け。

- ア 大阪町奉行所の元役人である大塩平八郎が、乱を起こした。
- イ 徳川吉宗が、享保の改革を行い、財政の立て直しを図った。
- ウ 徳川綱吉が、儒学などの学問を重んじる政治を行った。
- エ 浅間山の噴火が起こり、天明のききんによる被害が広がった。

(二) 右の略年表を見て、1～7の問いに答えなさい。

- 略年表中の①に対して、朝廷は、天皇を中心とする政府をつくることを宣言した。この宣言は、一般に [] の大号令と呼ばれている。 [] に当てはまる最も適当な言葉を書け。
- 略年表中の②では、政府の改革に不満を持つ士族たちが、明治六年の政変で政府から離れていた [] をおし立てて政府軍と戦った。 [] に当てはまる人物の氏名を書け。
- 略年表中の③について、グラフ1とグラフ2は、それぞれ、我が国の、1882年と1899年のいずれかの年における、品目別の輸入額の割合と品目別の輸出額の割合を表したものである。グラフについて述べた次の文の a の { } の中から適当なものを一つ選び、その記号を書け。また、 [] b に適当な言葉を書き入れて文を完成させよ。ただし、bには、**綿糸** の言葉を含めること。

1899年のグラフに当たるものは、a {ア グラフ1
イ グラフ2} である。選んだグラフと、もう一方のグラフを比べると、選んだグラフでは [] b
ので、我が国で産業革命が進展したことが分かる。

年代	できごと
1860	徳川慶喜が①大政奉還を行う
1880	②西南戦争が起こる
1890	この頃、我が国で③産業革命が始まる
1900	④夏目漱石が小説「坊っちゃん」を発表する
1920	⑤四か国条約が結ばれる
1940	日中戦争が始まる 日本国憲法が公布される
1960	⑦キューバ危機が起こる

- 略年表中の④は、我が国の [] A の文化に大きな足跡を残した文学者の一人である。また、④が活躍した頃には、小説「舞姫」の作者として知られる [] B も活躍した。A, Bにそれぞれ当てはまる言葉の組み合わせとして適当なものを、ア～エから一つ選び、その記号を書け。

- ア (A 近世 B 森鷗外)
イ (A 近世 B 芥川龍之介)
ウ (A 近代 B 森鷗外)
エ (A 近代 B 芥川龍之介)

- 略年表中の⑤は、 [] 会議と呼ばれる国際会議において結ばれた。この国際会議では、⑤が結ばれたほか、海軍の軍備縮小などが決められた。 [] に当てはまる最も適当な言葉を書け。

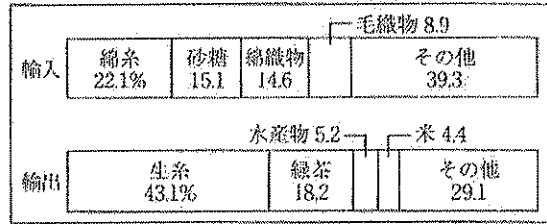
- 略年表中の⑥の期間に起こったできごととして適当なものを、ア～エから二つ選び、年代の古い順に左から並べ、その記号を書け。

- ア 五・一五事件が起こった。 イ ポツダム宣言が発表された。
ウ 国家総動員法が制定された。 エ 日本が国際連合に加盟した。

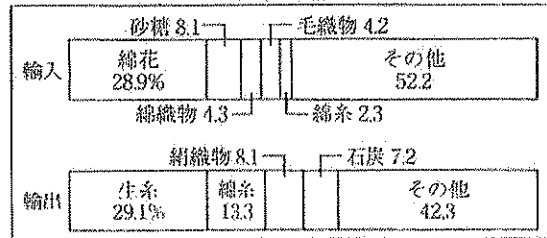
- 略年表中の⑦で革命が起こると、 [] X は、⑦にミサイル基地を建設した。これに対し、 [] Y は、⑦を海上封鎖し、戦争の危機が高まったが、 [] X がミサイルの撤去に同意したことで、戦争は回避された。X, Yにそれぞれ当てはまる国の名の組み合わせとして適当なものを、ア～エから一つ選び、その記号を書け。

- ア (X アメリカ Y 中華人民共和國) イ (X アメリカ Y ソ連)
ウ (X 中華人民共和國 Y アメリカ) エ (X ソ連 Y アメリカ)

グラフ1



グラフ2



(日本貿易統計ほかによる)

(三) 次の1～4の問いに答えなさい。

1 次のア～エは、社会科の授業で使われたカードである。バリアフリーについて説明するとき
に使うカードとして最も適当なものを、ア～エから一つ選び、その記号を書け。

ア	活発な経済活動を促進するために、政府が 様々な制限を緩めるという考え方	イ	自分の住む場所や就く職業を、自由に選ぶ 権利があるという考え方
ウ	障がいのある人や高齢者が使いやすい ように、施設を改善していくという考え方	エ	一定の年齢以上の全ての国民に、選挙権が 認められるという考え方

2 我が国における政治のしくみについて、(1)～(3)の問いに答えよ。

(1) 表1は、過去の国会の召集日などを、表2は、
過去の選挙の実施日を表したものであり、下の
文は、先生が表をもとに解説したものである。
文中の①の { } の中から適当なものを一つ選び、
その記号を書け。また、文中の [②] に適当
な言葉を書き入れて文を完成させよ。ただし、
②には、次の語群の二つの言葉の中から一つを選び、
その言葉と「30日」という言葉を含めること。

[語群] 衆議院 参議院

表1

	召集日	会期終了日
第157回国会	平成15年9月26日	平成15年10月10日
第158回国会	平成15年11月19日	平成15年11月27日
第159回国会	平成16年1月19日	平成16年6月16日

表2

	衆議院議員総選挙	参議院議員通常選挙
第42回	平成12年6月25日	第19回 平成13年7月29日
第43回	平成15年11月9日	第20回 平成15年7月11日

(注) 衆議院議員総選挙は解散によるものであり、
参議院議員通常選挙は任期満了によるものである。

表1の国会のうち、特別会に当たるのは、① {ア 第157回国会 イ 第158回国会
ウ 第159回国会} です。表を見ると、[②] ので、そのように判断できます。

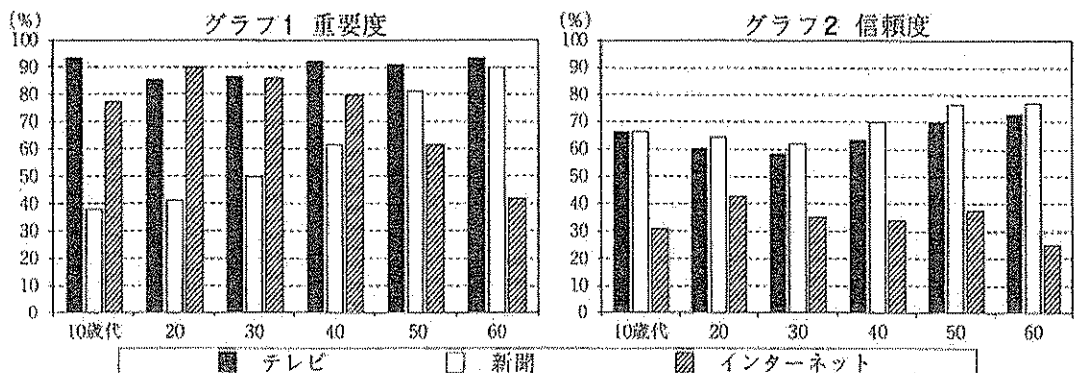
(2) 最高裁判所の裁判官が適任かどうかを、国民の投票によって [X] する制度は、一般に
国民 [X] と呼ばれている。Xに当てはまる最も適当な言葉を書け。

(3) 都道府県や市町村を単位として行われている地域の政治には、地域の住民が主体的に
関わるのが大切であると考えられている。このような考え方は、地方 [Y] と呼ばれており、
そのしくみは、地方 [Y] 法において定められている。Yに当てはまる適当な言葉を書け。

3 国際連合に関係する機関のうち、UNICEFは、[] に取り組んでいる。[] に当て
はまる言葉として最も適当なものを、ア～エから一つ選び、その記号を書け。

ア 子どもたちに対する教育の支援 イ 紛争地域における停戦の監視
ウ 裁判による国家間の争いの解決 エ 貿易摩擦の解消や貿易の活性化

4 グラフ1、2は、テレビ、新聞、インターネットの各メディアに対する国民の意識について、
総務省が2016年に調査した結果を示したものである。グラフから読み取れることを述べた文
として適当なものを、下のア～オから全て選び、その記号を書け。

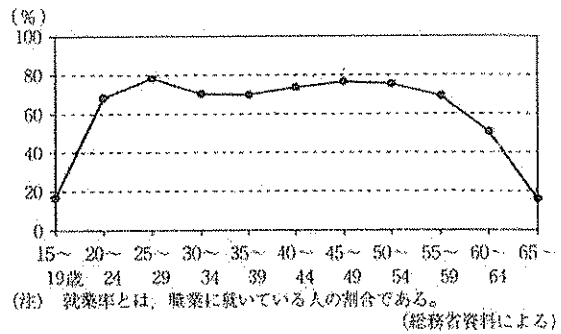


(注) 重要度は、各メディアについて、「情報源として非常に重要」「情報源としてある程度重要」と回答した人の割合であり、
信頼度は、各メディアについて、「情報源として非常に信頼できる」「情報源としてある程度信頼できる」と回答した人の
割合である。グラフは、重要度と信頼度を、それぞれ年齢層別に示したものである。(総務省資料による)


ア 40歳代と50歳代を比べると、インターネットの重要度は、50歳代の方が高い。
イ 10歳代では、新聞の重要度は、テレビの重要度の半分より低い。
ウ テレビと新聞を比べると、30歳代では、重要度と信頼度のいずれもテレビの方が高い。
エ 三つのメディアの信頼度を比べると、全年齢層で、インターネットの信頼度が最も低い。
オ 全年齢層を通して見ると、新聞の信頼度は、年齢層が上がるにつれて、高くなっている。

(四) 次の1～5の問いに答えなさい。

1 右のグラフは、2016年における、我が国の女性の、年齢別の就業率を表したものである。このグラフは、我が国において見られる、 という、女性が社会で働く上での問題点について説明するときに使われる。 に適当な言葉を書き入れて文を完成させよ。ただし、 には、**女性**、**育児** の二つの言葉を含めること。



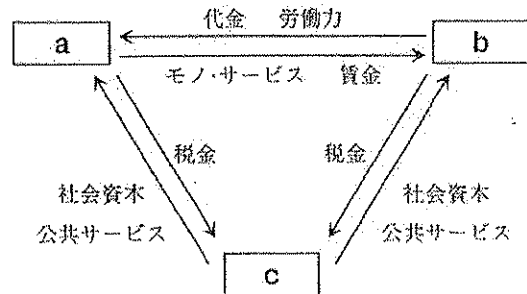
2 右のア～エのグラフは、それぞれ、2013年度における、日本、アメリカ、ドイツ、スウェーデンのいずれかの国の、社会保障の額が国民所得に占める割合と国民負担率とを表したものである。また、次の会話文は、直子さんと先生が、ア～エのグラフを見ながら話をしたときのものである。この会話文をもとに判断して、日本に当たるグラフとして適当なものを、ア～エから一つ選び、その記号を書け。



直子さん： グラフを見ると、アメリカは社会保障が薄いかわりに国民負担が軽く、スウェーデンは国民負担が重いかわりに社会保障が手厚いことが分かります。

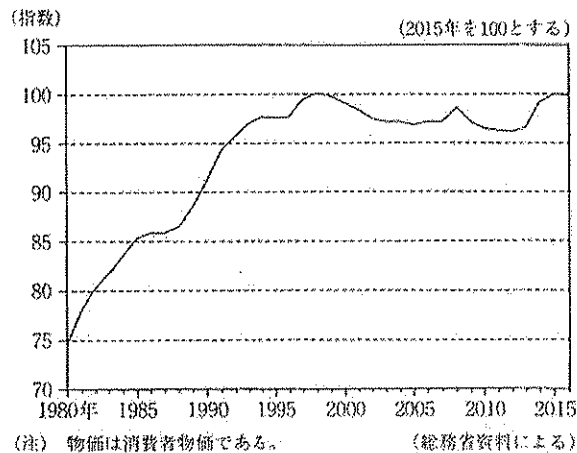
先生： 社会保障と国民負担の関係でいうと、日本とドイツは、アメリカとスウェーデンの間であり、日本はアメリカに、ドイツはスウェーデンに近いことも分かりますね。

3 右の図は、我が国の経済全体のしくみを模式的に表したものであり、図中のa～cは、それぞれ家計、企業、政府のいずれかに当たる。a～cにそれぞれ当たる言葉の組み合わせとして適当なものを、ア～エから一つ選び、その記号を書け。



- ア (a 家計 b 企業 c 政府)
- イ (a 家計 b 政府 c 企業)
- ウ (a 企業 b 政府 c 家計)
- エ (a 企業 b 家計 c 政府)

4 右のグラフは、1980年から2016年における、我が国の物価の推移を、2015年を100とする指数で表したものである。グラフについて述べた次の文の①の{ }の中から適当なもの一つを選び、その記号を書け。また、②に当てはまる最も適当な言葉を書け。



1998年から2005年にかけて、持続的な① {ア 物価上昇 イ 物価下落} が起こっている。不景気のときに起こりやすいこの現象は、一般に② と呼ばれている。

5 X の加盟国のうちの多くの国は、 X の共通通貨であるユーロを導入している。Xに当てはまる地域統合のための組織の名称を書け。

(五) 次の1～4の問いに答えなさい。

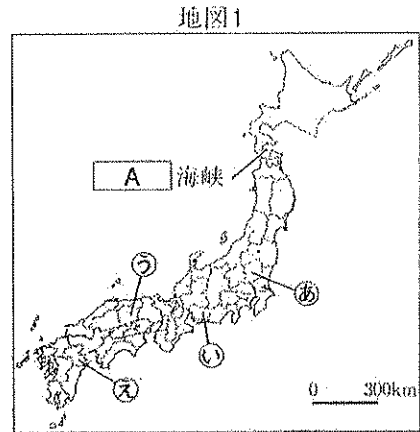
1 地図1を見て、(1)、(2)の問いに答えよ。

(1) 北海道地方と東北地方は、地図1中の 海峡でへだてられている。Aに当てはまる海峡の名を書け。

(2) 右の表は、2015年度の、
地図1中の㉔～㉚のそれぞれの県と東京との間の人の移動における、航空機、バス、鉄道の三つの交通機関の利用の割合を表したものであり、表中のa～dは、それぞれ㉔～㉚のいずれかに当たる。bに当たる県を、㉔～㉚から一つ選び、その記号と県名を書け。

	航空機	バス	鉄道
a	95.9	0.0	4.1
b	35.8	5.0	59.2
c	1.1	6.9	92.0
d	0.0	5.7	94.3

(国土交通省資料による)

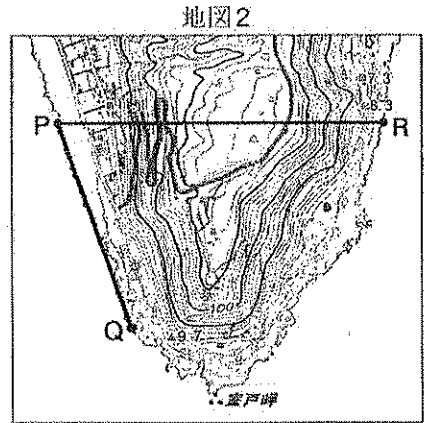
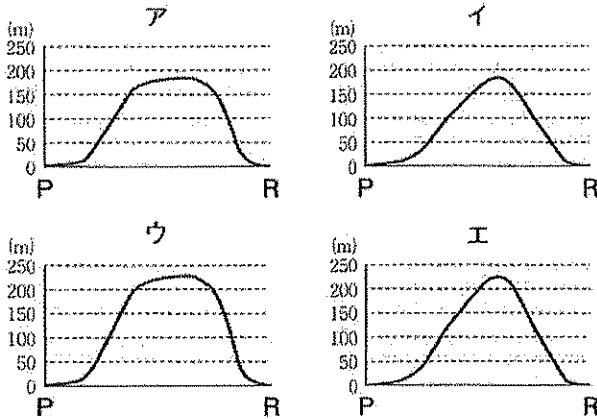


2 地図2は、縮尺が2万5千分の1の地形図である。これを見て、(1)、(2)の問いに答えよ。

(1) P Q間の地形図上の直線距離は約3cmなので、その実際の直線距離は約 mである。
 に当てはまる数値として最も適当なものを、ア～エから一つ選び、その記号を書け。

ア 75 イ 150 ウ 750 エ 1500

(2) 地形図中のP R間の断面図を模式的に表したものとして最も適当なものを、ア～エから一つ選び、その記号を書け。

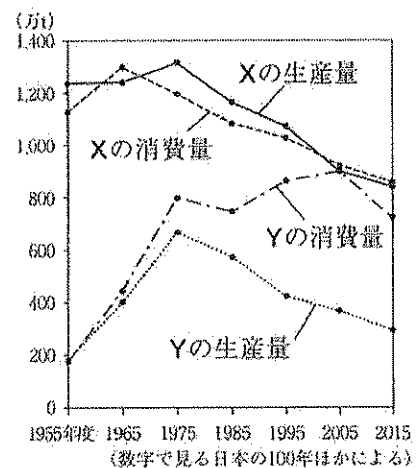


(国土地理院平成29年発行の地形図による)

3 右のグラフは、我が国の、1955年度から2015年度における、農産物の生産量と消費量の推移を表したものであり、グラフ中のX、Yは、それぞれ、米、小麦、果実のうち、いずれかの農産物に当たる。X、Yに当たる農産物の組み合わせとして適当なものを、ア～エから一つ選び、その記号を書け。

ア {X 米 Y 小麦} イ {X 米 Y 果実}
ウ {X 小麦 Y 米} エ {X 果実 Y 米}

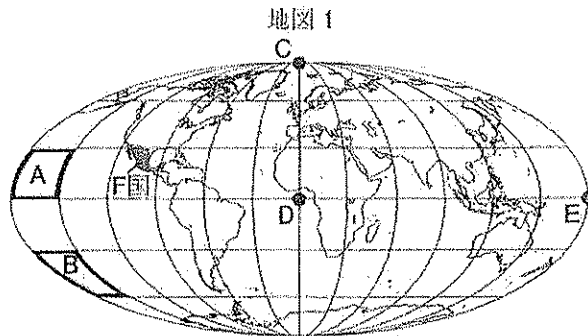
4 我が国の工業地域は、形成される場所が移り変わってきた。その移り変わりについてまとめた次の表の に適当な文を書き入れて表を完成させよ。ただし、Zには、**臨海部**、**内陸部**、**原料**、**高速道路** の四つの言葉を用いること。



形成された時期	工業地域の例	形成される場所の移り変わり
第二次世界大戦後～ 高度経済成長期	瀬戸内工業地域 東海工業地域	<input type="text" value="Z"/>
1970年代以降	北関東工業地域	

(六) 次の1～3の問いに答えなさい。

1 地図1は面積が正しい地図であり、緯線と経線は、それぞれ30度ごとにかかれています。地図1をもとにして述べた文として最も適当なものを、ア～エから一つ選び、その記号を書け。



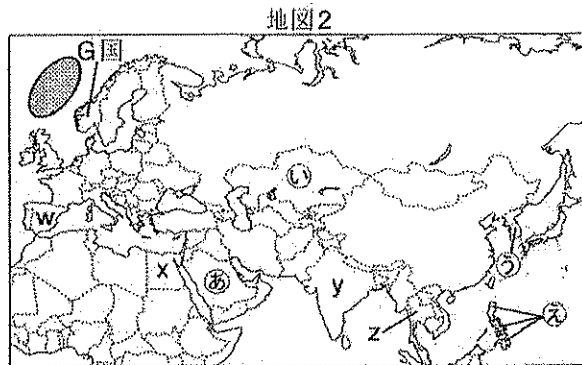
ア アフリカ大陸の実際の面積とオーストラリア大陸の実際の面積を比較すると、アフリカ大陸の方が小さい。

イ 太線で囲まれた、区域Aと区域Bの、地球儀上での面積を比較すると、両者は等しい。

ウ 地球儀上での、CD間の距離とDE間の距離を比較すると、ほぼ同じである。

エ F国の人口が日本の人口とほぼ同じとき、両国の人口密度を比較すると、日本の方が高い。

2 地図2を見て、(1)～(4)の問いに答えよ。



(1) 地図2中の㉔～㉚のうち、西アジアに属する国として適当なものを一つ選び、その記号と国の名を書け。

(2) 右の表は、地図2中のw～zの国々の、それぞれの宗教別の人口の割合を表したものである。表中のⅠ～Ⅳにそれぞれ当てはまる宗教の組み合わせとして適当なものを、ア～エから一つ選び、その記号を書け。

国	宗教別の人口の割合 (%)		
w	Ⅰ	68	その他 32
x	Ⅱ	90	その他 10
y	Ⅲ	80	Ⅱ 14 その他 6
z	Ⅳ	95	Ⅱ 4 その他 1

(2017-18年版 世界国勢協会ほかによる)

- ア {Ⅰ キリスト教 Ⅱ ヒンドゥー教 Ⅲ イスラム教 Ⅳ 仏教 }
 イ {Ⅰ キリスト教 Ⅱ イスラム教 Ⅲ ヒンドゥー教 Ⅳ 仏教 }
 ウ {Ⅰ イスラム教 Ⅱ キリスト教 Ⅲ 仏教 Ⅳ ヒンドゥー教 }
 エ {Ⅰ イスラム教 Ⅱ ヒンドゥー教 Ⅲ 仏教 Ⅳ キリスト教 }

(3) 地図2中のG国には、氷河地形が見られ、氷河の侵食によって作られた谷に海水が入り込んでできた、細く奥行きのある湾が数多くある。このような湾は、一般に と呼ばれている。 に当てはまる地形の名称を書け。

(4) 地図2中の㉞印で示した海域は、 の北東部に位置し、世界の三大漁場の一つとされる漁場に含まれる。 に当てはまる言葉として適当なものを、ア～エから一つ選び、その記号を書け。

- ア 大西洋 イ 太平洋 ウ 地中海 エ 東シナ海

3 資料1は、2014年における、金鉱の生産量が多い国と日本の、金鉱の生産量を表したものであり、資料2は、2020年に開催される東京オリンピック・パラリンピックに関するパンフレットをもとに、健太さんが作ったものである。また、次の会話は、直子さん、健太さんと先生が、資料を見ながら話をしたときのものである。文中の に適当な言葉を書き入れて文を完成させよ。ただし、 には、**家電製品** の言葉を含めること。

直子さん： 資料1を見ると、日本では、外国と比べて金鉱の生産量が少ないようですが、資料2の計画は可能なのでしょうか。
 健太さん： この計画では、鉱山から新たに採掘された金鉱に頼るのではなく、 した金を使ってメダルをつくらうとしているのです。
 先生： そのとおりです。

資料1

国	生産量(t)
中国	430
オーストラリア	274
ロシア	247
日本	?

(2017-18年版 世界国勢協会による)

資料2

都市鉱山からつくる！
 TOKYO 2020
 みんなの
 金メダルづくり
 大作戦