

平成 30 年 度

群馬県公立高等学校

入学者選抜学力検査問題

社 会

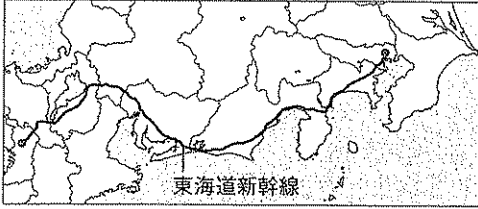
(後期選抜)

— 注 意 事 項 —


- 1 「始めなさい。」の指示があるまで、問題用紙を開かないこと。
- 2 解答は、すべて、解答用紙に記入すること。
- 3 「やめなさい。」の指示があったら、直ちに筆記用具を置き、問題用紙と解答用紙の両方を机の上に置くこと。
- 4 問題は、1 ページから 7 ページまであります。
- 5 解答用紙の、小計の欄には何も書かないこと。

1 大介さんは、「日本の諸地域の学習のまとめ」として、東海道新幹線に関わる内容について発表した。次の図と資料は、そのときに使用したものの一部である。後の(1)～(5)の問いに答えなさい。

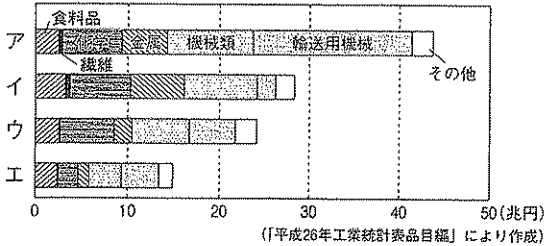
図




資料Ⅰ 東海道を描いた浮世絵



資料Ⅱ 工業地帯・工業地域の製造品出荷額



資料Ⅲ



(JR東海ホームページより)

(1) 大介さんは、東海道新幹線が通る都道府県を、次のように整理した。□A□ □B□に当てはまる都道府県名を、図を参考にして、それぞれ書きなさい。

東京都 → 神奈川県 → 静岡県 → □A□ → 岐阜県 → 滋賀県 → □B□ → 大阪府

(2) 大介さんは、東海道新幹線という名称が、江戸時代に整備された五街道の1つである東海道来由していることを発表した。次の①、②の問いに答えなさい。

① 五街道のうち、現在の群馬県と長野県との境にある碓氷峠を通るものを、次のア～エから選びなさい。

ア 奥州道中      イ 日光道中      ウ 甲州道中      エ 中山道

② 江戸時代の文化・文政期には、江戸において、歌川広重による資料Ⅰのような浮世絵が流行したり、十返舎一九による『東海道中膝栗毛』が評判となったりした。この時期に発展した文化がどのようになっていったか、五街道などの交通路の整備に着目して、簡潔に書きなさい。

(3) 東海道新幹線の開通と最も近い時期に日本であったできごとを、次のア～エから選びなさい。

ア テレビ放送が始まった。      イ ラジオ放送が始まった。  
ウ 東京でオリンピックが行われた。      エ 大阪で日本万国博覧会が行われた。

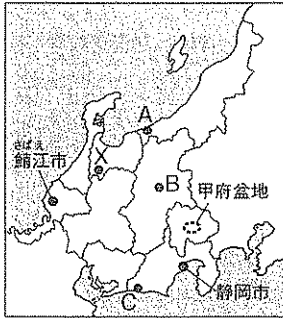
(4) 大介さんは、東海道新幹線の沿線にある工業地帯や工業地域について調べ、発表した。資料Ⅱのア～エは、京浜工業地帯、東海工業地域、中京工業地帯、阪神工業地帯のいずれかの製造品出荷額を示している。中京工業地帯に当たるものを、ア～エから選びなさい。

(5) 大介さんは、資料Ⅲの写真を示して、次のように発表した。文中の□C□ □D□に当てはまる語を、それぞれ書きなさい。

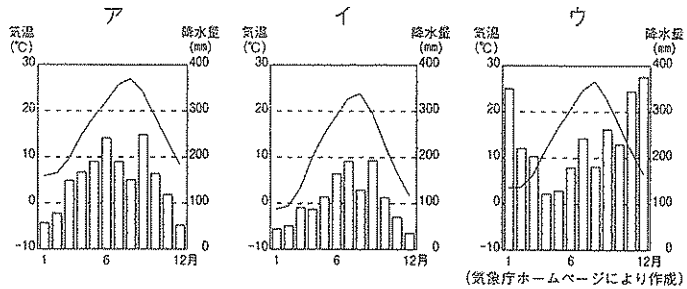
東海道新幹線の沿線の一部で見られる防音壁は、沿線住民が良好な□C□を求める権利である□C□権を主張するようになり、設置されました。近年では、新幹線の敷設のような大規模な事業を行うときは、事前に周辺地域への影響を調査する制度として□D□が行われるようになりました。

2 恵さんは、中部地方について調べたことをまとめ、発表した。次の図と資料は、そのときに使用したものの一部である。後の(1)～(4)の問いに答えなさい。

図



資料Ⅰ



(1) 資料Ⅰのア～ウは、図中のA～Cのいずれかの都市の気温と降水量のグラフである。Bの都市に当たるものを、ア～ウから選びなさい。

(2) 資料Ⅱは、甲府盆地の一部を示した地形図である。これに関して、次の①、②の問いに答えなさい。

① この地域は、川が山間部から平野や盆地に出たところに、土砂がたまってできた地形となっている。このような地形を何というか、書きなさい。

② 資料Ⅱから読み取れる内容として最も適切なものを、次のア～エから選びなさい。

ア 金川に沿って水力発電所が見られる。

イ 緩やかな斜面が果樹園に利用されている。

ウ 金川は北西から南東に向かって流れている。

エ 地形図上のPQ間の長さは直線で4cmなので、実際の距離は2kmである。



(国土地理院2万5千分の1地形図「石和」2006年発行により作成)

(3) 恵さんは、資料Ⅲの写真を示して、次のように発表した。文中の□D、□Eに当てはまる文を、それぞれ書きなさい。

資料Ⅲは、図中のXの地域で見られる伝統的な建築物です。この地域では、□Dという気候の特徴があるため、資料Ⅲのように、屋根の形に工夫が見られます。このような気候の地域では、農家の副業としてさまざまな地場産業が生まれました。その1つが、鯖江市の眼鏡フレーム製造業です。鯖江市の眼鏡フレームは、国内生産の9割を占めますが、中国などで□Eという利点を生かして生産された、価格の低い商品との競争が激しくなっています。

資料Ⅲ



(南砺市観光協会ホームページより)

(4) 恵さんは、静岡市が公開している防災情報を利用して、津波により浸水が想定される区域を表した資料Ⅳを作成した。津波が発生する危険が生じた際に住民の安全確保に役立つものとするためには、資料Ⅳの地図に、どのような情報を加えるとよいか、簡潔に書きなさい。

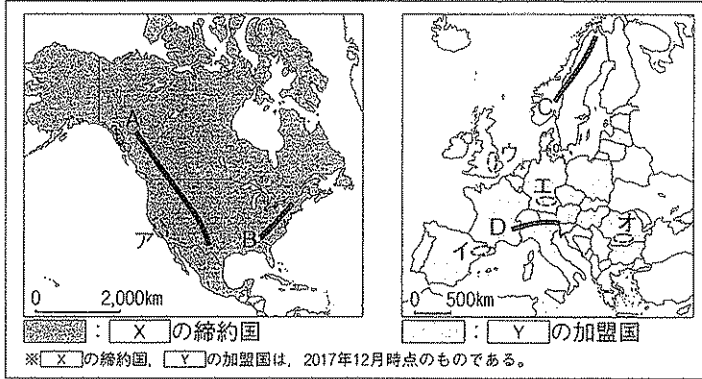
資料Ⅳ



(静岡市ホームページにより作成)

3 進さんは、北アメリカとヨーロッパについて調べたことをまとめ、発表した。次の図と資料は、そのときに使用したものの一部である。後の(1)～(3)の問いに答えなさい。

図



資料 I

夏は、高温で乾燥するため、かんきつ類などの果樹栽培が行われている。一方、冬は、雨が多いため、小麦などを栽培する農業が行われている。

資料 II X の締約国 3 か国における貿易相手国と貿易額の割合 (%) (2015年)

| アメリカ      |           | カナダ       |           | メキシコ      |           |
|-----------|-----------|-----------|-----------|-----------|-----------|
| 輸出        | 輸入        | 輸出        | 輸入        | 輸出        | 輸入        |
| カナダ 18.6  | 中国 21.5   | アメリカ 76.7 | アメリカ 53.1 | アメリカ 81.2 | アメリカ 47.3 |
| メキシコ 15.7 | カナダ 13.2  | 中国 3.9    | 中国 12.2   | カナダ 2.8   | 中国 17.7   |
| 中国 7.7    | メキシコ 13.1 | イギリス 3.1  | メキシコ 5.8  | 中国 1.3    | 日本 4.4    |
| 日本 4.2    | 日本 5.8    | 日本 1.9    | ドイツ 3.2   | ブラジル 1.0  | 韓国 3.7    |
| イギリス 3.7  | ドイツ 5.5   | メキシコ 1.3  | 日本 2.8    | コロンビア 1.0 | ドイツ 3.5   |

Y の貿易額上位 3 か国における貿易相手国と貿易額の割合 (%) (2015年)

| ドイツ      |           | フランス     |           | イギリス      |          |
|----------|-----------|----------|-----------|-----------|----------|
| 輸出       | 輸入        | 輸出       | 輸入        | 輸出        | 輸入       |
| アメリカ 9.6 | オランダ 13.7 | ドイツ 15.9 | ドイツ 19.5  | アメリカ 14.6 | ドイツ 14.8 |
| フランス 8.6 | フランス 7.6  | スペイン 7.3 | ベルギー 10.7 | ドイツ 10.1  | 中国 9.8   |
| イギリス 7.5 | 中国 7.3    | アメリカ 7.2 | イタリア 7.7  | スイス 7.0   | アメリカ 9.2 |
| オランダ 6.6 | ベルギー 6.0  | イタリア 7.1 | オランダ 7.5  | 中国 6.0    | オランダ 7.5 |
| 中国 6.0   | イタリア 5.2  | イギリス 7.0 | スペイン 6.8  | フランス 5.9  | フランス 5.8 |

([世界国勢図会2017/18年版] により作成)

- 大地の動きが活発で、高くけわしい山脈を、図中のA～Dから2つ選びなさい。
- 資料 I は、図中のアの地域で行われている農業の特徴をまとめたものである。資料 I と同様の特徴が見られる地域を、図中のイ～オから選びなさい。
- 進さんは、図中の X、 Y におけるそれぞれの地域内でのつながりについて発表した。次の①～③の問いに答えなさい。

① 北アメリカの3か国が締結している協定の名称 X と、ヨーロッパの28か国が加盟している組織の名称 Y を、それぞれ書きなさい。


② 進さんは、図中の2つの地域における人々の移動について、次のように発表した。次の文中のあには当てはまる語を、いには当てはまる語句を、それぞれ書きなさい。

アメリカ合衆国は、多くの国や地域からの移民を受け入れています。特に、メキシコからの移民が多くなっています。メキシコからの移民のように、スペイン語を話す移民は、あと呼ばれています。一方、ヨーロッパでは、協定を結んだ国どうしの国境においていをなくしたため、人々の移動が活発に行われるようになりました。

③ 進さんは、 X、 Y が貿易の自由化を目的の1つとしていることを学習し、資料 II を用いて発表した。資料 II から読み取れる、 X、 Y に共通する貿易の特徴を、「関税」という語を用いて、簡潔に書きなさい。


4 誠さんは、歴史的に価値が高い建造物に関して調べたことをまとめ、発表した。次の資料と図は、そのときに使用したものの一部である。後の(1)～(6)の問いに答えなさい。

**資料Ⅰ 中尊寺金色堂**




11世紀後半、奥州藤原氏は、有力な武士どうしの争いをきっかけにした前九年合戦・後三年合戦を経て、力をもちました。そして、阿弥陀仏にすがって死後に極楽浄土へ生まれ変わることを願う浄土信仰から、中尊寺金色堂を建立しました。<sup>(a)</sup>  
また、金や馬などの産物を生かし、交易によって栄えました。<sup>(b)</sup>

**資料Ⅱ 復元された首里城正殿**



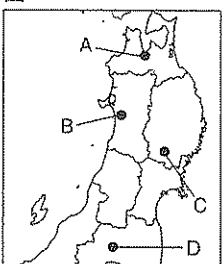
15世紀初め、中山の王になった尚氏は、琉球王国を建国し首里城を築きました。琉球は、中国や日本、朝鮮、東南アジアの国々との、貿易で栄えました。首里城正殿では、当時の中国から使節が迎えられ、琉球国王を任命する儀式が<sup>(c)</sup>行われました。

**資料Ⅲ 閑谷学校**

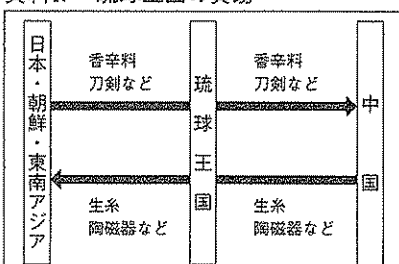


17世紀後半、岡山藩主の池田光政は、儒学の教えを藩政に取り入れ<sup>(d)</sup>ました。そして、庶民にも学問が必要だと考え、閑谷学校をつくりました。そのほかの地域でも、18世紀頃から、町人や百姓の間で教育がさかんになり、寺子屋が増え<sup>(e)</sup>ました。

**図**



**資料Ⅳ 琉球王国の貿易**



**資料Ⅴ 寺子屋での学習**

寺子屋では、往来物と呼ばれる教科書が使用されました。手紙文や日常用語を集めたものが多く、読む、書くなどの学習が中心でした。また、庶民の生活に関係した「商売往来」・「百姓往来」などの往来物も、多数作成されました。

- (1) 下線部(a)について、浄土信仰にもとづいて建立されたものを、次のア～エから選びなさい。
- ア 伊勢神宮    イ 唐招提寺    ウ 日光東照宮    エ 平等院鳳凰堂
- (2) 下線部(b)について、この建造物のある位置を、図中のA～Dから選びなさい。
- (3) 資料Ⅱのに当てはまる語を、資料Ⅳを参考にして、書きなさい。
- (4) 下線部(c)について、琉球国王は、当時の中国にみつぎ物を送ることで、国王としての地位を認めてもらっていた。このような関係を何というか、書きなさい。
- (5) 下線部(d)に関して、儒学の中でも、江戸幕府は朱子学を重視した。幕府が朱子学を重視した理由を、簡潔に書きなさい。
- (6) 下線部(e)について、町人や百姓が寺子屋で学ぶようになったのはどうしてか、資料Ⅴ、資料Ⅵを参考にして、簡潔に書きなさい。



5 健さんは、「明治以降の日本の貿易と国民生活の様子」というテーマで調べたことをまとめ、発表した。次の資料は、そのときに使用したものの一部である。後の(1)～(5)の問いに答えなさい。

資料Ⅰ

|    |        | おもな輸出品        | おもな輸入品  | 国民生活の様子                     |
|----|--------|---------------|---------|-----------------------------|
| 明治 | 1870年頃 | 生糸、茶<br>(a)   | 綿織物、毛織物 | 西洋文明の受容による生活様式の近代化          |
|    | 1900年頃 | 生糸、綿糸<br>(b)  | 綿花、砂糖   | 産業の発展による生活格差の拡大             |
| 大正 | 1930年頃 | 生糸、綿織物        | 綿花、石油   | 世界恐慌の影響による都市や農村での生活苦<br>(c) |
| 昭和 | 1960年頃 | 綿織物、機械        | 綿花、石油   | 高度経済成長による生活水準の向上<br>(d)     |
|    | 1990年頃 | 自動車、機械<br>(e) | 機械、石油   | バブル経済とその後の不況による生活の混迷        |

- (1) 下線部(a)に関して、健さんは、生糸と群馬県との関わりについて、次のように発表した。文中の「A」に当てはまる地名を書きなさい。


幕末の開国以降、現在の群馬県嬭恋村出身の中居屋重兵衛などの商人が、生糸の最大の輸出港であった「A」に進出し、生糸貿易でめざましい活躍をしました。

- (2) 下線部(b)について、この頃に綿糸がおもな輸出品となった理由を、資料Ⅱに着目して、簡潔に書きなさい。
- (3) 下線部(c)について、このできごと以降の日本の様子を述べたものを、次のア～エから選びなさい。
- ア まゆの価格が暴落し、養蚕業が衰退した。
- イ 日本で最初の社会主義政党が結成された。
- ウ 国会の開設を求める国会期成同盟が結成された。
- エ 米価の上昇に対する米騒動が、全国的に広がった。
- (4) 下線部(d)に関して、健さんは、資料Ⅲを用いて、次のように発表した。文中の「B」に当てはまる語を、漢字4字で書きなさい。

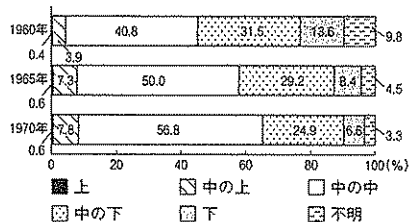
高度経済成長によって、家庭電化製品や自動車が広く普及すると、人々の生活水準が向上し、多くの人々が「B」をもつようになりました。

- (5) 下線部(e)について、1980年代のアメリカでは、資料Ⅳのような様子が見られた。この背景として、日本とアメリカの間には、どのような問題があったのか、資料Ⅴに着目して、簡潔に書きなさい。

資料Ⅱ 大阪の紡織工場の様子(1907年頃)



資料Ⅲ 国民の生活水準に関する意識

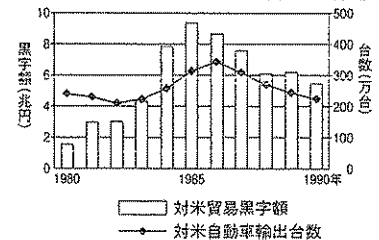


※「お宅の生活程度は、世間一般から見て、この中のどれにはいると思いますか。」という質問への回答。  
(内閣府「国民生活に関する世論調査」により作成)

資料Ⅳ 日本車を打ち壊すアメリカ人



資料Ⅴ 日本の対米貿易黒字額と対米自動車輸出台数の推移



(「日本長期統計総覧」などにより作成)

6 真奈さんのクラスでは、「私たちと経済」の学習において、企業見学を行い、見学内容について発表した。次の資料は、そのときに使用したものの一部である。後の(1)～(5)の問いに答えなさい。ポスター

見学先 【○○自動車△△工場】

●生産台数や従業員数について

- ・国内で年間約73万台の自動車を生産している。
- ・<sup>(a)</sup>見学した工場では4,000人以上の従業員が働いている。

●企業の  A  (CSR) <sup>(b)</sup>を果たすために

- ・交通安全教室を実施したり、小中学生の職場体験の受入れを行ったりする。
- ・雇用を守ったり、所得に応じて税金を負担したりする。<sup>(c)</sup>

●環境への配慮について

- ・すべての工場や事業所において3R <sup>(d)</sup>を実践し、循環型社会形成のための取組を行っている。
- ・自社で小規模水力発電所を設置するなど、省エネルギー対策を行っている。

資料Ⅰ

資料Ⅱ

| 工場の従業員数 (見学時) |         |
|---------------|---------|
| 正社員           | 約3,000人 |
| 期間従業員 (非正規)   | 約1,300人 |
| 合計            | 約4,300人 |

- (1)  A  に当てはまる語を書きなさい。
- (2) 下線部(a)に関して、資料Ⅰについての記述X、Yの正誤の組み合わせとして適切なものを、後のア～エから選びなさい。

X：国内生産台数のうち、70%以上が輸出されていることが読み取れる。

Y：海外生産台数は、総生産台数の3分の1を超えていることが読み取れる。

ア【X正 Y正】      イ【X正 Y誤】

ウ【X誤 Y正】      エ【X誤 Y誤】

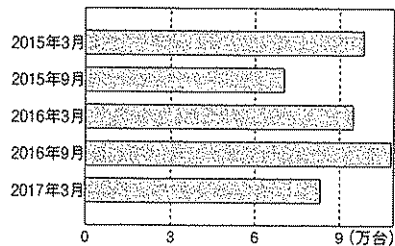
- (3) 下線部(b)に関して、資料Ⅱは工場の従業員数の内訳である。企業が、正社員のほかに非正規の期間従業員を雇用する理由を、資料Ⅲに着目して、簡潔に書きなさい。
- (4) 下線部(c)に関して、次の①、②の問いに答えなさい。

- ① 発表用メモの  B  に当てはまる語を書きなさい。
- ② 発表用メモの下線部について、間接税とはどのような税か、簡潔に書きなさい。

- (5) 下線部(d)に関して、真奈さんは見学した企業の3Rの取組について、さらに詳しく調べ、資料Ⅳにまとめた。資料Ⅳ中の  C  ～ E  には、企業の3Rの取組の例として次のア～ウのいずれかが入る。 C  と E  に当てはまるものを、ア～ウからそれぞれ選びなさい。

- ア 部品を運搬する際に使うプラスチック製容器を、繰り返し利用している。
- イ 製品の輸送時に使う段ボールを減らすなど、ごみの排出量を抑制している。
- ウ 自動車製造時の廃プラスチックを、固形燃料として再資源化(再生利用)している。

資料Ⅲ ○○自動車の国内生産台数の推移



発表用メモ

企業が納める税には、 B 税や消費税などがあります。企業の所得に応じて納める B 税は直接税で、モノやサービスの売上げに課される消費税は間接税です。

資料Ⅳ ○○自動車の3Rについて

| 用語    | 取組の例       |
|-------|------------|
| リデュース | <u> C </u> |
| リユース  | <u> D </u> |
| リサイクル | <u> E </u> |

7 美咲さんのクラスでは、公民的分野の学習の最後に、先生の説明にもとづいて、学習した内容をカードにまとめる活動を行った。後の(1)~(5)の問いに答えなさい。

先生の説明

公民的分野では、「よりよい決定の仕方とは、どのようなものだろうか」ということを考える中で、さまざまな決定の仕方があることを学習しました。これらの中から、多数決による決定の仕方の具体例を1つ選び、カードにまとめましょう。

美咲さんがまとめたカード

○日本国憲法の改正手続き  
日本国憲法第九十六条

この憲法の改正は、各議院の総議員の □ A □ の賛成で、国会が、これを発議し、国民に提案してその承認を 経なければならない。この承認には、特別の国民投票又は国会の定める選挙の際行はれる投票において、その □ B □ の賛成を必要とする。

大輝さんがまとめたカード

○国会議員の選び方  
衆議院

1つの選挙区で最多得票者が1人当選する小選挙区選挙と、各政党の得票数に応じて議席を配分する比例代表選挙の組み合わせ。

参議院

1つの選挙区で1人または数人が当選する選挙区選挙と、各政党の得票数に応じて議席を配分する比例代表選挙の組み合わせ。

愛さんがまとめたカード

○国際連合での議決  
総会

すべての加盟国が平等に1票をもち、通常は過半数で議決される。

安全保障理事会

常任理事国5か国(アメリカ、イギリス、中国、フランス、ロシア)と非常任理事国10か国が平等に1票をもつ。ただし、重要事項については、すべての常任理事国を含む9票以上で議決される。

(1) □ A □, □ B □ に当てはまる語の組み合わせとして適切なものを、次のア~エから選びなさい。

- ア A : 三分の二以上 B : 過半数      イ A : 三分の二以上 B : 三分の二以上  
ウ A : 過半数      B : 三分の二以上      エ A : 過半数      B : 過半数

(2) 下線部(a)に関して、資料Iは、先生が説明のときに示したものである。□ C □ に当てはまる文を書きなさい。

資料I 多数決の長所と短所

| 長所  | 短所  |
|---|---|
| <ul style="list-style-type: none"> <li>意見が反映される人の数が多い。</li> <li>一定時間内で決まる。</li> </ul> | <ul style="list-style-type: none"> <li>□ C □</li> </ul> |

(3) 下線部(b)について、憲法は、国会の議決だけではなく、最終的に国民投票が行われ、改正される。このような手続きをとることと、最も関わりのある日本国憲法の基本原理(原則)を、書きなさい。

資料II ある小選挙区での各候補者の得票数と結果

|        | 得票数     | 結果 |
|--------|---------|----|
| ○党のW候補 | 59,488票 | 当選 |
| □党のX候補 | 55,947票 | 落選 |
| △党のY候補 | 21,970票 | 落選 |
| ☆党のZ候補 | 15,424票 | 落選 |

(4) 下線部(c)に関して、大輝さんは小選挙区選挙の結果について調べていると、資料IIを見つけた。大輝さんがまとめたカードに書かれていること以外に、資料IIに見られる小選挙区選挙の特徴を、各候補者の得票数と結果に着目して、簡潔に書きなさい。

資料III 地域別国連加盟国数と安全保障理事会の常任理事国数(2017年11月現在)

| 地域    | 加盟国数 | 常任理事国数 |
|-------|------|--------|
| アジア   | 54か国 | 1か国    |
| アフリカ  | 54か国 | 0か国    |
| 中南米   | 33か国 | 0か国    |
| 西欧その他 | 29か国 | 3か国    |
| 東欧    | 23か国 | 1か国    |

(5) 下線部(d)に関して、次の①、②の問いに答えなさい。

- ① 安全保障理事会の議決に関して、常任理事国に与えられている特権を何というか、書きなさい。  
② 愛さんは、安全保障理事会について調べていると、資料IIIを見つけた。資料IIIから読み取れる、安全保障理事会の課題を、簡潔に書きなさい。

(外務省ホームページにより作成)