

平成30年度

大阪府学力検査問題
(一般入学者選抜)

社 会

注 意

1 「開始」の合図があるまで開いてはいけません。

2 答えは、すべて解答用紙に書きなさい。

答えとして記号を選ぶ問題は、下の【解答例】にならい、すべて解答用紙の記号を○で囲みなさい。また、答えを訂正するときは、もとの○をきれいに消しなさい。

【解答例】

ア	イ	ウ	エ
---	---	---	---

解答用紙の採点者記入欄には、何も書いてはいけません。

3 問題は、中の用紙のA面に1、B面に2、C面に3、D面に4があります。

4 「開始」の合図で、まず、解答用紙に受験番号を書きなさい。

5 「終了」の合図で、すぐ鉛筆を置きなさい。


1 Tさんのクラスは、班に分かれて農業にかかわることがらについて調べた。次の問いに答えなさい。

(1) Tさんの班は、農作物のうち、小麦や米にすることがらについて調べた。


① 図Iは、2014(平成26)年における、小麦の生産量の多い上位4か国を示したものである。図IIは、2014年における、米の生産量の多い上位4か国を示したものである。次のア～エのうち、A、Bに当たる国名の組み合わせとして最も適しているものはどれか。一つ選び、記号を○で囲みなさい。

- | | | |
|---|--------|-----------|
| ア | A 中国 | B オーストラリア |
| イ | A 中国 | B インド |
| ウ | A フランス | B オーストラリア |
| エ | A フランス | B インド |

図I 世界の小麦の総生産量に占める国別の生産量の割合



図II 世界の米の総生産量に占める国別の生産量の割合



(図I、図IIともに『世界国勢図会』2017/18年版により作成)

② エジプトでは古くから、国土を流れる大きな河川の定期的な氾濫によって運ばれてきた肥えた土を利用して、小麦の栽培などの農業を行っていた。次のア～エのうち、その流域でエジプト文明が発展した河川はどれか。一つ選び、記号を○で囲みなさい。

- ア ナイル川 イ メコン川 ウ ユーフラテス川 エ ラプラタ川

③ 稲作は、縄文時代末ごろから弥生時代にかけて、大陸からわが国に伝わり広まった。次の文は、わが国の稲作にかかわることがらについて述べたものである。

・大陸から稲作とともに金属器である **A** や **B** も伝えられた。金属器のうち **A** はおもに農具の刃先や武器、工具などに使用された。銅鐸や銅鏡などの **B** はおもに稲作に関する祭りなどに利用された。

・古代から近代にかけては、税として稲(米)を徴収する制度があった。7世紀から8世紀にかけて、班田収授によって戸籍にもとづき6歳以上の人々に与えられた土地は **C** と呼ばれた。**C** を与えられた人々は、収穫した稲(米)の約3%を租と呼ばれる税として納め、亡くなると **C** を国に返すことになっていた。

(a) 次のア～カのうち、文中の **A** , **B** に当てはまる語の組み合わせとして最も適しているものはどれか。一つ選び、記号を○で囲みなさい。

- | | | | | | |
|---|-------|-------|---|-------|-------|
| ア | A 須恵器 | B 青銅器 | イ | A 須恵器 | B 鉄器 |
| ウ | A 青銅器 | B 須恵器 | エ | A 青銅器 | B 鉄器 |
| オ | A 鉄器 | B 須恵器 | カ | A 鉄器 | B 青銅器 |

(b) 文中の **C** に当てはまる語を漢字3字で書きなさい。

(2) Sさんの班は、農作物の生産から消費までの過程にすることがらについて調べた。

① 農作物の生産は気候の影響を受け、南北に長く地域によって気候が異なるわが国では、さまざまな農作物が生産されている。次の文は、わが国の気候について述べたものである。文中の ㉓ [], ㉔ [] から適切なものをそれぞれ一つずつ選び、記号を○で囲みなさい。

わが国の気候を世界の気候帯に当てはめた場合、わが国の国土で最も広い面積を占める気候帯は ㉓ [ア 熱帯 イ 乾燥帯 ウ 温帯 エ 冷帯(亜寒帯)] であり、2番目に広い面積を占める気候帯は ㉔ [オ 熱帯 カ 乾燥帯 キ 温帯 ク 冷帯(亜寒帯)] である。

② 生産者によって生産された農作物が卸売業者や小売業者などをへて消費者のもとへ届く過程は一般に何と呼ばれているか。次のア～エのうち、最も適しているものを一つ選び、記号を○で囲みなさい。

- ア 寡占 イ 金融 ウ 貯蓄 エ 流通

③ 生産者によって生産された農作物は、一般に市場で取り引きされる。消費者は、市場において商品を買おうとするとき、市場での価格の変動による影響を受ける。

(a) 次の文は、市場での価格の変動について述べたものである。文中の㉔〔 〕, ㉕〔 〕から適切なものをそれぞれ一つずつ選び、記号を○で囲みなさい。

ある野菜が、市場において需要量と供給量が一致する価格で取り引きされていた。この野菜が天候不順で不作となった場合、需要量に変化がなければ、一般に需要量が供給量を㉔〔 ア 上回り イ 下回り 〕, 価格が㉕〔 ウ 上昇 エ 下落 〕すると考えられる。

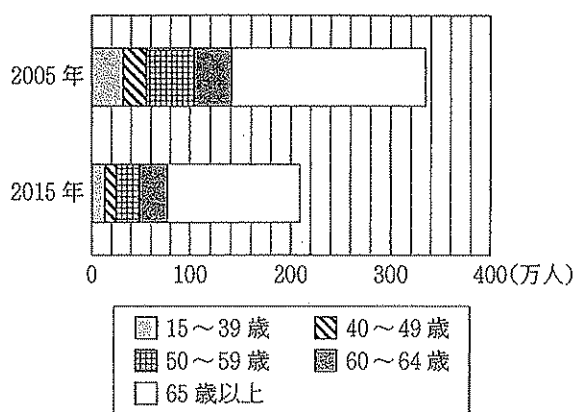
(b) 商品やサービスの取り引きなど、消費に広く課税される税として消費税がある。次の文は、税の種類について述べたものである。文中の〔 〕に入れるのに適している内容を、「負担」「異なる」の2語を用いて簡潔に書きなさい。

税は、国に納める国税と地方公共団体に納める地方税とに分けることができ、また、直接税と間接税とに分けることができる。消費税は、税を〔 〕ことから間接税に含まれる。

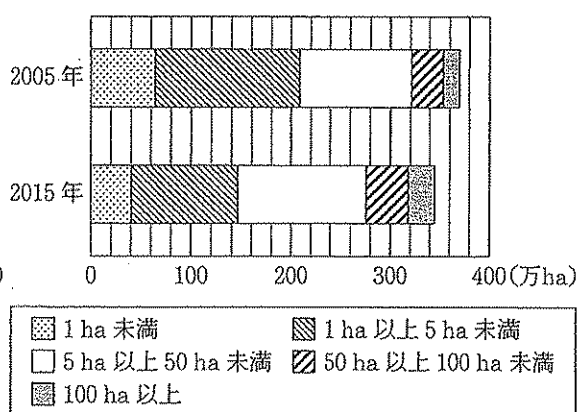
(c) 市場での商品の取り引きが公正に行われぬ場合、消費者にとって不利益になることがある。1962（昭和37）年、安全を求める権利（安全である権利）や知らされる権利（知る権利）など「消費者の四つの権利」を提示したアメリカ合衆国の大統領はだれか。人名を書きなさい。

(3) 食料の安定供給を確保し、農業の持続的発展を図っていくためには、生産を支える農業就業者や耕地の確保が課題となる。農業に興味を持ったFさんは、図書館で、農業就業人口と耕地面積について調べた。図Ⅲは、2005（平成17）年と2015（平成27）年におけるわが国の農業就業人口を年齢階層別に示したものである。図Ⅳは、2005年と2015年におけるわが国の耕地面積を経営耕地面積規模別に示したものである。経営耕地面積規模とは、農業を営む個人や組織が経営している耕地（経営耕地）の面積規模である。あとのP、Qの文は、図Ⅲ、図Ⅳから読み取れる内容についてFさんがまとめたものである。P、Qの内容について正誤を判定し、あとのア～エから適しているものを一つ選び、記号を○で囲みなさい。

図Ⅲ 年齢階層別の農業就業人口



図Ⅳ 経営耕地面積規模別の耕地面積



（図Ⅲ、図Ⅳともに農林水産省の資料により作成）

P 2005年と2015年とを比べると、農業就業人口の総数は2015年において100万人以上減少し、耕地面積の合計は2015年において40万ha以上減少している。

Q 2005年と2015年とを比べると、65歳以上の農業就業人口は2015年において40万人以上減少し、5ha以上50ha未満、50ha以上100ha未満、100ha以上の三つの経営耕地面積規模を合わせた耕地面積は2015年において20万ha以上減少している。

ア P、Qともに正しい。

イ Pは正しいが、Qは誤っている。

ウ Pは誤っているが、Qは正しい。

エ P、Qともに誤っている。

B 面

2 交通網の整備や通信網の発達により、人々の移動手段や移動時間は変化している。わが国の交通や通信にかかわる次の問いに答えなさい。

(1) わが国の国土は海に囲まれ、多くの島々から構成されており、それらを結ぶ手段としてトンネルや橋が整備されてきた。2018（平成30）年に、本州と北海道とを鉄道で結ぶ青函トンネルと、本州と四国とを鉄道と道路で結ぶ瀬戸大橋がともに開業 30 周年を迎える。

① 次の文は、日本の領域について述べたものである。文中の㉓〔 〕、㉔〔 〕から適切なものをそれぞれ一つずつ選び、記号を○で囲みなさい。

多くの島々から構成されているわが国の国土面積（領土面積）は、約 ㉓〔 ア 27 万 イ 38 万 〕 km^2 であり、わが国の ㉔〔 ウ 排他的経済水域（経済水域） エ 領海 〕の面積は、わが国の国土面積（領土面積）の 10 倍以上である。

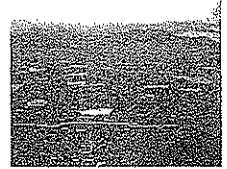
② 北海道ではおもに明治時代以降、本州から多くの人に移住し大規模な開拓が行われ、碁盤の目状の道路網がつくられた。次の文は、北海道の開拓について述べたものである。文中の ㉕〔 〕、㉖〔 〕に当てはまる語をそれぞれ書きなさい。

明治政府は、蝦夷地を北海道と改め、開拓使と呼ばれる役所を置いて開拓をすすめた。開拓当初は、開拓にあたりながら兵士の役割も果たす ㉕〔 〕が士族を中心に置かれ、1904（明治37）年に ㉖〔 〕条例が廃止されるまで ㉕〔 〕制度は続いた。現在の北海道に当たる地などに住み独自の文化をもつ ㉖〔 〕民族の人々は、開拓がすすむにつれて独自の文化を維持することが困難になっていった。札幌や稚内など現在の北海道の地名にも ㉖〔 〕語に由来するといわれているものが多くある。

③ 本州と四国とを結ぶ本州四国連絡橋には、神戸・鳴門ルート、児島・坂出ルート、尾道・今治ルートの三つのルートがあり、瀬戸大橋は児島・坂出ルートの一部である。

(a) 児島・坂出ルートのうち、瀬戸大橋は瀬戸内海にかかる六つの橋の総称であり、六つの橋のうちの一つがA県と香川県の県境になっている。A県の県名を書きなさい。

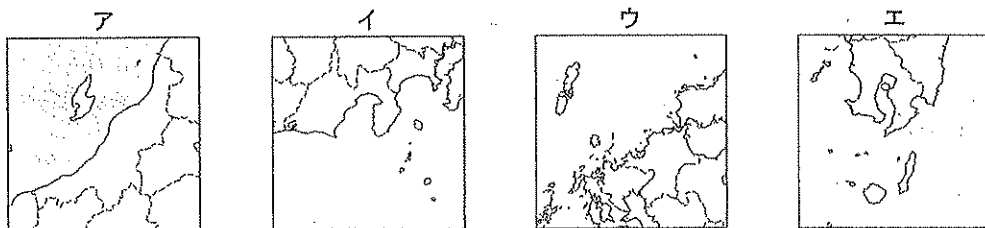
(b) 右の写真は、瀬戸内の気候に属する平野のため池の写真である。次の文は、瀬戸内の気候について述べたものである。文中の㉗〔 〕、㉘〔 〕から適切なものをそれぞれ一つずつ選び、記号を○で囲みなさい。



瀬戸内の気候は一般に、日本海側の気候や南西諸島の気候と比べて降水量が ㉗〔 ア 少ない イ 多い 〕。このため、瀬戸内の気候に属する ㉘〔 ウ 庄内 エ 越後 オ 濃尾カ 讃岐 〕平野には、ため池が多くみられる。

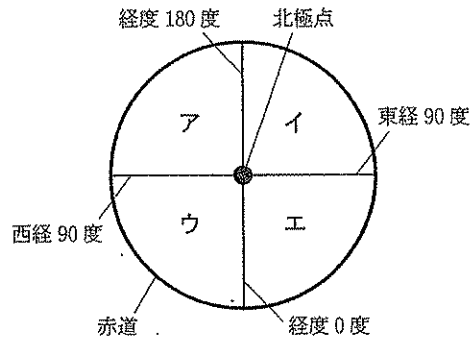
(2) 通信網の発達により、今日では地理に関する情報を容易に得ることができるようになっている。例えば、GPS（全地球測位システム）の発達により、現在の位置情報を容易に得ることができる。位置を測定するための人工衛星は測位衛星と呼ばれ、複数の測位衛星が発信する信号を利用して現在の位置と時刻がわかる。

① 測位衛星には、日本の「みちびき」などがある。2017（平成29）年、「みちびき」を載せたロケットが打ち上げられた。次のア～エの地図のうち、このロケットが打ち上げられた発射場があり、16世紀中ごろに鉄砲が伝来した地でもある種子島が含まれる地図はどれか。一つ選び、記号を○で囲みなさい。



(-----は現在の県界を示す)

② 地球上の各地点の位置は、緯度と経度を使って表すことができる。次の図は、図の中心を北極点とし、北半球を経度0度、東経90度、西経90度、経度180度の4本の経線と赤道とでア～エの四つの範囲に分けた模式図である。

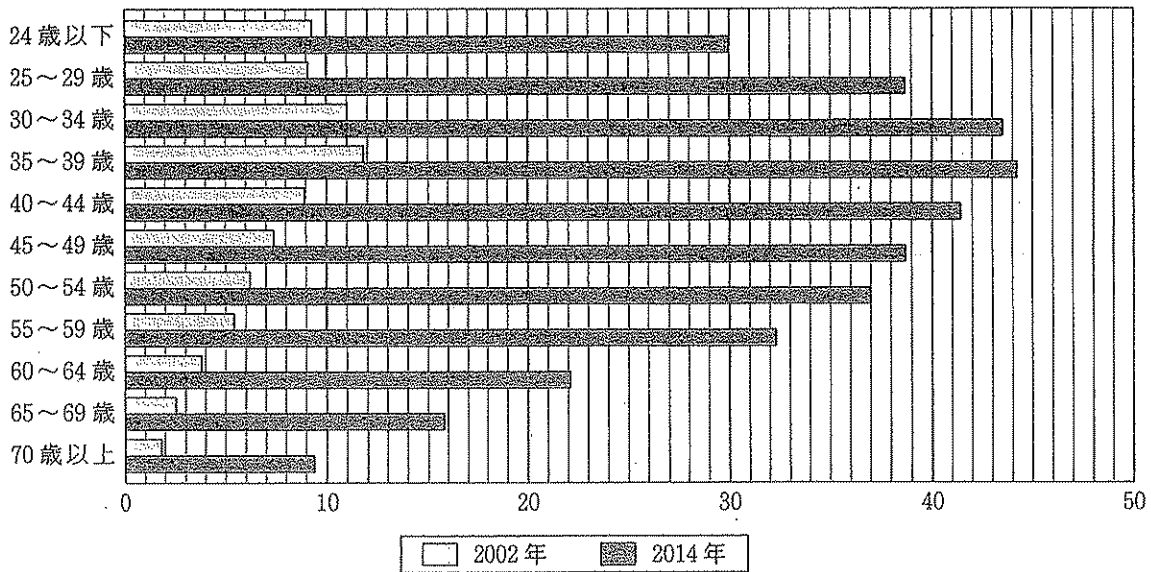


(a) 模式図中のア～エのうち、わが国の標準時の基準となっている兵庫県^{神戸}明石市を通る経線が含まれる範囲を一つ選び、記号を○で囲みなさい。

(b) 模式図中のア～エのうち、アフリカ大陸が含まれる範囲をすべて選び、記号を○で囲みなさい。

(3) 交通網の整備や通信網の発達により新しい産業が創出され、私たちの生活は変化している。図Iは、調査対象となったわが国の二人以上の世帯が、ある1か月の間に、インターネットを利用して商品やサービスの購入(インターネットショッピング)を行ったかどうかなどを調査した結果の一部であり、2002(平成14)年と2014(平成26)年における、世帯主の年齢階層別のインターネットショッピングの利用率(以下「ネットショッピング利用率」という。)を示したものである。あとのア～エのうち、図Iから読み取れる内容についてまとめたものとして正しいものはどれか。すべて選び、記号を○で囲みなさい。

図I 2002年と2014年におけるネットショッピング利用率(%)



(総務省の資料により作成)

ア 2002年におけるネットショッピング利用率は、24歳以下の年齢階層から35～39歳の年齢階層にかけては年齢階層の年齢が上がるごとに高くなっており、35～39歳の年齢階層から70歳以上の年齢階層にかけては年齢階層の年齢が上がるごとに低くなっている。

イ 2014年におけるネットショッピング利用率は、利用率が最も高い年齢階層の利用率が、利用率が最も低い年齢階層の利用率の4倍を上回っている。

ウ 2002年と2014年における同じ年齢階層でのネットショッピング利用率を比べると、すべての年齢階層において2014年の方が利用率は高く、また、2002年と2014年のいずれの年においても35～39歳の年齢階層が他の年齢階層と比べて利用率が高い。

エ 2002年と2014年における同じ年齢階層でのネットショッピング利用率を比べると、2014年の利用率が2002年の利用率の5倍を上回っている年齢階層は一つだけである。

C 面

3 わが国と諸外国の歴史や文化は相互にかかわっている。歴史にみられる国際関係について、次の問いに答えなさい。

(1) 古代までのわが国は、東アジアからさまざまな影響を受けながら国家を形成した。中国へは留学生や留学僧がわが国の使節とともにわたった。次のア～エのうち、7世紀前半から9世紀末までの間、わが国がたびたび使節を送った中国の王朝名はどれか。一つ選び、記号を○で囲みなさい。

ア 漢 イ 魏 ウ 唐 エ 宋

(2) 13世紀、モンゴル帝国が成立し、東アジアから東ヨーロッパにかけての地域を支配した。モンゴル帝国により交通路が整えられ、東西の貿易や文化交流がさかんになった。

① 次のア～エのうち、都を大都（現在の北京）に移し、国号を元と定めたモンゴル帝国の皇帝はどれか。一つ選び、記号を○で囲みなさい。

ア 袁世凱 イ チンギス=ハン ウ 蔣介石 エ フビライ=ハン

② 13世紀、北条時宗は、武力を背景に国交をせまった元の要求をしりぞけた。次の(i)～(iii)は、13世紀にわが国で起こったできごとについて述べた文である。(i)～(iii)を年代の古いものから順に並べかえると、どのような順序になるか。あとのア～カから正しいものを一つ選び、記号を○で囲みなさい。

(i) 御成敗式目が定められた。

(ii) 弘安の役が起こった。

(iii) 承久の乱が起こった。

ア (i) → (ii) → (iii) イ (i) → (iii) → (ii) ウ (ii) → (i) → (iii)
エ (ii) → (iii) → (i) オ (iii) → (i) → (ii) カ (iii) → (ii) → (i)

(3) 15世紀、尚氏によって統一された琉球王国は、日本やアジアの諸地域と交易をする中継貿易で栄えた。次のア～エのうち、15世紀の世界のようすについて述べた文として正しいものはどれか。一つ選び、記号を○で囲みなさい。

ア バスコ＝ダ＝ガマがアフリカ大陸の南端の喜望峯をまわり、今日のインドに当たる地に到達した。

イ ルターが免罪符（贖宥状）の販売を批判するなど95か条の論題を発表し、宗教改革が始まった。

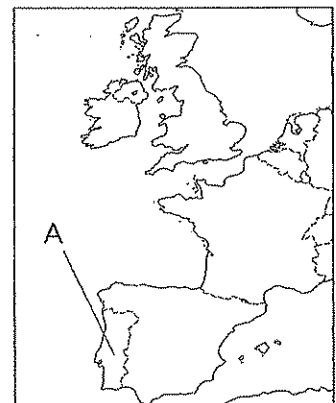
ウ フランスにおいて、軍人のナポレオンが権力を握り、ヨーロッパ支配をすすめた。

エ イギリスにおいて、名誉革命が起こり、権利の章典（権利章典）が制定された。

(4) 16世紀、ヨーロッパの船がわが国に来航し、南蛮貿易と呼ばれる貿易が始まった。右の地図中のAは、16世紀にわが国に来航して南蛮貿易と呼ばれる貿易を行った国の一つを示している。

① A国の国名を書きなさい。


② A国の船がわが国に来航した目的には貿易以外に布教もあった。フランシスコ＝ザビエルによってわが国に伝えられ、17世紀前半に江戸幕府が禁止した宗教は何か、書きなさい。



(-----は現在の国界を示す)

(5) 17 世紀中ごろ、江戸幕府は後に鎖国と呼ばれる体制を完成させ、19 世紀中ごろまで続けた。

- ① 右の絵は、長崎港内につくられた埋め立て地の絵である。次の文は、この埋め立て地について述べたものである。文中の **A** に当てはまる語を漢字 2 字で書きなさい。



鎖国中も、江戸幕府が許可した場所では一部の外国との貿易が続いていた。オランダとの貿易は、平戸から長崎港内の埋め立て地である **A** にオランダ商館を移し、行われた。このオランダ商館跡は「**A** 和蘭商館跡」としてわが国の史跡に指定されている。

- ② 18 世紀末から 19 世紀中ごろにかけて、わが国の沿岸には通商や開国を求める諸外国の船が現れた。
- (a) 1792 年、わが国の漂流民を送り届けるとともに江戸幕府に通商を求めて根室^{ねむろ}に来航したロシアの使節はだれか。人名を書きなさい。
- (b) 1853 年、江戸幕府に対して開国を求める国書を携え、4 隻の軍艦を率いて浦賀^{うらが}に来航したアメリカ合衆国の使節はだれか。人名を書きなさい。

(6) 19 世紀後半、明治政府は岩倉使節団^{いわぐらしせつだん}と呼ばれる使節団を欧米に派遣した。次の文は、岩倉使節団について述べたものである。

・右の写真は、岩倉真視^{まこと}を代表とする岩倉使節団の中心となった人々を撮影した写真である。

・1871 (明治 4) 年から 1873 (明治 6) 年にかけて、岩倉使節団を欧米に派遣した目的は、各国の政治のしくみや文化を学ぶことや、**㊦ 不平等条約**の改正のための交渉であった。

・岩倉使節団とともに、多くの留学生がアメリカ合衆国にわたった。留学生の中には、**㊧ 5 人の女子留学生**も含まれていた。



- ① **㊦ 不平等条約**の一つは、1858 年に江戸幕府とアメリカ合衆国との間に結ばれた日米修好通商条約であった。日米修好通商条約が結ばれたときの江戸幕府の大老で、後に、幕府を批判した人々の処罰など安政の大獄^{あんせいのだいごく}と呼ばれる弾圧を行った人物はだれか。人名を書きなさい。

- ② **㊧ 5 人の女子留学生**は、わが国で初めての女子留学生であったといわれている。次のア～エのうち、5 人の女子留学生の中で最年少でアメリカ合衆国にわたり、後に、日本で女子英学塾を設立するなど、女子教育の発展に尽力した人物はだれか。一つ選び、記号を○で囲みなさい。

ア 市川房枝^{いちがわふさえ} イ 津田梅子^{つたうめこ} ウ 樋口一葉^{ひぐちいちよう} エ 平塚らいてう^{ひらつからいてう}

- ③ 19 世紀後半から始まった不平等条約改正の交渉の結果、領事裁判権 (治外法権) の撤廃や関税自主権の回復など不平等な内容がすべて改正されたのは 20 世紀前半のことであった。次の (i) ~ (iii) は、19 世紀後半から 20 世紀前半にかけての期間に起こったできごとについて述べた文である。(i) ~ (iii) を年代の古いものから順に並べかえると、どのような順序になるか。あとのア～カから正しいものを一つ選び、記号を○で囲みなさい。

- (i) 江華島事件^{こうかとうじけん}が起こった。
 (ii) 日露戦争^{にっろせんそう}が起こった。
 (iii) ノルマントン号事件^{のるまんとんごうじけん}が起こった。

ア (i) → (ii) → (iii) イ (i) → (iii) → (ii) ウ (ii) → (i) → (iii)
 エ (ii) → (iii) → (i) オ (iii) → (i) → (ii) カ (iii) → (ii) → (i)

4 Nさんは、国際連合にかかわることがらについて調べた。次は、国際連合の発足、機関、課題について、Nさんが調べた内容をまとめたものである。あとの問いに答えなさい。

【国際連合について調べたこと】		
<p>国際連合の発足</p> <p>⑥ 国際連合は、1945（昭和20）年10月24日に発足し、2015（平成27）年に発足70周年を迎えた。2017（平成29）年末現在、193か国が加盟している。日本は、① 1956（昭和31）年12月18日に国際連合に加盟し、2016（平成28）年に加盟60周年を迎えた。</p>	<p>国際連合の機関</p> <p>国際連合のおもな機関として、総会、安全保障理事会、経済社会理事会、国際司法裁判所、事務局などがあり、⑤ 国際通貨基金（IMF）や② 国際労働機関（ILO）などの専門機関も設けられている。</p>	<p>国際連合の課題</p> <p>2017年、第9代国際連合事務総長に就任したグテーレス事務総長は、就任にあたり三つの優先課題を掲げた。</p> <ul style="list-style-type: none"> • ③ 組織改革 • 持続可能な開発 • ④ 平和への取り組み

- (1) ⑥ 国際連合は、1945年に51か国で発足した。
- ① 国際連合憲章の第1条には、国際連合の目的の一つとして、人権および基本的自由の尊重が記されており、日本国憲法にも基本的人権にかかわることが記されている。次の文は、基本的人権にかかわることについて記されている日本国憲法の条文の一部である。文中の□の箇所に用いられている語を書きなさい。
- 「すべて国民は、□に平等であつて、人種、信条、性別、社会的身分又は門地により、政治的、経済的又は社会的関係において、差別されない。」
- ② 国際連合の本部がある都市はどこか。都市名を書きなさい。
- (2) ① 1956（昭和31）年に、日本は80番目の加盟国として国際連合に加盟した。次のア～エのうち、日本が国際連合に加盟した1956年に起こったできごとについて述べた文として正しいものはどれか。一つ選び、記号を○で囲みなさい。
- ア 日本とソビエト連邦との国交が回復した。 イ サンフランシスコ平和条約が結ばれた。
 ウ 日本がポツダム宣言を受諾した。 エ 日中平和友好条約が結ばれた。
- (3) ⑤ 国際通貨基金（IMF）の目的の一つに為替相場（為替レート）を安定させることがある。為替相場（為替レート）とは、異なる2か国の通貨が交換されるときに交換比率のことである。次の文は、為替相場（為替レート）の変動について述べたものである。文中の④〔 〕、⑥〔 〕から適切なものをそれぞれ一つずつ選び、記号を○で囲みなさい。ただし、「ドル」は「アメリカドル」を意味するものとする。
- 為替相場（為替レート）が変動し、「1ドル＝150円」から「1ドル＝100円」になった場合、円のドルに対する価値が④〔 ア 上がった イ 下がった 〕ことになり、⑥〔 ウ 円高 エ 円安 〕になったといえる。

- (4) ② 国際労働機関（ILO）は、労働条件の改善などを推進する機関で、1919（大正8）年に設立され、1946（昭和21）年に国際連合の専門機関となった。
- ① 次のア～エのうち、国際労働機関（ILO）が設立された1919年に起こったできごとについて述べた文として正しいものはどれか。一つ選び、記号を○で囲みなさい。
- ア ロシア革命が起こった。 イ 大西洋憲章が発表された。
 ウ ワイマール憲法が制定された。 エ ニューディール政策が行われた。
- ② わが国において、労働条件の最低基準などを定めた労働基準法は1947（昭和22）年に制定された。次の文は、法律案の議決について記されている日本国憲法の条文の一部である。文中の④〔 〕、⑥〔 〕から適切なものをそれぞれ一つずつ選び、記号を○で囲みなさい。
- 衆議院で可決し、参議院でこれと異なつた議決をした法律案は、衆議院で④〔 ア 総議員 イ 出席議員 〕の⑥〔 ウ 過半数 エ 三分の二以上の多数 〕で再び可決したときは、法律となる。

(5) ㊸ 組織改革の一つに行財政改革があげられる。国際連合の通常予算の財源は、各加盟国が支払う拠出金（分担金）によって構成されている。国際連合の通常予算に対する各加盟国の拠出金（分担金）の比率（以下「分担率」という。）は各加盟国の支払い能力に応じて割り当てられ、3年に一度、国際連合総会で見直すことになっている。表Iは、2010（平成22）年、2013（平成25）年、2016（平成28）年における分担率の高い上位10か国とその分担率を示したものである。

表I 2010年、2013年、2016年における分担率の高い上位10か国とその分担率（％）

2010年			2013年			2016年		
順位	国名	分担率	順位	国名	分担率	順位	国名	分担率
1	アメリカ合衆国	22.000	1	アメリカ合衆国	22.000	1	アメリカ合衆国	22.000
2	日本	12.530	2	日本	10.833	2	日本	9.680
3	ドイツ	8.018	3	ドイツ	7.141	3	中国	7.921
4	イギリス	6.604	4	フランス	5.593	4	ドイツ	6.389
5	フランス	6.123	5	イギリス	5.179	5	フランス	4.859
6	イタリア	4.999	6	中国	5.148	6	イギリス	4.463
7	カナダ	3.207	7	イタリア	4.448	7	ブラジル	3.823
8	中国	3.189	8	カナダ	2.984	8	イタリア	3.748
9	スペイン	3.177	9	スペイン	2.973	9	ロシア	3.088
10	メキシコ	2.356	10	ブラジル	2.934	10	カナダ	2.921

（国際連合の資料により作成）

① 次の文は、表Iから読み取れる分担率と順位の変化について、Nさんがまとめたものである。文中の（ ）に入れるのに適している国名をすべて書きなさい。

- ・2010年において分担率の高い上位10か国に含まれている国のうち、2010年と2013年とを比べると2013年において分担率が増加し順位が上がっている国は中国だけである。
- ・2013年において分担率の高い上位10か国に含まれている国のうち、2013年と2016年とを比べると2016年において分担率が増加し順位が上がっている国は（ ）である。

② 次の文は、表Iから読み取れる分担率の合計について、Nさんがまとめたものである。あとのア～エのうち、文中の（㉔）に入る内容として最も適しているものを一つ選び、記号を○で囲みなさい。また、あとのオ～クのうち、文中の（㉕）に入る内容として最も適しているものを一つ選び、記号を○で囲みなさい。

- ・2010年、2013年、2016年のそれぞれの年における分担率の高い上位3か国の分担率の合計について、2010年と2013年とを比べ、2013年と2016年とを比べると、分担率の高い上位3か国の分担率の合計は、（㉔）。
- ・2010年、2013年、2016年のそれぞれの年における分担率の高い上位5か国の分担率の合計は、（㉕）。

- ㉔ ア 2013年は増加し2016年も増加している イ 2013年は増加し2016年は減少している
- ウ 2013年は減少し2016年は増加している エ 2013年は減少し2016年も減少している
- ㉕ オ 2010年、2013年の二つの年においてのみ、50%を上回っている
- カ 2010年、2016年の二つの年においてのみ、50%を上回っている
- キ 2013年、2016年の二つの年においてのみ、50%を上回っている
- ク 2010年、2013年、2016年のいずれの年においても、50%を上回っている

(6) ㊸ 平和への取り組みに主要な責任を負っているのが安全保障理事会である。表IIは、2017年4月に安全保障理事会で否決となったある決議案に賛成した国と反対した国と棄権した国の内訳を示したものである。安全保障理事会を構成する15か国のうち、賛成した国が10か国であったにもかかわらずこの決議案が否決となった理由を簡潔に書きなさい。

表II

<p>【賛成】 アメリカ合衆国、イギリス、イタリア、ウクライナ、ウルグアイ、エジプト、スウェーデン、セネガル、日本、フランス</p>	<p>【反対】 ボリビア、ロシア</p>	<p>【棄権】 エチオピア、カザフスタン、中国</p>
---	---------------------------------	--