

# 令和2年度一般選抜学力検査問題

## 社 会

( 5 時間目 50分 )

### 注 意

- 1 問題用紙と解答用紙の両方の決められた欄に，受検番号と氏名を記入しなさい。
- 2 問題用紙は開始の合図があるまで開いてはいけません。
- 3 問題は1 ページから6 ページまであり，これとは別に解答用紙が1 枚あります。
- 4 答えは，すべて解答用紙に記入しなさい。

受検番号		氏 名	
------	--	-----	--

1 次の表は、わが国の産業の発達と人々の生活の変化についてまとめたものである。これと地図、年表を見て、右の(1)～(12)の問いに答えなさい。

表

時代	産業の発達と人々の生活の変化	
原始・古代	<ul style="list-style-type: none"> <li>• ①稲作が伝わると、社会のしくみが変わり、小さな国々ができる。</li> <li>• 渡来人は、絹織物などの新しい技術とともに、②仏教を伝えた。</li> <li>• 律令制では③戸籍に登録された6歳以上の男女には口分田が与えられ、死亡した時には国に返させた。</li> </ul>	<p>資料1 中国の歴史書にみる倭の様子</p> <p>稲をつくり、桑を植えて蚕を飼い、織物をつくっている。…国内が乱れ何年間も争いが続いたので、人々は一人の女子を王とした。名を <b>あ</b> という。</p> <p>(「魏志倭人伝」から部分要約)</p>
中世	<ul style="list-style-type: none"> <li>• 農村では、二毛作や牛馬を利用した農耕がみられるようになり、しだいに各地に広がった。</li> <li>• 有力な農民を中心に、<b>い</b> と呼ばれる自治組織が村ごとにつくられた。</li> <li>• 商業の発達とともに、④馬借などが活躍した。</li> </ul>	<p>資料2 大津で活動する馬借</p> <p>(「石山寺縁起絵巻」模本)</p>
近世	<ul style="list-style-type: none"> <li>• ⑤江戸幕府や諸藩などの新田開発により、農地の面積が急速に広がった。</li> <li>• 林業や水産業が発達し、⑥鉱山での採掘や精錬の技術も発達した。</li> <li>• ⑦19世紀には、工場を建設し、人を雇って分業で製品を作る者が現れた。</li> </ul>	<p>資料3 秋田藩の鉱山労働の様子</p> <p>秋田藩で産出された銅の多くは、大阪で精錬されたのち、長崎に運ばれた。</p> <p>(「阿仁鉱山作業絵巻」秋田県立博物館蔵)</p>
近代	<ul style="list-style-type: none"> <li>• 政府は、殖産興業政策を進め、⑧産業の近代化を図った。</li> <li>• 製糸業や紡績業では、工場労働者の大半を女性が占めていた。</li> <li>• 都市の人口が増え、知識層の拡大や、大衆文化の発展がみられた。</li> </ul>	<p>資料4 わが国の輸出入額の推移 (億円)</p> <p>(「明治以降本邦主要経済統計」から作成)</p>
現代	<ul style="list-style-type: none"> <li>• 技術革新が進み、経済が急速に発展する一方で、公害問題が深刻化した。</li> <li>• 1973年の <b>う</b> を境に、エネルギー政策の転換がみられた。</li> <li>• グローバル化が進む中、温暖化防止に向けた取り組みなどがみられる。</li> </ul>	<p>資料5 わが国のエネルギー供給割合 (%)</p> <p>(「数字でみる日本の100年」から作成)</p>

(1) 下線部㉑に関わる資料1を読み、**あ**にあてはまる人物名を書きなさい。

(2) 下線部㉒に関わるア～ウを、年代の古い順に並べ替え、記号を書きなさい。

ア 空海が真言宗を開いた    イ 聖武天皇が大仏を造らせた    ウ 平等院鳳凰堂が建てられた

(3) 下線部㉓の制度を何というか、書きなさい。

(4) 表の**い**にあてはまる語を書きなさい。

(5) 下線部㉔の拠点が大津にあった理由を、資料2と地図から読みとり、  
下線部㉔の役割と関連づけて、次の語を用いて書きなさい。〔琵琶湖〕

(6) 下線部㉕の政策について、下の年表のIの内容として適切なものを、  
一つ選んで記号を書きなさい。

- ア 凶作やききんに備え、各地に倉を設けて米を蓄えさせた。
- イ 株仲間を奨励し、特権を与えるかわりに営業税を徴収した。
- ウ 株仲間を解散させ、江戸に流入した人々を農村に帰らせた。
- エ 米価の安定に努め、有能な人材を登用し、新田の開発を進めた。

地図



(7) 下線部㉖に関わる資料3について、銅が長崎に運ばれた目的を、関連する二つの国名を用いて書きなさい。

(8) 下線部㉗のできごとで、年表のIIにおける外国船への対応に影響を与えたものを、一つ選んで記号を書きなさい。

- ア 南北戦争            イ 名誉革命
- ウ アヘン戦争        エ 辛亥革命

(9) 下線部㉘について、次のできごとがみられた時期を、年表のA～Dから一つ選んで記号を書きなさい。

政府は、官営の製鉄所を九州北部の八幡村に設立し、鉄鋼の生産を始めた。

(10) 資料4を見て、XとYのそれぞれの時期における、わが国の様子を、一つずつ選んで記号を書きなさい。

- ア 世界恐慌の影響がおよび経済が不況となった    イ 特需景気により経済が好況となった
- ウ バブル経済の崩壊により経済が不況となった    エ 大戦景気により経済が好況となった

(11) 年表のEの時期について記した次の文を読み、**Z**に入る適切な内容を書きなさい。

わが国の経済を支配してきた**Z**ため、その下にあった企業は独立させられた。

(12) 表の**う**と、資料5の**え**と**お**にあてはまる語の正しい組み合わせを、ア～エから一つ選んで記号を書きなさい。

- ア う 湾岸戦争    え 石炭    お 石油            イ う 湾岸戦争    え 石油    お 石炭
- ウ う 石油危機    え 石炭    お 石油            エ う 石油危機    え 石油    お 石炭

年表

時代	主なできごと	
江戸	寛政の改革	…… I
	天保の改革	…… II
明治	大政奉還	] A
	日清戦争	
大正	日露戦争	] C
	満州事変	] D
昭和	ポツダム宣言受諾	] E
	サンフランシスコ平和条約	] E

2 次の模式図と表、図を見て、(1)～(4)の問いに答えなさい。

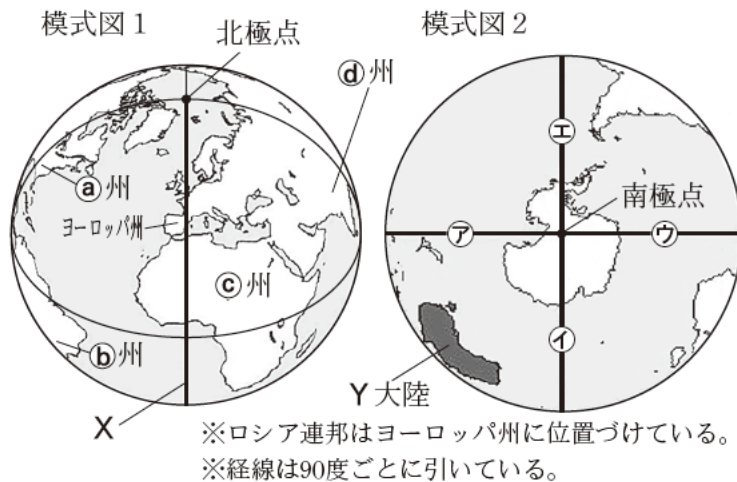


表 世界に占める各州の割合

州	耕地面積 (%)	森林面積 (%)	二酸化炭素排出量 (%)
ヨーロッパ州	18.3	25.4	14.9
A	36.5	14.8	53.4
B	17.1	15.6	3.6
C	15.2	18.8	17.8
D	9.8	21.1	3.4

(「データブック オブ・ザ・ワールド 2019年版」から作成)

- 模式図1に示した経度0度の経線Xの名称を書きなさい。また、Xと同じ経度を示す経線を、模式図2の①～④から一つ選んで記号を書きなさい。
- 表のA～Dは、それぞれ模式図1の①～④州のいずれかを表している。AとDにあてはまる州を、①～④州から一つずつ選んで記号を書きなさい。
- 世界の三大洋のうち、模式図2のY大陸が面しているものをすべて書きなさい。
- 図1～3は、世界の国々の中から、貿易額上位国の中国、アメリカ、ドイツ、日本を取り上げ、比較したものである。

図1 4 国々の貿易額 (2016年) (千億ドル)

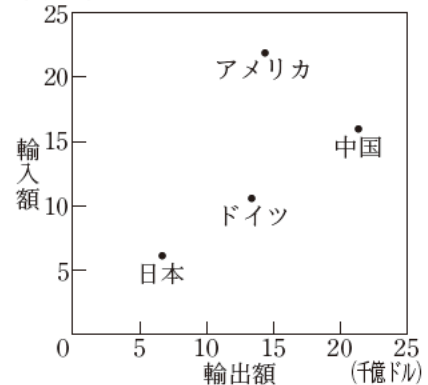


図2 4 国々の輸出品目の割合 (2016年)


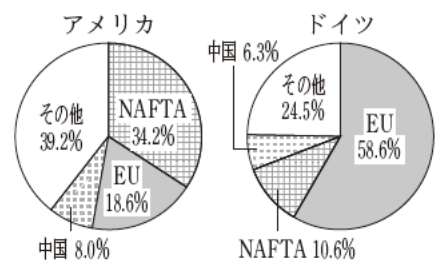


図3 アメリカとドイツの輸出相手先の割合 (2016年)



(図1～3は「世界国勢図会2018/19年版」などから作成)

- 図1から読みとれる、貿易の収支が赤字の国を、一つ選んで国名を書きなさい。
- 図2のZに共通してあてはまる輸出品目を、一つ選んで記号を書きなさい。  
ア 航空機    イ 自動車  
ウ 鉄鋼      エ 金属製品
- 次は、図3をもとに生徒がまとめたものである。  
Eに入る適切な内容を、次の語を用いて書きなさい。 [ 州 ]

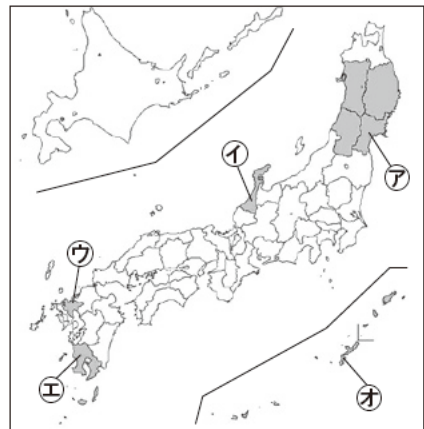
輸出相手先の中で、割合が一番高い相手先に着目すると、アメリカとドイツのどちらも、E国々への輸出割合が高いという共通点がみられる。

3 次の会話をもとに、地図や図、表を見て、(1)～(5)の問いに答えなさい。

会話

生徒A：男鹿のナマハゲなど、㉑ 8県で行われる来訪神の行事が㉒ ユネスコの無形文化遺産に登録されたね。  
 生徒B：価値が認められてうれしいね。地域の㉓ 伝統文化をこれからも大事にしていきたいな。  
 生徒A：そうだね。豊かな自然を生かした㉔ 伝統的工芸品もあるよ。秋田県のよさを知ってもらうために、多くの人に来てもらいたいな。  
 生徒B：そのためには迎え入れる準備も必要だよ。㉕ 秋田県が行っていることを調べてみようよ。

地図



※○は、来訪神の行事がユネスコの無形文化遺産に登録された8県を表す。

図1 日本の年齢別人口構成の変化

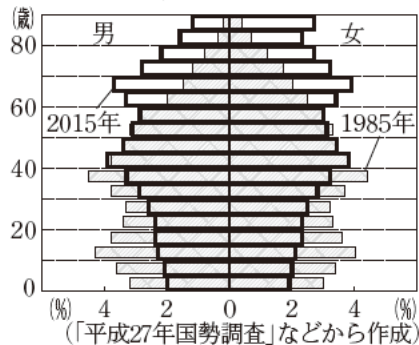
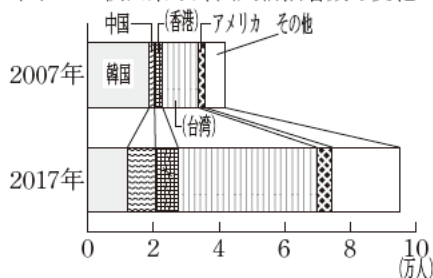


表 祭りを実施するための取り組み例

名称	内容
根崎神社例大祭 (北海道)	参加者を公募。域外から学生4人に <sup>だし</sup> 山車引きをお願いした。
じじぐれ祭 (福井県)	県のホームページで応援隊員を募集。みこしの巡行等に参加してもらった。

(各自治体ホームページなどから作成)

図2 秋田県の外国人宿泊者数の変化



(「秋田県観光統計」などから作成)

図3 外国人への対応マニュアル(一部)

どちらへいらっしゃいますか?  
 Where would you like to go?  
 您要去哪里?  
 어디에 가십니까?  
 您要去哪裡?

(秋田県観光連盟資料から作成)

- 下線部㉑のうち、地図の㉗～㉕について、県名と県庁所在地名が異なるものを、**すべて**選んで記号を書きなさい。
- 下線部㉒は世界遺産の登録や保護にも取り組んでいる。世界遺産とその所在地の正しい組み合わせを、一つ選んで記号を書きなさい。  
**ア** 富岡製糸場－群馬県      **イ** 姫路城－岡山県  
**ウ** 石見银山遺跡－鳥取県      **エ** 厳島神社－山口県
- 下線部㉓が受け継がれてきた地域にみられる課題を、図1と表から読みとれることと関連づけて書きなさい。
- 次は、下線部㉔が作られてきた背景を、気候の特色に着目して、生徒Aがまとめたものである。**あ**に入る適切な内容を書きなさい。

秋田県を含む日本海側の地域では、**あ**ので農作業のできない期間があり、その間の副業として作られてきた。





- 次は、下線部㉕について生徒Bがまとめたものである。**い**にあてはまる語を、下の**ア～オ**から一つ選んで記号を書きなさい。また、**う**に入る適切な内容を、次の語を用いて書きなさい。〔言語〕

図2を見ると、秋田県の外国人宿泊者数は2007年からの10年間で2倍以上に増え、**い**アジアからの宿泊者が7割以上を占めている。秋田県では、こうした状況を踏まえ、図3のように**う**という工夫をしたマニュアルを作成するなど、グローバル化に対応している。

**ア** 東    **イ** 東南    **ウ** 南    **エ** 中央    **オ** 西

4 次は、私たちと社会との関わりについて、これまでに学習したことをもとに、生徒がまとめたものの一歩である。これらを見て、(1)～(II)の問いに答えなさい。

**広がる権利の保障について**

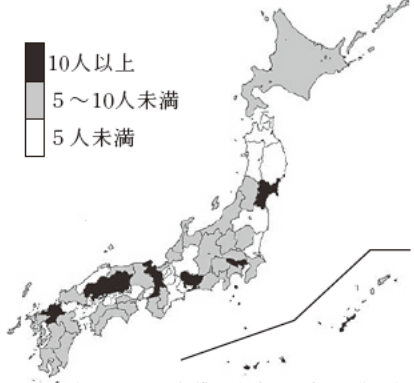
表1 年齢と権利		図1 商品を購入するまでの流れ			
年齢	内容	ア	イ	ウ	エ
18歳	選挙権を得る				
20歳	自由に①売買の契約を結ぶ	商品の情報について店員に尋ねた	商品を買う意思を伝え店員と合意した	商品の代金を店員に支払った	買った商品を店員から受け取った
25歳	あ の被選挙権を得る				
30歳	い の被選挙権を得る				

◇法律や契約などのきまりによって権利が保障され、社会生活を円滑に営むことができる。  
 ◇2022年4月の成年年齢引き下げに向けて、契約について正しく理解することが大切になる。

- (1) 表1の選挙権や被選挙権などのように、人権の保障を確かなものにし、国民の意思や判断を政治に反映させるための権利を何というか、書きなさい。
- (2) 表1の **あ** と **い** にあてはまる語の正しい組み合わせを、一つ選んで記号を書きなさい。  
**ア あ** 衆議院議員 **い** 市町村長 **イ あ** 参議院議員 **い** 市町村長  
**ウ あ** 衆議院議員 **い** 都道府県知事 **エ あ** 参議院議員 **い** 都道府県知事
- (3) 図1は、商品を購入するまでの流れを、**ア～エ**の段階で順に示したものである。下線部①について、図1の場合ではどの段階から成立するか、**ア～エ**から一つ選んで記号を書きなさい。

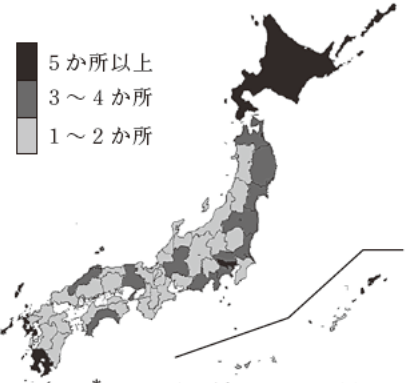
**国民と司法の関わりについて**

図2 人口10万人あたりの弁護士数(2006年)



(図2, 3は「弁護士白書」などから作成)

図3 \*法テラスの事務所設置数(2017年)



\*日本司法支援センターの通称。

◇国民の視点や感覚を裁判に反映できるようにすることを目的として、**①裁判員制度**が取り入れられている。  
 ◇2006年に**②法テラス**が設置され、法律相談や情報提供などの司法サービスを提供している。

- (4) 下線部**①**について、裁判員が行うこととして適切なものを、**二つ**選んで記号を書きなさい。  
**ア** 取り調べを行い、被疑者を起訴する。 **イ** 証拠を調べ、被告人や証人に質問をする。  
**ウ** 個人間の権利に関わる対立を解決する。 **エ** 有罪・無罪や刑について話し合う。
- (5) 下線部**②**が設置された目的を、図2と図3から読みとれることと関連づけて、解答欄にしたがって書きなさい。

市場の働きと景気対策について

図4 需要・供給と価格の関係

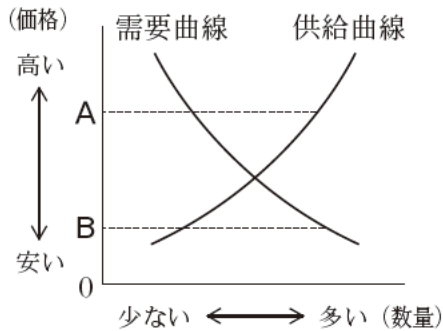


表2 財政政策と金融政策

	政府		日本銀行
	公共事業	税金	国債
好景気	減らす	X	
不景気	増やす		

- ◇㉔一般に、財やサービスの市場価格は、需要量と供給量の関係で決まる。㉔公共料金は、政府等によって管理されている。
- ◇物価や企業の生産、家計などは景気の変動の影響を受けるため、㉔政府や日本銀行がそれぞれ対策をとっている。

(6) 次は、下線部㉔について、図4をもとに説明したものである。[う]にあてはまる図4のAまたはBのいずれかの記号と、[え]に入る適切な内容を書きなさい。

供給量が需要量を上回っている[う]の場合、価格は次第に[え]。

(7) 下線部㉔にあたるものを、二つ選んで記号を書きなさい。

- ア 電気料金    イ 理容料金    ウ 郵便料金    エ 新聞購読料金

(8) 下線部㉔について、表2の[X]にあてはまる内容の正しい組み合わせを、一つ選んで記号を書きなさい。

- ア 

増やす	買う
減らす	売る

    イ 

増やす	売る
減らす	買う

    ウ 

減らす	買う
増やす	売る

    エ 

減らす	売る
増やす	買う

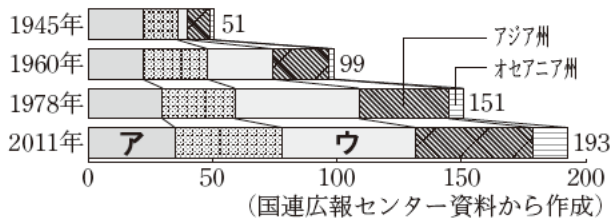
国際連合とこれからの社会について

資料 国連機関の活動例

㉔は、1949年から15年間、わが国に給食用の粉ミルクや薬、服の原料等を支援していた。現在も、世界中の子どもたちの命と健康を守るために活動している。

- ◇2015年の国連サミットでは17の「[か]な開発目標」を採択した。目標には企業に具体的な取り組みを促すものもある。
- ◇多くの企業は、利益の追求とともに、写真のような社会貢献活動などを通じて、企業の[き]を果たそうと努めている。
- ◇将来の世代と現在の世代の幸福をともに満たそうとする、[か]な社会を目指すことが大切である。

図5 国連加盟国数の推移



(9) 資料の[お]にあてはまる機関を、一つ選んで記号を書きなさい。

- ア ILO    イ WTO    ウ IMF    エ UNICEF

(10) 図5の[ア]～[ウ]は、ヨーロッパ州、アフリカ州、北・南アメリカ州のいずれかを示している。

アフリカ州を示しているものを、[ア]～[ウ]から一つ選んで記号を書きなさい。

(11) [か]と[き]にあてはまる語を、それぞれ書きなさい。ただし、[か]には同じ語が入る。