

令和2年度
高等学校入学者選抜学力検査問題

第 3 部

社 会

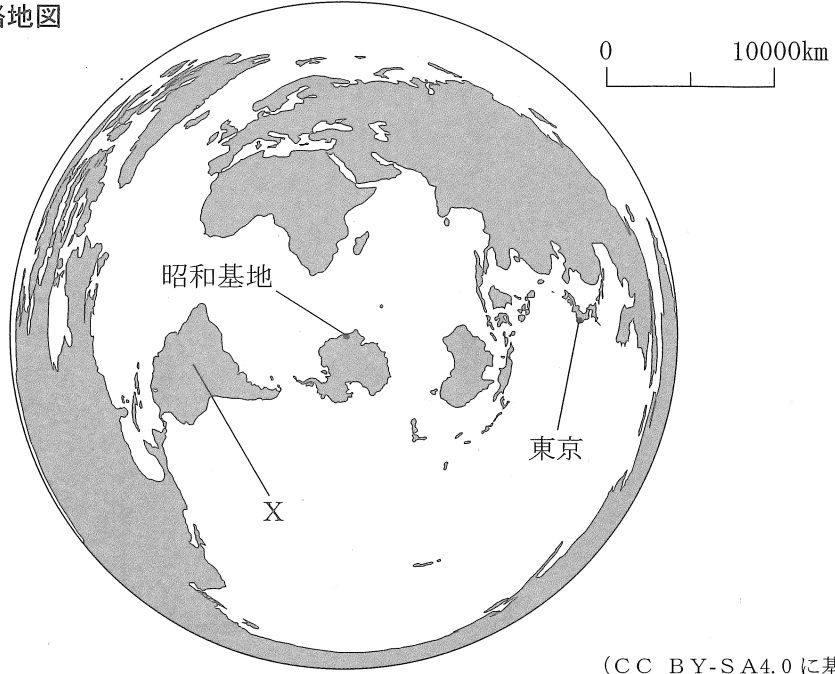
注 意

- 1 問題は、 から まであり、11ページまで印刷してあります。
- 2 答えは、すべて別紙の解答用紙に記入し、解答用紙だけ提出しなさい。
- 3 問いのうち、「……選びなさい。」と示されているものについては、問いで指示されている記号で答えなさい。

1 次の問いに答えなさい。

問1 略地図は、南極にある日本の昭和基地を中心に、昭和基地からの距離と方位が正しくなるようにつくられた地図です。これを見て、次の(1)、(2)に答えなさい。

略地図



(CC BY-SA4.0に基づき作成)

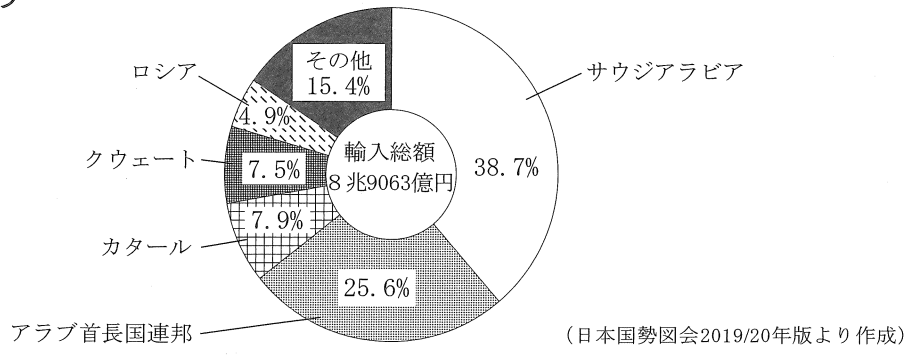
- (1) Xの大陸の名を書きなさい。
- (2) 次の文の に当てはまる語句を、ア～エから選びなさい。また、 に当てはまる語句を書きなさい。

昭和基地から東京までのおおよその直線距離は、 である。また、昭和基地から北東の方角に進むと、三大洋の1つである 洋を通過して、アジア州に到達する。

- ア 8000km イ 14000km ウ 18000km エ 20000km

問2 グラフは、ある輸入品の日本における2018年の輸入総額とおもな輸入先の国の内訳を示したものです。この輸入品の名を書きなさい。

グラフ



問3 次の(1)～(4)に答えなさい。

(1) 紀元前3世紀に、中国を統一し、初めて「皇帝」という呼び名を使った国の名を書きなさい。

(2) 次の文の に当てはまる語句を、2字で書きなさい。

平安時代に、漢字をもとに 文字が生まれ、日本語の発音が表しやすくなった。

(3) 鎌倉時代に、武士の慣習をもとにつくられ、武士の裁判の基準となり、その後、武家政治の手本となった法を何とといいますか、書きなさい。

(4) 江戸時代に、本居宣長が「古事記伝」を著し、大成させた学問を何とといいますか、書きなさい。

問4 次の(1)～(4)に答えなさい。

(1) 地方自治体の依存財源のうち、地域間の格差を減らすために国から配分される財源を何とといいますか、書きなさい。

(2) 次の文の① { } に当てはまる語句を、ア、イから選びなさい。また、 ② に当てはまる語句を書きなさい。

日本では、1989年に、① {ア 直接税 イ 間接税} の1つとして、商品を買うときに代金と一緒に負担する ② 税が、初めて導入された。

(3) 次の文の に当てはまる語句を書きなさい。

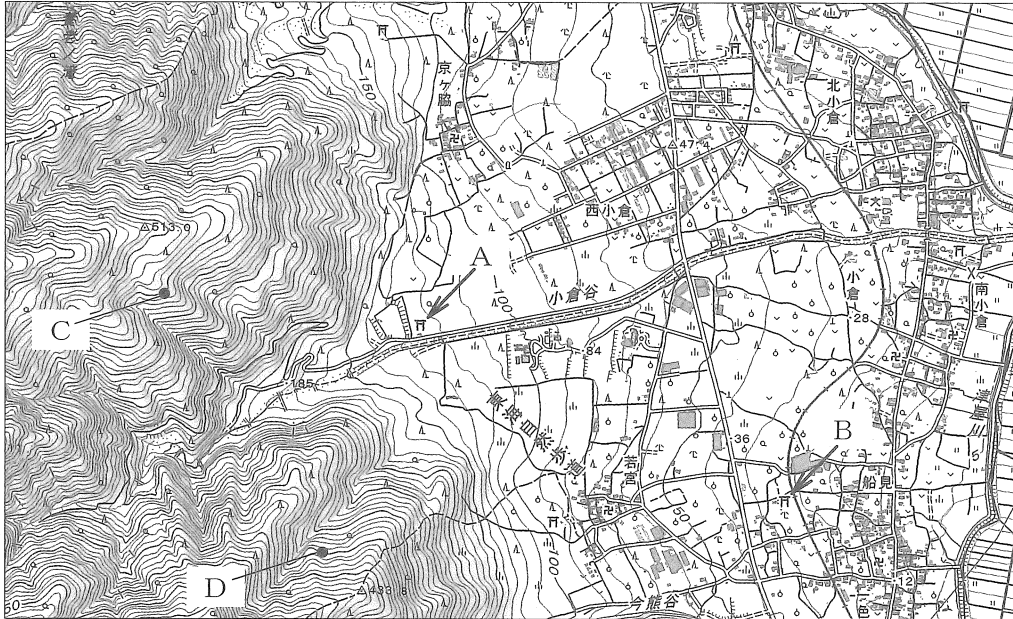
社会の変化にともなって様々な人権を認めようとする動きがある中、自分の生き方や生活の仕方、病気になったときの治療方法などを自分で自由に決めたり選んだりする 権が、尊重されるようになった。

(4) 次の文の に当てはまる語句を書きなさい。

日本の社会保障制度には、加入者が毎月保険料を支払い、病気になったときや高齢になったときなどに給付を受ける をはじめとして、社会福祉や公衆衛生など4つの制度がある。

問5 地形図を見て、次の(1)~(4)に答えなさい。

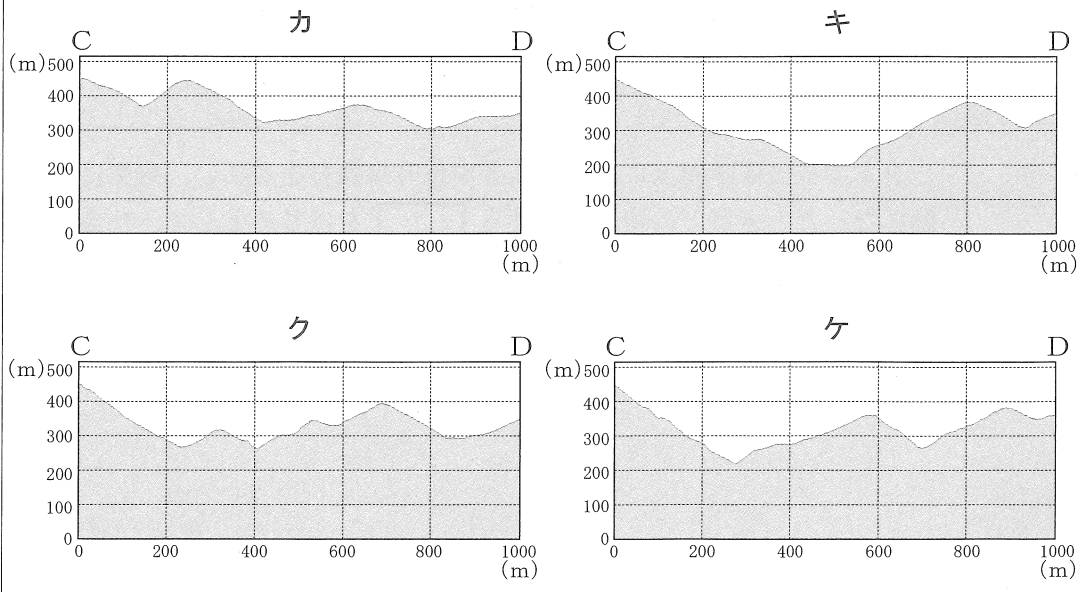
地形図



(国土地理院2万5千分の1地形図<平成28年>による。ただし、多色刷りのものを一色で表した。)

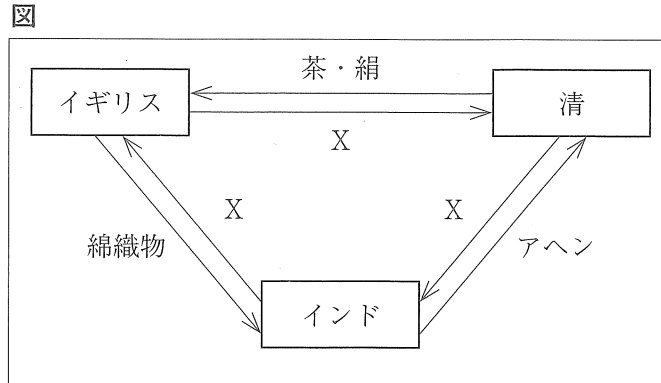
- (1) 地形図では、川が山間部から平地に出たところに土砂が積もってできた地形が見られます。このような地形を何といいますか、書きなさい。
- (2) 地形図にある○は何を表している地図記号ですか、書きなさい。
- (3) 2万5千分の1の地形図上の3cmは、実際の距離では何mになりますか、書きなさい。
- (4) 次の文の① { } に当てはまる語句を、ア~ウから選びなさい。また、② に当てはまる図を、カ~ケから選びなさい。

Aの神社とBの神社の標高差はおおよそ① {ア 50m イ 80m
ウ 100m} である。また、地形図上のCからDの方向の断面を表している図は、② である。



問6 次の(1)~(3)に答えなさい。

- (1) 図は、19世紀のイギリス、インド、清における貿易の関係を示したものであり、矢印は取り引きされたものの流れを表しています。Xに共通して当てはまる語句を、漢字1字で書きなさい。



- (2) 次の文の に当てはまる国の名を書きなさい。

第二次世界大戦が始まった翌年に結ばれた、日本、ドイツ、 の三か国による同盟は、連合国との対立を生むことになった。

- (3) 次の文の に当てはまる国の名を書きなさい。

第二次世界大戦後の世界は、アメリカを中心とする西側の資本主義諸国と、 を中心とする東側の共産主義（社会主義）諸国の2つに分裂し、冷戦とよばれる状態が続いた。

問7 次の(1)~(3)に答えなさい。






- (1) 1948年に、国際連合の総会において、人権を保障するために各国が守るべき共通の基準として採択された宣言を何といいますか、書きなさい。
- (2) 次の文の に共通して当てはまる語句を書きなさい。

国連 高等弁務官事務所では、内戦や他の民族による迫害によって国外へ逃れた などを、保護したり支援したりする活動を行っている。

- (3) 内戦や戦争などで苦しむ地域において、平和を実現するために国際連合が行っている、停戦や選挙を監視するなどの活動の略称を何といいますか、アルファベット大文字3字で書きなさい。

2

次のA～Eのカードは、ある中学生が、わが国の歴史とかかわりの深い船についてまとめたものです。これらのカードを見て、問いに答えなさい。

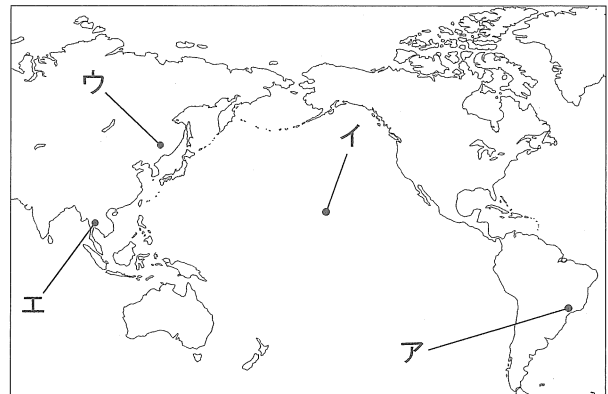
カードA	カードB	カードC	カードD	カードE
				
これは、幕府から許可を得て行った朱印船貿易で使用していた船です。	これは、ビキニ環礁での核実験で「死の灰」を浴びた第五福竜丸です。	これは、①遣唐使を派遣するために使用していた遣唐使船です。	これは、②日本海海戦において、東郷平八郎が乗船した軍艦の三笠です。	これは、③日米修好通商条約の調印の場となったポーハタン号です。

問1 カードAに示されている貿易が行われていた時期について、次の(1)、(2)に答えなさい。

(1) この時期に関して述べた文として最も適当なものを、ア～エから選びなさい。

- ア ザビエルが鹿児島に上陸した。
- イ 幕府がキリスト教を禁止した。
- ウ 鹿苑寺の金閣が建てられた。
- エ 平等院鳳凰堂が建てられた。

略地図



(2) この時期に、海外に移住する日本人が増え、日本町ができました。日本町のうち、山田長政が指導者となり活躍したアユタヤのおおよその位置を、略地図のア～エから選びなさい。

問2 カードBに示されているできごとと最もかかわりの深いできごとを、ア～エから選びなさい。

- ア 環境庁が設置された。
- イ 国会で非核三原則が決議された。
- ウ 第1回原水爆禁止世界大会が開かれた。
- エ 核拡散防止条約（核兵器不拡散条約）が採択された。

問3 下線部①とともに唐に渡った人物を、I群のア～エから1つ選びなさい。また、この人物が行ったこととして正しいものを、II群のカ～ケから1つ選びなさい。

[I 群] ア 行基 イ 空海 ウ 法然 エ 日蓮

[II 群] カ 題目を唱えると、人も国も救われるという教をを広めた。

キ 高野山の金剛峯寺を建立し、真言宗を広めた。

ク 東大寺の大仏づくりに協力し、仏教を広めた。

ケ 念仏を唱えると、極楽浄土に生まれ変わるという教をを広めた。

問4 下線部②の後におきたできごとをア～オから3つ選び、年代の古い順に並べなさい。

- ア 満州国が建国された。
- イ 日本が二十一か条の要求を示した。
- ウ 清に遼東半島が返還された。
- エ 南満州鉄道株式会社が設立された。
- オ 義和団事件が起こった。

問5 下線部③について、次の(1), (2)に答えなさい。

- (1) この条約は、わが国にとって不平等な内容が2つ含まれていました。このうち貿易にかかわる内容を、「関税」という語句を使い、簡単に書きなさい。
- (2) 表は、1861年から1867年における函館港に入港した外国船の数を国別にまとめたものであり、、には、それぞれ国の名が入ります。表に関して述べた次の文の、に、表と共通して当てはまる国の名を、それぞれ書きなさい。また、に当てはまる語句を書きなさい。

表

年 \ 国	<input type="text" value="a"/>	<input type="text" value="b"/>	フランス	ロシア	オランダ
1861	23	11	…	15	…
1862	29	14	1	27	3
1863	15	26	1	1	2
1864	17	46	2	…	…
1865	3	27	5	2	2
1866	1	22	9	1	…
1867	5	26	3	1	2

※ 表中の「…」は、数値が不明であることを示す。(「函館市史」より作成)

わが国は、の要求により開国したが、表の期間中に、函館港に入港した外国船の数が最も多い国は、であった。1863年からの船が少なくなったのは、1861年にの国内で起きたの影響によるものと考えられる。

問6 カードA～Eを、わが国における歴史を社会のしくみなどによって分けた時代区分に当てはめるとき、古代と現代に当てはまるカードを、それぞれA～Eから1つ選びなさい。

3

次の資料は、ある中学生が、日本の国会、内閣、裁判所について学習したことをまとめたものの一部です。これを見て、問いに答えなさい。

資料

<p>【国会】</p> <p>① <u>国会</u>は、国権の最高機関であり、慎重な審議を行えるよう② <u>二院制</u>をとっている。</p>	<p>【内閣】</p> <p>内閣は、閣議を開き、③ <u>政府</u>の様々な方針や行政の運営について決定している。</p>	<p>【裁判所】</p> <p>裁判所は、④ <u>法</u>にもとづき、⑤ <u>裁判</u>をとおして争いを解決し、国民の権利や社会の秩序を守っている。</p>
---	---	--

問1 下線部①の仕事について述べた文として正しいものを、ア～エから1つ選びなさい。

- ア 法律を公布する。
- イ 予算を作成する。
- ウ 最高裁判所長官を指名する。
- エ 条約を承認する。

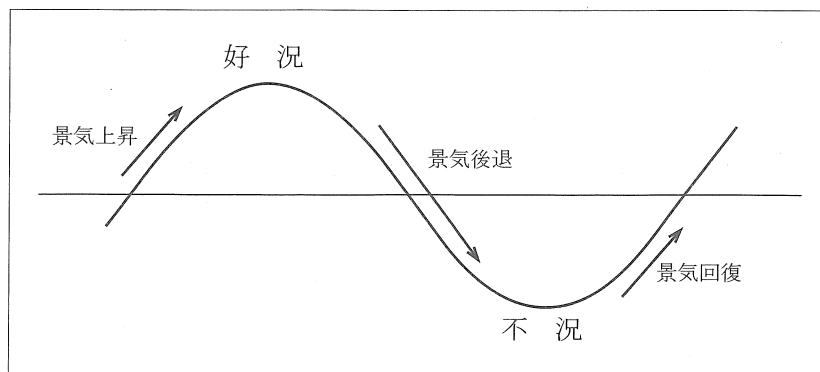
問2 下線部②に関して述べた次の文の **A** に当てはまる語句を、ア～エから選びなさい。また、**B** に当てはまる語句を書きなさい。

国会では、内閣総理大臣の指名などにおいて、衆議院と参議院の議決が異なる場合、**A** が開かれ、意見の調整が行われるが、それでも一致しない場合、衆議院の議決が優先される。これを衆議院の **B** という。

- ア 両院協議会
- イ 公聴会
- ウ 特別委員会
- エ 本会議

問3 下線部③は、図1で示したような景気変動（景気循環）を調節し、経済を安定させようとしています。図1の好況のときに、一般に見られることを、ア～カから3つ選びなさい。

図1

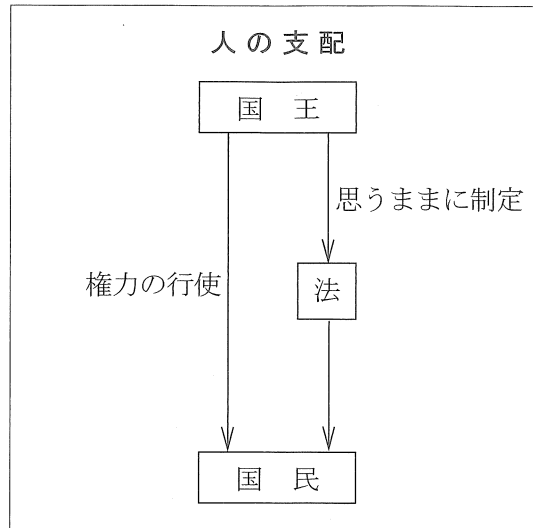


- ア 物価の上昇
- イ 物価の下落
- ウ 企業の生産の拡大
- エ 企業の生産の縮小
- オ 賃金の減少
- カ 家計の消費の増加

問4 下線部④に関して、人の支配と、法の支配を比較して説明した次の文の に当てはまる内容を、「国民」という語句を使い、簡単に書きなさい。

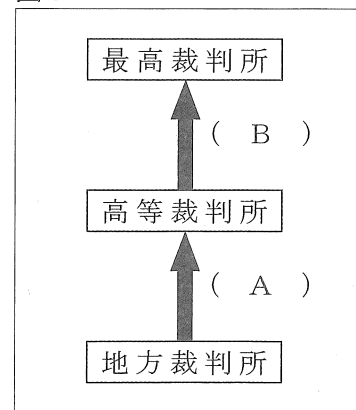
人の支配では、図2のように、国王が直接国民に権力を行使したり、国王が思うままに制定した法によって権力を行使したりするため、人権は保障されない。一方、法の支配では、 によって国王や政府の権力が制限されるため、人権は保障される。

図2



問5 下線部⑤に関して、図3は、1つの事件について、3回まで裁判を受けることができるしくみを示しています。このしくみを何といいますか、漢字3字で書きなさい。また、(A)、(B)に当てはまる語句を、それぞれ書きなさい。

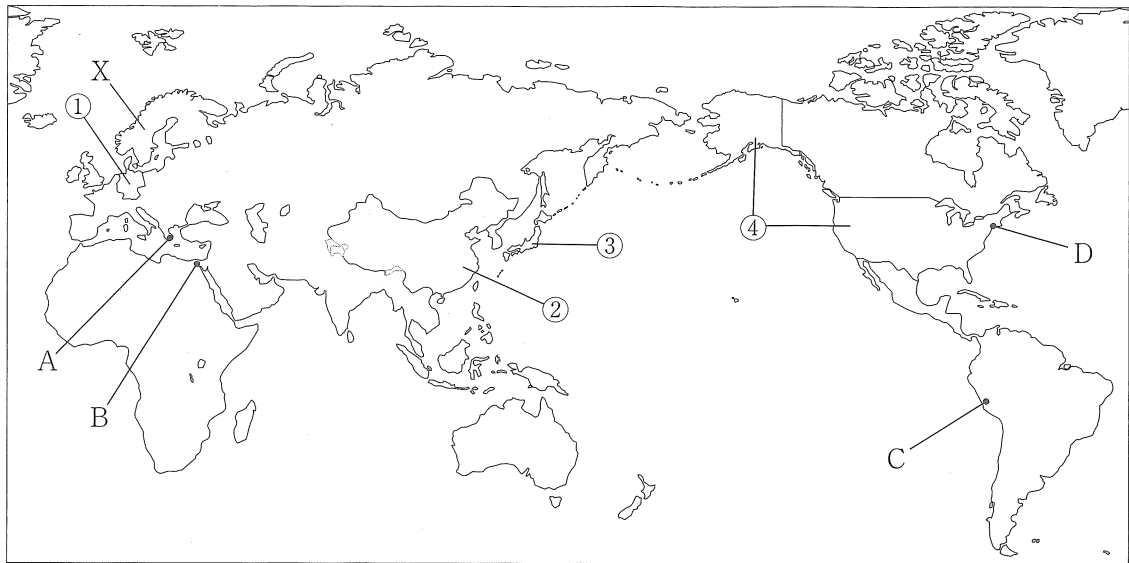
図3



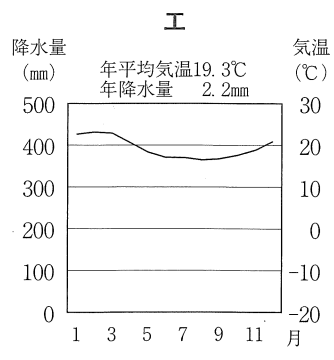
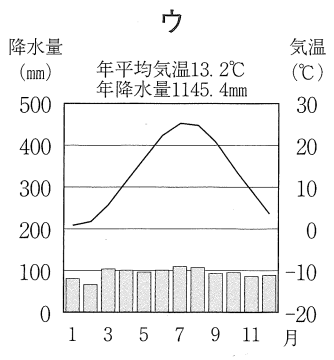
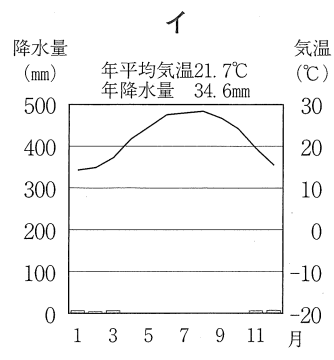
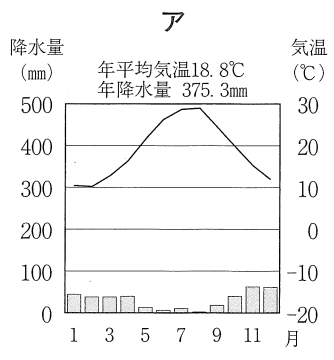
4
A

次のA, Bに答えなさい。
次の略地図を見て、問いに答えなさい。

略地図



問1 略地図のA～Dの都市の気温と降水量を示したグラフを、ア～エからそれぞれ選びなさい。



(「理科年表2019」より作成)

問2 略地図のXの半島には、氷河によってけずられてできた谷に海水が入りこんだ細長い湾や入り江が見られます。このような湾や入り江を何といいますか、書きなさい。また、Xの半島の名を、ア～エから選びなさい。

- ア アラビア半島 イ スカンディナビア半島
- ウ イベリア半島 エ フロリダ半島

問3 表のa～dには、略地図の①～④の国のいずれかが当てはまります。a～dそれぞれに当てはまる国を、①～④から選びなさい。

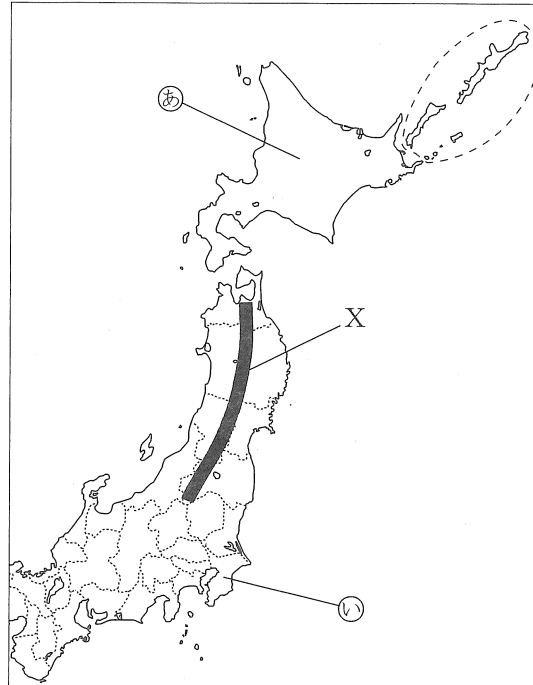
表

項目 国	人口密度 (人/km ²)	森林面積 (千ha)	自動車生産台数 (千台)	穀物自給率 (%)
a	340	24,956	9,729	24.0
b	234	11,421	5,120	113.0
c	33	310,370	11,315	126.0
d	149	209,864	27,809	100.0

※ 人口密度のデータは2019年，森林面積のデータは2016年，自動車生産台数のデータは2018年，穀物自給率のデータは2013年。(世界国勢図会2019/20年版より作成)

B 次の略地図を見て、問いに答えなさい。

略地図



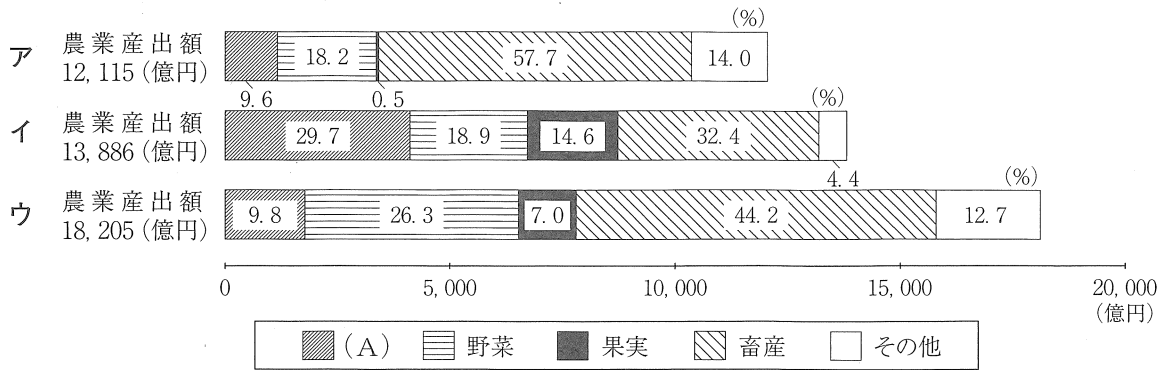
問1 次の文の ， に当てはまる語句を、それぞれ書きなさい。

東北地方には、略地図のXで示される 山脈がある。この山脈を境とする太平洋側は、日本海側に比べ年間を通じて降水量が少なく、夏になると親潮の影響を受けて とよばれる冷たい北東からの風が吹くことがある。

問2 次の文の に当てはまる語句を、漢字2字で書きなさい。また、 に当てはまる語句を書きなさい。

略地図の で囲まれた島々は日本固有の領土であり、 領土とよばれている。これらの島々のうち、最も面積が広いのは、 島である。

問3 北海道，東北，九州の2016年における農業産出額と農産物の割合を示したグラフを，ア～ウからそれぞれ選びなさい。また，(A)に当てはまる農産物の名を書きなさい。



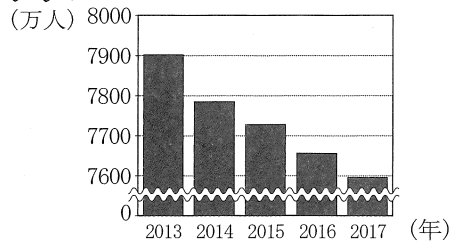
(「データで見る県勢 (日本国勢図会地域統計版) 2019年版」より作成)

問4 略地図の㊸と㊹の都道府県に関して述べた次の文の に当てはまる内容を，簡単に書きなさい。また，①，②の { } に当てはまる語句を，ア～ウからそれぞれ選びなさい。

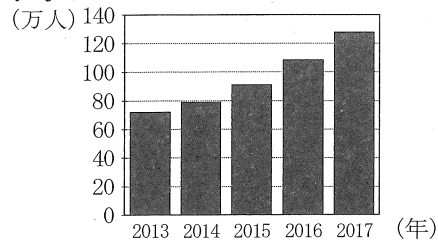
グラフ1は，日本における生産年齢人口の推移を，グラフ2は，日本における外国人労働者数の推移を示したものである。また，グラフ3，4は，それぞれ2017年の㊸，㊹のいずれかの都道府県における産業別人口の割合を，外国人労働者を含む場合(I)と外国人労働者だけの場合(II)とで比較できるように示したものである。

グラフ1，2から，少子高齢化が進む日本では， による労働力不足を外国人労働者で補っていると考えられるが，グラフ3とグラフ4のそれぞれで，(I)と(II)を比較すると，㊸，㊹ともに，産業ごとの労働者数に占める外国人労働者数の割合は異なっており，産業によって労働力不足の補い方が異なっていると考えられる。また，㊸では① {ア 第一 イ 第二 ウ 第三} 次産業において，㊹では② {ア 第一 イ 第二 ウ 第三} 次産業において外国人労働者が占める割合が大きいことから，地域によっても労働力不足の補い方が異なっていると考えられる。


グラフ1




グラフ2



グラフ3



グラフ4



第一次産業 第二次産業 第三次産業

(「データで見る県勢 (日本国勢図会地域統計版) 2019年版」，総務省統計局「人口推計」，厚生労働省「外国人雇用状況」より作成)