

受検番号	第	番
------	---	---

令和2年度学力検査問題

社 会 (11時45分～12時35分)
(50分間)

注 意

1 解答用紙について

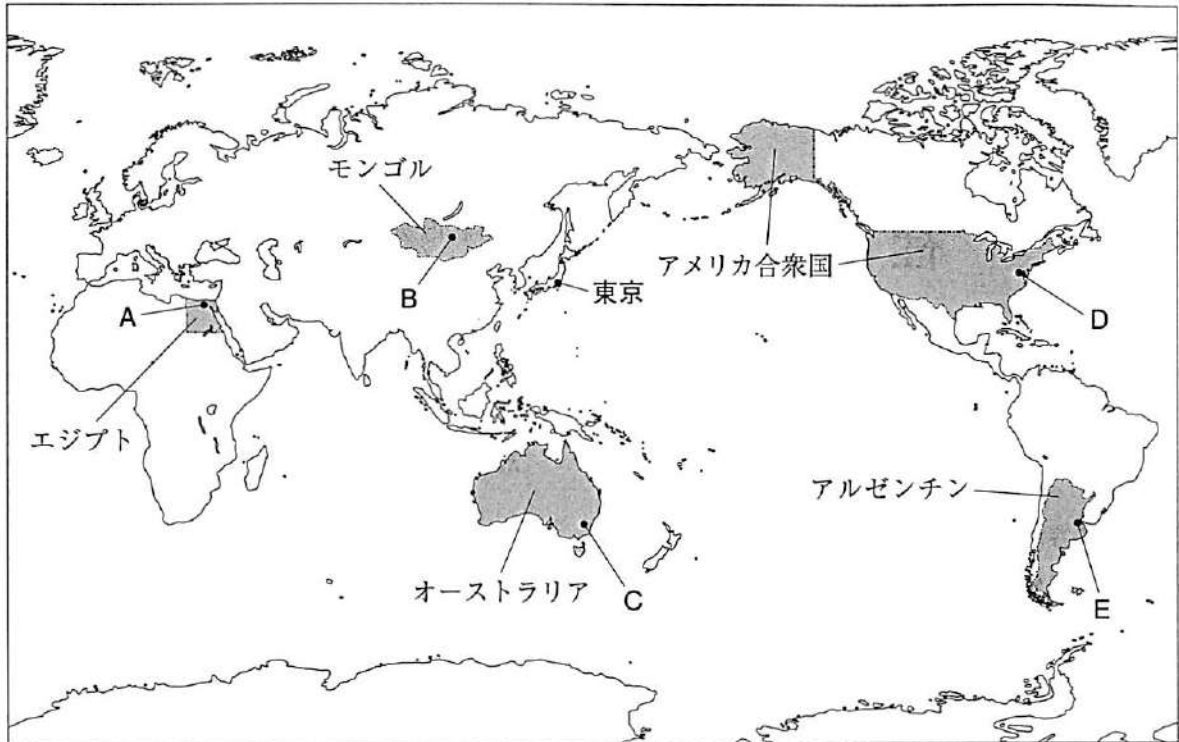
- (1) 解答用紙は1枚で、問題用紙にはさんであります。
- (2) 係の先生の指示に従って、所定の欄2か所に受検番号を書きなさい。
- (3) 答えはすべて解答用紙のきめられたところに、はっきりと書きなさい。
- (4) 解答用紙は切りはなしてはいけません。
- (5) 解答用紙の※印は集計のためのもので、解答には関係ありません。

2 問題用紙について

- (1) 表紙の所定の欄に受検番号を書きなさい。
 - (2) 問題は全部で6問あり、表紙を除いて17ページです。
- 印刷のはっきりしないところは、手をあげて係の先生に聞きなさい。

- 1 Sさんは、エジプト、モンゴル、オーストラリア、アメリカ合衆国及びアルゼンチンの5か国について調べました。次の地図1をみて、問1～問5に答えなさい。(15点)

地図1



問1 三大洋のうち、地図1中に示したアメリカ合衆国のある大陸が面している二つの海洋の名称を、それぞれ書きなさい。(3点)

問2 地図1中のA～Eの地点は、5か国の首都の位置を示したものです。5か国の首都の位置について述べた文として正しいものを、次のア～エの中から一つ選び、その記号を書きなさい。(2点)

- ア 5か国の首都のうち、南半球に位置するものは三つである。
- イ 5か国の首都のうち、ユーラシア大陸に位置するものは二つである。
- ウ 5か国の首都のうち、位置の経度が西経で表示されるものは二つである。
- エ 5か国の首都のうち、今年最も早く1月1日を迎えた地点に位置する首都はEである。

問3 地図1中のEの地点は、東京からみたときにおよそどの方位ですか。東京からの距離と方位が正しくあらわされた地図2をみて、最も適切なものを、次のア～エの中から一つ選び、その記号を書きなさい。(2点)

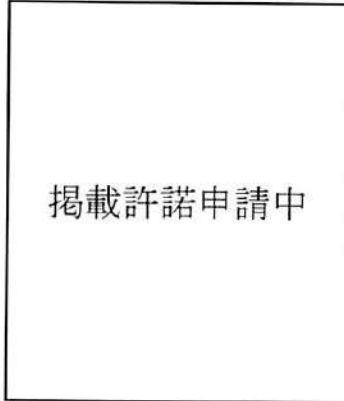
- ア 北東 イ 東
- ウ 南東 エ 南

地図2



問 4 次のグラフは、乾燥帯の砂漠気候に属する地図 1 中の A の地点の気温と降水量を示したものです。また、資料は、砂漠気候にみられる景観を示したものです。グラフにみられる砂漠気候の特色を、降水量に着目し、資料から読みとれる砂漠気候における植物の生育にふれて書きなさい。(5点)

グラフ



(理科年表 2019 から作成)

資料



サハラ砂漠

問 5 次の表は、地図 1 中に示した 5 か国の、2016 年における 1 人あたりの G N I、輸出入総額とおもな輸出入品(上位 3 品目)の総額に占める割合を示したものです。表から読みとれる内容を述べた文として正しいものを、下のア～オの中からすべて選び、その記号を書きなさい。(3点)

表

	1 人あたりの G N I (ドル)	輸出総額とおもな輸出品(上位 3 品目)の総額に占める割合			輸入総額とおもな輸入品(上位 3 品目)の総額に占める割合				
		輸出総額(百万ドル)	第 1 位 (%)	第 2 位 (%)	第 3 位 (%)	輸入総額(百万ドル)	第 1 位 (%)	第 2 位 (%)	第 3 位 (%)
エジプト	2778	22507	金 (11.8)	野菜・果実 (11.3)	原油 (8.0)	58053	機械類 (16.4)	自動車 (7.8)	鉄鋼 (6.0)
モンゴル	3437	4916	銅鉱 (32.7)	石炭 (19.8)	金 (15.4)	3340	機械類 (20.0)	石油製品 (16.2)	自動車 (12.0)
オーストラリア	52730	189630	鉄鉱石 (20.9)	石炭 (15.6)	金 (7.4)	189406	機械類 (25.4)	自動車 (13.5)	石油製品 (6.0)
アメリカ合衆国	58876	1450457	機械類 (25.2)	自動車 (8.3)	石油製品 (4.6)	2248209	機械類 (29.1)	自動車 (12.5)	原油 (4.8)
アルゼンチン	12161	57733	植物性油かす (17.5)	自動車 (8.7)	とうもろこし (7.3)	55610	機械類 (28.1)	自動車 (17.1)	医薬品 (4.2)

(世界国勢図会 2018/19 年版から作成)

ア エジプトとモンゴルとオーストラリアを比べると、金の輸出額が最も多い国は、オーストラリアである。

イ アメリカ合衆国の原油の輸入額は、石油製品の輸出額の 2 倍以上である。

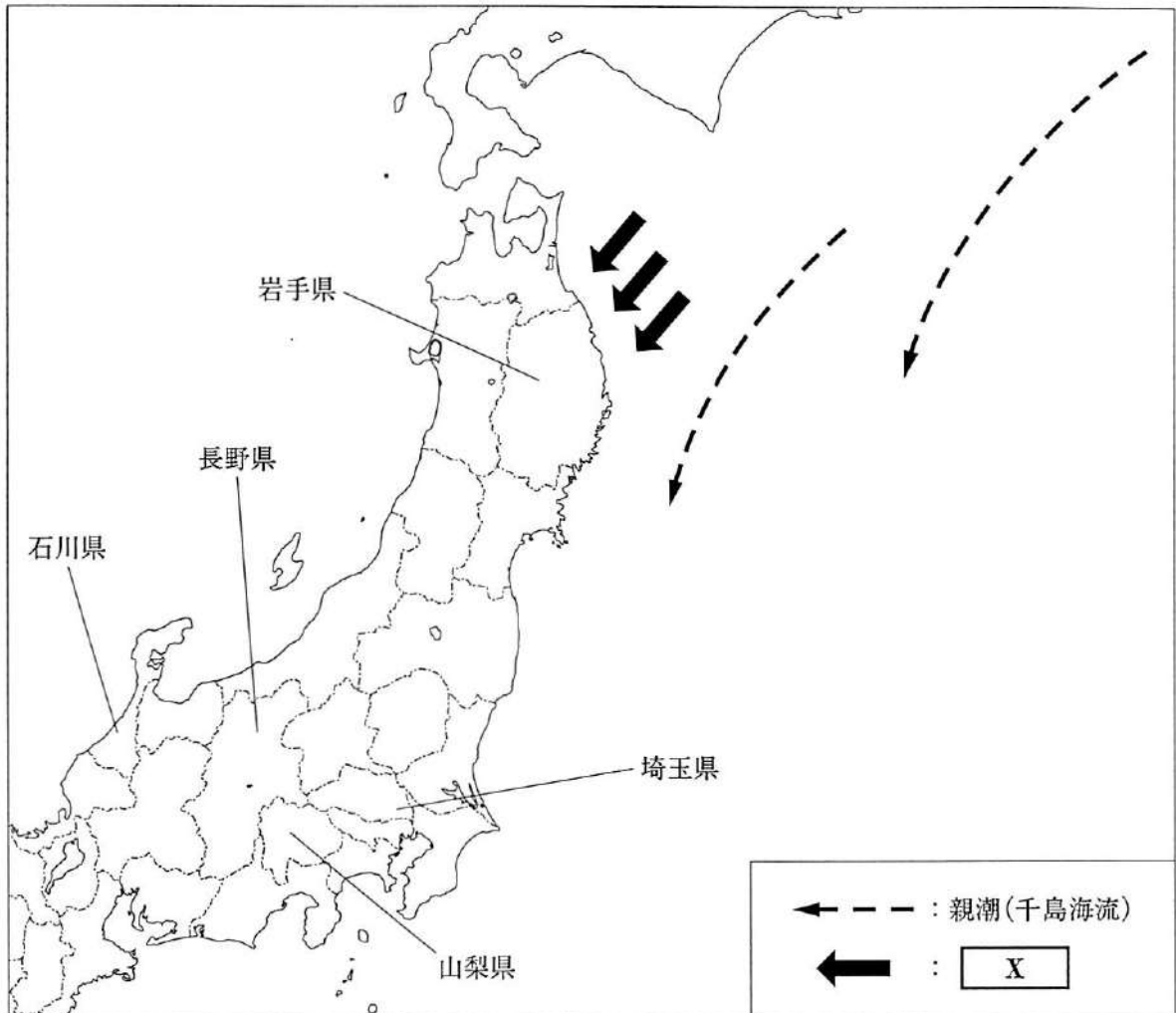
ウ 5 か国のいずれの国も、輸入総額に占める機械類と自動車の割合の合計は 30 % を超えている。

エ 5 か国において、1 人あたりの G N I が 50000 ドルを超えている国のおもな輸出品は、鉱産資源である。

オ 5 か国においては、1 人あたりの G N I が最も多い国が、貿易赤字が最も多い。

2 Nさんは、地理的分野の授業で日本の諸地域を学習したあと、地図1を作成しました。地図1をみて、問1～問5に答えなさい。(15点)

地図1



問1 Nさんは、東北地方の夏の気象災害について調べ、地図1中に海流と冷害をもたらす風を模式的に示し、次のようにまとめました。地図1とまとめの中の X にあてはまる語を書きなさい。(3点)

まとめ

東北地方の太平洋側では、夏になると寒流の親潮の影響を受け、 X とよばれる冷たく湿った北東の風がふくことがあります。 X がもたらす冷気と霧、また日照不足で、稲などの農作物が十分に育たず、収穫量が減ってしまう冷害が起こることがあります。冷害への対策として、短期間で成長し早く収穫できる品種の作付けなどが行われています。

問 2 Nさんは、地図 1 中の埼玉県、長野県、石川県の三つの県における県庁所在地の気温と降水量を調べ、次のⅠ～Ⅲのグラフをつくりました。Ⅰ～Ⅲのグラフと県庁所在地の組み合わせとして正しいものを、下のア～カの中から一つ選び、その記号を書きなさい。(2点)

Ⅰ	Ⅱ	Ⅲ
掲載許諾申請中		

(理科年表 2019 などから作成)

- | | | | |
|---|-----------|-----------|-----------|
| ア | Ⅰ - さいたま市 | Ⅱ - 長野市 | Ⅲ - 金沢市 |
| イ | Ⅰ - さいたま市 | Ⅱ - 金沢市 | Ⅲ - 長野市 |
| ウ | Ⅰ - 金沢市 | Ⅱ - さいたま市 | Ⅲ - 長野市 |
| エ | Ⅰ - 金沢市 | Ⅱ - 長野市 | Ⅲ - さいたま市 |
| オ | Ⅰ - 長野市 | Ⅱ - 金沢市 | Ⅲ - さいたま市 |
| カ | Ⅰ - 長野市 | Ⅱ - さいたま市 | Ⅲ - 金沢市 |

問 3 右の地図 2 は、地図 1 中の山梨県の一部を示した 2 万 5 千分の 1 の地形図です。地図 2 中には、川が山間部から平野や盆地に出たところに土砂がたまってつくられた、水はけがよいという特徴をもつ地形がみられます。このような地形の名称を書きなさい。

また、地図 2 から読みとれる、このような地形での農業におけるおもな土地利用について簡潔に説明しなさい。(5点)

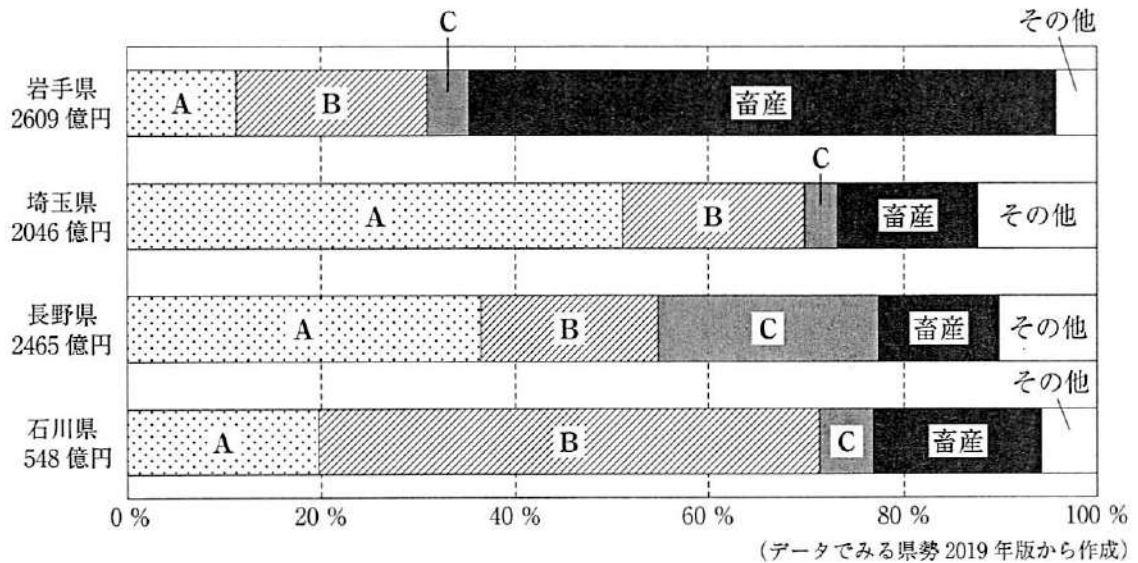
地図 2



(国土地理院 2 万 5 千分の 1 地形図「塩山」平成 28 年発行)

問 4 Nさんは、農産物について調べ、地図1中の岩手県、埼玉県、長野県、石川県の、2016年における農業産出額の割合を示した次のグラフをつくりました。グラフ中のA～Cには、米、野菜及び果実のいずれかがあてはまります。A～Cにあてはまる農産物の組み合わせとして正しいものを、下のア～カの中から一つ選び、その記号を書きなさい。(2点)

グラフ

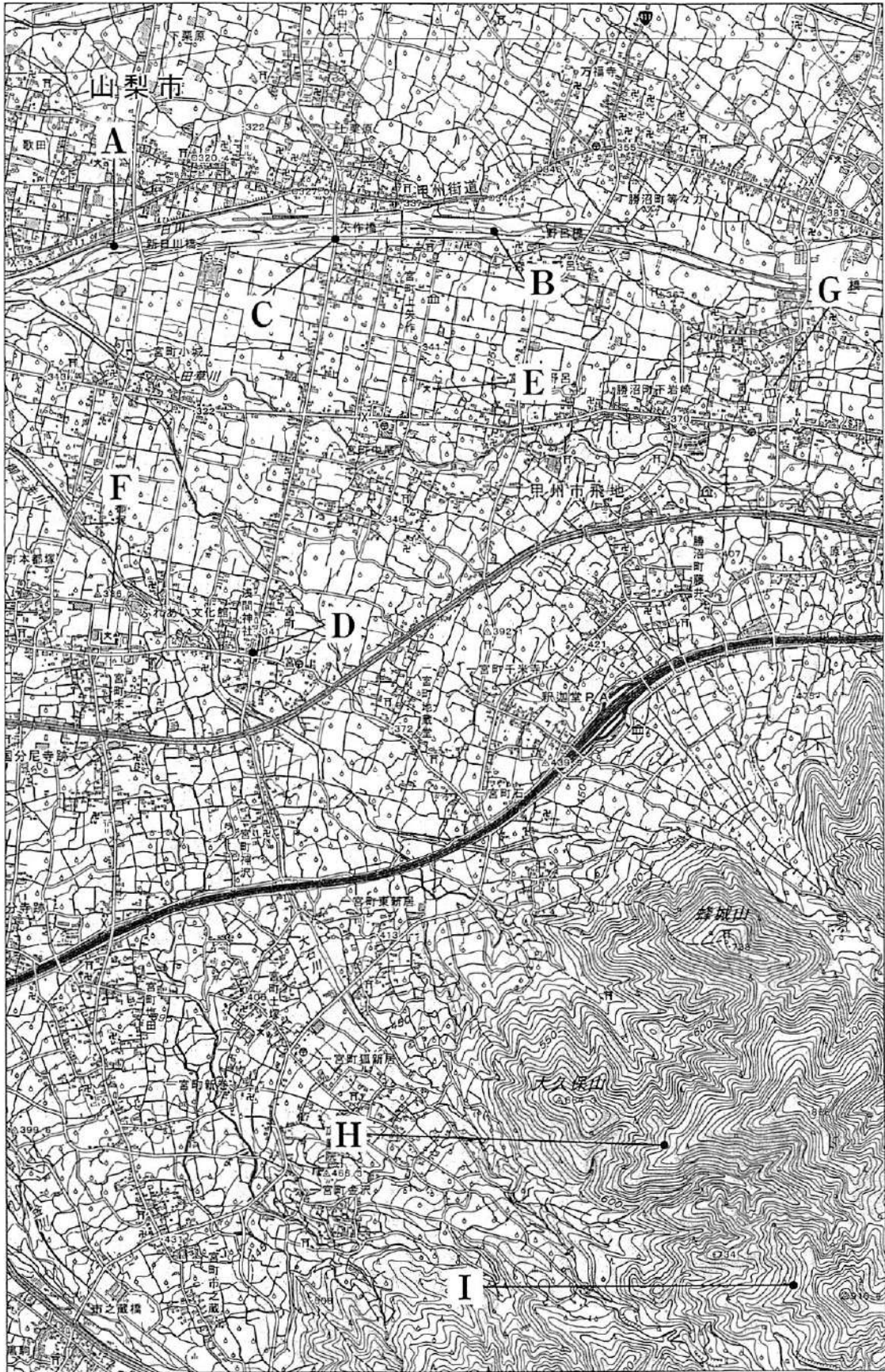


- | | |
|-----------------|-----------------|
| ア A-野菜 B-米 C-果実 | イ A-野菜 B-果実 C-米 |
| ウ A-米 B-野菜 C-果実 | エ A-米 B-果実 C-野菜 |
| オ A-果実 B-米 C-野菜 | カ A-果実 B-野菜 C-米 |

問 5 右の地図3は、地図1中の山梨県の一部を示した2万5千分の1の地形図です。地図3から読みとれる内容を述べた文として下線部が正しいものを、次のア～オの中からすべて選び、その記号を書きなさい。(3点)

- ア 〇目川は、A地点からB地点に向かって流れている。
- イ C地点からD地点までの直線距離は、地図上で約7cmであり、実際の直線距離は約1750mである。
- ウ E地点の小・中学校からみると、F地点の小・中学校は、およそ南西の方向にある。
- エ G地点には、図書館がある。
- オ H地点の高さとI地点の高さを比べると、H地点の方が高い。

地図3



(国土地理院 2万5千分の1 地形図「石和」平成 27 年発行一部改変)

3 次のⅠ～Ⅴは、Mさんが、五つの異なる時代の日本と中国との関係などについて調べ、まとめたものです。これをみて、問1～問5に答えなさい。(15点)

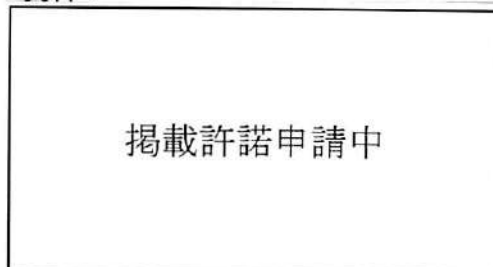
Ⅰ	邪馬台国の女王 A が、倭の30ほどの国々を従えていた。 A は、使いを魏に送り、皇帝から「親魏倭王」という称号と金印を授けられた。
Ⅱ	遣唐使とともに唐にわたった最澄と空海は、仏教の新しい教えを日本に伝えた。天台宗を伝えた最澄は、比叡山に延暦寺を建て、真言宗を伝えた空海は、高野山に金剛峯寺を建てた。
Ⅲ	元の皇帝は、日本を従えようと、使者を送ってきたが、執権の北条時宗がこれを無視したため、元は高麗の軍勢も合わせて攻めてきた。
Ⅳ	足利義満は明の求めに応じて倭寇を禁じる一方、正式な貿易船に、明からあたえられた勘合という証明書を持たせ、朝貢の形の日明貿易を始めた。
Ⅴ	中国船とオランダ船だけが、長崎で貿易を許されることになった。幕府は、オランダ人にオランダ風説書を、中国人に唐船風説書を差し出させた。

問1 まとめの中の **A** にあてはまる人物名を書きなさい。(3点)

問2 Mさんは、文化に興味をもち調べたところ、次のa、bの文と資料1、資料2をみつけました。Ⅱの時代の文化について述べた文と、その時代の代表的な文化財の組み合わせとして正しいものを、表中のア～エの中から一つ選び、その記号を書きなさい。(2点)

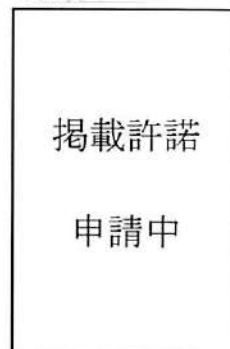
- a 漢字を変形させて、日本語の発音をあらわせるように工夫したかな文字を用いた文学が盛んになり、紀貫之らによって「古今和歌集」がまとめられた。
- b 寺院の部屋の様式を住居に取り入れた書院造が生まれ、床の間には花などがかざられるようになった。

資料1



源氏物語絵巻

資料2



雪舟の水墨画

表

	文化	代表的な文化財
ア	a	資料1
イ	a	資料2
ウ	b	資料1
エ	b	資料2

問 3 IIIの時代に起こった世界のできごとを述べた文として、その正誤の組み合わせが正しいものを、下のア～エの中から一つ選び、その記号を書きなさい。(3点)

- X 地中海を中心に広大な地域を支配したローマ帝国が東西に分裂した。
- Y フビライに仕えたイタリア人のマルコ・ポーロが『世界の記述』(『東方見聞録』)の中で、「黄金の国ジパング」を紹介した。
- Z ローマ教皇が免罪符を売り出すと、これを批判してルターやカルバンが宗教改革を始めた。

- ア X 正 Y 正 Z 誤 イ X 正 Y 誤 Z 誤
ウ X 誤 Y 正 Z 誤 エ X 誤 Y 正 Z 正

問 4 IVの時代における社会や経済の様子を述べた文として正しいものを、次のア～エの中から一つ選び、その記号を書きなさい。(2点)

- ア 豪族が支配していた土地と人々を、公地・公民として国家が直接支配する方針が示された。
- イ 惣とよばれる自治組織がつけられ、農業用水路の建設や管理、燃料や飼料をとる森林の利用や管理などについての村のおきてが定められた。
- ウ 人々は、口分田の面積に応じて租を負担し、このほかに一般の良民の成人男子には、布や特産物を都まで運んで納める調、庸などの税や、兵役の義務が課されるようになった。
- エ 近畿地方の進んだ農業技術が各地に広まり、農具では、田畑を深く耕せる鉄製の備中ぐわや、千歯こきなどが使われるようになって、作業の能率や生産力が上がった。

問 5 次の資料3は、Vの時代の幕府が大名を統制するために定めた法律で、第3代将軍のときに定められたものの一部をわかりやすくおしたものです。資料3の法律の名称を書きなさい。また、資料3中の大名とは、どのような武士のことか、石高にふれながら説明しなさい。(5点)

資料3

- 大名は、毎年4月中に江戸へ参勤すること。
- 新しい城をつくってはいけない。石垣などがこわれたときは奉行所の指示を受けること。
- 大名は、かつてに結婚してはいけない。
- 500石積み以上の船をつくってはならない。

4 次の年表をみて、問1～問5に答えなさい。(15点)

西暦(年)	できごと
1867	・大政奉還が行われる……………
1889	・大日本帝国憲法が發布される……………
1894	・日清戦争が始まる……………
1914	・第一次世界大戦が始まる……………
1924	・第15回衆議院議員総選挙が行われる…………… X
1925	・普通選挙法が成立する…………… C
1928	・第16回衆議院議員総選挙が行われる…………… Y
1941	・太平洋戦争が始まる……………
1951	・サンフランシスコ平和条約が結ばれる……………
1978	・日中平和友好条約が結ばれる……………

問1 次のア～エは、年表中Aの時期のできごとについて述べた文です。年代の古い順に並べかえ、その順に記号で書きなさい。(3点)

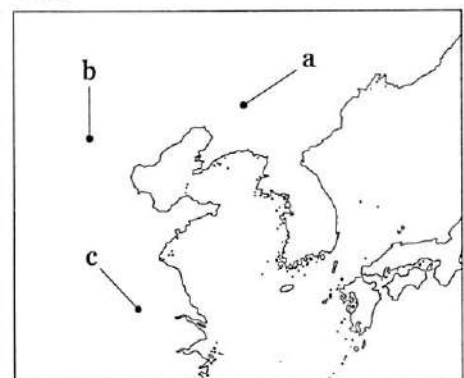
- ア 会議を開いて世論に基づいた政治を行うことなどを示した、五箇条の御誓文が發布された。
- イ 板垣退助らが、民撰議院設立建白書を政府に提出した。
- ウ 版籍奉還が行われ、藩主に土地と人民を政府に返させた。
- エ 内閣制度ができ、伊藤博文が初代の内閣総理大臣に就任した。

問2 次の文章は、年表中Bの時期のできごとについてまとめたものです。まとめの中の **P** にはあてはまる人物名を書きなさい。また、まとめの中の **Q** にはあてはまる語と **Q** の地図中の位置の組み合わせとして正しいものを、下のア～カの中から一つ選び、その記号を書きなさい。(3点)

まとめ

中国では、清を倒して漢民族の独立と近代国家の建設を旨とする革命運動が盛り上がりました。その中心となった **P** は三民主義を唱えて革命運動を進めました。1911年、武昌で軍隊が反乱を起こすと、革命運動は全国に広がり、多くの省が清からの独立を宣言しました。翌年、**P** が臨時大総統になり、**Q** を首都とする、アジアで最初の共和国である中華民国が建国されました。

地図



- ア Q - 南京 位置 - a
- イ Q - 南京 位置 - b
- ウ Q - 南京 位置 - c
- エ Q - 北京 位置 - a
- オ Q - 北京 位置 - b
- カ Q - 北京 位置 - c

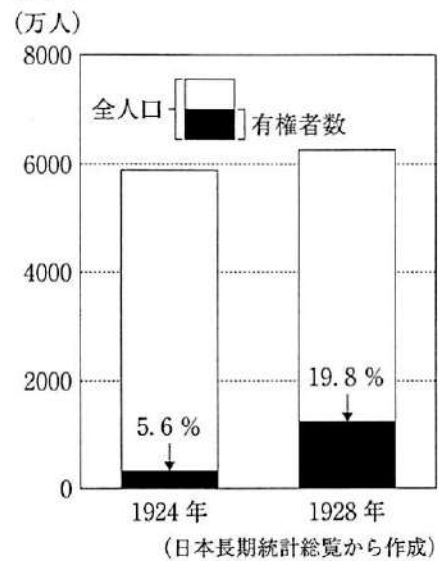
問 3 右のグラフは、年表中Xと年表中Yにおける全人口と有権者の割合を示したものです。年表中Cによって、有権者の割合が変化しましたが、年表中Cにより、衆議院議員の選挙権はどのような人がもつこととされたかを説明しなさい。

また、年表中Cのときの内閣総理大臣を、次のア～エの中から一つ選び、その記号を書きなさい。

(4点)

- ア 原敬 イ 加藤高明
ウ 寺内正毅 エ 犬養毅

グラフ



問 4 年表中Dの時期における日本の社会や経済の様子を述べた文として正しいものを、次のア～エの中から一つ選び、その記号を書きなさい。(2点)

- ア 民法が改正され、個人の尊厳と男女の本質的平等に基づく新たな家族制度が定められた。
イ 高度経済成長のなか、テレビ、洗濯機、冷蔵庫などの家庭電化製品や自動車が普及した。
ウ 政党が解散して、新たに結成された大政翼賛会に合流した。
エ 小作料の減額などを求める小作争議が盛んになり、日本農民組合が結成された。

問 5 次は、年表中Eの時期の日本の外交についてまとめたものです。まとめの中の にあてはまる語を書きなさい。(3点)

まとめ

1960年代以降、日本と韓国・中国との関係にも変化が生まれました。1965年、日本は韓国と日韓基本条約を結び、韓国政府を朝鮮半島の唯一の政府として承認しました。中国とは、1972年、田中角栄内閣のときに が調印されました。 によって中国との国交を正常化し、1978年には、日中平和友好条約が結ばれました。

- 5 Kさんのクラスでは、公的的分野の学習のまとめとして、自分の興味のある分野からテーマを選び、調べることになりました。次の表は、Kさんが興味をもった分野とテーマについてまとめたものです。表をみて、問1～問8に答えなさい。(25点)

表

分野	テーマ
国の政治のしくみ	・①国会と内閣の関係はどのようなものだろうか。
裁判所のしくみと働き	・法や②裁判は、どのような役割を果たしているのだろうか。
③政治参加と選挙	・選挙はどのように行われ、どのような課題があるのだろうか。
④価格の働き	・市場経済において、価格はどのような働きをしているのだろうか。
私たちの生活と金融機関	・銀行や⑤日本銀行は、どのような仕事をしているのだろうか。
生産と労働	・⑥労働者の権利にはどのようなものがあるのだろうか。
社会保障のしくみ	・⑦日本の社会保障制度はどのようなになっているのだろうか。
さまざまな国際問題	・地球はどのような⑧環境問題をかかえているのだろうか。

問1 下線部①に関連して、2017年9月に衆議院が解散し、11月に第98代内閣が発足しました。

Kさんは、第97代内閣にかわり第98代内閣が発足するまでの一連のできごとを示した、次のア～エのカードをつくりました。ア～エのカードを、第98代内閣が発足するまでのできごとの順に並べかえ、その順に記号で書きなさい。(3点)

- ア

内閣総理大臣の指名

- イ

特別会(特別国会)の招集

- ウ

国務大臣の任命

- エ

衆議院議員総選挙の投票

問2 下線部②に関連して、日本の裁判に関して述べた文として正しいものを、次のア～オの中からすべて選び、その記号を書きなさい。(3点)

- ア 裁判所は最高裁判所と下級裁判所とに分かれ、下級裁判所には、高等裁判所、地方裁判所、家庭裁判所、簡易裁判所の4種類がある。
- イ 第一審の裁判所の判決に納得できない場合、第二審の裁判所に上告し、さらに不服があれば控訴することができる。
- ウ 裁判員制度とは、国民の中から選ばれた裁判員が、地方裁判所で行われるすべての刑事裁判に参加する制度である。
- エ 民事裁判では、被告人が経済的な理由などにより弁護人を依頼できないときは、国が費用を負担して弁護人をつけることとなっている。
- オ 法律が憲法に違反していないかどうかの審査を行う権限は、すべての裁判所が持っている。

問 3 次は、下線部③について学ぶ授業における、先生とKさんの会話です。会話文を読み、下の(1)と(2)の問いに答えなさい。

先生：衆議院議員の総選挙では、小選挙区制と比例代表制とを組み合わせた選挙制度がとられています。比例代表制とは、どのような選挙制度か、簡潔に説明できますか。

Kさん：はい。比例代表制とは、A 選挙制度です。

先生：そうですね。よく学習していますね。

Kさん：近年、選挙権年齢が満18歳以上に引き下げられたこともあり、選挙に興味をもっています。でも、若い人たちの投票率は低いみたいですね。

先生：そうですね。投票率が低いことは、選挙の課題の一つですね。

Kさん：選挙の課題は、ほかにどのようなものがありますか。

先生：「一票の格差」も選挙の課題の一つとされています。

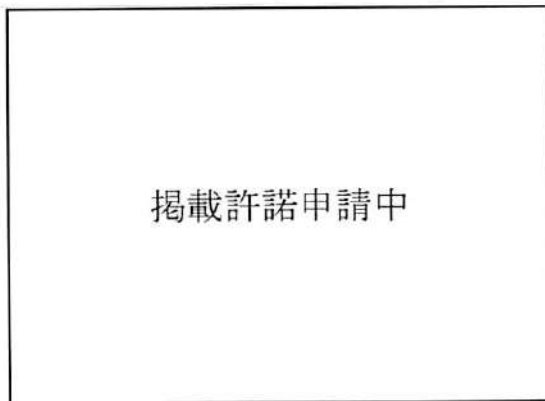
Kさん：「一票の格差」とは、どのようなことですか。

先生：有権者の一票の価値に格差が生じることです。わかりやすいように、資料を使って説明しますね。

(1) 会話文中の A にあてはまる比例代表制のしくみの説明を、「得票数」と「議席数」という二つの語を用いて書きなさい。(4点)

(2) 次のア～エの中から、会話文中の「一票の格差」を説明する際に用いる資料として最も適切なものを一つ選び、その記号を書きなさい。(2点)

ア



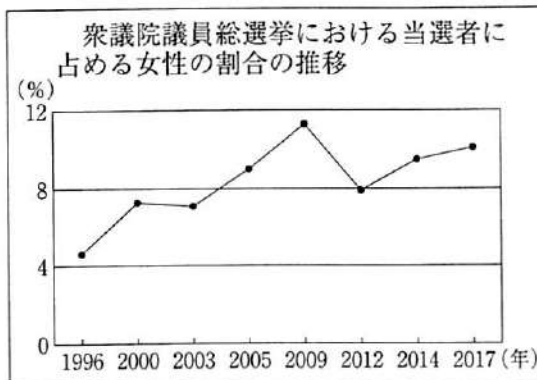
(明るい選挙推進協会ホームページから作成)

イ



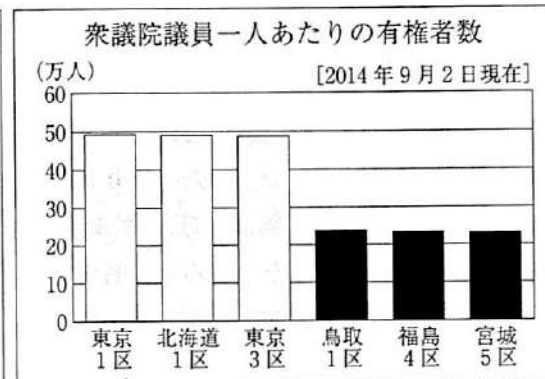
(総務省ホームページから作成)

ウ



(総務省ホームページから作成)

エ



(総務省ホームページから作成)

問 4 下線部④に関連して、Kさんは、独占禁止法について調べ、次のようにまとめました。まとめの中の **P** にあてはまる語を書きなさい。(3点)

まとめ

価格競争が弱まると、消費者は不当に高い価格を支払わされることになりかねません。そこで、競争をうながすために独占禁止法が制定され、**P** がその運用に当たっています。**P** は独占禁止法に基づいて設置される行政機関で、不当な取り引きなどをしないよう監視しており、「独占禁止法の番人」ともよべれます。

問 5 下線部⑤について、日本銀行には、「発券銀行」、「政府の銀行」、「銀行の銀行」というおもな役割があります。このうち、「銀行の銀行」とよばれる役割について説明しなさい。(4点)

問 6 Kさんは、下線部⑥について調べ、次のようにまとめました。まとめの中の **I** ~ **III** にあてはまる語の組み合わせとして正しいものを、下のア~カの中から一つ選び、その記号を書きなさい。(2点)

まとめ

働く人たちの権利は、さまざまな法律によって守られています。**I** では、労働時間は週 **II** 以内、1日8時間以内とし、1週間で最低1日は休日としなければならないことなどが定められています。近年では、日本の労働者の年間労働時間は次第に短くなり、週休二日制を採用する企業が一般的になりました。しかし、先進工業国の中でも依然として長いのが現状です。労働時間を減らし、育児休業や介護休業などを充実させることで、仕事と家庭生活や地域生活とを両立できる **III** を実現することが課題になっています。

- | | | | |
|---|-------------|------------|---------------------|
| ア | I - 労働基準法 | II - 48 時間 | III - ワーク・ライフ・バランス |
| イ | I - 労働基準法 | II - 40 時間 | III - インフォームド・コンセント |
| ウ | I - 労働基準法 | II - 40 時間 | III - ワーク・ライフ・バランス |
| エ | I - 労働関係調整法 | II - 48 時間 | III - インフォームド・コンセント |
| オ | I - 労働関係調整法 | II - 48 時間 | III - ワーク・ライフ・バランス |
| カ | I - 労働関係調整法 | II - 40 時間 | III - インフォームド・コンセント |

問 7 下線部⑦について、次のXとYの正誤の組み合わせとして正しいものを、下のア~エの中から一つ選び、その記号を書きなさい。(2点)

X 社会保障制度における社会福祉とは、高齢者や障がいのある人、子供など、社会生活を営むうえで不利だったり立場が弱かったりする人々を支援するしくみのことである。
Y 介護保険制度とは、20歳以上の希望する人が加入し、介護が必要になったときに介護サービスを受けられる制度である。

- | | | | | | |
|---|-----|-----|---|-----|-----|
| ア | X 正 | Y 正 | イ | X 正 | Y 誤 |
| ウ | X 誤 | Y 正 | エ | X 誤 | Y 誤 |

問 8 Kさんは、下線部⑧に関連して、地球環境問題の解決に向けた国際社会の取り組みについて調べ、次のようにまとめました。まとめの中の **Q** と **R** にあてはまる語を、それぞれ書きなさい。(2点)

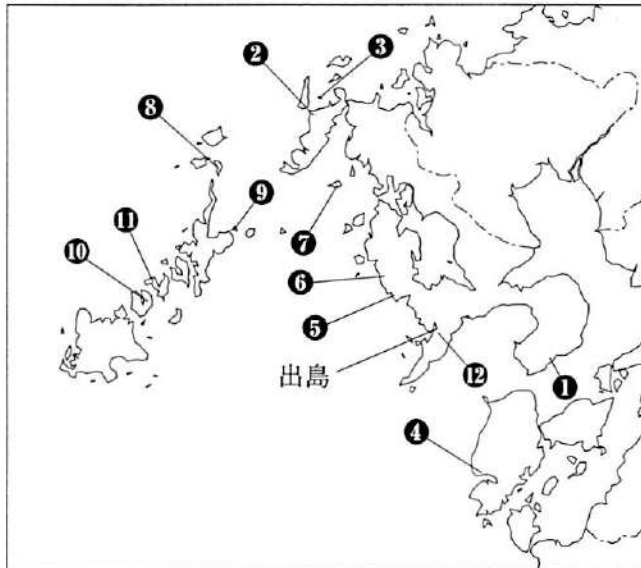
まとめ

1997年に **Q** 市で開かれた、気候変動枠組条約の締約国会議で、先進国に温室効果ガスの排出削減を義務づける **Q** 議定書が採択されました。しかし、先進国と途上国の間の利害対立などの課題があり、**Q** 議定書後の枠組みについて議論が続いていました。そこで、2015年に **R** 協定が採択されました。**R** 協定では、途上国を含むすべての参加国が自主的に削減目標を決め、平均気温の上昇をおさえる対策をすすめることで合意しました。

- 6 Hさんは、2018年にユネスコの世界文化遺産に登録された「長崎と天草地方の潜伏キリシタン関連遺産」について調べ、次の資料1をつくりました。これをみて、問1～問5に答えなさい。(15点)

資料1

「長崎と天草地方の潜伏キリシタン関連遺産」は、17世紀から2世紀以上にわたる①キリスト教禁教政策の下で、ひそかに信仰を伝えた人々の歴史を物語る12の資産から構成されています。下の年表は、潜伏キリシタンや長崎に関するできごとをまとめたものです。



①	はらじょう 原城跡
② ③	平戸の聖地と集落
④	あまくさ さきつ 天草の崎津集落
⑤	そとめ しつ 外海の出津集落
⑥	おのの 外海の大野集落
⑦	くろしま 黒島の集落
⑧	のぞきしま 野崎島の集落跡
⑨	かしらがしま 頭ヶ島の集落
⑩	ひじかしま 久賀島の集落
⑪	なるしま えがみ 奈留島の江上集落
⑫	おおうらてんしゅどう 大浦天主堂

① 原城跡(長崎県南島原市)

掲載許諾
申請中

キリシタンが「潜伏」し、独自に信仰を続ける方法を模索することを余儀なくされたきっかけとなる島原・天草一揆の主戦場跡です。

⑫ 大浦天主堂(長崎県長崎市)

掲載許諾
申請中

居留地の外国人のために建てられた教会堂で、「潜伏」が終わるきっかけとなる「信徒発見」の場所です。1865年、ここを訪れた潜伏キリシタンが、宣教師に信仰を告白しました。

年表

西暦(年)	できごと
1587	・豊臣秀吉が宣教師の国外追放を命じる
1612	・幕府領にキリスト教の禁教令が出される
1624	・②スペイン船の来航が禁止される
1637	・島原・天草一揆が起こる
1639	・③ポルトガル船の来航が禁止される
1641	・平戸のオランダ商館を出島に移し、鎖国体制が固まる
1804	・④ロシア使節レザノフが長崎に来航する
1854	・日米和親条約が結ばれる
1858	・⑤日米修好通商条約が結ばれ、長崎が開港される

問 1 Hさんは、資料1中の下線部①に関連して、キリスト教の伝来について調べ、次のようにまとめました。まとめの中の **P** にあてはまる人物名を書きなさい。(2点)

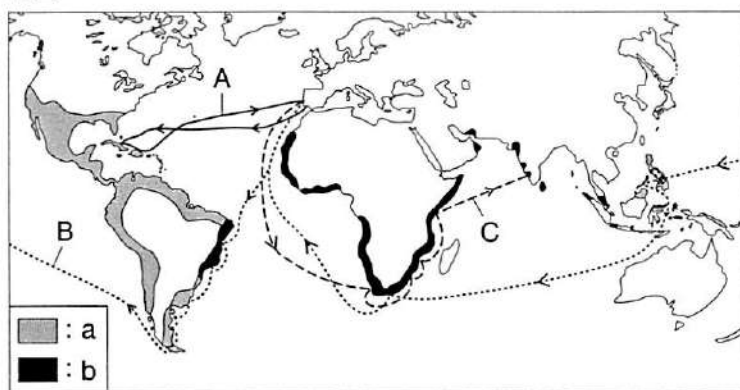
まとめ

<p>1549年、アジアで布教していたイエズス会の宣教師 P が、キリスト教を伝えるために日本にきました。P は、布教のために鹿児島、山口などを訪れ、2年余りで日本を去りましたが、残った宣教師が布教に努めました。右の資料2は、P をえがいた肖像画です。</p>	<p>資料2</p> <div style="border: 1px solid black; padding: 10px; text-align: center;"> <p>掲載許諾 申請中</p> </div>
---	---

問 2 資料1中の下線部②と下線部③に関連して、Hさんは、スペインとポルトガルの世界進出について調べ、コロンブス、バスコ・ダ・ガマ、マゼランの船隊の航路と、16世紀ごろのスペイン、ポルトガルの植民地を模式的に示した次の地図をつくりました。地図中のA～Cは航路を、地図中のa、bは植民地を示しています。

バスコ・ダ・ガマの航路とポルトガルの植民地にあたるものの組み合わせとして正しいものを、ア～カの中から一つ選び、その記号を書きなさい。(3点)

地図



- ア 航路-A 植民地-a
- イ 航路-B 植民地-a
- ウ 航路-C 植民地-a
- エ 航路-A 植民地-b
- オ 航路-B 植民地-b
- カ 航路-C 植民地-b

問 3 資料1中の下線部④に関連して、次のア～エは、ロシアやソ連に関するできごとについて述べた文です。年代の古い順に並べかえ、その順に記号で書きなさい。(3点)

ア ゴルバチョフ共産党書記長とブッシュ大統領が、地中海のマルタ島で会談し、冷戦の終結を宣言した。

イ 日ソ共同宣言が調印され、日本とソ連との国交が回復し、同年、日本はソ連の支持も受けて国連に加盟した。

ウ ロシア革命が起こり、レーニンの指導のもと、ソビエトに権力の基盤を置く政府ができた。

エ ソ連が、ヤルタ会談での秘密協定に基づき、日ソ中立条約を破って、満州や朝鮮に侵攻した。

問 4 資料 1 中の下線部⑤に関連して、次の表は、日米修好通商条約によって開港された函館、神奈川、長崎、新潟、兵庫がある道県の、2016 年における人口、面積、海岸線の延長、農業産出額、工業出荷額を示したものです。長崎県にあたるものを、表中の A～オの中から一つ選び、その記号を書きなさい。(2 点)

表

道県名	人口 (千人)	面積 (km ²)	海岸線の延長 (km)	農業産出額 (億円)	おもな産出物				工業出荷額 (億円)
					米	野菜	果実	畜産	
ア	9145	2416	432	846	32	476	86	165	164236
イ	5520	8401	850	1690	452	435	34	679	152350
ウ	2286	12584	635	2583	1484	386	80	499	47480
エ	1367	4132	4183	1582	127	513	138	525	17582
オ	5352	83424	4461	12115	1167	2206	61	6986	61414

(データでみる県勢 2019 年版などから作成)

問 5 H さんは、長崎県と、2017 年に世界文化遺産に登録された「^{ひな}神宿る島」^{おき}宗像・^{しま}沖ノ島と関連遺産群」がある福岡県の財政について調べ、次のグラフをつくりました。グラフをみて、福岡県と比較した長崎県の歳入の内訳の特色について、地方税と地方交付税交付金に着目し、地方交付税交付金とはどのようなものかにふれながら説明しなさい。(5 点)

グラフ 長崎県と福岡県の平成 30 年度一般会計当初予算(歳入)の内訳

長崎県

福岡県



(長崎県ホームページ、福岡県ホームページから作成)

(以上で問題は終わりです。)

社 会 解 答 用 紙 (1)

1

問 1	
問 2	
問 3	
問 4	
問 5	

2

問 1	
問 2	
問 3	(名称) (説明)
問 4	
問 5	

3

問 1	
問 2	
問 3	
問 4	
問 5	(名称) (説明)

1～3の計

--

受 検 番 号	第	番
---------	---	---

(切りはなしてはいけません。)

(ここには何も書いてはいけません。)

社 会 解 答 用 紙 (2)

4

問 1	→ → →
問 2	(人物名) (記号)
問 3	(説明) (記号)
問 4	
問 5	

5

問 1	→ → →
問 2	
問 3	(1) (2)
問 4	
問 5	
問 6	
問 7	
問 8	Q R

6

問 1	
問 2	
問 3	→ → →
問 4	
問 5	

1～3の計

--

得 点	※
-----	---

受 検 番 号	第	番
---------	---	---