

令和 7 年度公立高等学校入学者選抜

後期選抜 学力検査問題

社 会

注 意

- 1 検査係員の指示があるまで、問題冊子と解答用紙に手をふれてはいけません。
- 2 問題は【問 1】から【問 3】まであり、問題冊子の 2 ～ 9 ページに印刷されています。10 ページ以降に問題はありません。
- 3 問題冊子とは別に、解答用紙があります。解答は、すべて解答用紙の の中に書き入れなさい。
- 4 漢字で書くように指示されている場合は、漢字で書きなさい。そうでない場合は、漢字の部分をひらがなで書いてもかまいません。
- 5 字数を指定された解答については、句読点、カギ括弧（「や『）なども 1 字に数え、指定された字数で答えなさい。

【問 1】 優さんは、税について興味をもち、調べた。

(1) 優さんは、日本の古代の税について調べたことをノート 1 にまとめた。

ノート 1 ^a魏志倭人伝には、日本最古の税に関する記述があり、税が収められる倉庫があったことが記されている。戸籍がつくられるようになると、農民には戸籍に基づいて口分田が与えられるとともに税が課されたが、^b税の負担から逃れようとする者もいた。

① 下線部 a に書かれている内容の一部として最も適切なものを、次のア～エから 1 つ選び、記号を書きなさい。

〔 ア 百済を支援する日本と戦って勝利した。 イ 倭寇の取り締まりを日本に求めた。 〕
〔 ウ 日本から使者として小野妹子が送られてきた。 エ 邪馬台国の卑弥呼に金印を送った。 〕

② 下線部 b にかかわって、資料 1 のように実際の人数とは異なると思われる戸籍がある。このような戸籍がある理由の 1 つと考えられることとして最も適切なものを、成人した農民の税負担の内容をまとめた表から読み取れることをもとに、下のア～エから 1 つ選び、記号を書きなさい。

資料 1 平安時代のある地域の
戸籍に記された人数

男子	59 人
女子	376 人
合計	435 人

(中国四国農政局資料より作成)

表

税の名称	負担の内容
租	男女が稲の収穫量の約 3 % を納める
調	男子が地方の特産物等を納める
庸	男子が労役の代わりに布を納める

〔 ア 租の負担をなくすために、男子が女子として戸籍に登録されている。 〕
〔 イ 調と庸の負担から逃れるために、男子が女子として戸籍に登録されている。 〕
〔 ウ 租の負担をなくすために、女子が男子として戸籍に登録されている。 〕
〔 エ 調と庸の負担から逃れるために、女子が男子として戸籍に登録されている。 〕

(2) 優さんは、税の集め方の変化について調べたことをノート 2 にまとめた。

ノート 2 社会の実態に合わせ、課税の対象が人間から土地に移り変わった。源頼朝が荘園や公領に設置した [あ] は、年貢の取り立てを請け負った。^c豊臣秀吉は太閤検地を行い、百姓は石高に基づく年貢を納めることになった。

① [あ] に当てはまる語句として最も適切なものを、次のア～エから 1 つ選び、記号を書きなさい。

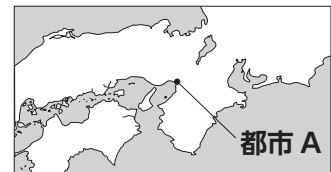
〔 ア 管領 イ 執権 ウ 地頭 エ 守護 〕

② 下線部 c にかかわって、安土桃山時代について述べた文として適切なものを、次のア～エから 2 つ選び、記号を書きなさい。

〔 ア 全国の統一が進み、巨大な石垣と雄大な天守を備えた大阪城が築かれた。 〕
〔 イ 社会が安定して町人を担い手とする文化が栄え、尾形光琳が装飾画を描いた。 〕
〔 ウ 支配者である武士の気風にあった文化が育ち、運慶らが金剛力士像をつくった。 〕
〔 エ 大名や豪商などによる豪華な文化が生まれ、狩野永徳がきらびやかな絵を描いた。 〕

(3) 優さんは、江戸時代に諸藩が年貢米を略地図の都市 A に運んだ

略地図
ことを知った。都市 A について述べた文として最も適切なものを、次のア～エから 1 つ選び、記号を書きなさい。



〔 ア 中国人が滞在する唐人屋敷がおかれ、清との貿易が行われた。 〕
〔 イ 「天下の台所」といわれる商業の中心地であり、蔵屋敷が多く建てられた。 〕
〔 ウ 朝廷がある古くからの都で、西陣織など、高い技術で優れた工芸品が生産された。 〕
〔 エ 旗本・御家人と諸藩の武士が数多く住み、18 世紀初めには人口は約 100 万人を数えた。 〕

- (4) 優さんは、税収の不足に対する取組とその影響について調べたことをノート3にまとめた。

ノート3 d 田沼意次は、年貢以外の新たな収入源を得ようとしたが、政治への批判が高まったことなどから、老中を退いた。海外では、財政難のイギリスが植民地へ新たな税を課したことに對して、e 植民地側が「代表なくして課税なし」と反発して独立戦争が起き、アメリカが独立した。

- ① 下線部 **d** にかかわって、田沼意次が、商工業者に株仲間をつくることをすすめた目的を、**特権**、**税**の2語を用いて簡潔に説明しなさい。
 ② 下線部 **e** にかかわって、アメリカについて述べた文として最も適切なものを、次の**ア**～**エ**から1つ選び、記号を書きなさい。

- 〔 **ア** ビスマルクの下で軍事力を高め、産業も急速に発展した。
イ レーニン^(*)の指導の下、史上初の社会主義の政府がつくられた。
ウ 憲法に基づいて国王が政治を行う国として独立した。
エ 三権分立などを定めた憲法がつくられ、ワシントンが大統領に就任した。 〕

- (5) 優さんは、税について書かれた資料2から考えたことをノート4にまとめた。

資料2 税について書かれた文章

政府は法令を設けて悪人を取り締まり、善人を保護する。しかし、それを行うには多くの費用が必要になるが、政府自体にはそのお金がないので、税金としてみんなに負担してもらおう。これは政府と国民双方が一致した約束である。

(「学問のすゝめ」より作成)

ノート4 **い** は、著書の「学問のすゝめ」^(*)で、欧米の思想を紹介するとともに、資料2の部分で、**う** について記している。大日本帝国憲法では、予算の成立には議会の同意が必要とされており、選挙で議員が選ばれる衆議院では、**f** 政党が政府の増税案に反対することもあった。

- ① **い** に当てはまる人名を書きなさい。また、**う** に当てはまる言葉として最も適切なものを、次の**ア**～**エ**から1つ選び、記号を書きなさい。

- 〔 **ア** 善人は税金を納めなくてよいとする根拠 **イ** 直接税と間接税の長所の比較
ウ なぜ税を納めるのかという理由 **エ** 納税方法の変化の歴史 〕

- ② 下線部 **f** にかかわって、次の**ア**～**エ**のできごとが古い順になるように左から並べて、記号を書きなさい。

- 〔 **ア** 桂太郎内閣が成立すると、憲法の精神に基づく政治を守ろうという護憲運動が起こった。
イ 原敬は、大部分の閣僚を立憲政友会の党員が占める本格的な政党内閣を組織した。
ウ 近衛文麿によって大政翼賛会が組織されると、政党は解散してこれに合流した。
エ 自由民権運動のなかで、板垣退助を党首とする自由党が結成された。 〕

- (6) 優さんは、税と選挙権のかかわりについて、資料3をもとに、桜さんと話し合った。**え**～**か**に当てはまる最も適切なものを、下の**ア**～**キ**から1つずつ選び、記号を書きなさい。

資料3 衆議院議員の選挙における有権者の割合と投票率の推移

選挙の実施年	全人口に占める有権者の割合(%)	投票率(%)
1890	1.1	93.7
1902	2.2	88.4
1920	5.5	86.7
1928	20.0	80.3
1946	48.7	72.1
2017	83.7	53.7

(総務省資料等より作成)

会話文

優：国の予算は国会で決めるから、選挙権は国民が税の使い道を決めるための大切な権利だよ。
 桜：1890年に初の国政選挙が行われてから、1928年の選挙では**え**による制限が廃止されるなど、選挙権は人々の努力により拡大されてきたよ。
 優：一方で投票率は低下していて、2017年の投票率は1890年と比べて**お**%低くなっているよ。現在は、**か**歳から選挙権があるから、税の使い道のことを考えて投票したいね。

〔 **ア** 18 **イ** 20 **ウ** 30 **エ** 40 **オ** 職業 **カ** 性別 **キ** 納税額 〕

【問2】 各問いに答えなさい。

I 緑さんは、日本の梅加工品の販売会が海外で行われていることに興味をもち、梅の生産と梅加工品の販売について調べた。

(1) 緑さんは、全国の梅の収穫量について調べ、資料1を用意した。

資料1 梅の収穫量上位3県と全国計(2022年)

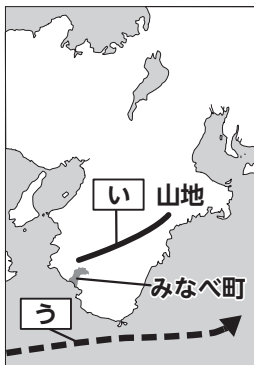
	収穫量(t)
和歌山県	64400
あ 県	3680
山梨県	1710
全国計	96600

(果樹生産出荷統計より作成)

- ① **あ** に当てはまる、前橋市が県庁所在地である県名を書きなさい。
- ② 和歌山県の梅の収穫量は、全国の梅の収穫量の何%を占めているか、最も適切なものを、次のア～エから1つ選び、記号を書きなさい。
〔ア 約27% イ 約47% ウ 約67% エ 約87%〕

(2) 緑さんは、梅の収穫量が多い、和歌山県みなべ町の梅の生産の様子について調べ、略地図1、みなべ町の一部を示した地形図、図1を用意して、ノートにまとめた。

略地図1

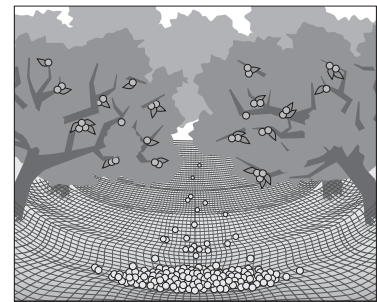


地形図



(国土地理院発行2万5千分の1地形図より作成)

図1 網を利用した収穫の様子



ノート

- ・ みなべ町は、略地図1に示される位置にあり、**い**山地と太平洋に囲まれている。気候は暖流の**う**の影響を受けて一年を通して温暖で、梅の栽培に適している。
- ・ 梅の果樹園は町内に広く分布し、地形図のAやBのように、様々な地形で梅の栽培が行われている。
- ・ みなべ町で栽培される梅の約8割が、この地域発祥の南高梅である。南高梅は完熟すると果実が木から落ちるため、図1のように木の下に網を張る収穫方法が開発され、完熟した大きな果実を、できるだけ傷をつけないように収穫することができるようになった。
- ・ 地形を生かして網を張ることで、網に落ちた果実が転がって集まり、果実をまとめて拾い集めることができるようになった。この収穫方法は、果実を木からもぎとる方法に比べ、**え**ことができる。

- ① **い**、**う** に当てはまる語句として最も適切なものを、次のア～カから1つずつ選び、記号を書きなさい。
〔ア 親潮 イ 出羽 ウ 対馬海流 エ 紀伊 オ 黒潮 カ 中国〕
- ② 下線部aについて、地形図のAは、Bと比較すると、地形の様子はどのようになっているか、最も適切なものを、次のア～ウから1つ選び、記号を書きなさい。
〔ア 急な傾斜 イ ゆるやかな傾斜 ウ 平ら〕
- ③ **え** に当てはまる適切な言葉を、資料2から読み取れることにふれて、**収穫**という語を使って、簡潔に書きなさい。

資料2 南高梅の収穫方法による作業時間の違い

収穫方法	10kgの収穫にかかる時間
果実を木からもぎとる方法	約10分
網に落ちた果実を拾い集める方法	約6分

(和歌山県資料より作成)

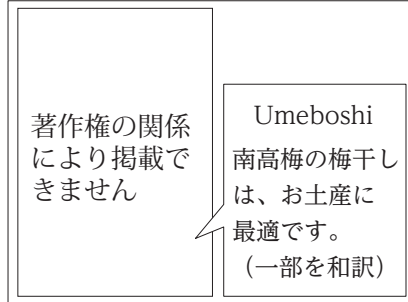
(3) 緑さんは、梅加工品の販売について調べる中で、資料3～5を用意し、光さんと話し合った。

資料3 みなべ町の南高梅を使用した梅加工品

- ・様々な塩分の梅干し
(塩分濃度約0.1～20%)
- ・はちみつ風味の梅干し
- ・トマト風味の梅干し
- ・みかん風味の梅干し 等

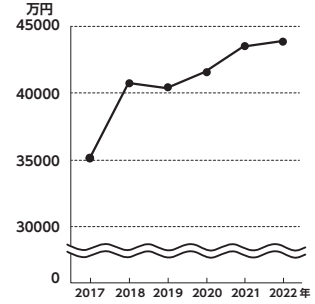
(JA資料より作成)

資料4 外国語で書かれた観光パンフレットの一部分



(みなべ町観光協会パンフレットより作成)

資料5 日本からの梅干し等の輸出額の推移



(貿易統計より作成)

会話文

緑：みなべ町では、町の中心産業となっている梅を買ってもらうために、様々な工夫をして梅を加工、販売していることを知ったよ。

光：資料3、4から、**お**ことで、より多くの人に買ってもらおうとしていることがわかるね。

緑：資料5から、日本の梅干し等の輸出額は、2017年と2022年を比べると、**か**いることがわかったよ。みなべ町の生産者の中にも、**b**海外へ輸出している人がいるみたい。

光：私も調べてみたら、みなべ町では行政や生産者がインターネットを使って積極的に情報発信していることがわかったよ。インターネットはどの地域からでも、日本全国や世界中の多くの人に情報を伝えられるよさがあるよね。

緑：生産者は、インターネットを使うことで**き**の経路が短縮され、消費者に直接商品を販売することができるね。また、消費者にとっては様々な方法で商品を購入することができるようになり、梅の消費がより増えるのではないかな。

① **お**に当てはまる適切な言葉を、資料3、4からそれぞれ読み取れることにふれて、簡潔に書きなさい。

② **か**、**き**に当てはまる語句として最も適切なものを、次のア～オから1つずつ選び、記号を書きなさい。

[ア 増えて イ 減って ウ 生産 エ 流通 オ 加工]

③ 下線部**b**にかかわって、資料6は日本から輸出する際の海上輸送と航空輸送による違いをまとめたものである。海上輸送はC、Dのどちらに当てはまるか、記号を書きなさい。また、長く保存できる梅干しを大量に輸出する際に主に使われるのは、海上輸送と航空輸送のうちどちらか、書きなさい。

資料6 輸送方法による比較(2021年)

輸送方法	C	D
総輸出货量(万t)	15556	194
総輸出額(億円)	564883	266030
主に上の方法で輸出される品目	自動車 鉄鋼 米 等	精密機械 IC いちご 等

(国土交通省資料等より作成)

(4) 緑さんは、みなべ町で資料7の新しい梅の品種の栽培が行われていることを知った。この品種の栽培が、梅の消費の拡大につながると考えられる理由の1つを、資料8の南高梅の利用状況との違いにふれて、簡潔に書きなさい。

資料7 新品種「露茜」の特徴と利用状況

特徴	・皮や果肉が赤色で、南高梅より酸味が弱い ・梅シロップなどの飲料やジャム等に向く
利用状況(2022年)	飲料用 86% *青梅用 14%

*青梅：加工しない状態で出荷される、よく熟していない梅
(和歌山県資料等より作成)

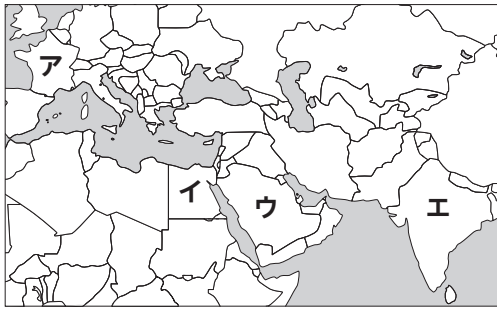
資料8 みなべ町の南高梅の利用状況

利用状況(2022年)	梅干し用 88% 青梅用 9% 飲料用 3%
-------------	------------------------------

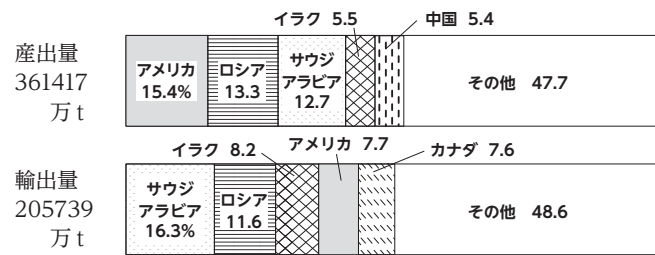
(みなべ町資料より作成)

II 緑さんは、サウジアラビアに興味をもち、**略地図 2**、**資料 9** を用意した。

略地図 2



資料 9 原油の産出量及び輸出量の国別割合(2020年)



※産出国及び輸出国は左から多い順に示している

(「地理統計要覧」より作成)

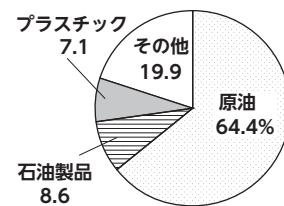
(1) サウジアラビアの位置として最も適切なものを、**略地図 2** のア～エから 1 つ選び、記号を書きなさい。

(2) 原油の産出量及び輸出量について、**資料 9** から読み取れることとして適切なものを、次のア～エからすべて選び、記号を書きなさい。

- ア サウジアラビアは、産出量も輸出量も世界第 1 位である。
- イ サウジアラビアは、産出量で世界に占める割合より、輸出量で世界に占める割合のほうが高い。
- ウ サウジアラビアは、産出量の半分以上の量を輸出している。
- エ 産出量の上位 5 か国は、輸出量の上位 5 か国とすべて同じである。

(3) 緑さんは、**資料 10** を見つけ、サウジアラビアの輸出額について、原油や石油製品の割合が高いことに気づいた。このように、特定の農産物や資源の輸出によって成り立つ経済のことを何経済というか。カタカナ 7 字で書きなさい。

資料 10 サウジアラビアの輸出額の割合(2016年)



(「地理統計要覧」より作成)

(4) 緑さんは、サウジアラビアに**図 2**、**3** の施設があることを知り、**雨温図**と**資料 11** を用意した。

図 2 円形の農場

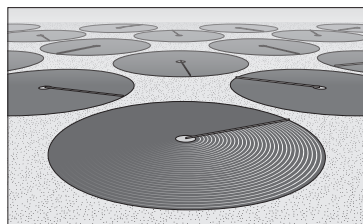

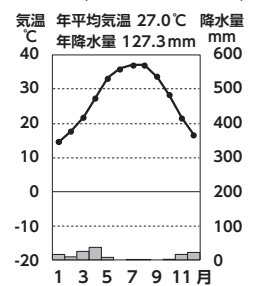


図 3 太陽光パネル



雨温図

リヤド(サウジアラビア)



(気象庁資料より作成)

① **図 2** の農場がつけられた理由の 1 つとして考えられることを、**雨温図**から読み取れることにふれて、**かんがい**という語を使って、簡潔に書きなさい。

② 緑さんは、**図 2**、**3**、**資料 11** を見て、次のようにまとめた。

◀ に当てはまる適切な語句を、漢字 4 字で書きなさい。

サウジアラビアは、砂漠と石油のイメージが強かったが、砂漠でも大規模な施設を使用して農業を行っていることがわかった。また、発電については、2015 年以降は太陽光や風力などの ◀ エネルギーによる発電も始まり、石油に依存しない社会づくりを目指して動き始めていることがわかった。

資料 11 サウジアラビアの発電量(百万 kWh)

年	火力	太陽光	風力
2009	217082	0	0
2015	360235	46	0
2021	407681	804	408

(国際エネルギー機関資料より作成)

【問3】 各問いに答えなさい。

I 長野県に住む花さんと晴さんは、持続可能な社会をテーマに、自分たちの住むまちについて考えた。

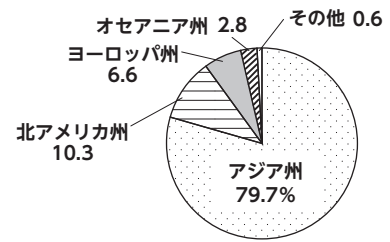
(1) 花さんは、自分の住むまちに**資料1**があることに気づいた。**資料1**に複数の外国語表記が載っている理由の1つとして最も適切なものを、**資料2**から読み取れることをもとに、次の**ア～エ**から1つ選び、記号を書きなさい。

資料1 案内表示



(長野県資料より作成)

資料2 日本を訪れた外国人旅行者の割合(2023年)



(日本政府観光局(JNTO)資料より作成)

- ア 日本を訪れた外国人旅行者の割合は、アジア州より北アメリカ州のほうが高いから。
- イ 日本を訪れた外国人旅行者のうち、ヨーロッパ州からの旅行者が最も多いから。
- ウ アジア州や北アメリカ州など、様々な地域から外国人旅行者が日本を訪れているから。
- エ 世界各地へ行く日本人旅行者が多いから。

(2) 花さんは、**資料3**を見つけ、外国の通貨を日本の通貨である円に両替できる場所があることを知った。

資料3 銀行・両替をあらわす案内表示



(長野県資料より作成)

- ① 異なる国同士の通貨を交換する際の比率を何というか、書きなさい。
- ② 外国の通貨に対して、円の価値が下がることの影響として最も適切なものを、次の**ア～エ**から1つ選び、記号を書きなさい。

- ア 商品を外国から日本に輸入する企業にとっては、有利になる。
- イ 外国人旅行者は、両替により、得られる円が少なくなる。
- ウ 商品を日本から外国に輸出する企業にとっては、有利になる。
- エ 外国へ行く日本人旅行者は、両替により、得られる外国の通貨が多くなる。

(3) 花さんは、**資料4**から一部のピクトグラム(案内用図記号)が、2017年に外国人旅行者にわかりやすいように改正されたことを知った。外国人旅行者にわかりやすいように改正した理由の1つとして考えられることを、**資料5**、**6**からそれぞれ読み取れることにふれて、簡潔に書きなさい。

資料4 2017年に改正されたピクトグラム(一部)

	駐車場	乳幼児用設備
改正前		
改正後		

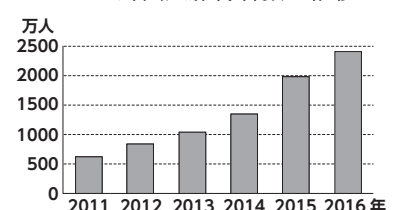
(経済産業省資料より作成)

資料5 東京2020大会関係略年表

年	できごと
2013	オリンピック・パラリンピックの2020年大会の東京開催が決定
2021	東京2020オリンピック・パラリンピックを開催

(首相官邸資料より作成)

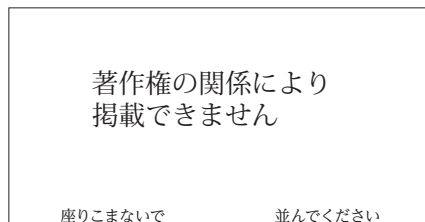
資料6 日本を訪れた外国人旅行者数の推移



(日本政府観光局(JNTO)資料より作成)

(4) 花さんは、外国人旅行者が多く訪れている京都市の**資料7**を見つけ、考えたことを**ノート1**にまとめた。**あ**に当てはまる適切な言葉を、**マナー**という語を使って、5字以上10字以内で書きなさい。

資料7 京都市の案内表示



(京都市観光協会資料より作成)

ノート1 京都市には、旅行者が京都の文化を尊重し、観光を楽しむことを目的として、**資料7**のような**あ**のための案内表示があり、日本人だけではなく、外国人にもわかりやすくなっている。**資料1**、**7**のような案内表示によって、誰もが過ごしやすいまちになっていくだろう。

(5) 晴さんは、障がい者や高齢者に着目して調べ、資料8を見つけた。

資料8 長野県が制定した法の条文(一部)

第2条 この **い** において、「障害者等」とは、障害者、高齢者、傷病者、妊産婦、乳幼児を同伴する者その他の者で日常生活又は社会生活における行動に制限を受けるものをいう。

第7条 県は、次に掲げる基本方針に基づき、福祉のまちづくりのための施策を総合的に推進するものとする。

(2) **a** 障害者等の社会参加の妨げとなっている障壁を取り除き、建築物等の安全かつ容易な利用を図るため、特定施設の整備等を促進するよう必要な措置を*講ずること。

*講ずる：方法・手段を考える

(長野県資料より作成)

① **い** に当てはまる、地方公共団体が法律の範囲内で定めることができる独自の法のことを何とよいか、漢字2字で書きなさい。

② 下線部 **a** の考え方をあらわす語句として最も適切なものを、次の **ア**~**エ** から1つ選び、記号を書きなさい。

- | | |
|------------------------|------------------|
| ア インフォームド・コンセント | イ 情報リテラシー |
| ウ フェアトレード | エ バリアフリー |

(6) 晴さんは、長野県の取組を調べる中で、資料9を見つけ、わかったことをノート2にまとめた。

資料9 利用者にやさしい駅舎の整備事業予算

事業内容及び金額
・鉄道事業者が行う鉄道駅の設備整備を支援する
・対象経費 スロープ、点状ブロック等の設備整備に要する経費
・令和6年度予算 990万円
※知事との県民対話集会での提案、要望等を反映した事業

(長野県資料より作成)

ノート2 長野県では、障がい者や高齢者等が過ごしやすくなるために、事業者が行う設備の整備に、**b** 予算を配分していることを知った。この予算は、**c** 県民からの提案、要望等を反映してつくられていることから、よりよい社会の実現に向けて、私たちが参加できることがわかった。

① 下線部 **b** にかかわって、地方財政の歳出の項目のうち、福祉関連施設の整備・運営の費用として最も適切なものを、次の **ア**~**エ** から1つ選び、記号を書きなさい。

- [**ア** 総務費 **イ** 民生費 **ウ** 公債費 **エ** 教育費]

② 下線部 **c** にかかわって、国や地方公共団体に要望を伝えることができる権利として最も適切なものを、次の **ア**~**エ** から1つ選び、記号を書きなさい。

- [**ア** 請願権 **イ** プライバシーの権利 **ウ** 団結権 **エ** 平等権]

(7) 花さんと晴さんは、それぞれが調べたことをもとに話し合った。

会話文

花：私は、**d** まちの案内表示が外国人旅行者にもわかりやすく工夫されていることを知ったよ。様々な案内表示から、お互いに思いやり、協力し合うことが大切だと考えたよ。

晴：私は、**e** 長野県が障がい者や高齢者等が過ごしやすくなるための取組をしていることを知ったよ。その中で、よりよい社会の実現に向けて、私たちがかかわることができるよとわかったよ。

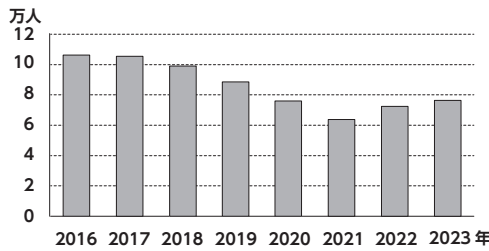
花：お互いの立場を考え、意見を出し合っていくことが、持続可能な社会につながっていきそうだね。世界では、国際連合が「誰一人取り残さない」を理念にSDGsを掲げ、様々な取組をすすめているよ。

下線部 **d**、**e** の2つの内容に最もかかわりのあるSDGsの目標を、次の **ア**~**エ** から1つ選び、記号を書きなさい。

- | | | | |
|--|--|---|--|
| ア  | イ  | ウ  | エ  |
|--|--|---|--|

II A市に住む登さんは、市内の路線バスの利用者数に興味をもち、路線バスの現状について資料10、11を用意し、考えたことをノート3にまとめた。

資料10 A市路線バス利用者のべ数の推移



資料11 A市の路線バスに関する市民の意見

- ・通勤時間に合うバスや、日中のバスが少なく、使いたくても使えなくて困る。
- ・バスの停留所まで遠く、足の調子がよくないので、利用できない。高齢者は乗車場所まで行くことができない。
- ・ほとんど無人で走っているバスを見かける。

(資料10、11はA市資料より作成)

ノート3 A市の路線バスの利用者数は、2016年から2021年にかけて減少した。市民からは利便性に課題があるという意見がある。今後、人口減少や高齢化が進む中、**う**の公正さという視点から、**f**公共交通を必要としている人のために利便性を高めていく必要がある。

(1) **う**に当てはまる語句として最も適切なものを、次のア～エから1つ選び、記号を書きなさい。
〔ア 手続き イ 機会 ウ 対立 エ 効率〕

(2) 下線部**f**にかかわって、登さんは、資料12の乗合タクシーが導入されていることを知った。そこで、「路線バスをすべて乗合タクシーに切り替えることで、公共交通を必要としている人にとっての利便性がより高まるのではないかと考え、資料13～15を用意した。

資料12 A市で導入された乗合タクシー



○乗合タクシーの説明

- ・事前に会員登録する
- ・乗降する停留所と利用時刻を事前に予約して利用する
- ・AIが複数の利用者の目的地や到着時刻から経路を決定し、複数の利用者が乗り合わせうえて、目的地まで移動する
- ・利用料金は路線バスと同じ金額

(A市資料等より作成)

すべて乗合タクシーに切り替えることがよいと考えられる理由(理由)と、乗合タクシーに切り替えるうえでの課題(課題)について、条件1、2に従って書きなさい。なお、数字の場合は1字1マス使うこと。

条件1：理由と課題の根拠となる資料を、資料13～15からそれぞれ2つずつ選び、その資料の番号を書くこと。ただし、すべての資料を必ず1回は選ぶこと。

条件2：選んだ資料をもとに、理由と課題を、それぞれ40字以上60字以内で書くこと。

資料13 A市における路線バスと乗合タクシーの運行時間

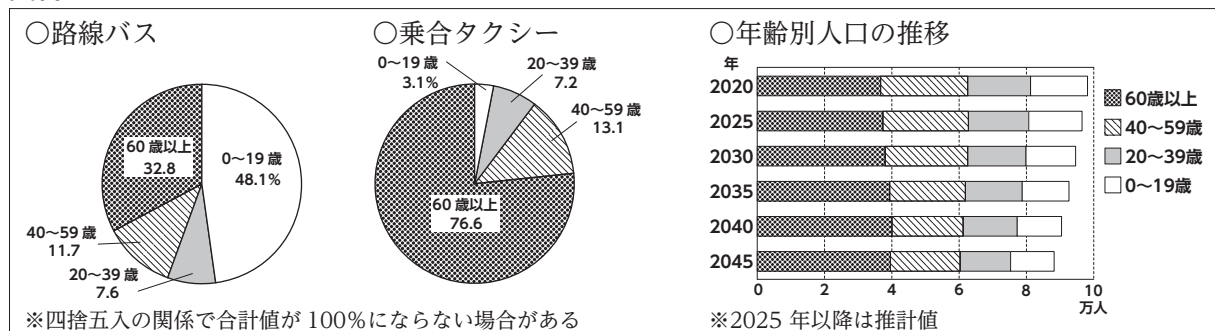
	路線バス	乗合タクシー
運行時間	時刻表に示された時間 (平日の6～8時台、 15～20時台)	予約で指定した時間 (平日の8～12時、 13～17時)

資料14 乗合タクシーの利用方法

- ・予約は平日の8～16時の間に電話で行う
- ・予約は利用の1週間前～60分前までに行う
- ・満75歳以上、運転免許返納者、小学生未満、妊婦等は、自宅前で乗降できる

(資料13、14はA市資料より作成)

資料15 A市の公共交通の年齢別利用状況、A市の年齢別人口の推移



(A市資料等より作成)

これより先に問題はありません。

下書きなどが必要なときには、自由に使ってかまいません。

