

社 会

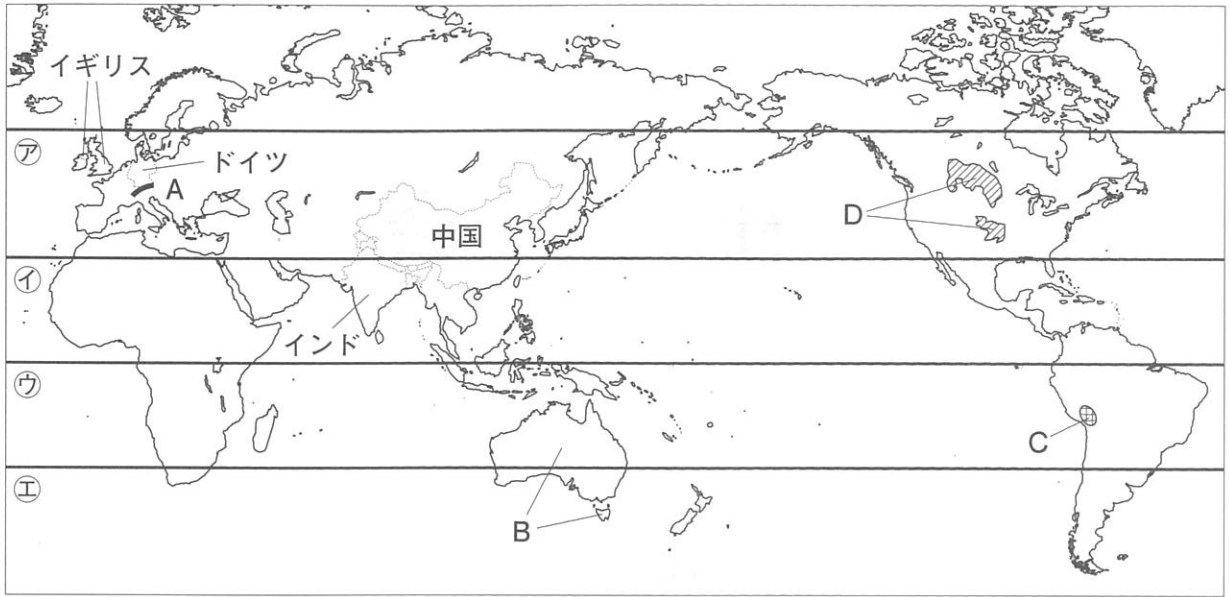
注 意

- 1 監督者の「始め」の合図があるまで開いてはいけません。
- 2 問題用紙は表紙を入れて7ページあり，これとは別に解答用紙が1枚あります。
- 3 受検番号は，解答用紙及び問題用紙の決められた欄に記入下さい。
- 4 答えは，問題の指示に従って，すべて解答用紙に記入下さい。
- 5 監督者の「やめ」の合図ですぐにやめ下さい。

受検 番号	
----------	--

1 次のⅠ～Ⅲの問いに答えなさい。答えを選ぶ問いについては一つ選び、その記号を書きなさい。

Ⅰ 次の略地図を見て、1～6の問いに答えよ。



- 略地図中のAの山脈の名称を答えよ。
- 略地図中のア～②は、赤道と、赤道を基準として30度間隔に引いた3本の緯線である。このうち、②の緯線の緯度は何度か。北緯、南緯を明らかにして答えよ。
- 略地図中のBの国内に暮らす先住民族として最も適当なものはどれか。
ア アボリジニ イ イヌイット ウ マオリ エ ヒスパニック
- 略地図中のCで示した地域のうち、標高4,000 m付近で見られる気候や生活のようすについて述べた文として最も適当なものはどれか。
ア 夏の降水量が少ないため、乾燥に強いオリーブの栽培が盛んである。
イ 気温が低く作物が育ちにくく、リャマやアルパカの放牧がみられる。
ウ 季節風の影響を受けて夏の降水量が多いため、稲作が盛んである。
エ 一年中気温が高く、草原や森林が広がる地域で焼畑農業が行われている。

5 略地図中のDは、北アメリカにおいて、資料1中の の農産物が主に栽培されている地域を示している。資料1中の にあてはまる農産物名を答えよ。

資料1 主な農産物の輸出量の上位3か国とその国別割合(%)

農産物	輸出量上位3か国(%)		
<input type="text"/>	ロシア16.8	アメリカ13.9	カナダ11.2
とうもろこし	アメリカ32.9	ブラジル18.1	アルゼンチン14.7
大豆	ブラジル44.9	アメリカ36.5	アルゼンチン4.9
綿花	アメリカ41.9	インド12.1	オーストラリア11.2

(地理統計要覧2021年版から作成)

- 略地図中の中国、ドイツ、インド、イギリスについて、次の(1)、(2)の問いに答えよ。
(1) 資料2の中で、割合の変化が1番目に大きい国と2番目に大きい国の国名をそれぞれ答えよ。
(2) (1)で答えた2か国について、資料3において2か国に共通する割合の変化の特徴を書け。

資料2 各国の再生可能エネルギーによる発電量の総発電量に占める割合(%)

	2010年	2018年
中国	18.8	26.2
ドイツ	16.5	37.0
インド	16.4	19.0
イギリス	6.8	35.4

(世界国勢図会2021/22年版などから作成)

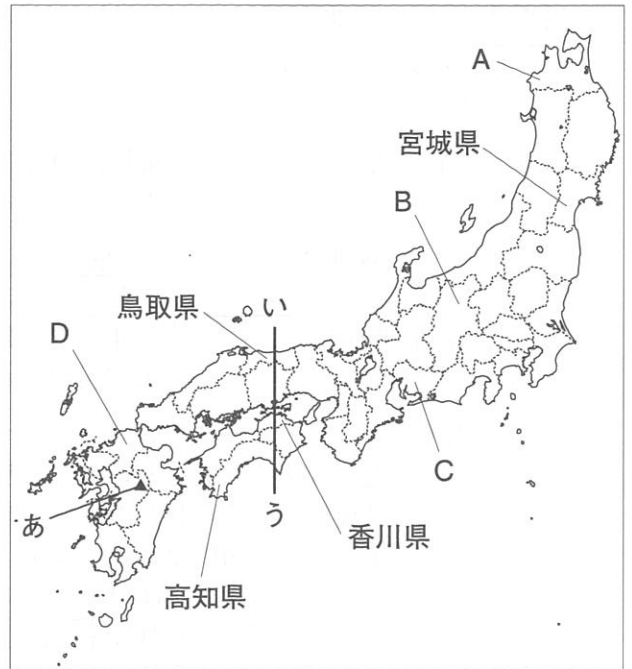
資料3 各国の発電エネルギー源別発電量の総発電量に占める割合(%)

	風力		水力		太陽光	
	2010年	2018年	2010年	2018年	2010年	2018年
中国	1.1	5.1	17.2	17.2	0.0	2.5
ドイツ	6.0	17.1	4.4	3.7	1.9	7.1
インド	2.1	4.1	11.9	9.5	0.0	2.5
イギリス	2.7	17.1	1.8	2.4	0.0	3.9

(世界国勢図会2021/22年版などから作成)

II 次の略地図を見て、1～5の問いに答えよ。

- 1 近畿地方で海に面していない府県の数、略地図を参考に答えよ。
- 2 略地図中のあで示した火山がある地域には、火山の大規模な噴火にもなつて形成された大きなくぼ地がみられる。このような地形を何というか。
- 3 略地図中のA～Dの県にみられる、産業の特色について述べた次のア～エの文のうち、Dについて述べた文として最も適当なものはどれか。
 ア 標高が高く夏でも涼しい気候を生かし、レタスなどの高原野菜の生産が盛んである。
 イ 涼しい気候を利用したりんごの栽培が盛んで、国内の生産量の半分以上を占めている。
 ウ 明治時代に官営の製鉄所がつけられた地域では、エコタウンでのリサイクルが盛んである。
 エ 自動車の関連工場が集まっており、自動車を含む輸送用機械の生産額は全国1位である。
- 4 略地図中の宮城県ではさけやあわびなどの「育てる漁業」が行われている。「育てる漁業」に関してまとめた資料1について、次の(1)、(2)の問いに答えよ。
 (1) ㉠について、このような漁業を何というか。
 (2) にあてはまる最も適当なことばを書け。



資料1

【「育てる漁業」の種類】

- ・魚や貝などを、いけすなどを利用して大きくなるまで育てて出荷する。
- ・㉠魚や貝などを卵からふ化させ、人工的に育てた後に放流し、自然の中で成長したものを漁獲する。

【日本で「育てる漁業」への転換が進められた理由の一つ】

- ・他国が200海里以内の を設定したことにより、「とる漁業」が難しくなったから。


- 5 資料2は略地図中の鳥取県、香川県、高知県のそれぞれの県庁所在地の降水量を示している。資料2にみられるように、3県の中で香川県の降水量が特に少ない理由を、資料3をもとにして書け。ただし、日本海、太平洋ということばを使うこと。

資料2

	年降水量
鳥取県鳥取市	1931.3 mm
香川県高松市	1150.1 mm
高知県高知市	2666.4 mm

(気象庁統計から作成)


資料3 略地図中 いーう 間の断面図と季節風の様子



(地理院地図などから作成)

- III 資料のX、Yの円グラフは、千葉県で特に貿易額の多い成田国際空港と千葉港の、輸入総額に占める輸入上位5品目とその割合をまとめたものである。成田国際空港に該当するものはX、Yのどちらか。また、そのように判断した理由を航空輸送の特徴をふまえて書け。

資料



(日本国勢図会2021/22から作成)

2

次のⅠ～Ⅲの問いに答えなさい。答えを選ぶ問いについては一つ選び、その記号を書きなさい。

Ⅰ 次は、歴史的建造物について調べ学習をしたある中学生と先生の会話の一部である。1～6の問いに答えよ。

生徒：鹿児島城にあった御楼門ごろうもんの再建に関するニュースを見て、門について興味をもったので、調べたことを次のようにまとめました。

羅城門らじょうもん
平城京や①平安京の南側の門としてつくられた。

②東大寺南大門
源平の争乱で焼けた東大寺の建物とともに再建された。

守礼門しゅれいもん
③琉球王国の首里城の城門の1つとしてつくられた。

日光東照宮の陽明門
④江戸時代に、徳川家康をまつる日光東照宮につくられた。

先生：いろいろな門についてよく調べましたね。これらの門のうち、つくられた時期が、再建前の御楼門に最も近い門はどれですか。

生徒：御楼門がつくられたのは17世紀の前半といわれているので、江戸時代につくられた日光東照宮の陽明門だと思います。

先生：そうです。なお、江戸時代には、大名が1年おきに自分の領地を離れて江戸に滞在することを義務づけられた という制度がありました。薩摩藩の大名が江戸に向かった際には御楼門を通っていたのかもしれませんがね。ところで、門には、河川と海の境目など水の流れを仕切る場所につくられた「水門」というものもありますよ。

生徒：それでは、次は⑤河川や海に関連した歴史をテーマにして調べてみたいと思います。

- にあてはまる最も適切なことばを書け。
- ①がつくられる以前の時代で、次の三つの条件を満たす時代はどれか。

- ・多くの人々はたて穴住居で生活していた。
- ・中国の歴史書によると、倭は100ほどの国に分かれていた。
- ・銅鐸などの青銅器を祭りの道具として使っていた。

ア 縄文時代 イ 弥生時代 ウ 古墳時代 エ 奈良時代

- ②の中に置かれている、運慶らによってつくられた資料1の作品名を漢字5字で書け。

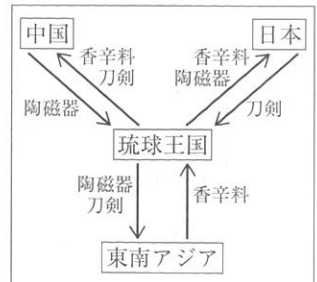
資料1



- ③について述べた次の文の に適することばを、15世紀ごろの中継貿易を模式的に示した資料2を参考にして補い、これを完成させよ。

琉球王国は、日本や中国・東南アジア諸国から する中継貿易によって繁栄した。

資料2



- ④に描かれた資料3について述べた次の文の X , Y にあてはまることばの組み合わせとして最も適切なものはどれか。

この作品は X が描いた Y を代表する風景画であり、ヨーロッパの絵画に大きな影響を与えた。

- ア (X 尾形光琳 Y 元禄文化) イ (X 葛飾北斎 Y 元禄文化)
ウ (X 尾形光琳 Y 化政文化) エ (X 葛飾北斎 Y 化政文化)

- ⑤について、次のできごとを年代の古い順に並べよ。

- ア ロシアの使節が、蝦夷地の根室に来航し、漂流民を送り届けるとともに、日本との通商を求めた。
イ 平治の乱に勝利したのち、太政大臣になった人物が、現在の神戸市の港を整備した。
ウ 河川に橋をかけるなど人々のために活動した人物が、東大寺に大仏を初めてつくるときに協力をした。
エ スペインの船隊が、アメリカ大陸の南端を通り、初めて世界一周を成し遂げた。

資料3

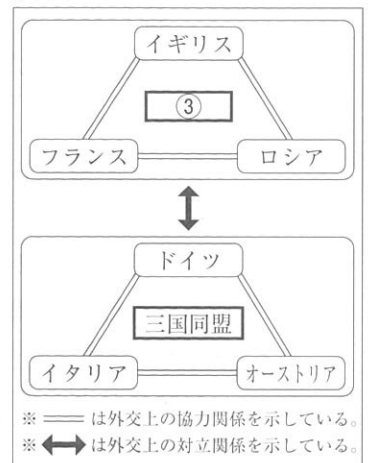


II 次の略年表を見て、1～6の問いに答えよ。

年	できごと	
1871	① 岩倉使節団がアメリカに向けて出発した	A
1885	内閣制度が発足し、② が初代内閣総理大臣となった	
1902	日英同盟が結ばれた	B
1914	③ 第一次世界大戦が始まった	
1929	ニューヨークの株式市場で株価が大暴落し④ に発展した	
1951	サンフランシスコ平和条約が結ばれた	C

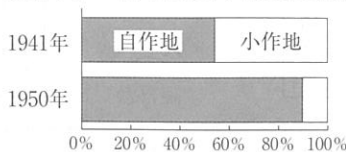
- ①, ② にあてはまる最も適当な人名とことばを書け。
- ①が1871年に出発し、1873年に帰国するまでにおきたできごととして最も適当なものはどれか。
 ア 王政復古の発令の発表 イ 日米和親条約の締結
 ウ 徴兵令の公布 エ 大日本帝国憲法の発布
- AとBの間の時期に「たけくらべ」、「にぎりえ」などの小説を発表し、現在の5千円札にその肖像が使われていることでも知られている人物はだれか。
- ③に関して、資料は、この大戦前のヨーロッパの国際関係を模式的に示したものである。資料中の③にあてはまる最も適当なことばを書け。
- BとCの間の時期に活動した人物について述べた次の文X、Yについて、それぞれの文に該当する人物名の組み合わせとして最も適当なものはどれか。
 X 国際連盟本部の事務局次長として、国際平和のためにつくした。
 Y 物理学者で、1949年に日本人として初のノーベル賞を受賞した。
 ア (X 新渡戸稲造 Y 湯川秀樹) イ (X 吉野作造 Y 湯川秀樹)
 ウ (X 新渡戸稲造 Y 野口英世) エ (X 吉野作造 Y 野口英世)
- C以降におこったできごとを、次のア～エから三つ選び、年代の古い順に並べよ。
 ア 石油危機の影響で物価が上昇し、トイレットペーパー売り場に買い物が殺到した。
 イ 満20歳以上の男女による初めての衆議院議員総選挙が行われ、女性議員が誕生した。
 ウ 男女雇用機会均等法が施行され、雇用における男女間の格差の是正がはかられた。
 エ アジア最初のオリンピックが東京で開催され、女性選手の活躍が話題となった。

資料

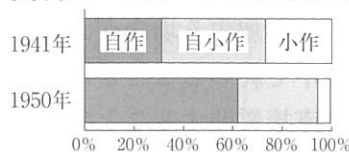


III 第二次世界大戦後には農地改革が行われ、資料1、資料2にみられるような変化が生じた。農地改革の内容を明らかにしたうえで、その改革によって生じた変化について書け。ただし、政府、地主、小作人ということばを使うこと。

資料1 自作地と小作地の割合



資料2 自作・小作の農家の割合



※資料2の補足

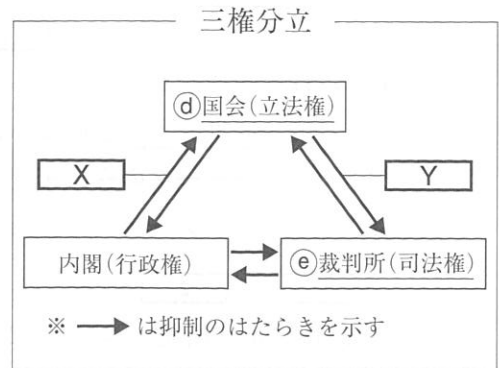
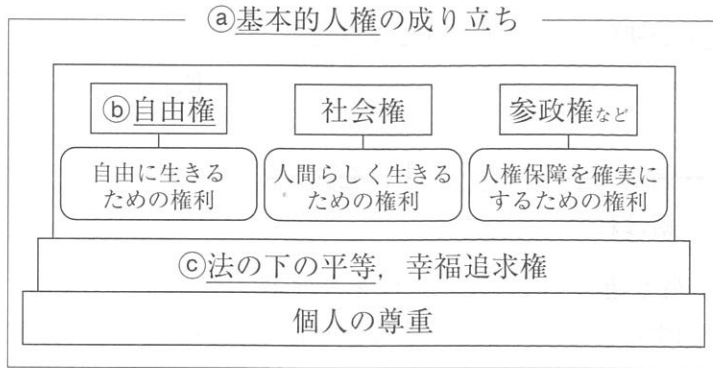
「自作」：耕作地の90%以上が自己所有地の農家
 「自小作」：耕作地の10%以上90%未満が自己所有地の農家
 「小作」：耕作地の10%未満が自己所有地の農家

(近現代日本経済史要覧から作成)

3 次のⅠ～Ⅲの問いに答えなさい。答えを選ぶ問いについては一つ選び、その記号を書きなさい。

Ⅰ 次は、ある中学生が日本国憲法について授業で学んだことをノートにまとめたものである。

1～6の問いに答えよ。



1 ①に関して、次は日本国憲法の条文の一部である。□□□□にあてはまることばを書け。

第12条 この憲法が国民に保障する自由及び権利は、国民の不断の努力によつて、これを保持しなければならない。又、国民は、これを濫用してはならないのであつて、常に□□□□のためにこれを利用する責任を負ふ。

2 ②に関して、身体の自由の内容として最も適当なものはどれか。

- ア 財産権が不当に侵されることはない。
- イ 裁判を受ける権利を奪われることはない。
- ウ 通信の秘密を不当に侵されることはない。
- エ 自己に不利益な供述を強要されることはない。

3 ③に関して、言語、性別、年齢、障がいの有無にかかわらず、あらかじめ利用しやすい施設や製品などをデザインすること、またはそのようなデザインを何というか。

4 ④に関して、次の文は、国会が衆議院と参議院からなる二院制をとっている目的について述べたものである。文中の□□□□に適することばを補い、これを完成させよ。

定数や任期、選挙制度が異なる議院を置くことで、□□□□。また、慎重な審議によって一方の議院の行きすぎを防ぐこともできる。

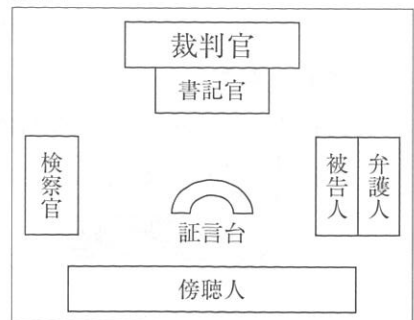
5 □□□□, □□□□にあてはまることばの組み合わせとして最も適当なものはどれか。

- ア (X 衆議院の解散 Y 国民審査)
- イ (X 法律の違憲審査 Y 弾劾裁判所の設置)
- ウ (X 衆議院の解散 Y 弾劾裁判所の設置)
- エ (X 法律の違憲審査 Y 国民審査)

6 ⑤に関して、資料はある地方裁判所の法廷のようすを模式的に示したものである。この法廷で行われる裁判について述べた文として最も適当なものはどれか。

- ア お金の貸し借りなどの個人と個人の間の争いを解決する。
- イ 国民の中から選ばれた裁判員が参加する場合がある。
- ウ 和解の成立によって裁判が途中で終わることがある。
- エ 被害者が法廷に入り被告人に直接質問することはない。

資料



II 次は、ある中学生が公民的分野の学習を振り返って書いたレポートの一部である。1～5の問いに答えよ。

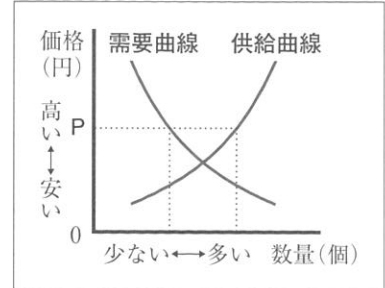
私は、少子高齢社会における社会保障のあり方や、[Ⓐ]消費者の保護など、授業で学習したことと私たちの生活とは深い関わりがあると感じました。また、市場経済や財政のしくみについての学習を通して、[Ⓑ]価格の決まり方や[Ⓒ]租税の意義などについて理解することができました。

今日、生産年齢人口の減少、[Ⓓ]グローバル化の進展や絶え間ない技術革新などにより、社会は大きく変化しています。そのような中、選挙権年齢が 歳に引き下げられ、さらに令和4年度からは成年年齢も 歳へと引き下げられ、私たちにとって社会は一層身近なものになっています。私は、社会の一員としての自覚をもって行動したいと思います。

- に共通してあてはまる数を書け。
- Ⓐに関して、業者が商品の重要な項目について事実と異なることを伝えるなどの不当な勧誘を行った場合、消費者はその業者と結んだ契約を取り消すことができる。このことを定めた2001年に施行された法律は何か。

3 ⑦に関して、資料1は、自由な競争が行われている市場にお

ける、ある商品の需要量と供給量と価格の関係を表したものである。ある商品の価格を資料1で示したP円としたときの状況と、その後の価格の変化について述べた次の文の X Y X には、需要量、供給量ということばを使うこと。

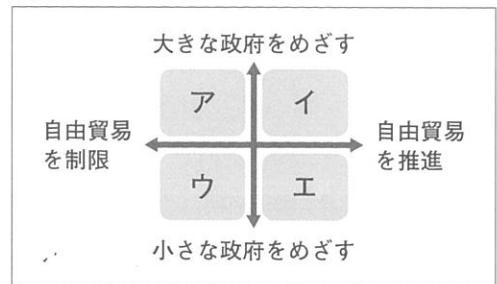


価格がP円のときは、 X ため、一般に、その後の価格はP円よりも Y と考えられる。

- ⑧に関して、次は、社会科の授業で、あるグループが租税のあり方について話し合った際の意見をまとめたものである。このグループの意見を、資料2中のア～エのいずれかの領域に位置づけるとすると最も適当なものはどれか。

- ・国内農業を守るために、関税の税率を引き上げる。
- ・社会保障を充実させるために、消費税の税率を引き上げる。

資料2



- ⑨に関して、輸出や輸入を行う企業の活動は、為替相場(為替レート)の変動の影響を受けやすい。ある企業が1台240万円の自動車をアメリカへ輸出する場合、為替相場が1ドル=120円するとき、アメリカでの販売価格は2万ドルとなった。その後、為替相場が1ドル=100円に変動したときの、この自動車1台のアメリカでの販売価格はいくらになるか答えよ。なお、ここでは、為替相場以外の影響は考えないものとする。

III 資料1は、持続可能な開発目標(SDGs)の一つを示したものである。この目標に関して、中学生のしのぶさんは、まだ食べられるのに廃棄される食品が大量にあるという問題に関心をもった。そこで、しのぶさんは自宅近くのスーパーマーケットに行き、この問題の解決への取り組みについて調べたり話を聞いたりした。資料2は、その際にしのぶさんが収集した資料である。資料2の取り組みが、この問題の解決につながるのはなぜか、解答欄の書き出しのことばに続けて、40字以上50字以内で説明せよ。ただし、書き出しのことばは字数に含めないこととする。

資料1



資料2

季節商品予約制のお知らせ
どよう うし
土用の丑の日のうなぎやクリスマスケーキ、節分の日の恵方巻きなどを予約販売にします。

社会解答例

大問	配点	問題区分	解答例
1	31点	I	1 アルプス (山脈) 2 南緯30度 3 ア 4 イ 5 小麦 6(1) (1番目) イギリス (2番目) ドイツ (2) 風力発電と太陽光発電の発電量の割合がともに増加している。
		II	1 2 2 カルデラ 3 ウ 4(1) 栽培 (漁業) (2) 排他的経済水域 5 太平洋や日本海から吹く湿った風が山地によってさえぎられ、乾いた風が吹くから。
		III	(記号) Y (理由) 航空機で輸送するのに適した、比較的重量が軽い品目がみられるから。
2	31点	I	1 参勤交代 2 イ 3 金剛力士像 4 輸入した品物を他の国や地域へ輸出 5 エ 6 ウ → イ → エ → ア
		II	1① 伊藤博文 ② 世界恐慌 2 ウ 3 樋口一葉 4 三国協商 5 ア 6 エ → ア → ウ
		III	政府が地主のもつ農地を買い上げ、小作人に安く売りわたしたことで、自作の農家の割合が増えた。
3	28点	I	1 公共の福祉 2 エ 3 ユニバーサルデザイン 4 国民のさまざまな意見を政治に反映できる 5 ウ 6 イ
		II	1 18 2 消費者契約法 3 X 供給量が需要量を上回っている Y 下がる 4 ア 5 2万4千 (ドル)
		III	(スーパーマーケットは、) 予約販売にすることによって、事前に販売する商品の数を把握し、廃棄される食品を減らすことができるから。