

試験開始の指示があるまで、この問題冊子の中を見てはいけません。

Y

地理歴史 { 世界史 A } (各科目) 100点

注意事項

- 1 解答用紙に、正しく記入・マークされていない場合は、採点できないことがあります。特に、解答用紙の第1解答科目欄・第2解答科目欄にマークされていない場合又は複数の科目にマークされている場合は、0点となります。
- 2 出題科目、ページ及び選択方法は、下表のとおりです。

出題科目	ページ	選 択 方 法
世界史 A	4～29	受験できる科目数は、受験票に記載されているとおりです。 なお、以下の組合せは選択できません。 ・「世界史A」と「世界史B」 ・「日本史A」と「日本史B」 ・「地理A」と「地理B」
世界史 B	30～61	
日本史 A	62～89	
日本史 B	90～121	
地理 A	122～153	
地理 B	154～187	

- 3 試験中に問題冊子の印刷不鮮明、ページの落丁・乱丁及び解答用紙の汚れ等に気付いた場合は、手を高く挙げて監督者に知らせなさい。
- 4 解答は、解答用紙の解答欄にマークしなさい。例えば、10 と表示のある問いに対して③と解答する場合は、次の(例)のように解答番号10の解答欄の③にマークしなさい。

(例)

解答番号	解 答 欄
10	① ② ● ④ ⑤ ⑥ ⑦ ⑧ ⑨

- 5 問題冊子の余白等は適宜利用してよいが、どのページも切り離してはいけません。

この注意事項は、問題冊子の裏表紙にも続きます。問題冊子を裏返して必ず読みなさい。

6 不正行為について

- ① 不正行為に対しては厳正に対処します。
- ② 不正行為に見えるような行為が見受けられた場合は、監督者がカードを用いて注意します。
- ③ 不正行為を行った場合は、その時点で受験を取りやめさせ退室させます。

7 2科目受験者の試験の進行方法について(2科目受験者のみ確認)

- ① この試験は、前半と後半に分けて実施します。
 - ② 前半に解答する科目を「第1解答科目」、後半に解答する科目を「第2解答科目」として取り扱います。解答する科目及び順序は、志望する大学の指定に基づき、各自で決めなさい。
 - ③ 第1解答科目、第2解答科目ともに解答時間は60分です。60分で1科目だけを解答しなさい。
 - ④ 第1解答科目の後に、答案を回収する時間などを設けてありますが、休憩時間ではありませんので、トイレ等で一時退室することはできません。
- 注) 進行方法が分からない場合は、手を高く挙げて監督者に知らせなさい。

8 試験終了後、問題冊子は持ち帰りなさい。

世界史 A

(解答番号 ~)

第1問 国際関係や国際貿易の歴史について述べた次の文章A・Bを読み、下の問い(問1～6)に答えよ。(配点 19)

A 次の文章は、1947年にアメリカ合衆国の雑誌『フォーリン・アフェアーズ』に匿名で掲載された論文の一部である。(引用文には、省略したり、改めたりしたところがある。)

① ナポレオンやヒトラーといった個々の侵略的指導者による外交と比べ、ソ連による外交にどう対応するかは、より簡単でもあれば、一層困難な問題でもある。ソ連の外交は、敵対勢力に対し、それらの指導者よりも敏感である。② その一方で、ソ連に^{たいじ}対峙する側からすれば、一回勝利したぐらいでは、ソ連を屈服させたり、その戦意を失わせたりすることは不可能だ。ロシアの敵対者の側が長期的で賢明な政策、すなわちソ連の政策に劣らぬほど不動の目的を有し、運用に際しては変化と機略に富むような政策のみが効果的なのだ。

これらの状況より明らかなことに、アメリカ合衆国がソ連に向けていかなる政策を採るにせよ、その主要な要素は、ロシアの膨張傾向に対する長期の、忍耐強くはありながら、厳格で注意深い封じ込めでなければならない。ただし、そのような政策は外面的な演技とは無関係な点に留意することが重要だ。つまり脅しや^{どうかつ}恫喝、あるいは大げさな身振りで表面的に「タフさ」を見せることには全く意味がないのである。

世界史A

問 1 下線部㉔の人物のいずれかが行った外交・対外政策について述べた文として最も適当なものを、次の①～④のうちから一つ選べ。

- ① ウェストファリア条約を締結した。
- ② 大陸封鎖令を発布した。
- ③ 無制限潜水艦作戦を初めて実施した。
- ④ プレスト=リトフスク条約を締結した。

問 2 下線部㉕で念頭に置かれている戦争について述べた文として最も適当なものを、次の①～④のうちから一つ選べ。

- ① 二度にわたる日本遠征が行われた。
- ② カシミール地方をめぐる紛争が起こった。
- ③ ドイツがソ連に侵攻した。
- ④ ソ連がアフガニスタンに侵攻した。

問 3 上の文章における分析に関連して採用された、アメリカ合衆国の政策について述べた文として最も適当なものを、次の①～④のうちから一つ選べ。

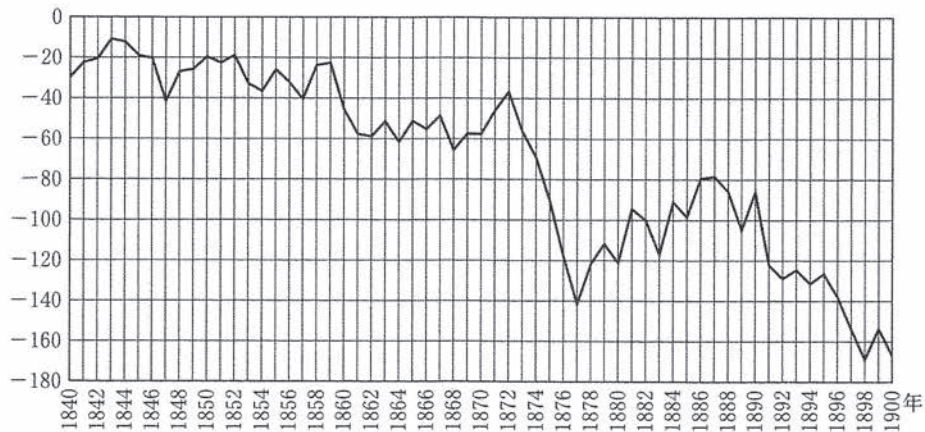
- ① ヨーロッパ経済復興のための援助計画(マーシャル=プラン)を発表した。
- ② ソヴィエト政権に敵対して、シベリアに出兵した。
- ③ 経済復興のために、ニューディール政策を推進した。
- ④ 原子爆弾を開発した。

世界史 A

B 次のグラフ1・2は、1840年から1900年までの二つの国、イギリスと **ア** の貿易収支の推移を示したものである。また、下の文章は、イギリスの貿易収支についての解説である。なお、 **ア** の通貨単位は a とした。

グラフ1 イギリスの貿易収支

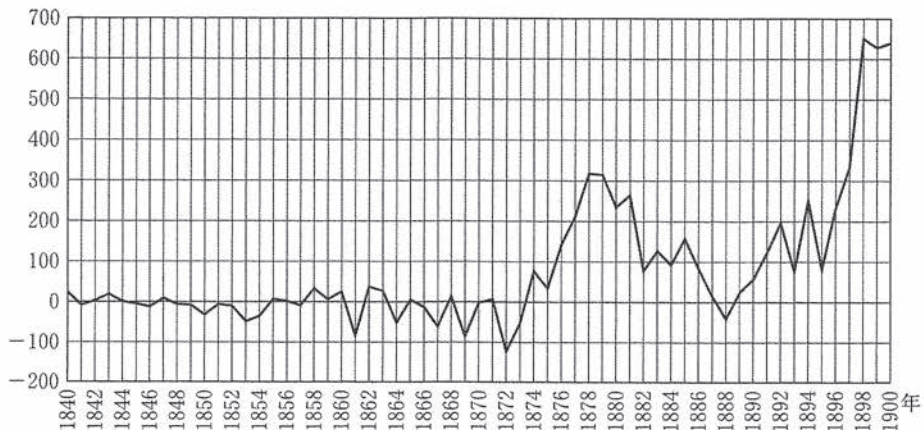
(単位：100万ポンド)



(B. R. ミッチェル編『マクミラン世界歴史統計』より作成)

グラフ2 **ア** の貿易収支

(単位：100万 a)



(B. R. ミッチェル編『マクミラン世界歴史統計』より作成)

世界史 A

イギリスは 19 世紀の代表的な先進工業国の一つであるが、1840 年から 1900 年の間の貿易収支は赤字であった。㉔ イギリスは確かに世界に大量の工業製品を輸出したが、他方で世界から大量の原料や食料などを輸入していたためである。 一時的に赤字幅が縮小することもあったが、1873 年の恐慌をきっかけとした世界的不況に際して、その赤字は大幅に拡大し、以降も黒字化とは程遠い状態が続いた。そのような状況を更に悪化させたのが の台頭であった。 は、国を二分する内戦の開始から 10 年余りは 1 億 α ほどの貿易赤字を計上することもあったが、それ以降は工業が急速に発展し、イギリスとは対照的に貿易収支は黒字となった。

問 4 上のグラフ 1 から読み取れる事柄あといの正誤の組合せとして正しいものを、下の①～④のうちから一つ選べ。

あ 貿易赤字が初めて 6000 万ポンドに達したのは、イギリスで穀物法が廃止された後である。

い 貿易赤字が初めて 6000 万ポンドに達したのは、イギリスが南京条約を結ぶ前である。

- | | | | |
|-------|-----|-------|-----|
| ① あ—正 | い—正 | ② あ—正 | い—誤 |
| ③ あ—誤 | い—正 | ④ あ—誤 | い—誤 |

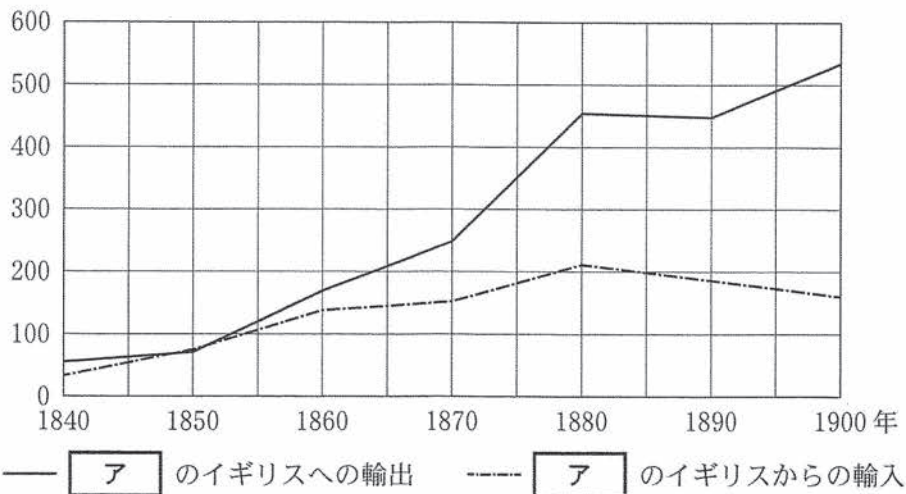
問 5 下線部㉔に関連して、世界史上の輸出入や貿易・交易について述べた文として誤っているものを、次の①～④のうちから一つ選べ。

- ① キャラコと呼ばれる綿織物(綿布)が、インドからイギリスへ輸出された。
- ② 奴隷貿易で、多くのアフリカ人が西インド諸島に連れ去られた。
- ③ 第二次世界大戦前に、関税と貿易に関する一般協定(GATT)が結ばれた。
- ④ シュリーヴィジャヤが、海上交易で栄えた。

世界史A

問 6 上の文章中の空欄 **ア** に入れる国う・えと、次のグラフ3から読み取れる事柄X・Yとの組合せとして正しいものを、下の①～④のうちから一つ選べ。 **6**

グラフ3 **ア** のイギリスとの輸出入額の推移 (単位: 100万*a*)



(B. R. ミッチェル編『マクミラン世界歴史統計』より作成)

ア に入れる国

う アメリカ合衆国

え ロシア

グラフ3から読み取れる事柄

X **ア** からイギリスへの輸出額が10倍近く増加する一方で、イギリスから**ア**への輸出額の伸びは5倍程度にとどまった。

Y イギリスから**ア**への輸出額が10倍近く増加する一方で、**ア**からイギリスへの輸出額の伸びは5倍程度にとどまった。

① うーX

② うーY

③ えーX

④ えーY

世界史 A

第 2 問 世界史上の人物・事件を題材にした映画や絵画について述べた次の文章

A・Bを読み、下の問い(問1～6)に答えよ。(配点 18)

A 校内上映会で映画「アマデウス」(1984年)を鑑賞した後、世界史の授業で感想を語り合った。

先生：先日の上映会では、アメリカ合衆国で制作された映画「アマデウス」をみんなで鑑賞しました。18世紀後半のウィーンを舞台に、音楽家モーツァルトをめぐる人間模様を描いた映画でしたが、皆さんはどこが印象に残りましたか。

高橋：モーツァルトが子供の頃にヨーロッパ中を旅行したり、ザルツブルクからウィーンに移って来たりしたところが気になりました。映画の中で、モーツァルトをウィーンに招いた皇帝は誰ですか。

先生：オーストリアの です。啓蒙専制君主として改革を行ったことで知られる彼は、.

杉本：私は、モーツァルトを嫌うサリエリをはじめ、イタリア人の音楽家たちがウィーンの宮廷で高い地位を与えられていた点が興味深かったです。

先生：この場面に示唆されているように、㉔それまでのヨーロッパでは伝統的にイタリアが文化的な先進地域とみなされてきました。こうしたイタリア人による活動は15～16世紀、遠く離れたモスクワでも、クレムリンの改築をはじめ、建築などの分野で盛んに見られたようです。

松井：この映画の監督は、ミロシュ・フォアマンというんですね。英語圏では聞き慣れないファーストネームのような気がしますが、アメリカ合衆国への移民ですか。

先生：そうですね。彼は1932年にチェコスロヴァキアで生まれ、すでに母国で映画監督としても活躍していましたが、㉕1968年に現地を離れ、翌年、アメリカ合衆国に拠点を移しました。この映画の中でも、演奏会のシーンの多くは出身国で撮影されたそうですよ。

世界史A

問 1 上の会話文中の空欄 **ア** と空欄 **イ** に入れる語句の組合せとして正しいものを、次の①～④のうちから一つ選べ。 **7**

- ① アーヨーゼフ 2 世
イーポーランド分割に参加しました
- ② アーヨーゼフ 2 世
イーウィーン会議を主導しました
- ③ アーメッテルニヒ
イーポーランド分割に参加しました
- ④ アーメッテルニヒ
イーウィーン会議を主導しました

問 2 下線部③の要因について述べた文として誤っているものを、次の①～④のうちから一つ選べ。 **8**

- ① メディチ家が、文化活動を後援した。
- ② ガリレイが、万有引力の法則を発見した。
- ③ 東方貿易で、経済的に繁栄する都市が生じた。
- ④ 古代ギリシア・ローマの文化を模範とする運動が始まった。

問 3 下線部④の要因について述べた文として最も適当なものを、次の①～④のうちから一つ選べ。 **9**

- ① フルシチョフが、スターリンを批判した。
- ② ティトーが、独自路線を採用した。
- ③ 母国が東西に分裂した。
- ④ ワルシャワ条約機構軍が軍事介入した。

B 「フランスの歴史と絵画」展示会を訪れた二人の高校生が会話をしている。

荒 井：会場は結構混んでいるね。

小 島：本当だ。歴史を題材とした絵画って人気があるんだね。

ところで、こうして見渡してみると、王とか皇帝とか偉人たちの輝かしい姿を描いた絵が目につくけれど、その一方で、何だか暗い雰囲気のある絵もたくさんあるよ。

荒 井：そうだね。解説によると、「フランスの歴史的出来事を題材とした絵画には、打ちのめされた民衆の姿が描かれているものも多い」んだって。例えば絵画 1 は、ウと呼ばれる政治体制下で起こった六月蜂起が鎮圧された様子を描いたものらしい。「失業者対策のために作られた施設が閉鎖されたことに、労働者たちが反発した」と書いてあるよ。

絵画 1



世界史A

問 4 上の会話文中の空欄 **ウ** の成立過程について述べた文として最も適当なものを、次の①～④のうちから一つ選べ。 **10**

- ① クーデタによって、統領政府が樹立された。
- ② 憲法によって、広範な自治権を持つ州が集う、連邦国家が成立した。
- ③ 王政が倒され、共和政の臨時政府が樹立された。
- ④ 議会が国王と対立し、外国から新たな王を迎え入れた。

二人は次の展示室へと歩みを進めた。

絵画 2



小 島：こっちにも似たような絵がある！ 絵画1とはタッチが違うけれど、絵画2もやっぱり人々が倒れている…。

荒 井：この絵は、隣国との戦争で **エ** が捕虜になった後にパリで起こった、ある出来事を描いたものみたいだよ。

小 島：確か、パリの大改造を試みた人物だよな。この前、授業で習った。ということは…、きっと絵画2は、 **オ** ことが題材となっているんだね。

それにしても、どちらの絵もパリが舞台か。そう言えば、パリでは

世界史 A

1960年代にも学生や労働者たちによる大規模な社会運動が起こって、それがきっかけで当時の大統領が退陣したって聞いたことがある。

荒井：◎民衆や弱い立場の人々による変革を求める運動は、権力の壁に跳ね返されながらも、政治や社会のあり方を大きく変えてきたんだね。

問 5 上の会話文中の空欄 **エ** に入れる人物の名と空欄 **オ** に入れる絵画 2 の説明との組合せとして正しいものを、次の①～④のうちから一つ選べ。 **11**

- ① エービスマルク
オー社会主義者鎮圧法が制定されて、労働運動が弾圧された
- ② エービスマルク
オー蜂起した民衆によって樹立された自治政府が、鎮圧された
- ③ エーナポレオン 3 世
オー社会主義者鎮圧法が制定されて、労働運動が弾圧された
- ④ エーナポレオン 3 世
オー蜂起した民衆によって樹立された自治政府が、鎮圧された

問 6 下線部◎にあるような歴史的出来事について述べた文として最も適当なものを、次の①～④のうちから一つ選べ。 **12**

- ① 17世紀のイギリスで、普通選挙の実現を求めるチャーティスト運動が展開された。
- ② パガン朝で、外国人への利権売却に抗議して、タバコ=ボイコット運動が起こった。
- ③ 20世紀のアメリカ合衆国で、黒人差別の撤廃を求める公民権運動が展開された。
- ④ チュニジアやエジプトで、「アフリカの年」と呼ばれる民主化運動が本格化し、長期独裁政権が打倒された。

世界史A

第3問 世界史上の君主について述べた次の文章A～Cを読み、下の問い(問1～9)に答えよ。(配点 27)

A 次の資料は、1913年にギリシアの国王が出した宣言である。(引用文には、省略したり、改めたりしたところがある。)

我々の虐げられし兄弟たちを解放するために、㉔キリスト教の諸国家とともに同盟を形成し、われらは幸運にも勝利し、専制政治を打ち破り、陸にも海にもギリシアの軍隊が意気揚々と勝利するのを見た。

㉕敗れ去った帝国は、解放された領土をわれらの同盟国にまとめて譲り渡した。しかし、同盟国の一つであったブルガリアは強欲にも、民族の権利や被った損害だけでなく、勢力均衡のためのあらゆる理性的な要求を認めず、いかなる議論も合意も拒否し、共闘し勝ち取った戦果の大部分を手にしようとした。

ギリシア臣民は、アとモンテネグロと緊密に連携し、大義の神聖さを固く信じ、暖炉と祭壇を守るための新たな戦いに向けて再び武器をとろうとしている。この新しい闘争は、第1の戦争と同じくらい、神によって神聖なものとして是認されている。

問1 下線部㉔の同盟はある国が仲介して結成させたものである。その国の当時の皇帝と、同盟の名称との組合せとして正しいものを、次の①～④のうちから一つ選べ。13

- ① ヴィルヘルム1世—三国同盟
- ② ヴィルヘルム1世—バルカン同盟
- ③ ニコライ2世—三国同盟
- ④ ニコライ2世—バルカン同盟

世界史 A

問 2 下線部①の帝国の歴史について述べた文として正しいものを、次の①～④のうちから一つ選べ。


- ① 第2次ウィーン包囲を実行した。
- ② 19世紀前半に、憲法が発布された。
- ③ 第一次世界大戦に、連合側で参戦した。
- ④ セーヴル条約で、領土を拡大した。

問 3 上の文章中の空欄 の国で起こった出来事について述べた文として正しいものを、次の①～④のうちから一つ選べ。

- ① コソヴォ自治州で、独立を求める紛争が起こった。
- ② チェルノブイリで、原子力発電所の事故が起こった。
- ③ ワレサが、自主管理労組「連帯」を指導した。
- ④ ブラントが、首相に就任し、「東方外交」を展開した。

世界史A

B 次の写真は、シリアのダマスカスにある、アイユーブ朝初代君主サラディン（サラーフ＝アッディーン）の墓所である。ここには^{ひつぎ}棺が二つ置かれている。右側奥の棺が本来の棺であり、左側手前の棺は1898年にドイツから贈られたものである。



サラディンは、◎十字軍と戦い、大きな勝利を収めたことで、イスラーム世界で人気の高い英雄である。一方、ヨーロッパにおいても、敵ながら高潔な君主であったとして人気を得てきた。ドイツから贈られた棺と本来の棺が並ぶ一見奇妙な光景は、ヨーロッパとイスラーム世界の双方で、サラディンがいかに大きな名声を得てきたかを反映している。しかしそれだけでなく、19世紀末にドイツが棺を贈ったことは、イのような、1890年代から1900年代にかけてのドイツの海外進出政策とも関連していたと考えられる。

しかし、ドイツの政策が大きな成功を得ることはなく、㊠中東の政治秩序も、この棺が贈られてから約20年後の1910年代から1930年代にかけて大きく変動した。

世界史 A

問 4 下線部㉔について述べた次の文あといの正誤の組合せとして正しいものを、
下の①～④のうちから一つ選べ。 16

あ アッバース朝を滅ぼした。

い ヘレニズム文化が形成されるきっかけとなった。

① あ—正 い—正

② あ—正 い—誤

③ あ—誤 い—正

④ あ—誤 い—誤

問 5 上の文章中の空欄 イ に入れる語句として最も適当なものを、
次の①～④のうちから一つ選べ。 17

① スエズ運河の建設

② バグダード鉄道の敷設権の獲得

③ スーダンへの侵攻

④ ケープ植民地の獲得

問 6 下線部㉕について述べた文として正しいものを、次の①～④のうちから一つ
選べ。 18

① エジプトで、イブン=サウードの王国が成立した。

② シリアが、ドイツの委任統治領となった。

③ イラクが、フランスの委任統治領となった。

④ イランで、パフレヴィー朝が成立した。

世界史 A

C 次の文章は、中国の皇帝と日本から訪れた僧との関わりについて述べた歴史書の一節である。(引用文には、省略したり、改めたりしたところがある。)

雍熙元年(984年)、日本国の僧 奝然とその弟子ら5、6人が海路でやってきた。太宗は奝然を召見し、手厚くもてなし、紫の法衣を賜い、太平興国寺に宿泊させた。陛下は、日本国の王が一姓の中で継承され、臣下も皆世襲であることを聞き、歎息して宰相に言われた。「これは島夷にすぎない。しかるに代々(君主の地位を)継承し、その臣も世襲して断絶することがない。これは古の道である。中国は唐末の争乱このかた、天下は分裂し、梁・周など五代には王朝の存続期間は特に短くなった。㉔高官や貴族は世襲することがまれとなった。朕はその徳において過去の聖人に及ばないけれども、常に朝夕に畏れかしくみ、治道の根本を尋ね求め、怠ることがない。子孫のために計り、㉕高官の世継ぎに俸禄と位階を世襲させるようにした。これが朕の心である。」㉖奝然が五臺山に行くことを求めたので、これを許可し、旅の途上で食事を供給することとした。さらに印刷された『大藏經』を求めたので、詔によって支給した。

問 7 下線部㉔の発言の背景となった歴史の展開あ・いと、下線部㉕が実現しなかった事情 X・Y との組合せとして正しいものを、下の①～④のうちから一つ選べ。

19

発言の背景となった歴史の展開

- あ 動乱を経て、文人官僚が新たな支配層を形成したこと。
- い 女真が、中国の北部を支配したこと。

実現しなかった事情

- X 科挙による官僚選抜や官僚の昇任の制度が、個人の能力を重視したから。
- Y 領地保有を認められる代わりに、君主に服従する主従関係が成立したから。

- ① あ—X ② あ—Y ③ い—X ④ い—Y

世界史 A

問 8 次の文う・えは、日本と外国との交渉や交流に関する事柄である。上の文章が示す裔然の渡航を含めて、これらが年代の古いものから順に正しく配列されているものを、下の①～⑥のうちから一つ選べ。 20

- う 勘合貿易が行われた。
え 卑弥呼が、中国の皇帝に使者を送った。

- ① う → え → 裔然の渡航 ② う → 裔然の渡航 → え
③ え → う → 裔然の渡航 ④ え → 裔然の渡航 → う
⑤ 裔然の渡航 → う → え ⑥ 裔然の渡航 → え → う

問 9 下線部⑧から窺えるように、東アジアでは宗教が各地域の結び付きを強めることになった。仏教について述べた文として誤っているものを、次の①～④のうちから一つ選べ。 21

- ① ブツダがマニ教を批判して、仏教を創始した。
② 上座部仏教は、東南アジア地域に伝播した。
③ ジャワ島には、仏教の遺跡が存在する。
④ 玄奘が、インドから仏典を持ち帰った。

世界史A

第4問 世界史上の出来事の記録について述べた次の文章A・Bを読み、下の問い(問1～6)に答えよ。(配点 18)

A 次の資料1～3は、オーストラリアに関する歴史上の出来事について、その当時の人々が残した記録である。(引用文には、省略したり、改めたりしたところがある。)

資料1 戦時下に行われた首相による演説

日本との戦争は、枢軸国との戦いの一局面ではなく、全く新たな戦争である。オーストラリア政府は、太平洋戦争において、アメリカ合衆国とオーストラリアが最大の発言権を持つべきだと考える。私は以下のことを明確にしたい。オーストラリアは、イギリスとの伝統的な結び付きや血縁関係による葛藤から自由となって、アメリカ合衆国に目を向ける。

資料2 イギリスからオーストラリアへの流刑を開始する命令

この王国の監獄や犯罪者を収監するための場所の幾つかは、収容している人数が過剰なために、囚人による脱走や囚人の間での感染症から生じる、大きな危険が予想される状況にある。国王陛下は、流刑の判決あるいは命令を下された囚人を王国の外に送り出すための手段を速やかに実行するように、私に御指示を下された。

資料3 地下資源の最初の発見に関する報告

我々の金鉱は今後、「バララト採掘所」という名称で知られることになるだろう。現地の鉱夫はわずか数日で120人に達し、その人数は日々増加している。峡谷の端に沿ってテントや小屋が広がっており、今やその数は小さな街を形成するのに十分である。ここでの物事のあらゆる面の変化は驚異的であり、現実と言うよりも夢のようである。

世界史A

問 1 上の資料 1～3 が年代の古いものから順に正しく配列されているものを、次の①～⑥のうちから一つ選べ。 22

- | | |
|----------------------|----------------------|
| ① 資料 1 → 資料 2 → 資料 3 | ② 資料 1 → 資料 3 → 資料 2 |
| ③ 資料 2 → 資料 1 → 資料 3 | ④ 資料 2 → 資料 3 → 資料 1 |
| ⑤ 資料 3 → 資料 1 → 資料 2 | ⑥ 資料 3 → 資料 2 → 資料 1 |

問 2 上の資料 1 に示されたオーストラリアの外交方針を反映する事柄について述べた文として最も適当なものを、次の①～④のうちから一つ選べ。 23

- ① 西側諸国との同盟を強化し、北大西洋条約機構(NATO)を結成した。
- ② イギリスから距離を置くため、枢軸国との戦いにおいて中立を保った。
- ③ アメリカ合衆国と関係を深め、太平洋安全保障条約(ANZUS)を結んだ。
- ④ 日本との戦争において、イギリスが最大の発言権を持つべきだと考えた。

問 3 オーストラリアの先住民は文字を用いず、歴史の記録が残りにくかった。同じく文字を用いない先住民が存在したアメリカ大陸について述べた次の文章中の空欄 ア と イ に入れる人物の名の組合せとして正しいものを、次の①～④のうちから一つ選べ。 24

インカ帝国が ア によって征服されて以降、先住民による歴史の記録は失われていったため、先住民の歴史を知る上では、入植者が書き残した記録や宣教師の報告書が重要となっている。そうした記録を残した人物の例として、植民地での先住民に対する虐待を批判した イ がいる。

- | | |
|----------|----------|
| ① アーコルテス | イーカストロ |
| ② アーコルテス | イーラス＝カサス |
| ③ アーピサロ | イーカストロ |
| ④ アーピサロ | イーラス＝カサス |

世界史A

B 次の資料1～3は、朝鮮半島に関する歴史上の出来事について、その当時の人々が残した記録である。(引用文には、省略したり、改めたりしたところがある。)

資料1 ある国との間で結ばれた条約

第一条 韓国皇帝陛下は韓国全部に関する一切の統治権を完全かつ永久に日本国皇帝陛下に譲与す。

第二条 日本国皇帝陛下は前条に掲げたる譲与を受諾し、かつ全然韓国を日本帝国に併合することを承諾す。

資料2 ㉔独立運動の際に発表された宣言書

われらはここに我が朝鮮の独立国であることと朝鮮人の自主民であることを宣言する。これをもって世界万邦に告げ、人類平等の大義を克明にし、これをもって子孫万代におしえ、民族自存の正当なる権利を永遠に有らしめるものである。(中略)

朝鮮建国 4252 年 3 月 1 日 朝鮮民族代表

資料3 愛国団体によって著された趣旨書

国の独立はただ自強の如何にかかっている。我が韓はこれまで自強の術を講ぜず、人民は愚味で、国力は衰え、遂に今日のように外国人の保護国となるような状況に至ったのは、自強の道に意を致さなかったためである。(中略)

光武 10 年(西暦 1906 年) 3 月 31 日

問 4 上の資料1～3が年代の古いものから順に正しく配列されているものを、次の①～⑥のうちから一つ選べ。 25

① 資料1 → 資料2 → 資料3

② 資料1 → 資料3 → 資料2

③ 資料2 → 資料1 → 資料3

④ 資料2 → 資料3 → 資料1

⑤ 資料3 → 資料1 → 資料2

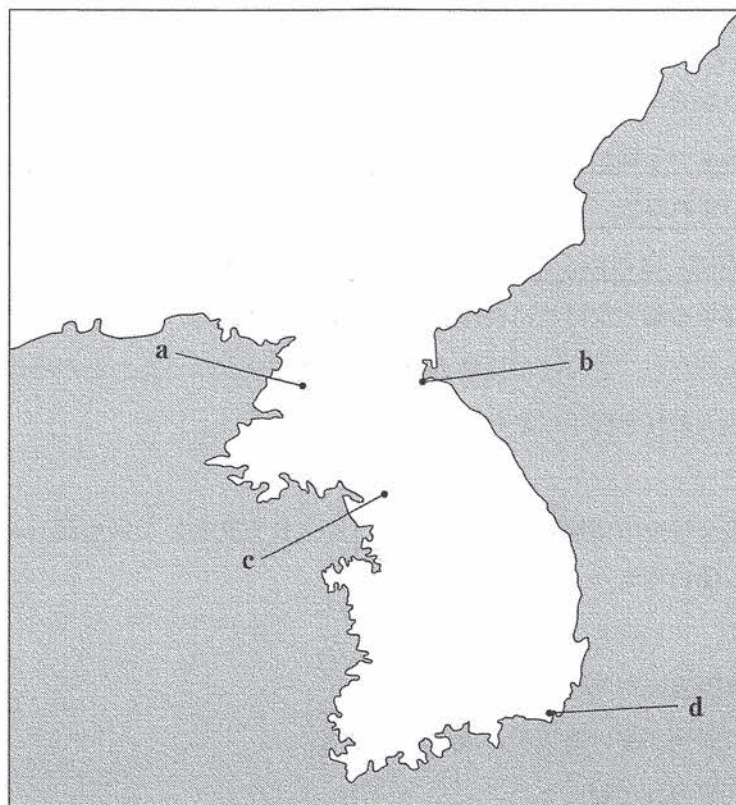
⑥ 資料3 → 資料2 → 資料1

世界史 A

問 5 下線部④に関連して、世界の各地で起こった独立運動について述べた文として誤っているものを、次の①～④のうちから一つ選べ。 26

- ① フランスに対し、アルジェリアが独立運動を行った。
- ② イギリスに対し、アイルランドが独立運動を行った。
- ③ シモン＝ポリバルが、カンボジアの独立運動を指導した。
- ④ エンクルマが、ガーナの独立運動を指導した。

問 6 上の資料 3 は、かつて朝鮮王朝の首都であった漢城で刊行された。次の図中に示した a～dのうち、漢城の位置として正しいものを、下の①～④のうちから一つ選べ。 27



- ① a
- ② b
- ③ c
- ④ d

世界史A

第5問 民族間の対立関係や民族独立の運動について述べた次の文章A・Bを読み、下の問い(問1～6)に答えよ。(配点 18)

A 次の文章は、中国の軍事制度と周辺民族との関係について述べた論文(雷海宗「中国の兵」)の、結論部分の概要である。

中国は常に周辺民族の兵を雇い、周辺民族もまた常に気ままに行動してきた。宋は名目的には中国を統一したが、一部の領土は回復できなかった。明はどうか中国本土を完全に統一したものの、外敵に対処する力があつたのは、建国当初の極めて短期間のみである。その後の200余年間は、外からの侮辱に対する反撃をどうにか保っていくのがほとんど常態となっていて、ア後、半世紀ほどで滅びた。やがて中国は西洋に併呑^{へいどん}される危険を感じるようになった。自らの力が足りないので、清末からは西洋の力を借りたが、そのやり方は時代によってやや変化した。㊦結局のところ200年来、中国は一部ないしは全部が周辺民族によって統治されるか、あるいは何とか自立しつつ外からの侮辱に耐え忍ぶかのいずれかで、完全に自立して周辺民族に対抗できたり、彼らを服属させたりしたのは、きわめて例外的なのである。人類史上の政治集団は、大小を問わず、侵略する側でなければ侵略される側だ。後漢以降、中国人は侵略する側にはなれなかったが、さりとて侵略されることは望まなかった。だがその実、大半の時代は他人の好き勝手にされてきたのである。

問1 上の文章中の空欄アに入れる文として最も適当なものを、次の①～④のうちから一つ選べ。28

- ① 豊臣秀吉が朝鮮に出兵した
- ② 洪秀全が率いる軍勢の攻撃を受けた
- ③ 紅巾の乱が起こった
- ④ 三藩が反乱を起こした

世界史A

問 2 下線部㉔に関連して、中国王朝と周辺民族の歴史について述べた文として正しいものを、次の①～④のうちから一つ選べ。 29

- ① 五胡と呼ばれる諸民族が、江南に王朝を建てた。
- ② 北魏は、ウイグルによって建国された。
- ③ 隋の煬帝は、新羅に遠征したが失敗した。
- ④ 南宋は、フビライによって滅ぼされた。

問 3 次の文章は、上で紹介した論文を収めた書籍の、序文の一節である。次の文章中の空欄 イ に入れる地名あ・いと、そこで起こった事件がもたらした事態 X～Z との組合せとして正しいものを、下の①～⑥のうちから一つ選べ。
(引用文には、省略したり、改めたりしたところがある。) 30

本書に収められた幾つかの論文は、清華大学(注)で発表したものである。最も新しいものは民国 26 年 7 月 1 日の出版で、その 1 週間後の夜に、静かな清華園にいた私は、イ の砲声で夢から起こされた。

(注) 清華大学—北京に設置された大学。

イ に入れる地名

- あ 盧溝橋
- い 柳条湖

もたらした事態

- X 満州国(満洲国)が建てられた。
- Y 日中両軍が全面戦争に突入した。
- Z 北伐が完了した。

- ① あ—X ② あ—Y ③ あ—Z
- ④ い—X ⑤ い—Y ⑥ い—Z

世界史A

B 次の資料1・2は、インドネシア民族主義運動のリーダーの一人で、独立戦争を指導したモハマッド＝ハッタ(初代インドネシア副大統領)の回想録の一部である。(引用文には、省略したり、改めたりしたところがある。)

資料1 1926年の政治集会での演説

ヨーロッパ帝国主義は人類の利益のために終結させねばならないし、植民地支配を受けている各民族は、植民地化から自らを解放する義務がある。したがって、インドネシアは人道主義と文明化の原則により、独立を達成しなければならない。そして、これを実行する唯一の手段は、力づく以外にないのではないかと私は考えている。

資料2 1933年に①日本を訪問した際に交わした日本人夫婦との会話

「あなたがジャワのガンディーですか」と、私は訊ねられた。私は答えた。「インドネシアでの運動は非協力主義に基づくもので、これはインドのガンディーの運動とよく似ているので、日本では私もジャワのガンディーと呼ばれています。」

「インドネシアの非協力主義はインドの非協力主義の一部ですか」と、夫の方がまた訊ねた。

私は答えた。「違います。インドのガンディーは、^{もちろん}勿論この運動を英国帝国主義に反対するために始めました。インドネシアは、この非協力運動をインドの3年後ぐらいから始めています。インドの非協力主義はヒンドゥー教の影響が非常にあり、アヒンサ(非暴力、不殺生)と呼ばれています。インドネシアの非協力主義の基本は政治的なものです。」

「インドネシアの運動は、最終的には、植民地政府に対して人民を反乱させようということですか」と、夫人が訊ねた。

私は答えた。「目覚めた民族が、ずっと踏みつけられているわけにはいきません。」

世界史 A

問 4 上の資料 1・2 で、ガンディーとハッタは植民地支配に反対しているが、その理由や背景を述べた文として最も適当なものを、次の①～④のうちから一つ選べ。 31

- ① インドネシアの非協力主義が、インドの運動の一部であったから。
- ② 二人ともイスラーム国家の樹立を目指していたから。
- ③ 民族自決に基づく国家形成の理念が、国際社会で広まっていたから。
- ④ 世界恐慌によりイギリスやフランスが、植民地を手放そうとしたから。

問 5 上の資料 1・2 から読み取れるガンディーとハッタの独立運動に対する考え方あ～うと、インドとインドネシアの独立をめぐる出来事 X・Y との組合せとして正しいものを、下の①～⑥のうちから一つ選べ。 32

独立運動に対する考え方

- あ 二人とも非暴力を唱える。
- い 二人とも武力行使をやむを得ないものとする。
- う ガンディーは非暴力だが、ハッタは武力行使を否定しない。

独立をめぐる出来事

- X 第二次世界大戦後、独立を認めないフランスに対し、インドネシアは独立を勝ち取った。
- Y 第二次世界大戦後、インドとパキスタンが分離独立した。

- ① あ－X ② あ－Y ③ い－X
- ④ い－Y ⑤ う－X ⑥ う－Y

世界史A

問 6 下線部①の国は、第二次世界大戦中に東南アジアを軍事占領した。この前後の時期の東南アジアについて述べた文として正しいものを、次の①～④のうちから一つ選べ。 33

- ① 日本が、ビルマを植民地としていたドイツと戦った。
- ② 日本が、占領地の住民に労働力を提供させた。
- ③ 第二次世界大戦直前に、フィリピンが独立した。
- ④ 第二次世界大戦中に、東南アジア諸国連合(ASEAN)が設立された。

(下書き用紙)