

令和5年度 公立高等学校入学者選抜

学力検査問題

社 会

注 意

- 1 検査係員の指示があるまで、問題冊子と解答用紙に手をふれてはいけません。
- 2 問題は【問 1】から【問 3】まであり、問題冊子の2～9ページに印刷されています。10ページ以降に問題はありません。
- 3 問題冊子とは別に、解答用紙があります。解答は、すべて解答用紙の の中に書き入れなさい。
- 4 漢字で書くように指示されている場合は、漢字で書きなさい。そうでない場合は、漢字の部分をひらがなで書いてもかまいません。
- 5 字数を指定された解答については、句読点、カギ括弧(「や『)なども1字に数え、指定された字数で答えなさい。

【問 1】桜さんは、日本において、稲作が人々の生活や社会に与えた影響について興味をもち、調べたことをカード1～4にまとめた。各問いに答えなさい。

カード1	稲作は、中国や朝鮮半島から渡来した人々によって、九州北部に伝えられたと考えられている。やがて、稲作は東日本にまで広がった。その後、 <u>朝廷</u> は、人々を戸籍に登録し、 <u>戸籍</u> にもとづいて口分田を支給した。
原始	
古代	

(1) カード1の下線部aにかかわって、稲作の伝来によって、人々の生活や社会が変化した。その変化について述べた文として適切なものを、次のア～エから2つ選び、記号を書きなさい。

- 〔 ア 表面に縄目の文様をつけた土器の製作が始まった。 イ 銅鐸が祭りで使われるようになった。 〕
〔 ウ 小さなクニ(国)ができ、有力者や王が現れた。 エ 打製石器が初めて作られた。 〕

(2) カード1の下線部bにかかわって、資料1は8世紀初めの戸籍である。この戸籍に記載されている人のうち、租を負担する対象となったのは何人か、最も適切なものを、次の選択肢Aのア～エから1つ選び、記号を書きなさい。また、それを選んだ根拠として最も適切なものを、下の選択肢Bのオ～クから1つ選び、記号を書きなさい。

資料1 古代の戸籍

*筑前国嶋郡川辺里	大宝二年籍
戸主	肥君猪手 年伍拾参歳(53歳)
妻	笥多奈売 年伍拾式歳(52歳)
男	肥君与呂志 年式拾玖歳(29歳)
婦	肥君方名売 年式拾伍歳(25歳)
孫(女)	肥君阿泥売 年肆歳(4歳)

*筑前国：現在の福岡県の一部
〔「正倉院文書」等より作成〕

選択肢A

- 〔 ア 1人 イ 2人 ウ 4人 エ 5人 〕

選択肢B

- 〔 オ 口分田は、戸籍に登録されたすべての人に与えられ、その人たちが租を負担したから。 〕
〔 カ 口分田は、戸籍に登録された6歳以上の男女に与えられ、その人たちが租を負担したから。 〕
〔 キ 口分田は、戸籍に登録された男性のみに与えられ、その人たちが租を負担したから。 〕
〔 ク 口分田は、戸主のみに与えられ、戸主が租を負担したから。 〕

カード2	中国から伝わった大唐米とよばれる品種の米が、西日本を中心に広がった。一年に同じ田畑で米と麦などを交互に作る <u>あ</u> も広がり、かんがい用の水車などが使われるようになった。また、有力な農民を中心に <u>い</u> が作られ、用水路の管理などについて、おきてを定めるなど自治的な運営を行った。
中世	

(3) カード2の下線部cにかかわって、歴史上のものの伝来や交易について述べた文として適切なものを、次のア～エから2つ選び、記号を書きなさい。

- 〔 ア 正倉院宝物の中には、インドや西アジアから唐へもたらされたと考えられる品がある。 〕
〔 イ 南蛮貿易では、日本は中国へ生糸や絹織物などを輸出し、中国から銀を輸入した。 〕
〔 ウ アメリカで発明された火薬や羅針盤が、イスラム世界を通じて、中国に伝えられた。 〕
〔 エ 和人はアイヌの人々と交易を行い、鮭や昆布、毛皮などが京都に運ばれた。 〕

(4) カード2のあ、いに当てはまる語句の組み合わせとして最も適切なものを、次のア～エから1つ選び、記号を書きなさい。

- 〔 ア あ 二期作 い 惣 イ あ 二期作 い 五人組 〕
〔 ウ あ 二毛作 い 惣 エ あ 二毛作 い 五人組 〕

(5) 資料2、3は、豊臣秀吉が行ったある政策で用いられたものである。豊臣秀吉が行ったその政策によって、公家や寺社には、どのような変化がみられたか、荘園領主という語を使って、簡潔に書きなさい。

資料2 京ます

著作権の関係から掲載できません。

(東京国立博物館蔵)

資料3 検地尺

著作権の関係から掲載できません。

(尚古集成館蔵)

カード3 近世	江戸時代、農民は、年貢を ^d 幕府や藩に納め、武士の生活を支えた。18世紀に入ると、 ^e 幕府は、財政難に対応するため、さまざまな政策を実施した。
------------	--

(6) カード3の下線部dにかかわって、江戸幕府のしくみについて述べた文として最も適切なものを、次のア～エから1つ選び、記号を書きなさい。

- | | | |
|---|---|---|
| [| ア 執権を中心とする有力な御家人の話し合いで、ものごとが決定された。
イ 政治は、老中を中心に行われ、若年寄や三奉行などの役職が置かれた。
ウ 太政官が政策を決め、その下で八省などが実務に当たった。
エ 管領は、他の有力な守護大名とともに政治を行った。 |] |
|---|---|---|

(7) カード3の下線部eにかかわって、表のア～ウは、徳川吉宗、田沼意次、松平定信のいずれかの人物が行ったおもな政策についてまとめたものである。徳川吉宗の政策について述べたものとして最も適切なものを、表のア～ウから1つ選び、記号を書きなさい。また、徳川吉宗が行った財政の立て直しの特徴として考えられることの1つを、表をもとに、年貢という語を使って、5字以上15字以内で書きなさい。

表

ア	イ	ウ
○商品作物の栽培を制限して、米などの穀物の栽培をすすめる。 ○江戸などの都市に出てきていた農民を故郷に帰す。	○商工業者による株仲間の結成を奨励し、営業税を納めさせる。 ○長崎からの銅や俵物とよばれる海産物の輸出を増やす。	○新田開発をすすめる、米の増産に努める。 ○参勤交代を軽減するかわりに、大名に幕府へ米を納めさせる。

カード4 近代 現代	明治時代になり、政府は、国家の財政を安定させるため、 ^f 税制の改革を行った。その後、大正時代に入り、富山県から始まった ^g 米騒動が全国に広がった。第二次世界大戦後、米の品種改良がさらに進み、多くの品種が登場してきている。
------------------	--

(8) カード4の下線部fにかかわって、明治時代の税制の改革について述べた文として適切なものを、次のア～エからすべて選び、記号を書きなさい。

- | | | |
|---|--|---|
| [| ア 税は村ごとにかかけられ、収穫した米の40～50%を米で納めた。
イ 政府は、地主が持つ小作地を強制的に買い上げて、小作人に安く売りわたした。
ウ 税率は、実施当初、地価の3%と定められ、土地の所有者が現金で納めた。
エ 政府は、土地の所有者と地価を定め、地券を発行した。 |] |
|---|--|---|

(9) カード4の下線部gのできごとが起きた時期として最も適切なものを、略年表のX～Zから1つ選び、記号を書きなさい。また、このできごとが起きた原因の1つとして考えられることについて述べた文として最も適切なものを、次のア～ウから1つ選び、記号を書きなさい。

略年表

年	できごと	
1873	徴兵令が出される	
1894	日清戦争が始まる	X
1914	第一次世界大戦が始まる	Y
1931	満州事変が始まる	Z

- | | | |
|---|--|---|
| [| ア 義和団事件後も満州に軍隊をとどめるロシアとの対立が深まり、日露戦争が始まったから。
イ ロシア革命が起き、その広がりをおさえるために、日本やアメリカなどが出兵することになったから。
ウ 西郷隆盛を中心に鹿児島の上族などが西南戦争を起こしたから。 |] |
|---|--|---|

(10) 桜さんは、日本において、稲作が人々の生活や社会に与えた影響について調べてきたできごとのうち、まだ取り上げていないことを4つ挙げた。その4つのできごとである次のア～エが、古い順になるように左から並べて、記号を書きなさい。

- | | | |
|---|---|---|
| [| ア 能は猿楽や田植えの際に行われた田楽などから生まれ、観阿弥、世阿弥によって完成した。
イ 朝廷は、開墾を奨励するために、墾田永年私財法を出した。
ウ 北海道では、屯田兵を中心に開拓が行われ、稲作も本格的に始まった。
エ 諸藩は、蔵屋敷で年貢米や特産物の取り引きを行った。 |] |
|---|---|---|

【問 2】 各問いに答えなさい。

I 春さんは、学校帰りに図のような北海道の図柄が入った地方版図柄入りナンバープレートをつけたトラックを見かけ、疑問に思ったことをノート1に書き出した。

著作権の関係から掲載できません。

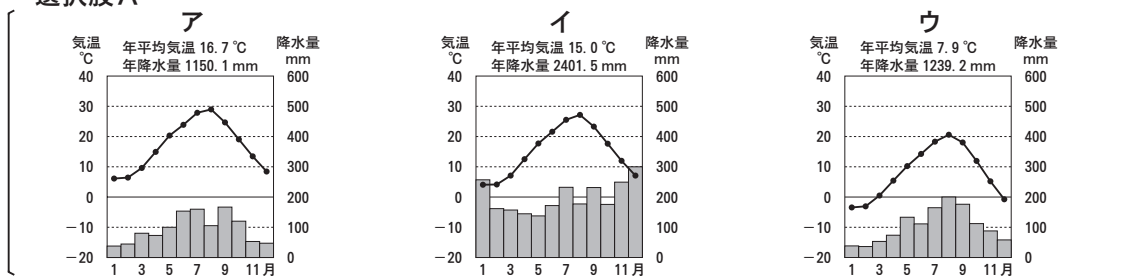
ノート1

- ① 「苦小牧」って、何て読むのかな？どこにあるのかな？
- ② 苦小牧ナンバーの図柄は何を表しているのかな？

(1) ノート1の①について、春さんはインターネットや地図で調べ、苦小牧が北海道にあることがわかった。

① 選択肢Aのア～ウは、苦小牧市、高松市、金沢市のいずれかの都市の雨温図である。苦小牧市の雨温図として最も適切なものをア～ウから1つ選び、記号を書きなさい。また、それを選んだ理由として最も適切なものを選択肢Bのエ～カから1つ選び、記号を書きなさい。

選択肢A



(気象庁資料より作成)

選択肢B

- エ 冬は日本海から吹き込む湿気を含んだ風により、雨や雪の日が多くなるから。
- オ 海からの風が山地にさえぎられるため、年間を通して降水量が少ないから。
- カ 夏の平均気温を比べると、他の都市と比べて冷涼な気候であるから。

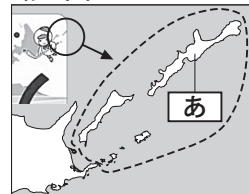
② 北海道には「トマコマイ」のように、アイヌ語が由来となったとされる地名が多くみられる。アイヌの伝統文化を振興させるため、1997年に施行された法律を何というか、書きなさい。

③ 図柄を見ていた春さんは、北海道の東方にある島々に着目した。

略地図1は、北海道の東方の島々を拡大したものである。略地図1の

あに当てはまる島名を、次のア～エから選び、記号を書きなさい。また、点線で囲まれた島々を総称して何というか、漢字4字で書きなさい。
 [ア 国後島 イ 色丹島 ウ 択捉島 エ 歯舞群島]

略地図1



(2) 春さんは、苦小牧市について調べてわかったことをノート2にまとめた。

ノート2

- ・北海道の海の玄関口である苦小牧港と、空の玄関口である新千歳空港を有し、また、鉄道や国道、高速自動車道など、北海道の海と空と陸の交通の要に位置している。
- ・道内最大の工業都市であり、製造品出荷額などでは、人口で10倍以上を有する札幌市を上回り、北海道全体の20.6%を占めている。
- ・近年、産業を生かした観光に力を入れ、産業集積都市として、産業観光を推進している。

① ノート2の下線部aにかかわって、日本で行われてきた加工貿易とはどのような貿易か、資料1をもとに、製品、木材チップの2語を使って、簡潔に書きなさい。

資料1 苦小牧港における外国貿易の主要貨物(R2)

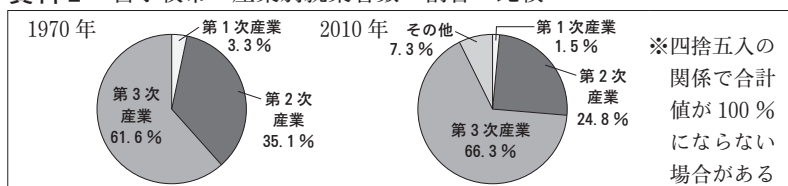
輸出		輸入	
品目	貨物量(t)	品目	貨物量(t)
紙・パルプ	116412	石炭	4194033
水産品	103397	原油	3992518
重油	102190	*木材チップ	832602

*木材チップ：木材を機械で小さく切り刻んだもの

(「苦小牧港統計年報(R2 港湾統計)」より作成)

② ノート2の下線部a、bについて、苦小牧市における産業別就業者数の割合の変化を、資料2から読み取り、工業従事者数の割合に着目して、簡潔に書きなさい。

資料2 苦小牧市の産業別就業者数の割合の比較



※四捨五入の関係で合計値が100%にならない場合がある

(「苦小牧市における現況・まちづくり上の課題」より作成)

(3) ノート1の②について、春さんは、資料3～5を見て、考えたことをノート3にまとめた。

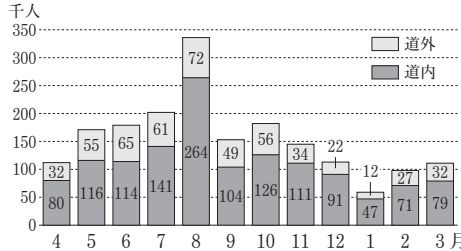
資料3 地方版図柄入り

ナンバープレートの目的

「走る広告塔」として、
c 地域の風景や観光資源
を図柄とすることにより、地域の魅力を全国に発信することを目的としている。

(国土交通省資料等より作成)

資料4 苫小牧市の*観光入込客延数の推移 (H26年度)



*観光入込客：訪れた観光客

資料5 北海道の観光入込客のうち宿泊客延数(H26年度)

順位	市町村名	人口(万人)	宿泊客延数
1	札幌市	195	1110万人・泊
2	函館市	27	361万人・泊
3	釧路市	17	129万人・泊
4	登別市	5	121万人・泊
5	帯広市	17	102万人・泊
⋮	⋮	⋮	⋮
28	苫小牧市	17	16万人・泊

(資料4, 5は苫小牧市資料より作成)

ノート3

- ・資料3の下線部cから、図柄と苫小牧市の観光の特徴には関係があると思う。
- ・苫小牧市の観光入込客延数は月によって差があり、8月と1月では、およそ*い*倍の違いがある。*う*の季節に比べて、*え*の季節の観光入込客延数が少ない。また、道内客と道外客を比べると、*お*客の割合が高い。
- ・人口が同規模の釧路市や帯広市と比較すると、観光入込客延数のうち、宿泊客延数が少ない。
- ・これらのことから、苫小牧市の観光入込客延数は季節による差が大きく、また、日帰り客が多いことから、*か*型の観光地であると考えられる。

- ① ノート3の*い*～*か*に当てはまる最も適切なものを、資料4, 5をもとに、次のア～クから1つずつ選び、記号を書きなさい。ただし、*い*～*か*には、それぞれ異なる記号が入る。
[ア 3 イ 6 ウ 夏 エ 冬 オ 道外 カ 道内 キ 滞在 ク 通過]
- ② 春さんは、ここまで調べてきたことについて友達と話し合い、考えを深めた。

会話文

春：苫小牧市は工業がさかんだと調べてわかったけれど、苫小牧ナンバーの図柄には、ウトナイ湖やアイスホッケーなどが描かれているね。自然や冬のスポーツが使われているね。
 優：苫小牧市ならではの雄大な自然_dは観光資源として紹介できるもんね。工業がさかんな苫小牧らしく、工場、煙突など様々なロケーションを生かした、映画やテレビ番組の撮影も行われているし、観光産業に力を入れていこうとしていることが感じられるね。
 誠：冬のスポーツのさかんな地域で、交通アクセスも良いことから、大会や合宿の誘致もすすめられているよ。冬の観光客の増加も期待できるよ。
 春：苫小牧ナンバーの図柄には、_e市や_f市民の思いが詰まっているんだね。

i 会話文の下線部dにかかわって、生態系の保全と観光の両立を目指した取組を何というか、カタカナ7字で書きなさい。

ii 会話文の下線部eについて、春さんは、地方版図柄入りナンバープレートの導入に向けた市長の期待をウェブサイトで見つけた。ウェブサイトのように市長が期待する理由を、資料6から読み取れることをもとに、釧路市や帯広市と比較して、簡潔に書きなさい。

資料6 市町村別保有車両数

(R4. 3月末日現在)

	苫小牧市	釧路市	帯広市
人口	約17万人	約16万人	約16万人
貨物用	27954台	14954台	15544台
乗用	70969台	63706台	70173台

(国土交通省資料等より作成)

ウェブサイト

ナンバープレートの導入は、以前から市民や事業者、特にトラック協会などから要望があった。市長は、「苫小牧ナンバーの車が本州各地を走るようになるので、苫小牧の知名度の向上につながれば」と期待している。

(苫小牧市のウェブサイトより作成)

iii 会話文の下線部fについて、苫小牧の地方版図柄入りナンバープレートの申し込みの特徴の1つとして資料7から読み取れることを、寄付という語を使って、簡潔に書きなさい。

資料7 地方版図柄入りナンバープレート

(苫小牧)の*1申込件数(R2. 6. 22現在)

寄付の有無	*3寄付あり	寄付なし
*2登録車	582台	56台
軽自動車	289台	40台
合計	871台	96台

*1申込：令和2年4月13日開始

*2登録車：登録された普通車の自家用車・事業用車

*3寄付あり：1000円以上の寄付をすることで、フルカラー版を選択できる。寄付金は、当該地域の観光振興等にあてられる。

(国土交通省資料等より作成)

II 夏さんは、ブラジルで大豆の生産がさかんであることに興味をもち、調べた。

(1) 資料8のA, Bに当てはまる国名を、略地図2をもとに、それぞれ書きなさい。

資料8 大豆の生産量上位4か国の大豆の生産量、人口、面積(2018年)

	国名	大豆の生産量(千t)	人口(千人)	面積(千km ²)
1位	A	123664	326767	9834
2位	ブラジル	117888	210868	8516
3位	アルゼンチン	37788	44689	2796
4位	B	14189	1415046	9600

略地図2 大豆の生産量上位4か国
※大豆の生産量の上位4か国に着色してある

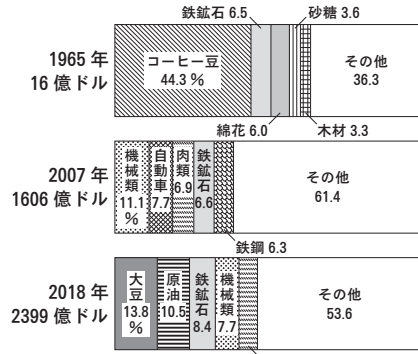


(資料8, 略地図2は「世界国勢図会 2020/21」等より作成)

(2) ブラジルの輸出品の変化について、資料9から読み取れることとして適切なものを、次のア～エから2つ選び、記号を書きなさい。

- ア 1965年に輸出品として最も多かったコーヒー豆は、2007年、2018年の上位5品に入っていない。
- イ 2007年の輸出品のうち上位5品は、1965年と比べて、すべて工業製品に変化した。
- ウ 2018年の大豆の輸出額は、2007年の機械類と自動車を含めた輸出額よりも多い。
- エ 2018年の輸出総額は、1965年の輸出総額の100倍以下である。

資料9 ブラジルの輸出品の変化

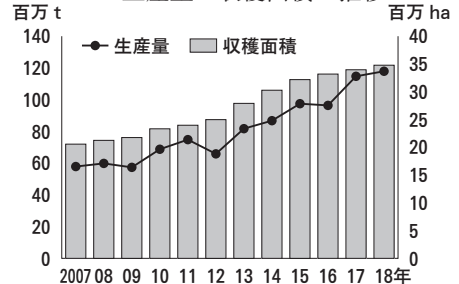


※輸出品は左から多い順に示している
(「世界国勢図会 2020/21」等より作成)

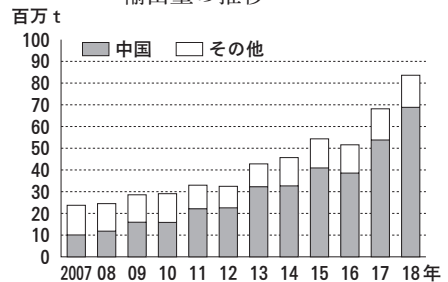
(3) 夏さんは、ブラジルの大豆の輸出について調べ、資料10, 11を用意し、考えたことをノート4にまとめた。

ノート4 資料10から、ブラジルの大豆の「き」は、2007年から2018年にかけて増え続け、「く」も、この間におよそ2倍に増加していることがわかる。資料11からは、2007年と2018年を比べると、ブラジルにおける大豆の輸出量が「け」し、その大部分が中国へ輸出されていることがわかる。このことから、ブラジルの大豆の生産と、中国への輸出には関係があると考えられる。

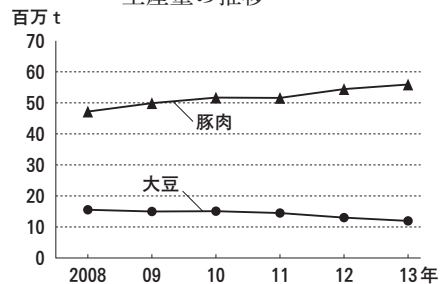
資料10 ブラジルにおける大豆の生産量と収穫面積の推移



資料11 ブラジルにおける大豆の輸出量の推移



資料12 中国における大豆と豚肉の生産量の推移



(資料10~12はFAOSTAT資料より作成)

① ノート4の「き」～「け」に当てはまる語句の組み合わせとして最も適切なものを、資料10, 11をもとに、次のア～エから1つ選び、記号を書きなさい。

- ア 「き」 収穫面積 「く」 生産量 「け」 増加
- イ 「き」 収穫面積 「く」 生産量 「け」 減少
- ウ 「き」 生産量 「く」 収穫面積 「け」 増加
- エ 「き」 生産量 「く」 収穫面積 「け」 減少

② 中国では、輸入した大豆を、おもに豚の飼料として利用している。中国が多くの大豆を輸入する理由の1つとして考えられることを、資料12から読み取れることをもとに、大豆と豚肉の生産量の変化に着目して書きなさい。

(4) 夏さんは、ブラジルの大豆の生産について、ノート5にまとめた。「こ」に当てはまる適切な言葉を、自然環境、経済の2語を使って、10字以上15字以内で書きなさい。

ノート5 ブラジルでは、大規模に大豆の生産が行われ、近年は中国への輸出が多くなっている。一方で、大規模な開発により、熱帯の森林が減少している。「こ」とを両立させる、持続可能な開発が求められている。

【問 3】 各問いに答えなさい。

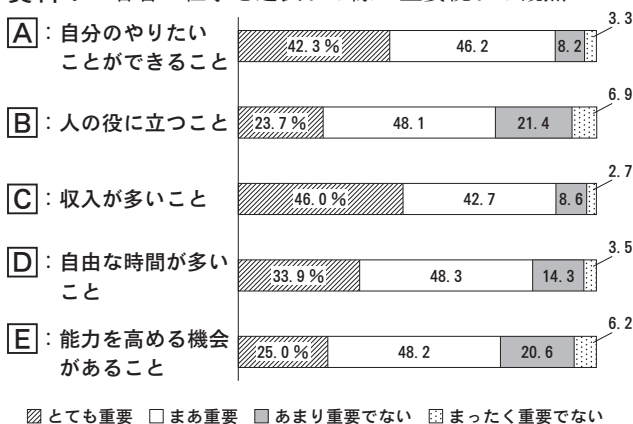
I 誠さんは、職場体験学習の後、友達と次のような会話をした。

会話文 1

誠：職場体験学習を通して、a働くことについて考えるようになったよ。僕は、b大きな企業に就職して、お金をかせぎたいな。
 光：僕は、自分の好きなことを仕事にしたい。音楽が好きだから、音楽に関わる仕事をしたいな。
 春：私は、仕事もしっかりしたいし、趣味などの自分の時間も大切にしたい。国も「c働き方改革」を進めているというニュースを見たよ。
 誠：職場体験学習を通して、d消費者や納税者の立場に立って考えることもできたな。自分の将来も見すえて、「働くこと」について、調べたり考えたりしたいな。

(1) 会話文 1 の下線部 a にかかわって、誠さんは、若い人が仕事を選択する際に重要視することについて、資料 1 をもとに考え、ノート 1 にまとめた。

資料 1 若者が仕事を選択する際に重要視する観点



※16～29歳の男女にインターネットを通して実施されたアンケート各観点について、4つの選択肢から1つを選ぶ形式

※四捨五入の関係で合計値が100%にならない場合がある (H29年度内閣府資料より作成)

ノート 1 僕は、仕事を選択する際には、あを重要視していた。資料 1 の「とても重要」と答えた人の割合を見ると、やはり、その観点の割合が1番高い。しかし、光さんや春さんが話していたように、資料 1 を見ると、仕事を選択する際には、他にも様々な観点があることに気づいた。資料 1 の観点 い は、光さんが話していたこととつながると考えられ、「とても重要」と答えた人の割合は、2番目に高かった。資料 1 の観点 う は、春さんが話していたこととつながると考えられ、「とても重要」と答えた人の割合は、3番目に高かった。

① ノート 1 の あ に当てはまる語句として最も適切なものを、次のア～ウから、ノート 1 の い , う に当てはまる観点として最も適切なものを、次のエ～クから1つずつ選び、記号を書きなさい。

[ア 収入 イ 時間 ウ 能力 エ A オ B カ C キ D ク E]

② 勤労の権利が含まれる権利として最も適切なものを、次のア～エから1つを選び、記号を書きなさい。

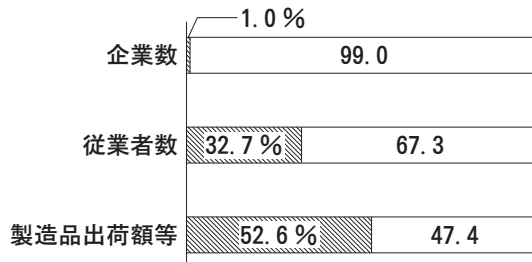
[ア 平等権 イ 社会権 ウ 自由権 エ 参政権]

(2) 会話文 1 の下線部 b について、誠さんは、企業の分類について調べた。

① 資料 2 から読み取れる大企業の特徴を、中小企業と比較し、企業数、製造品出荷額等の2語を使って、簡潔に書きなさい。

② 新たに起業し、新しい技術や独自の経営ノウハウをもとに革新的な事業を展開する企業のことを何企業というか、7字で書きなさい。

資料 2 製造業に占める企業の分類の割合(2019年)



大企業 中小企業

(「日本国勢図会 2022/23」より作成)

- (3) 会話文 1 の下線部 c にかかわって、誠さんは、「働き方改革」に関わる法律があることを知った。そこで、資料 3 を集め、その内容や成立までの過程を、国会の働きとかかわらせて調べた。

資料 3 働き方改革関連法(概要)と審議の行程

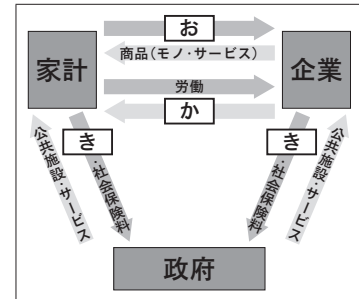
働き方改革関連法(概要) 1 働き方改革の総合的かつ継続的な推進 2 長時間労働の是正、多様で柔軟な働き方の実現等 3 雇用形態にかかわらない公正な待遇の確保	期日	内容
	平成 30 年 4 月 6 日	国会へ法律案提出
	平成 30 年 5 月 31 日	衆議院本会議にて審議終了, 可決
	平成 30 年 6 月 29 日	え 院本会議にて審議終了, 可決
	平成 30 年 7 月 6 日	公布

(厚生労働省資料, 衆議院資料より作成)

- ① 労働時間や休日といった,労働条件の最低限の基準を定めた法律を何というか,漢字 5 字で書きなさい。
② 資料 3 の「働き方改革関連法」のように, 法律を国会で制定できるのは, 日本国憲法で次のように国会の地位が定められているからである。次の条文中の **X** に当てはまる最も適切な語句を, 漢字で書きなさい。

第 41 条 国会は, 国権の最高機関であって, 国の唯一の **X** である。

- ③ 資料 3 の **え** に当てはまる最も適切な語句を, 漢字 2 字で書きなさい。また, 日本の国会で二院制が採られている理由を, 意見, 審議の 2 語を使って, 簡潔に書きなさい。
(4) 会話文 1 の下線部 d にかかわって, 誠さんは, 日本の税金を **図** 政府と家計, 企業の関係



- ① **図** の **お** ~ **き** に当てはまる最も適切な語句を, 次の **ア** ~ **カ** から 1 つずつ選び, 記号を書きなさい。ただし, **お** ~ **き** にはそれぞれ異なる記号が入る。

[**ア** 利子 **イ** 税金 **ウ** 利潤]
[**エ** 賃金 **オ** 資本 **カ** 代金]

- ② 日本の財政について述べた文として適切なものを, 次の **ア** ~ **エ** から 2 つ選び, 記号を書きなさい。

[**ア** 税金には, 所得税や法人税のような直接税と, 消費税や酒税のような間接税がある。
イ 所得税においては, 収入にかかわらず税金の割合を同じにすることで公平性を保っている。
ウ 歳入や歳出を通じて景気の安定を図る政府の役割を財政政策という。
エ 政府は, 財政政策として, 好景気のときに公共事業を増加させ, 民間企業の仕事を増やす。]

- (5) 誠さんは、「働くこと」についてわかったことや考えたことを, **振り返りカード** にまとめた。

振り返りカード 働くうえで大切に考えることや, 働き方は多様であり, 働くことで, より社会とつながることになるのだということがわかった。 **f** 自分が何を大切にしたいのか, 考えながら生活していきたい。

- ① 下線部 e にかかわって, 「仕事と生活の調和」と訳され, 国民一人一人がやりがいや充実感を持ちながら働き, 仕事上の責任を果たすとともに, 家庭や地域生活などにおいても, 人生の各段階に応じて多様な生き方が選択, 実現できることを何というか, カタカナで書きなさい。

- ② 下線部 f にかかわって, 誠さんは資料 4 の **資料 4** 求人広告 2 社の求人広告を集め, 働き先として仮にどちらの企業を選択するか考え, B 社を選択した。誠さんが働き先を選択するうえで重要視したこととして適切なものを, 次の **ア** ~ **エ** から 2 つ選び, 記号を書きなさい。

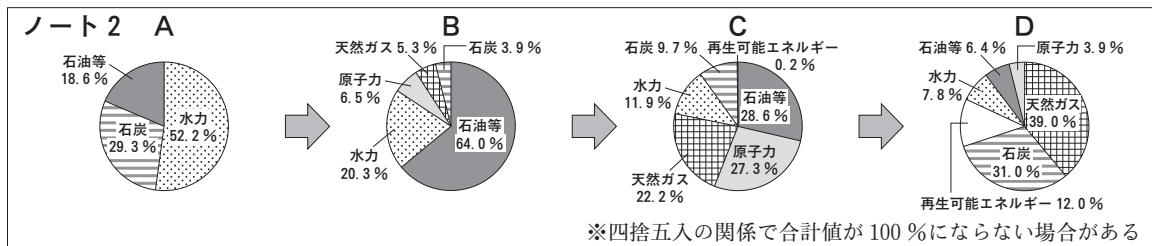
[**ア** 収入がより多い。
イ 勤務時間がより短い。
ウ 自分のやりたい職種を選択できる。
エ より能力を高めることができる。]

A 社	B 社
スタッフ募集	スタッフ募集
内容: ソフト開発 (パソコン使用)	内容: ソフト開発(パソコン使用), 営業から選択
給与: 22 万 4000 円	給与: 21 万 8000 円
時間: 1 日 8 時間	時間: 1 日 8 時間
週休 2 日	週休 2 日
待遇: 社員食堂あり	待遇: 資格取得に向けた研修制度あり

II 誠さんは、日本のエネルギー源(電源)について興味をもち、再生可能エネルギーについて考えた。
会話文 2

誠：g 日本は、いくつかのエネルギー源を組み合わせ、電力を確保しているね。
 光：化石燃料による発電は、二酸化炭素の排出量が多いから、再生可能エネルギーを利用した発電をもっと増やしたらいいと思うな。
 春：ドイツでは、年間を通じて発電に適した風がふき、再生可能エネルギーによる発電のうち、およそ5割が風力で発電されているよ。でも、h 日本とヨーロッパでは、ふく風の特徴が違うから、同じようにはできないね。
 誠：i 日本では、どのような再生可能エネルギーを利用した発電を増やしていくのがいいのかな。

- (1) 会話文 2 の下線部 g にかかわって、誠さんは、日本のエネルギー源の組み合わせについて、年代の古い順に A~D を並べたものをノート 2 にまとめた。東日本大震災による変化は、ノート 2 のどの間に起こったものか、下のア~ウから最も適切なものを1つ選び、記号を書きなさい。



[ア AとBの間 イ BとCの間 ウ CとDの間]

- (2) 会話文 2 の下線部 h にかかわって、日本では、ほぼ半年ごとに北西向きと南東向きに、風向きが大きく変わる風がある。その風を何というか、漢字3字で書きなさい。
- (3) 会話文 2 の下線部 i にかかわって、誠さんは、火山の活動が活発な日本では、地下にある高温の熱水や蒸気を資源として利用する、地熱発電を増やすことがよいのではないかと考えた。地熱発電を増やすことがよいと考えられる理由(理由)と、地熱発電を増やすうえでの課題(課題)について、他の電源と比較して、条件1~3に従って書きなさい。なお、数字の場合は1字1マス使うこと。
- 条件1：資料5, 6から、それぞれ読み取れることにふれて、理由について書くこと。
 条件2：資料5, 6から、それぞれ読み取れることにふれて、課題について書くこと。
 条件3：「地熱発電は、」に続け、理由は、「ため、地熱発電を増やすことがよい。」、課題は、「ため、地熱発電を増やすことには課題がある。」という文末に続くように、それぞれ30字以上50字以内で書くこと。

資料 5 おもな再生可能エネルギーによる発電の特徴(2015年集計)

※小水力は出力1000kW以下の小規模な水力発電, 太陽光は出力1000kW以上の大規模な太陽光発電, 風力は陸上風力をさしている

電源	*1 設備利用率	*2 発電費用	発電設備の設置にかかる期間	発電設備の稼働年数
小水力	60%	23.3円/kWh	3~5年程度	40年
太陽光	14%	24.2円/kWh	1年程度	20年
風力	20%	21.6円/kWh	5~8年程度	20年
地熱	83%	16.9円/kWh	11~13年程度	40年

*1 設備利用率：発電所の設備能力を100%利用できることと仮定したときに得られる電力量に対する実際の発電量の割合で、数値が高いほど、発電所の設備を有効に利用できている

*2 発電費用：新たな発電設備を建設・運転した際のkWhあたりの費用

資料 6 地熱発電の特徴

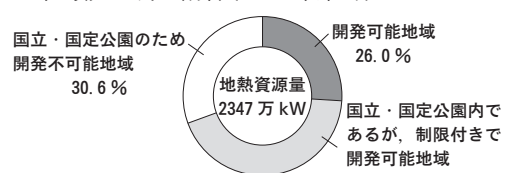
○*1 地熱資源量の世界上位5か国(2021年集計)

	国名	地熱資源量	*2 地熱発電設備容量
1位	アメリカ	3000万kW	372万kW
2位	インドネシア	2779万kW	186万kW
3位	日本	2347万kW	61万kW
4位	ケニア	700万kW	68万kW
5位	フィリピン	600万kW	193万kW

*1 地熱資源量：地熱発電に使える資源量

*2 地熱発電設備容量：既存の地熱発電所で最大限発電したときの電力量

○日本の地熱資源の開発可能地域・不可能地域の割合(2019年集計)



※四捨五入の関係で合計値が100%にならない場合がある

(資料5, 6は資源エネルギー庁公表資料等より作成)

これより先に問題はありません。

下書きなどが必要なときには，自由に使ってかまいません。

